

中国股市操作强化训练第一书

G U S H I C A O L I A N
DAQUAN

本书特色

- 独创性** 开创股市操作强化训练之先河
- 翔实性** 书中所有资料、图例都来源于沪深股市，真实可靠
- 实用性** 书中每一项内容、每一道题都是针对实战需要设计的
- 科学性** 应用现代科学教学方法，让投资者真正掌握股市的操盘技巧，达到学以致用目的



股市操练大全

第一册

K线、技术图形识别与操盘策略专辑

主编 黎航

从股市门外汉到股市操盘高手

从对K线图形一无所知到K线图形分析专家

从不会买、不会卖到善于买进、更善于卖出

这一切都能通过本书系统学习、强化训练而如愿以偿

上海三联书店

股市操练大全

(K 线、技术图形识别和练习专辑)

主 编 黎 航

副主编 陈 忠 王利敏 马炳荣 赵 磊

上海三联书店

股市操练大全

——K 线、技术图形识别和练习专辑

主 编/黎 航

特约编辑/王 真

责任编辑/陈达凯

装帧设计/新世纪工作室

责任制作/朱美娜

责任校对/蒋 申

出 版/上海三联书店

(200233) 中国上海市钦州南路 81 号

发 行/新华书店上海发行所

上海三联书店

制 版/南京理工照排中心

印 刷/昆山市亭林印刷总厂

装 订/昆山市亭林印刷总厂

版 次/1999 年 11 月第 1 版

印 次/2001 年 9 月第 19 次印刷

开 本/850×1168 1/32

字 数/350 千字

印 张/12.75

印 数/197 001—207 000

ISBN 7-5426-1289-1

F·291 定价(精) 29.80 元

图书在版编目(CIP)数据

股市操练大全 (K线、技术图形识别和练习专辑)/主编 黎 航

上海:上海三联书店,1999.10

ISBN 7-5426-1289-1

I.股…

II.黎…

III.证券投资-基本知识

IV.F830.9

中国版本图书馆 CIP 数据核字(1999)第 62455 号

MAG 67/01

内 容 提 要

你知道吗？许多投资者炒股失利，并不是股票书看得太少，也不是股市盘面研究不够，其真正的原因是缺乏一个必要的强化训练过程。这个道理很简单，股市如战场，不经练兵直接上战场，失利也就在预料之中了。针对这一情况，我们组织了有关专家和操盘手，为投资者精心设计、编写了国内第一本股市强化训练习题集。本习题集将股市基本分析、技术分析、心理分析融为一体，并兼有学习、练习的双重用途。作为学习，它强调了在学中练、练中学。每章开头都有股票操作要点知识介绍，以及像 K 线、技术图形一览表等可供读者速学、速查之用，而且本书的练习和参考答案放在一起，读者做练习碰到困难，即可直接把它作为股市技巧知识介绍来阅读。作为练习，它为股市每个操作技巧都设计了单项练习题，每一种操作方式都安排了系统的强化训练方案，每一章结束都附有测验题供读者自我考核检查之用。本书设计的思路、内容、方法具有独创性，书中所举的实例都来源于沪深股市，因而对投资者具有极大的启发性和指导性。

本书资料翔实，语言通俗易懂，方法简便实用，它既可作为新股民学习股市操作技巧的入门向导，又可帮助老股民通过强化训练来提高操盘水平，是一本不可多得的股票操练实用工具书。

在新世纪来临之际，谨以此
书献给全国广大证券投资者。

上海市信息协会金融、证券、保险信息服务专业委员会
新世纪证券丛书编委会

本书特点

• 独创性

开创股市操作强化训练之先河，运用一课一练、综合练习、AB卷测验等方式对投资者进行全方位强化训练。

• 翔实性

资料翔实，信息密集。书中所有资料、图例都来源于沪深股市，真实可靠。书中的案例之多为同类书之最。

• 实用性

书中每一项内容、每一道题都是针对实战需要设计的，它是一本专为广大中小投资者编写的实用性极强的操盘工具书。

• 科学性

应用现代科学教学方法，将系统学习和操盘训练有机结合，通过循序渐进，反复练习，让投资者真正掌握股市的操盘技巧，达到学以致用目的。

上海市信息协会金融、证券、保险信息服务专业委员会
新世纪证券丛书编委会

- 顾问:** 龚浩成 原中国人民银行上海分行行长
- 主任:** 陆国梁 上海市信息中心主任
- 沈重英 上海证券期货监督办公室主任
- 张行端 上海证券报社社长
- 副主任:** 朱 骅 上海市信息协会常务副秘书长
- 李永翠 华夏银行上海分行副行长
- 王益民 国泰君安证券公司监事长
- 缪恒生 申银万国证券公司副总裁
- 李济生 联合证券公司上海总部副总经理
- 委员:** (以姓氏笔画为序)
- 王利敏 上海社科院《证券研究》记者, 证券分析师
- 左安龙 上海有线电视台记者, 财经新闻主持人
- 朱敏华 申银万国证券公司新昌营业部经理
- 许惠芳 上海市信息协会办公室主任
- 吴明德 宝来证券集团上海办事处(筹)首席代表
- 陈 忠 上海交通大学管理学院教授
- 陈国熙 上海宝来企业管理咨询有限公司副总经理
- 陈章亮 上海社会发展预测咨询研究所所长
- 张 军 中国企业报上海记者站站长
- 张 鸣 东方电台卫星金融台总监
- 张振华 上海市蒙太奇文化艺术进修学院院长
- 杨鸿林 上海东大经济技术信息中心总经理
- 周泽洪 上海证券期货监督办公室机构处处长
- 赵小平 上海证券交易所信息中心总监
- 顾文涛 上海开铭信息咨询公司总经理
- 梁观诚 上海银桥投资咨询公司总经理
- 黄文莉 上海证券报编辑、记者
- 黎 航 畅销书作家

《股市操练大全》编写组名单

策 划：黎 航 任 惠

主 编：黎 航

副主编：陈 忠 王利敏 马炳荣 赵 磊

编 委：朱伟仁 张 静 张建中 卢铁男

许东铭 任文辉 张慧炬 汪郁辉

胡泓洁 汪 漪 邵允孝 钱明瑜

海 韵 徐建林 李 峻 李 崧

赵旻晟 杨润泽 赵 斌 潘山鹰

陈正天 吴智芬 李承荣 徐剑峰

前 言

参与股市的人都知道，股市如战场，输赢全在一瞬间。为了把握股市胜机，很多人忙着听股评，参加股市沙龙，钻研股票操作书，可谓乐此不疲。但是，令人遗憾的是，最终效果并不理想。一场股市风暴来临，大多数人仍然免不了被套的结局。那么，是什么原因造成这种状况呢？我们以为，其真正的原因是股民在学习股票操作技巧时缺少了“强化训练”这一环节。

从现代教学理论来说，人们要掌握一门知识和技巧，强化训练是必不可少的。譬如，要掌握开车技术，就先要在练车场接受一套严格的驾驶技术的训练，只有在练车场过关后，才能正式到马路上开车；又如，学生参加高考，事先都要有针对性复习，做大量练习题，并进行反复多次的模拟考试训练，高考才能取得好成绩。但是，奇怪的是，这种在现代教育中屡试不爽的强化训练，一到股市就被人遗忘了，丢弃在一边。谓予不信，请看：有的人买卖股票只凭自己的感觉，有的人买卖股票完全依赖于股评，有的人买卖股票跟着市场消息转，等等。这里面不要说什么强化训练，恐怕连基本的操作原则都没有。虽然也有人买卖股票时，阅读了不少股票操作技巧方面的书，但那也只是理论上的学习，自己并没有做过大量有针对性的练习，因此，也就谈不上接受了股市操作的强化训练。于是乎，作为现代教育中最重要的强化训练，在股市中完全没有了踪影。正因为这个原因，许多人买卖股票时失去了方向，陷入了屡买屡套，屡战屡败的怪圈。可见，缺少股市操作强化训练，对投资者，尤其是对广大中小散户会造成多么严重的伤害。

股市操作强化训练的重要性这里不再多说了。但是如何开展股市操作强化训练呢？首先要有这方面的参考书籍，否则一切就

无从谈起。而迄今为止，图书市场上还没有这样的书出现。别看现在的股票书如汗牛充栋，多得令人目不暇接，如你要想找一本用于股市操练的书，踏破铁鞋无觅处。有鉴于此，我们在上海三联书店的大力支持下，组织有关专家和股市操盘手按照现代教育强化训练的理论，并根据沪深股市实际情况，设计编写了中国股市第一本强化训练习题集。该习题集采用了“先易后难，循序渐进，反复比较，集中做题”的方式，对股民进行强化训练，以此来帮助投资者真正掌握股市操作技巧，达到熟能生巧、运用自如的目的。我们在设计这本股市操作强化训练习题集时，注意到很多投资者是新入市不久的股民，他们对股市操作技巧知之甚少。因此本书编写的格调又有别于类似学生复习迎考习题集那种编写方式，在指导读者做习题的同时，兼顾了股市操作知识的介绍，并把它系统化、条理化。读者如果把书中习题与参考答案连起来阅读，它就成了一本浅近易懂，专事介绍股市操作技巧的科普读物。所以，本书实际上是一本兼有股市知识、技巧学习和股市操作强化训练两方面用途的实用性操盘工具书。

作为用于强化训练类的书，最大特点是：案例多、习题多。本书也不例外。本书的图形就有 600 多幅，它几乎把沪深股市 10 年来有代表性的 K 线走势和技术图形都选了进去；习题 100 多个，概念题、选择题、是非题、简答题、问答题，应有尽有。另外，每幅图例都有专家、名人的精辟分析，每道题都有值得投资者一读的参考答案，内容十分丰富。为了发挥本书的效用，读者在阅读本书时，不能只看不练，而要多做练习。因为只有通过练习，才能发现问题，纠正操作中的错误；只有通过练习，才会驾轻就熟，把股市操作技巧用好用活。在学中练，在练中学，反复比较，反复运用，唯此才能达到股市操作强化训练的预期目的。这点必须引起投资者的高度重视。

本书在选用沪深 K 线图走势时，将个股的名称、价位作了删除（只有极少数图案中的个股名称、价位，因书中内容需要作了保留），这主要是为了避免因投资者对某些股票的偏爱和价位上的错

觉,造成对K线技术图形上的买卖信号作出错误判断,而所作的一种特殊处理。读者对此不要有什么误解。从K线、技术图形操作理论上来说,任何股票都有强弱转化的时候,这里面股质本身是次要的,重要的是我们能不能在技术上找到买卖它们的理由和依据。当K线和技术图形走势告诉我们可以买的时候,无论是绩优股、绩差股,无论高价股、低价股,都要敢于买。反之,则要敢于卖。沪深股市上就有不少投资者因为对绩优股的偏爱,当它们股价高高在上时,仍然不断追涨,对K线、技术图形发出的见顶信号置之不理,结果被深套,损失惨重。这个教训是十分深刻的。因此,我们认为删除图形上的个股名称、价位,对促使投资者养成按图形信号操作的习惯有很大的好处。

本书每一章结束都安排了两套测验题,这些测验题既是对读者掌握K线或技术图形操作技巧熟练程度的检测,也是对本书内容的一个总结。因此,读者必须认真待之。测验题每一小栏都有得分多少说明,并附有参考答案。读者做完测验题后可自行打分。其评分标准和一般考试评分标准相同。60分为及格,80分以上为良好,90分以上为优秀。如第一次测验成绩较差者,说明你对股市操盘技巧还没掌握,参于股市操作的风险就较大。此时,最佳的办法是暂停股市买卖活动,重新学习,反复练习,待第二次测验成绩提高后再积极参于股市运作,这样投资收益就会有很大的提高。

股市操作强化训练是一个新的课题。其中,它的规律是什么,强化训练应该采用哪些方法,训练中会出现哪些问题,等等,都需要认真地进行分析,而在这方面我们还没有进入到深层次的研究阶段,暂时还拿不出一个完整的方案来。现在,为了满足广大投资者的需要,我们只能凭多年来对沪深股市运作情况的观察和对市场的调研,并在汲取现代股市研究的理论成果和他人股市操作经验的基础上,初拟出一套不成熟的方法,供读者参考使用。本书由于编写人员水平限制,书中错误缺点在所难免,祈望专家和读者不吝赐教。

本书在编写过程中,曾参阅、引用了一些图书及报刊的有关资料,因涉及面较广,恕不一一注明出处,谨向被引用资料的编著者深表敬

意和谢忱。此外，本书在编撰中，得到了证券界和社会各方面许多专家、朋友的指导和帮助，在此一并致谢！

上海市信息协会金融、证券、保险信息服务专业委员会
新世纪证券丛书编委会
一九九九年九月

示 例

说明 本书根据实战需要,为读者精心设计了数百道股市操作练习题。买卖股票为什么要做练习题?做练习对投资者有多大帮助?我们不想在这里讲什么大道理,因为练习本身对此已经作了最好的回答。如果你是1999年7月1日前入市的股民,当你做完这道示例题,并将自己的操作方法与之对照,就一定会有很深的感触和体会。

习 题 下面一张图画了大小两个圆圈。请问画圆圈处的K线叫什么名称?它们的特征和技术含义是什么?投资者见此K线图形应如何操作?

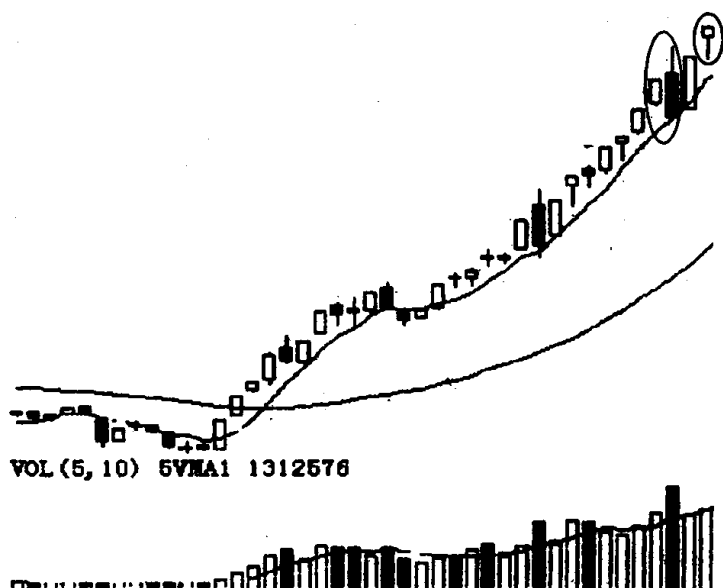


图 1

参考答案 图 1 中画大圆圈处的 K 线组合叫穿头破脚,画小

圆圈处的 K 线叫吊颈线。穿头破脚的特征是：它由一大一小、阴阳相对的两根 K 线组成，后面一根较长的阴线完全包容了前面一根小阳线。吊颈线的特征是：在股价连续上升时，出现一根实体很小，但下影线很长的 K 线（可阴可阳）。穿头破脚和吊颈线都是见顶信号，预示股价近期会出现下跌。从图 1 的 K 线走势上观察，在出现穿头破脚时放出了天量，之后股价虽再次被拉起，收出了一根长阳线，但成交量已有明显的萎缩，说明多方成了强弩之末。先是天量后是天价，形势已朝有利于空头方向发展。之后出现的吊颈线再次对前面的穿头破脚见顶信号作了确认，对多方来说，形势已经变得十分严峻。更使人感到不安的是：穿头破脚和吊颈线都是在股价连续跳空，加速上扬时出现的。这就更增加了市场对下跌的预期。从 K 线理论上分析，在股价上升时，出现快速拉升的走势，这往往是股价上涨走到尽头的一种表现。因此，综合上述分析，我们认为投资者面对这样的盘面形势应做好积极退场的准备。

上海股市1999年6月29日在高位出现一根吊颈线后，第二天股指高开低走，拉出了一根长阴线，它与前面的吊颈线构成了穿头破脚的K线组合。吊颈线、长阴线、穿头破脚都是见顶信号。在这三种见顶信号的合力作用下，1999年7月1日上海股市发生了历史上罕见的大暴跌。

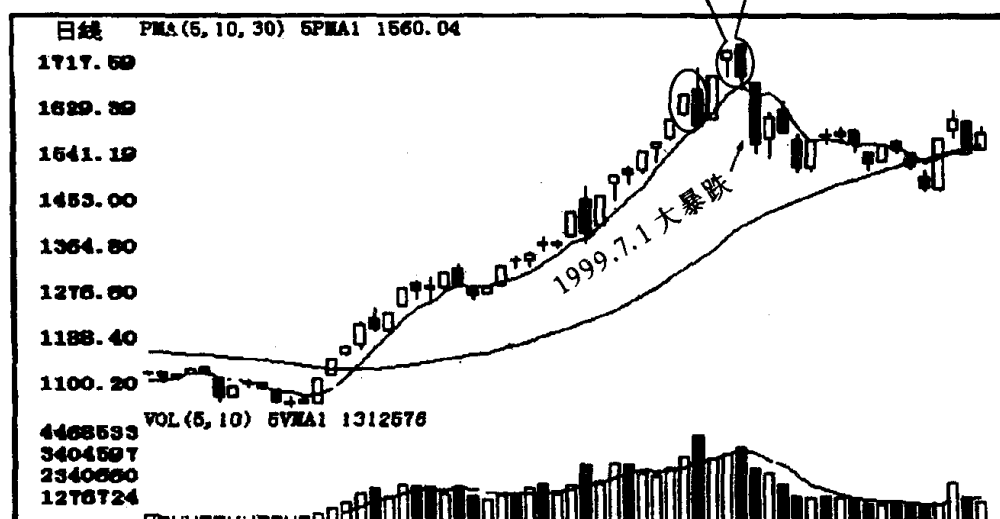


图 2

具体可这样操作：先在第二天开盘之际就要出清一些筹码（至少一半），多余的筹码再看盘面的走势而定。不管第二天是平开、高开、低开，只要股价在盘中不能保持强势，放量上涨，对多方来说都是十分危险的。如平开低走，就会和前面一根吊颈线形成一个平顶走势；如低开低走，就会出现倾盆大雨的严峻局面；如高开低走，很有可能再一次出现穿头破脚的杀跌场面。通常，在高位出现的平顶、倾盆大雨、穿头破脚都是股价暴跌的信号。因而投资者如看到第二天盘面走势转弱，就要毫不犹豫地抛空离场^{〔注〕}。

〔注〕 图1这张K线图是上海股市1999年5月4日~1999年6月29日的日K线走势图。在这之后的两天上海股市就发生了暴跌（见图2）。1999年7月1日暴跌的当日，竟有70%以上的股票跌停，实为历史所罕见。而那些运用K线理论对盘面形势作出准确分析，并及时进行离场操作的投资者都躲过了这场暴跌，成了大赢家。

另外，本例题提及的平顶、倾盆大雨等这些K线组合的特征和技术含义，这里就不再展开了。欲知详情请阅读本书K线的识别和练习中的有关章节。

目 录

第一章 K 线的识别与练习	1
第一节 K 线概述	1
第二节 K 线一览表	4
第三节 大阳线与大阴线的识别和运用	20
第四节 锤头线与吊颈线的识别和运用	27
第五节 倒锤头线与射击之星的识别和运用	31
第六节 T 字线、上档倒 T 字线与一字线的识别和运用	35
第七节 长十字线与螺旋桨的识别和运用	46
第八节 曙光初现与乌云盖顶的识别和运用	51
第九节 旭日东升与倾盆大雨的识别和运用	55
第十节 早晨十字星与黄昏十字星的识别和运用	59
第十一节 早晨之星与黄昏之星的识别和运用	62
第十二节 身怀六甲与穿头破脚的识别和运用	67
第十三节 平底与平顶的识别和运用	72
第十四节 圆底与圆顶的识别和运用	78
第十五节 塔形底与塔形顶的识别和运用	81
第十六节 红三兵与黑三兵的识别和运用	84
第十七节 三个白色武士、升势停顿与升势受阻的识别和运用	87
第十八节 冉冉上升形与绵绵阴跌形的识别和运用	91
第十九节 徐缓上升形与徐缓下降形的识别和运用	94
第二十节 上升抵抗形与下降抵抗形的识别和运用	97
第二十一节 稳步上涨形与下跌不止形的识别和运用	100
第二十二节 高位并排阳线与低位并排阳线的识别和运用	104
第二十三节 上档盘旋形与低档盘旋形的识别和运用	107
第二十四节 上升三部曲与下降三部曲的识别和运用	111
第二十五节 两红夹一黑与两黑夹一红的识别和运用	114
第二十六节 多方尖兵与空方尖兵的识别和运用	118

第二十七节	好友反攻与淡友反攻的识别和运用	120
第二十八节	上涨二颗星与下跌三颗星的识别和运用	123
第二十九节	连续跳空三阳线与连续跳空三阴线的识别 和运用	126
第三十节	跳空上扬形与下档五阳线的识别和运用	129
第三十一节	高开逃形与下探上涨形的识别和运用	132
第三十二节	双飞乌鸦、三只乌鸦与下跌三连阴的识别和 运用	135
第三十三节	下降覆盖线、阳线跛脚形与倒三阳的识别和 运用	140
第三十四节	加速度线与弧形线的识别和运用	144
第三十五节	镊子线、尽头线与搓揉线的识别和运用	150
综合练习一——K 线概念的辨析		157
综合练习二——K 线图形的辨认		163
综合练习三——K 线图形的运用		174
K 线图形的识别和运用测验一		179
K 线图形的识别和运用测验一参考答案		191
K 线图形的识别和运用测验二		201
K 线图形的识别和运用测验二参考答案		213
K 线的识别与练习小结		221

第二章 技术图形的识别与练习	224
第一节 技术图形概述	224
第二节 技术图形一览表	226
第三节 头肩底与头肩顶的识别和运用	236
第四节 双底与双顶的识别和运用	241
第五节 圆底与圆顶的识别和运用	246
第六节 上升三角形与下降三角形的识别和运用	249
第七节 底部三角形、扩散三角形与收敛三角形的识别和 运用	254
第八节 上升楔形与下降楔形的识别和运用	261
第九节 上升旗形与下降旗形的识别和运用	266

第十节 V 形与倒置 V 形的识别和运用	271
第十一节 向上跳空缺口与向下跳空缺口的识别和运用	274
第十二节 底部岛形反转与顶部岛形反转的识别和运用	279
第十三节 矩形与潜伏底的识别和运用	282
综合练习一——技术图形概念的辨析	288
综合练习二——转势形态图形的辨认	297
综合练习三——整理形态图形的辨认	311
综合练习四——技术图形的运用	324
技术图形的识别和运用测验一	331
技术图形的识别和运用测验一参考答案	345
技术图形的识别和运用测验二	354
技术图形的识别和运用测验二参考答案	370
技术图形识别与练习小结	382
附录：《股市操练大全》读者信息反馈表	385

第一章 K 线的识别与练习

在股市实战和操盘技巧中,K 线分析无疑是最重要的一环。从 K 线图中,投资者可以捕捉到买卖双方力量对比的变化。根据 K 线图,可以分析预测股价的未来走势,把握买进卖出的最佳时机。经过海内外投资者长时期的研究,K 线理论已成为一种具有完整形式和相当扎实理论基础的股票分析技术。K 线的种类很多,也较复杂,一般的股市技术分析书籍对此论述不多,又较抽象,股民很难识得其“庐山真面目”,更不用说如何熟练掌握运用了。本章 K 线练习摒弃了以往股票书中先概念后例子的 K 线介绍方法。而是让读者直接面对 K 线走势图进行辨别,然后以参考答案的形式,对各种 K 线的特征和作用作深入浅出的阐述。这样通过反复的比较和练习,势必比泛泛而谈 K 线知识印象要深刻得多。本章 K 线识别与练习包括了常用的和比较常用的 K 线图形 70 余种,并归纳了各种 K 线图形的特征和技术含义,将其列成一一览表,供读者学习和做练习时核对、速查之用。如对 K 线知识已有一定了解,可先不看此表,直接做练习效果会更好些。我们相信,读者只要认真地做好练习,一定会大有所获,一定会使自己的 K 线分析水平和操盘水平上一个新台阶,并能在实践中加以正确运用,从而为在股市中争取主动,把握胜机,打下扎实的基础。

第一节 K 线概述

K 线是谁发明的已无从考证。人们只知道它是日本古代的大米市场计算米价每日涨跌所使用的图示方法,后经人引用到股票市场,效果明显,就逐渐在世界股市中流行起来。现在它已成为世界上最权威、最古老、最通用的技术分析工具。

K 线又称阴阳线或阴阳烛。它能将每一个交易期间的开盘与收盘的涨跌以实体的阴阳线表示出来,并将交易中曾出现的最高价及最低价以上影线和下影线形式直观地反映出来(见图 3),从而使人们对变化多端的股市行情有一种一目了然的直接感受。K 线最大的优点是简单易懂而且运用起来十分灵活,最大的特点在于忽略了股价在变动过程中的各种纷繁复杂的因素,而将其基本特征展现在人们面前。

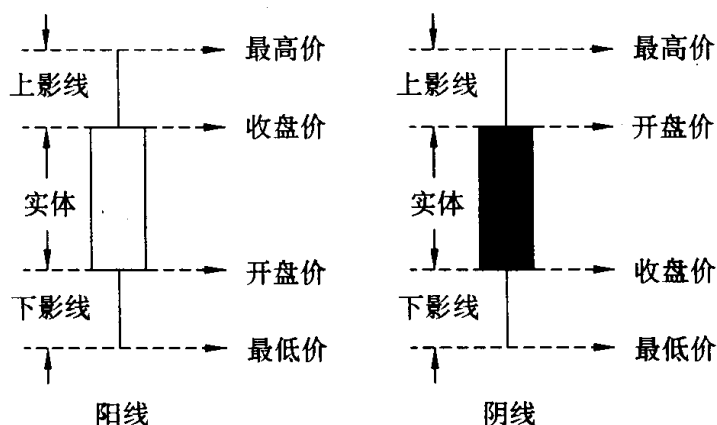


图 3

K 线从形态上分可分为阳线、阴线和同价线 3 种类型。阳线是指收盘价高于开盘价的 K 线,阳线按其实体大小可分为大阳线、中阳线和小阳线(见图 4,下同)。阴线是指收盘价低于开盘价的 K 线,阴线按其实体大小也可分为大阴线、中阴线和小阴线。同价线是指收盘价等于开盘价,两者处于同一个价位的一种特殊形式的 K 线,同价线常以“十”字形和“T”字形表现出来,故又称十字线、T 字线。同价线按上、下影线的长短、有无,又可分为长十字线、十字线和 T 字线、倒 T 字线、一字线等(见图 4)。

K 线从时间上分,可分为日 K 线、周 K 线、月 K 线、年 K 线,以及将一日内交易时间分成若干等分,如 5 分钟 K 线、15 分钟 K 线、30 分钟 K 线、60 分钟 K 线等。这些 K 线都有不同的作用。例如,日 K 线(即我们经常在证券报刊杂志上看到的一种 K 线),它反映的是股价短期走势。周 K 线、月 K 线、年 K 线反映的是股价中长

期走势。5分钟K线、15分钟K线、30分钟K线、60分钟K线反映的是股价超短期走势。至于周K线、月K线、年K线,以及5分钟K线、15分钟K线、30分钟K线、60分钟K线的绘制方法,都和日K线绘制方法相同,即取某一时段的开盘价、收盘价、最高价、最低价进行绘制。例如周K线,只要找到周一的开盘价、周五的收盘价,一周中的最高价和最低价,就能把它绘制出来。现在电脑股市软件已很普及,无论绘制什么样的K线都很方便,这已不需要人工绘制。但作为股市中人,对绘制K线的原理和方法是必须懂得的,这对研判股市走势,买卖股票都很有好处。这正如计算器已能很方便地代替人工计算,但作为一个现代人必须懂得一般的数字计算原理、方法的道理是一样的。




图4

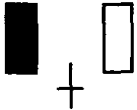


K线所包含的信息是极为丰富的。就以单根K线而言,一般上影线和阴线的实体表示股价的下压力量,下影线和阳线的实体则表示股价的上升力量;上影线和阴线实体比较长就说明股价的下跌动量比较大,下影线和阳线实体较长则说明股价的扬升动力比较强。如果将多根K线按不同规则组合在一起,又会形成不同的K线组合。这样的K线形态所包含的信息就更丰富。例如,在涨势中出现乌云盖顶K线组合说明可能升势已尽,投资者应尽早离场;在跌势中出现曙光初现K线组合,说明股价可能见底回升,投资者应不失时机地逢低建仓。可见,各种K线形态正以它所包含的信息,不断地向人们发出买进和卖出的信号,为投资者看清大势,正确的买卖股票提供了很大的帮助,从而使它成为投资者手中

极为实用的操盘工具。

第二节 K 线一览表



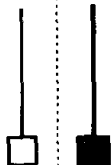
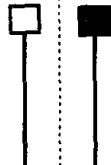
本表中所列的 K 线、K 线组合共 75 种,分成三大类。第一类为上升形态和见底形态,即当这种 K 线或 K 线组合出现,或是表示股价要上涨,或是表示股价已经见底^[注]。第二类为下跌形态和滞涨形态,即当这种 K 线或 K 线组合出现,或是表示股价要下跌,或是表示股价上涨已经遇到强大阻力,短期内走势会转弱。第三类既是上升形态,又是下跌形态,即这种 K 线、K 线组合在某种场合出现,它表示股价要上涨,而在另一种场合出现,则表示股价要下跌。

一、上升形态和见底形态的 K 线、K 线组合

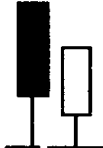


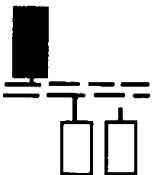
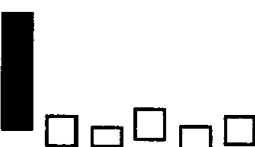
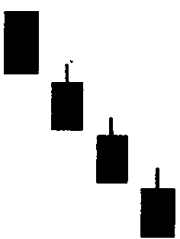
序号	名称	图形	特征	技术含义	备注
1	早晨十字星,又称希望十字星		(1) 出现在下跌途中; (2) 由 3 根 K 线组成,第一根是阴线,第二根是十字线,第三根是阳线。第三根 K 线实体深入到第一根 K 线实体之内	见底信号,后市看涨	
2	早晨之星,又称希望之星		和早晨十字星相似,区别在于早晨十字星的第二根 K 线是十字线,而早晨之星的第二根 K 线是小阴线或小阳线	见底信号,后市看涨	信号不如早晨十字星强
3	好友反攻		(1) 出现在下跌行情中; (2) 由一阴一阳 2 根 K 线组成; (3) 先是一根大阴线,接着跳低开盘,结果收了一根中阳线或大阳线,并且收在前一根 K 线收盘价相同或相近的位置上	见底信号,后市看涨	转势信号不如曙光初现强

【注】 见底不一定上涨,它只说明股价跌不下去了。股价有可能经过一段时间筑底后才能回升。

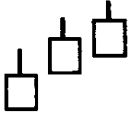
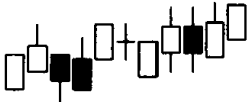
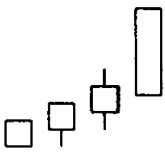
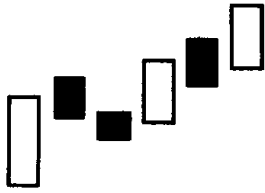
续上表

序号	名称	图形	特征	技术含义	备注
4	曙光初现		(1) 出现在下跌趋势中； (2) 由一阴一阳 2 根 K 线组成； (3) 先是出现一根大阴线或中阴线，接着出现一根大阳线或中阳线。阳线的实体深入到阴线实体的二分之一以上处	见底信号，后市看涨	阳线实体深入阴线实体的部分越多，转势信号越强
5	旭日东升		(1) 出现在下跌趋势中； (2) 由一阴一阳 2 根 K 线组成； (3) 先是一根大阴线或中阴线，接着出现一根高开的大阳线或中阳线，阳线的收盘价已高于前一根阴线的开盘价	见底信号，后市看涨	(1) 见底信号，强于曙光初现； (2) 阳线实体高出阴线实体部分越多，转势信号越强
6	倒锤头线		(1) 出现在下跌途中； (2) 阳线(亦可以是阴线)实体很小，上影线大于或等于实体的两倍； (3) 一般无下影线，少数会略有一点下影线	见底信号，后市看涨	实体与上影线比例越悬殊，信号越有参考价值。如倒锤头与早晨之星同时出现，见底信号就更加可靠
7	锤头线		(1) 出现在下跌途中； (2) 阳线(亦可以是阴线)实体很小，下影线大于或等于实体的两倍； (3) 一般无上影线，少数会略有一点上影线	见底信号，后市看涨	锤头实体与下影线比例越悬殊，越有参考价值。如锤头与早晨之星同时出现，见底信号就更加可靠

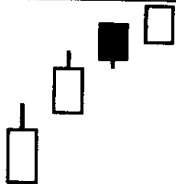
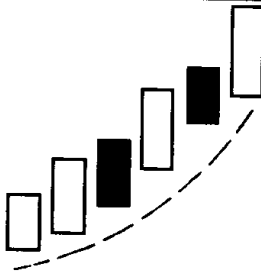
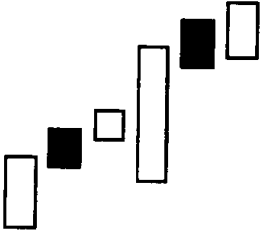
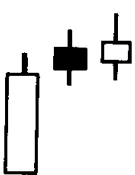
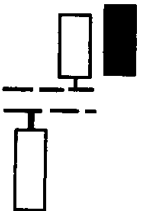
续上表

序号	名称	图形	特征	技术含义	备注
8	平底, 又称钳子底		(1) 在下跌趋势中出现; (2) 由 2 根或 2 根以上的 K 线组成; (3) 最低价处在同一水平位置上	见底信号, 后市看涨	
9	塔形底		(1) 出现在下跌趋势中; (2) 先是一根大阴线或中阴线, 后为一连串的小阴小阳线, 最后出现一根大阳线或中阳线	见底信号, 后市看涨	
10	圆底		(1) 在跌势中出现; (2) 股价形成一个圆弧底; (3) 圆弧内的 K 线多为小阴小阳线, 最后以向上跳空缺口来确认圆底形态成立	见底信号, 后市看涨	与技术图形的圆底有一定区别, 技术图形的圆底的特征可见本书第 227 页
11	低位并排阳线		(1) 出现在下跌趋势中; (2) 由 2 根阳线组成; (3) 第一根阳线跳空低开, 其收盘时在前一根 K 线下方留下一个缺口, 后面一根阳线与第一根阳线并肩而立	见底信号, 后市看涨	
12	低档五阳线		(1) 出现在下跌行情中; (2) 连续拉出 5 根阳线, 多为小阳线	见底信号, 后市看涨	低档五阳线不一定是 5 根阳线, 有时也可能是 6 根、7 根阳线
13	连续跳空三阴线		(1) 出现在下跌趋势中; (2) 连续出现 3 根向下跳空低开的阴线	见底信号, 后市看涨	如在股价已有大幅下挫的情况下出现, 见底可能性更大

续上表

序号	名称	图形	特征	技术含义	备注
14	红三兵		(1) 出现在上涨行情初期; (2) 由 3 根连续创新高的小阳线组成	买进信号, 后市看涨	当 3 根小阳线收于最高或接近最高点时, 称为 3 个白色武士, 3 个白色武士拉升股价的作用要强于普通的红三兵, 投资者应引起足够重视
15	冉冉上升形		(1) 在盘整后期出现; (2) 由若干根小 K 线组成 (一般不少于 8 根), 其中以小阳线居多, 中间也可夹着小阴线、十字线; (3) 整个 K 线排列呈略微向上倾斜状	买进信号, 后市看涨	该 K 线组合犹如冉冉升起的旭日, 升幅虽不大, 但它往往是股价大涨的前兆, 如成交量能同步放大, 这种可能性就很大
16	徐缓上升形		(1) 多数出现在涨势初期; (2) 先接连出现几根小阳线, 然后才拉出中大阳线	买进信号, 后市看涨	
17	稳步上涨形		(1) 出现在上涨行情中; (2) 众多阳线中夹着较少的小阴线。整个 K 线排列呈向上倾斜状	买进信号, 后市看涨	后面的阳线对插入的阴线覆盖的速度越快越有力, 上升的潜力就越大

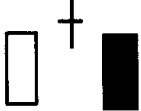





续上表

序号	名称	图形	特征	技术含义	备注
18	上升抵抗形		(1) 在上涨途中出现； (2) 由若干根 K 线组成； (3) 连续跳高开盘，即使中间收出阴线，但收盘价也要比前一根 K 线的收盘价高	买进信号，后市看涨	
19	弧形线		(1) 在涨势初期出现； (2) 由若干根 K 线组成； (3) 股价走势是一个向上的抛物线	买进信号，后市看涨	一旦弧形线为市场认可，上涨周期就很长
20	下探上涨形		在上涨途中，突然跳低开盘（甚至以跌停板开盘），当日以涨势收盘收出一根大阳线（甚至以涨停板收盘）	买进信号，后市看涨	多数为控盘庄家利用消息洗盘，一般后市将有一段较大升势
21	上涨三颗星		(1) 在涨势初期、中期内出现； (2) 由一大二小 3 根 K 线组成； (3) 在上涨时，先出现一根大阳线或中阳线，随后就在这根阳线的上方出现 2 根小 K 线（既可以是小十字线，也可以是实体很小的阳线、阴线）	继续看涨	少数情况下会在在一根大阳线上方出现 3 根小 K 线，这时，就称为上涨三颗星。上涨三颗星技术含义与上涨二颗星相同
22	跳空上扬形，又称升势鹤鸭缺口		(1) 出现在涨势中； (2) 由 2 根一阳一阴的 K 线组成； (3) 先是拉出一根跳空上扬的阳线，留下一个缺口，第二天又出现一根低收的阴线，但它收在前一根阳线缺口上方附近	继续看涨	

续上表

序号	名称	图形	特征	技术含义	备注
23	高位并排阳线, 又称恋人肩并肩缺口		(1) 出现在涨势中; (2) 由 2 根阳线组成; (3) 第一根阳线跳空向上, 其收盘时在前一根 K 线上方留下一个缺口。第二根阳线与之并排, 开盘价与第一根阳线的开盘价基本相同	继续看涨	这个向上跳空的缺口对日后股价走势有较强的支撑作用, 但如发现日后股价跌破这个缺口, 股价走势就会转弱
24	跳空下跌三颗星		(1) 出现在连续下跌途中; (2) 由 3 根小阴线组成; (3) 3 根小阴线与上面一根 K 线有一个明显的空白区域, 也即通常说的缺口	见底信号	如果在 3 根小阴线后出现一根大阳线, 上涨的可能性就更大
25	上升三部曲, 又称升势三鸦		(1) 出现在上涨途中; (2) 由大小不等的 5 根 K 线组成; (3) 先拉出一根大阳线或中阳线, 接着连续出现 3 根小阴线, 但都没有跌破前面阳线的开盘价, 随后出现了一根大阳线或中阳线, 其走势有点类似英文字母“N”	继续看涨	
26	多方尖兵		(1) 出现在上涨行情中; (2) 由若干根 K 线组成; (3) 在拉出一根中阳线或大阳线时, 留下了一根较长的上影线, 然后股价回落, 但不久股价又涨至上影线的上方	继续看涨	走势图上出现这种 K 线形态, 实际上是多方主力发动全面进攻前的一次试盘
27	两红夹一黑		(1) 既可出现在涨势中, 也可出现在跌势中; (2) 由 2 根较长的阳线和一根较短的阴线组成, 阴线夹在阳线之中	在涨势中出现, 继续看涨; 在跌势中出现, 是见底信号	

二、下跌形态和滞涨形态的 K 线、K 线组合

序号	名称	图形	特征	技术含义	备注
28	黄昏十字星		(1) 出现在涨势中； (2) 由 3 根 K 线组成，第一根为阳线，第二根为十字线，第三根为阴线。第三根 K 线实体深入到第一根 K 线实体之内	见顶信号，后市看跌	
29	黄昏之星		和黄昏十字星相似，区别在于黄昏十字星第二根 K 线是十字线，而黄昏之星第二根 K 线是小阴线或小阳线	见顶信号，后市看跌	信号不如黄昏十字星强
30	淡友反攻		(1) 出现在涨势中； (2) 由一阳一阴 2 根 K 线组成； (3) 先是出现一根大阳线接着跳高开盘，结果拉出一根中阴线或大阴线，收在前一根 K 线收盘价相同或相近的位置上	见顶信号，后市看跌	转势信号不如乌云盖顶强
31	乌云盖顶		(1) 出现在涨势中； (2) 由一根中阳线或大阳线和一根中阴线或大阴线组成； (3) 阴线已深入到阳线实体二分之一以下处	见顶信号，后市看跌	阴线深入阳线实体部分越多，转势信号越强
32	倾盆大雨		(1) 出现在上涨趋势中； (2) 由一阳一阴 2 根 K 线组成； (3) 先是一根大阳线或中阳线，接着出现一根低开的大阴线或中阴线，阴线的收盘价已低于前一根阳线的开盘价	见顶信号，后市看跌	(1) 见顶信号强于乌云盖顶； (2) 阴线实体低于阳线实体部分越多，转势信号越强
33	射击之星，又称流星、扫帚星		(1) 出现在上涨趋势中； (2) 阳线(亦可以是阴线)实体很小，上影线大于或等于实体的两倍； (3) 一般无下影线，少数会略有一点下影线	见顶信号，后市看跌	实体与上影线比例越悬殊，信号越有参考价值。如射击之星与黄昏之星同时出现，见顶信号就更加可靠

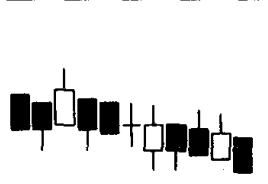

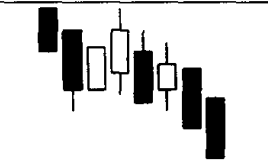
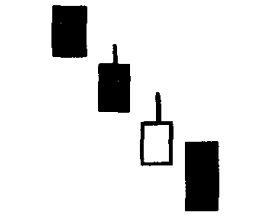

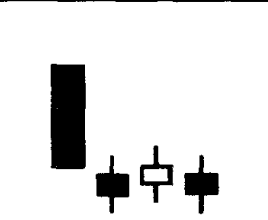
续上表

序号	名称	图形	特征	技术含义	备注
34	吊颈线, 又称绞刑线		(1) 出现在涨势中; (2) 阳线(亦可以是阴线)实体很小, 下影线大于或等于实体的两倍; (3) 一般无上影线, 少数略有一点上影线	见顶信号, 后市看跌	实体与下影线比例越悬殊, 越有参考价值。如吊颈线与黄昏之星同时出现, 见顶信号就更加可靠
35	平顶, 又称钳子顶		(1) 在上涨趋势中出现; (2) 由 2 根或 2 根以上的 K 线组成; (3) 最高价处在同一水平位置上	见顶信号, 后市看跌	
36	塔形顶		(1) 出现在上涨趋势中; (2) 先是一根大阳线或中阳线, 后为一连串的小阳小阴线, 最后出现一根大阴线或中阴线	见顶信号, 后市看跌	
37	圆顶		(1) 在上涨趋势中出现; (2) 股价形成一个圆弧顶; (3) 圆弧内的 K 线多为小阳小阴线, 最后以向下跳空缺口来确认圆顶形态成立	见顶信号, 后市看跌	与技术图形的圆顶有一定区别, 技术图形的圆顶的特征可见本书第 230 页
38	双飞乌鸦		(1) 出现在涨势中; (2) 由 2 根一大一小阴线组成; (3) 第一根阴线的收盘价高于前一根阳线的收盘价, 且第二根阴线完全包容了第一根阴线	见顶信号, 后市看跌	
39	三只乌鸦, 又称暴跌三杰		(1) 出现在涨势中; (2) 由 3 根阴线组成, 阴线多为大阴线或中阴线; (3) 每次均以跳高开盘, 最后以下跌收盘	见顶信号, 后市看跌	

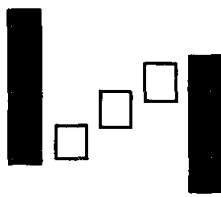
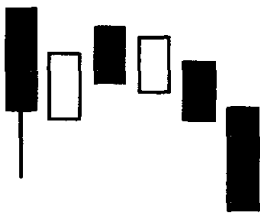
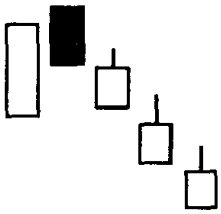
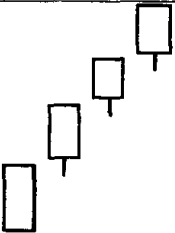
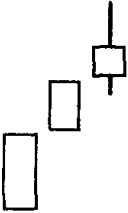
续上表

序号	名称	图形	特征	技术含义	备注
40	高档五阴线		(1) 出现在涨势中; (2) 由 5 根阴线组成, 但多为小阴线; (3) 先是拉出一根较有力度的阳线, 接着连续出现 5 根并排阴线	见顶信号, 后市看跌	高档五阴线不一定是 5 根阴线, 有时也可能是 6 根、7 根阴线
41	下降覆盖线		(1) 在上涨行情中出现; (2) 由 4 根 K 线组成。前 2 根 K 线构成一个穿头破脚形态, 第三根 K 线是一根中阳线或小阳线, 但阳线的实体通常比前一根阴线要短, 之后又出现一根中阴线或小阴线, 阴线实体已深入到前一根阳线实体之中	见顶信号, 后市看跌	见顶信号要强于穿头破脚
42	低档盘旋形		(1) 出现在下跌途中; (2) 由若干根小阴小阳线组成; (3) 先是小阴小阳线的横盘, 后来出现一根跳空向下的阴线	卖出信号, 后市看跌	
43	黑三兵		(1) 既可在涨势中出现, 也可在跌势中出现; (2) 由 3 根小阴线组成, 最低价一根比一根低	卖出信号, 后市看跌	
44	绵绵阴跌形		(1) 在盘整后期出现; (2) 由若干根小 K 线组成 (一般不少于 8 根), 其中以小阴线居多, 中间也可夹着一些小阳线、十字线; (3) 整个 K 线排列呈略微向下倾斜状	卖出信号, 后市看跌	绵绵阴跌, 跌幅不大, 但犹如黄梅天的阴雨下个不停, 从而延长了下跌的时间和拓展了下跌的空间, 股价很可能就

续上表

序号	名称	图形	特征	技术含义	备注
44	绵绵阴跌形				此长期走弱了。因对绵绵阴跌走势的个股,应及早作出停损离场的决断
45	徐缓下跌形		(1) 多数出现在跌势初期; (2) 先接连出现几根小阴线,然后拉出中大阴线	卖出信号,后市看跌	
46	下跌不止形		(1) 出现在下跌途中; (2) 众多阴线中夹着较少的小阳线。整个 K 线排列呈向下倾斜状	卖出信号,后市看跌	
47	下降抵抗形		(1) 出现在下跌途中; (2) 由若干根阴线和阳线组成,但阴线大大多于阳线; (3) 连续跳低开盘,即使中间收出阳线,但收盘价也要比前一根 K 线的收盘价低	卖出信号,后市看跌	
48	高开出逃形		突然跳高开盘(甚至以涨停板开盘),然后一路下跌,最后收出一根大阴线(甚至以跌停板收盘)	卖出信号,后市看跌	多数为被套庄家利用朦胧消息拉高出货所致,一般后市将有一段较大跌势
49	下跌三颗星		(1) 在下跌行情初期、中期出现; (2) 由一大三小 4 根 K 线组成; (3) 在下跌时,先出现一根大阴线或中阴线,随后就在这根阴线的下方出现了 3 根小 K 线(既可以是小十字线,也可以是实体很小的阳线、阴线)	卖出信号,后市看跌	在下跌途中出现下跌三颗星,表明市场买卖意愿不强,市场将以盘跌为主

续上表

序号	名称	图形	特征	技术含义	备注
50	下降三部曲, 又称降势三鹤		(1) 出现在下降趋势中; (2) 由 5 根大小不等的 K 线组成; (3) 先出现一根大阴线或中阴线, 接着出现 3 根向上爬升的小阳线, 但这 3 根小阳线都没有冲破第一根阳线开盘价, 最后一根大阴线或中阴线又一下子全部或大部分吞吃了前面 3 根小阳线。	卖出信号, 后市看跌	
51	空方尖兵		(1) 出现在下跌行情中; (2) 由若干根 K 线组成; (3) 在拉出一根中阴线或大阴线时, 留下了一根较长的下影线, 然后股价反弹, 但不久股价又跌至下影线下方	卖出信号, 后市看跌	走势图上出现这种 K 线形态, 实际上是空方主力向多方进行全面扫荡前的一次试盘
52	倒三阳		(1) 出现在下跌初期; (2) 由 3 根阳线组成; (3) 每日都是低开高走, 第一根 K 线以跌势收盘, 后 2 根 K 线的收盘价低于或接近前一天的阳线开盘价, 因此虽然连收 3 根阳线, 但图形上却出现了类似连续 3 根阴线的跌势	卖出信号, 后市看跌	此种情况多数发生在庄家股上, 出现这种 K 线图下跌概率极大, 投资者要趁早果断斩仓离场
53	连续跳空三阳线		(1) 出现在上涨行情中; (2) 连续出现 3 根向上跳空高开的阳线	滞涨信号, 后市看淡	
54	升势受阻		(1) 出现在涨势中; (2) 由 3 根阳线组成; (3) 3 根阳线实体越来越小, 最后一根阳线的上影线很长	滞涨信号, 后市看淡	

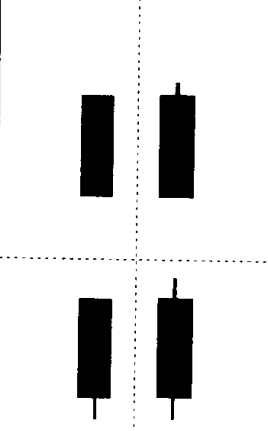
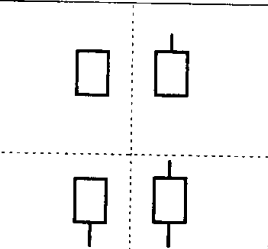
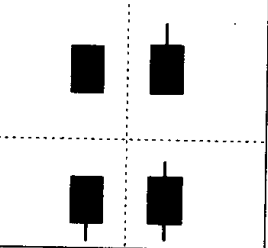
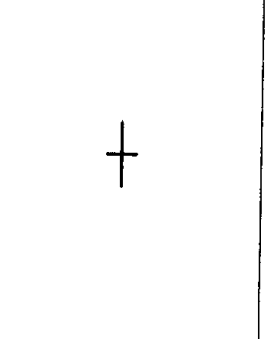
续上表

序号	名称	图形	特征	技术含义	备注
55	升势停顿		(1) 出现在涨势中; (2) 由 3 根阳线组成; (3) 上升时先拉出 2 根大阳线或中阳线, 第三根阳线实体很小, 反映升势可能停顿	滞涨信号, 后市看淡	
56	阳线跛脚形		(1) 出现在涨势中; (2) 由 3 根以上(含 3 根)的阳线组成; (3) 最后 2 根阳线都是低开, 且最后一根阳线收盘价比前面阳线收盘价要低	滞涨信号, 后市看淡	
57	两黑夹一红		(1) 既可出现在涨势中, 也可出现在跌势中; (2) 由 2 根较长的阴线和一根较短的阳线组成。阳线夹在阴线之中	在涨势中出现, 是见顶信号; 在跌势中出现, 继续看跌	


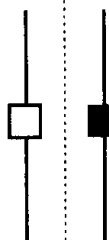

三、既是上升形态、又是下跌形态的 K 线、K 线组合

序号	名称	图形	特征	技术含义	备注
58	大阳线		(1) 可出现在任何情况下; (2) 阳线实体较长, 可略带上、下影线	在上涨刚开始时, 出现大阳线后市看涨; 在上涨途中出现大阳线, 继续看涨; 在连续加速上涨行情中出现大阳线, 是见顶信号。在连续下跌的行情中出现大阳线, 有见底回升的意义	阳线实体越长, 信号越可靠



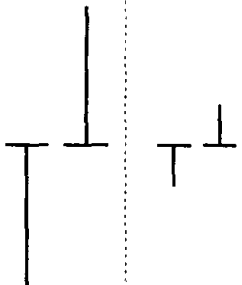
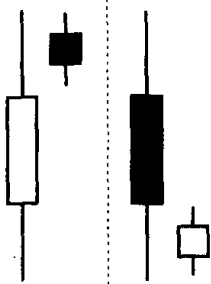
续上表

序号	名称	图 形	特 征	技术含义	备 注
59	大阴线		<p>(1) 可出现在任何情况下；</p> <p>(2) 阴线实体较长，可略带上、下影线</p>	<p>在涨势中出现大阴线，是见顶信号；在下跌刚开始时，出现大阴线，后市看跌；在下跌途中出现大阴线，继续看跌；在连续加速下跌行情中出现大阴线，有空头陷阱之嫌疑</p>	
60	小阳线		<p>(1) 在盘整行情中出现较多，也可在上涨和下跌行情中出现；</p> <p>(2) K线实体很小，可略带上、下影线</p>	<p>说明行情不明朗，多空双方小心接触，但多方略占上风</p>	<p>单根小阳线研判意义不大，应结合其他K线形态一起研判</p>
61	小阴线		<p>(1) 在盘整行情中出现较多，也可在下跌和上涨行情中出现；</p> <p>(2) K线实体很小，可略带上、下影线</p>	<p>说明行情不明朗，多空双方小心接触，但空方略占上风</p>	<p>单根小阴线研判意义不大，应结合其他K线形态一起研判</p>
62	十字线		<p>(1) 既可出现在涨势中，也可出现在跌势中；</p> <p>(2) 开盘价、收盘价相同，成为“一”字，但上、下影线较短</p>	<p>在上涨趋势末端出现，是见顶信号；在下跌趋势末端出现，是见底信号。在上涨途中出现，继续看涨；在下跌途中出现，继续看跌</p>	<p>信号可靠性不强。应结合其他K线一起研判</p>

续上表

序号	名称	图形	特征	技术含义	备注
63	长十字线		(1) 既可出现在涨势中, 也可出现在跌势中; (2) 开盘价、收盘价相同, 成为“一”字, 但最高价与最低价拉得很开, 因此上、下影线都很长	在上涨趋势末端出现, 是见顶信号; 在下跌趋势末端出现, 是见底信号。在上涨途中出现, 继续看涨; 在下跌途中出现, 继续看跌	虽然长十字线的技术含义与一般的十字线的含义相同, 但其信号可靠程度远比后者高。因此, 投资者可将它作为“逃顶”与“抄底”的重要参考指标
64	螺旋桨		(1) 既可出现在涨势中, 也可出现在跌势中; (2) 开盘价、收盘价相近, K线实体(可阳可阴)很小, 但最高价与最低价拉得很开, 因此上、下影线都很长	在涨势中出现, 后市看跌; 在下跌途中出现, 继续看跌; 在连续加速下跌行情中出现, 有见底回升的意义	转势信号比长十字线更强
65	一字线		(1) 既可出现在涨势中, 亦可出现在跌势中; (2) 开盘价、收盘价、最高价、最低价几乎相同成为“一”字	在上涨趋势中出现, 是买进信号; 在下跌趋势中出现, 是卖出信号	在涨跌停板制度下, 一字线有特别意义。涨势中出现一字线, 表示股价封在涨停价上, 说明多头气盛, 日后该股往往会变成强势股; 跌势中出现一字线, 表示股价封杀在跌停价上, 说明空头力量极大, 日后该股往往会变成弱势股


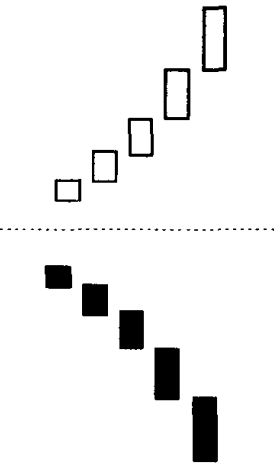

续上表

序号	名称	图形	特征	技术含义	备注
66	T 字线		开盘价、收盘价、最高价粘连在一起,成为“一”字,但最低价与之有相当距离,因而在 K 线上留下一根下影线,构成“T”字状图形	在上涨趋势末端出现,为卖出信号;在下跌趋势末端出现,为买进信号。在上涨途中出现,继续看涨;在下跌途中出现,继续看跌	T 字线下影线越长,力度越大,信号越可靠
67	倒 T 字线		开盘价、收盘价、最低价粘连在一起,成为“一”字,但最高价与之有相当距离,因而在 K 线上留下一根上影线,构成倒“T”字状图形	在上涨趋势末端出现,为卖出信号;在下跌趋势末端出现,为买进信号。在上涨途中出现,继续看涨;在下跌途中出现,继续看跌	倒 T 字线上影线越长,力度越大,信号越可靠。在上升趋势中出现的倒 T 字线,称为上档倒 T 字线,又称下跌转折线
68	搓揉线		(1) 多数出现在涨势中; (2) 由一正一反两根 T 字线组成	在上涨途中出现,继续看涨,在上涨末端出现,是见顶信号	在上涨途中出现的搓揉线以小 T 字线居多;在上涨末端出现的搓揉线以大 T 字线居多
69	尽头线		(1) 既可出现在涨势中,也可出现在跌势中; (2) 由 2 根一大一小 K 线组成; (3) 出现在涨势中,第一根 K 线为大阳线或中阳线,并留有一根上影线,第二根 K 线为小十字线或小阳小阴线,依附在第一根 K 线的上影线之内;	出现在涨势中,是见顶信号;出现在跌势中,是见底信号	尽头线的上影线或下影线的右方,带着的 K 线越小(如小十字星),则信号越强

续上表

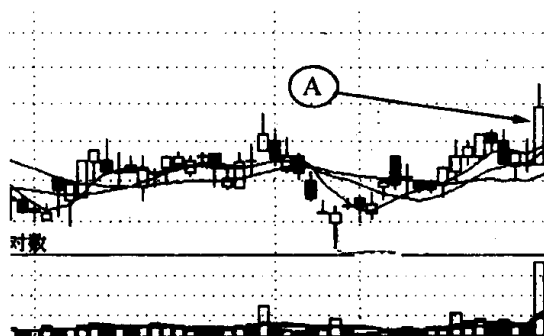
序号	名称	图形	特征	技术含义	备注
			(4) 出现在跌势中, 第一根 K 线为大阴线或中阴线, 并留有一根下影线, 第二根 K 线为小十字线或小阳小阴线, 依附在第一根 K 线的下影线之内		
70	穿头破脚		(1) 既可在上涨趋势中出现, 也可在下跌趋势中出现; (2) 由大小不等, 阴、阳相反的 2 根 K 线组成; (3) 在上涨趋势中出现, 前一根为阳线, 后一根为阴线, 后者将前者实体全部包容在内(不包括上、下影线); (4) 在下跌趋势中出现, 前一根为阴线	在上涨趋势中出现, 是卖出信号; 在下跌趋势中出现, 为买进信号	2 根 K 线的长短越悬殊, 或一根长的 K 线包容前面的 K 线越多, 信号的参考价值就越大
71	身怀六甲		(1) 既可在上涨趋势中出现, 也可在下跌趋势中出现; (2) 由大小不等的 2 根 K 线组成, 两根 K 线可一阴一阳, 亦可同是两阳或两阴; (3) 第一根 K 线实体要能完全包容第二根 K 线实体; (4) 第二根 K 线可以是小阴、小阳线, 亦可以是十字线	在上涨趋势中出现, 是卖出信号; 在下跌趋势中出现, 是买进信号	若第二根 K 线为十字线, 俗称十字胎, 在身怀六甲中, 十字胎是力度最大的 K 线形态之一
72	镊子线		(1) 既可出现在涨势中, 也可出现在跌势中; (2) 由 3 根二大一小 K 线组成; (3) 3 根 K 线的最高价几乎处在同一水平位置上 (从图上看就像有人拿着镊子夹着一块小东西)	在上涨时出现为头部信号; 在下跌时出现为底部信号	

续上表

序号	名称	图形	特征	技术含义	备注
73	上档盘旋形		(1) 出现在上涨途中； (2) 由若干根或十几根 K 线组成； (3) 在上涨时拉出一根较有力度的阳线后，就出现了阴阳交错、上下波动范围很小的横盘走势	上档盘旋时间在 5~14 天内，多数看涨，超过 14 天多数看跌	盘旋时间太久，说明多方上攻愿望不强，因而跌的可能性很大
74	加速度线		(1) 既可出现在涨势中，也可出现在跌势中； (2) 上涨时出现加速度线，表现为开始缓慢爬升，后来攀升速度越来越快，接着连续拉出中阳线或大阳线； (3) 下跌时出现加速度线，表现为开始缓慢下跌，后来下跌速度越来越快，接着连续拉出中阴线或大阴线	在上涨时出现为头部信号；在下跌时出现为底部信号	
75	下跌三连阴		(1) 出现在跌势中； (2) 由 3 根阴线组成，阴线多为大阴线或中阴线； (3) 每根阴线都以最低价或次低价报收，最后一根阴线往往是大阴线	在下跌初期出现，继续看跌。在下跌后期出现，是见底信号	在连续阴跌不止情况下，特别是在股价已有较大跌幅后出现三连阴，表明空方力量已经用尽

第三节 大阳线与大阴线的识别和运用

习题 1 指出图中箭头 A 所指的 K 线名称、特征和作用，并说明投资者见到这种 K 线应如何操作？



(该股往后走势见图 8)

图 5

参考答案 图 5 中箭头 A 所指的 K 线叫“大阳线”。一根阳线, 由于它低开高收的格局, 本身就具有向好的意味。如果阳线实体

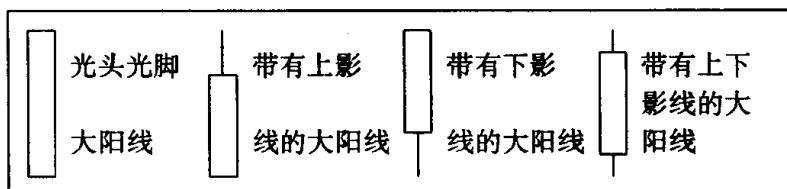


图 6

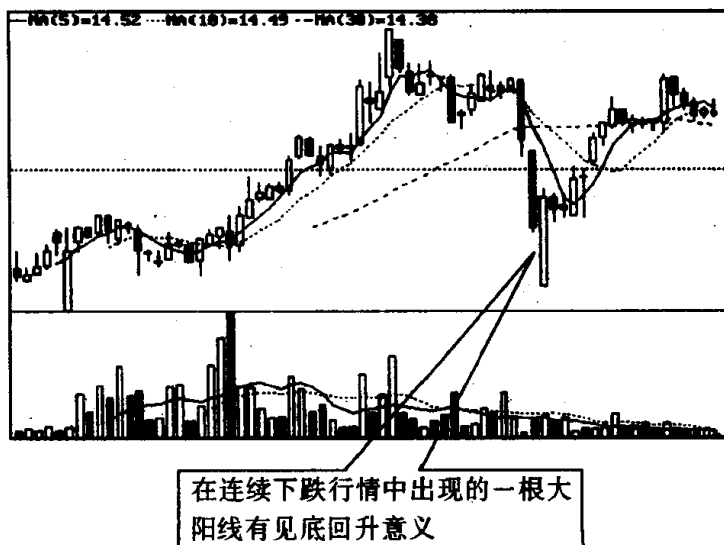


图 7

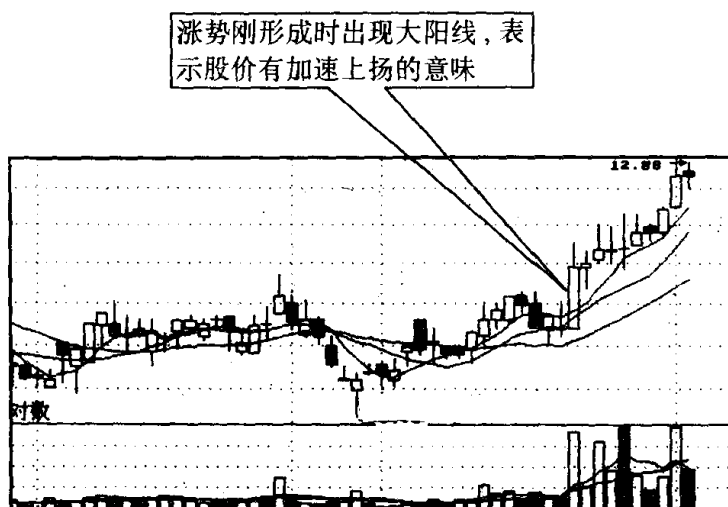


图 8

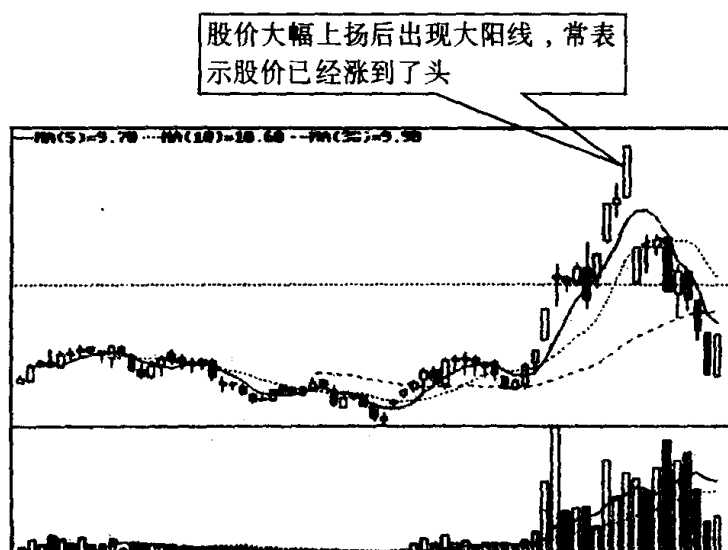
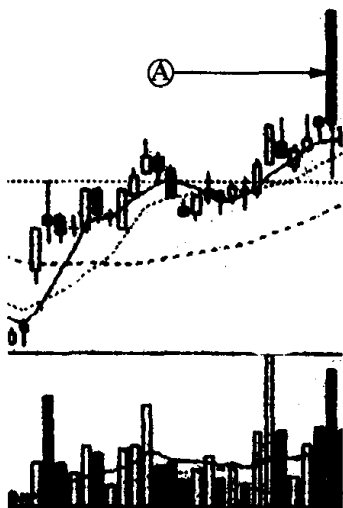


图 9

很长，它表明买方气势旺盛，力量强大。目前我国股市在实行涨跌停板制度下，最大的日阳线实体可达当日开盘价的 20%，即以跌停板开盘，涨停板收盘。大阳线的力度大小，与其实体长短成正比，也就是说阳线实体越长则力量越强，反之，则力量越小（见图 6）。不过也不是说只要图上一出现大阳线，后市就看涨。根据实战经验，

如在连续下跌情况下出现大阳线,则反映了多方不甘心失败,发起了反攻,股价可能见底回升(见图 7)。如在涨势刚刚形成时出现大阳线,表示股价有加速上扬的意味(见图 8)。但在股价连续上扬的情况下拉出大阳线,则要当心多方能量耗尽股价见顶回落(见图 9)。

习题 2 仔细观察下面 4 张图,回答下列问题:(1)下面 4 张图



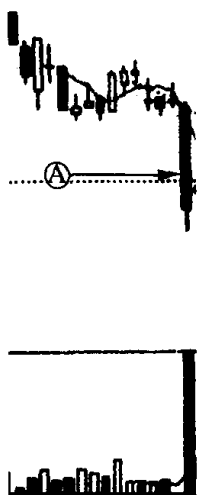
(该股往后走势见图 15)

图 10



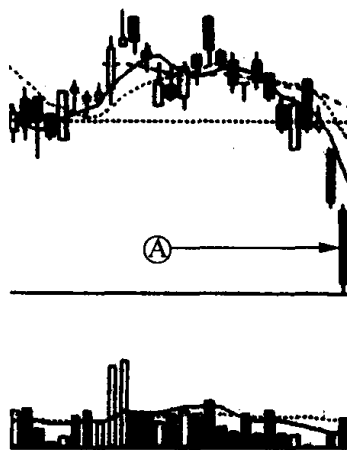
(该股往后走势见图 16)

图 11



(该股往后走势见图 17)

图 12



(该股往后走势见图 18)

图 13

中箭头 A 所指的 K 线叫什么名称？它的特征是什么？(2)分析这根 K 线在上面 4 张图中所起的不同作用，并说明投资者应该如何根据不同的情况采取不同的投资策略。

参考答案 上面 4 张图中箭头 A 所指的 K 线都为同一种 K 线，名叫“大阴线”，又叫长阴线。大阴线的特征是当天几乎以最高价开盘，最低价收盘，它表示多方在空方打击下节节败退，毫无招架之功。目前我国股市在实行涨跌停板制度下，最大的日阴线实体可达当日开盘价的 20%，即以涨停板开盘，跌停板收盘。大阴线的力度大小，与其实体长短成正比，即阴线实体越长，则力度越大，反之，则力度越小（见图 14）。大阴线的出现对多方来说是一种不祥的预兆。但事情又不是那么简单，我们不能把所有的大阴线都看成是后市向淡的信号，也就是说并非一见到大阴线就认为股价要跌。有时大阴线出现后，会出现不跌反涨的情况。那么，如何来分别大阴线出现后是涨还是跌呢？这里有几种情形：(1)大阴线出现在涨势之后，尤其是较大涨幅之后，它表示股价即将回档或者正在做头部。这时应卖出股票为宜。(2)大阴线若出现在较大跌幅之后，暗示做空能量已经释放得差不多了，根据“物极必反”的原理，此时要弃卖而买，考虑做多，逢低吸纳一些股票。现在我们就以习题 2 的 4 张图为例作一番分析，来看看出现大阴线后投资者应如何操作。图 10 中大阴线是在涨势中出现的。毫无疑问，在股价已有一段较大涨幅后，出现这么一根大阴线，股市转向的可能性极大。如果股价就此由升转跌这根大阴线就是导火索，其强大的杀伤作用将令多方不寒而栗。此时投资者唯一能做的就是尽快停损出局（见图 15）。图 11 中的大阴线也是在涨势中出现的，不过在它之前已经拉了一根十字线，这根十字线暗示这轮升势已到了尽头，后面出现的大阴线只不过是这轮行情结束的进一步确认而已，股价由升转跌即将开始。虽然这根大阴线的杀伤作用稍次于头部直接出现的高开低走的大阴线，但它对多方的打击也十分厉害。因此投资者见此大阴线后应及时作好减仓的准备（见图 16）。图 12 中的大阴线是在跌势中出现的。从图中可以看出，这根大阴线是

在股价下跌时,经过短暂盘整向下破位时形成的,因此只能看作市场做空的能量还没有得到充分的释放,股价仍将继续下滑。这根大阴线虽然比不上在头部、上档区域出现的大阴线对多方的杀伤作用,但也不可小视它对市场信心的重挫。因此投资者见此大阴线,还是离远一点较好,不要轻易参与炒作(见图 17)。图 13 中的大阴线是在跌势后期出现的。从图中可以看出,在这根大阴线出现前股价已连续下挫,盘中做空的能量得到了较大程度的释放。股市的规律告诉我们,当行情冷到极点时,离开春天也就不远了。虽然我们还不能在连续下跌情况下出现一根大阴线后,就判断行情会逆转,但投资者至少应该看到跌势已到末期,这时再继续做空,卖出股票是不理智的。相反,我们应该结合其他技术指标,分析一下股价是否见底,考虑如何买进一些股票(见图 18)。

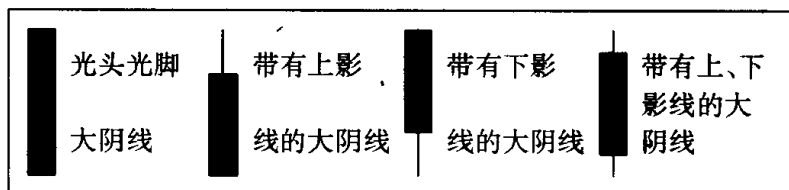


图 14

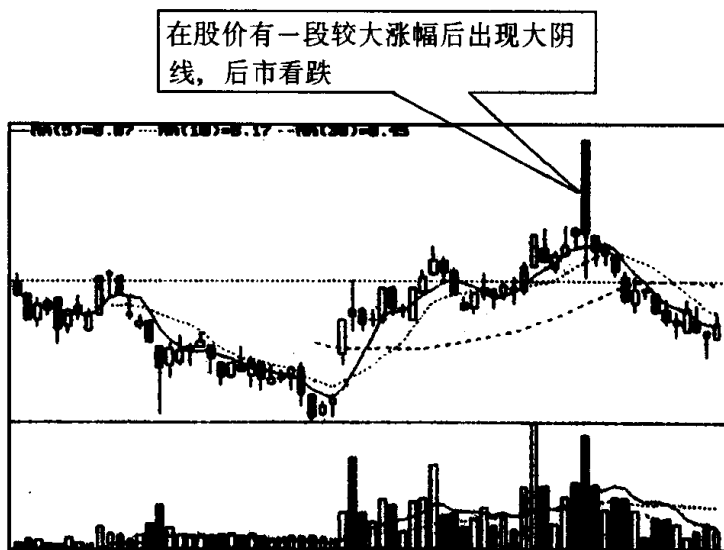


图 15

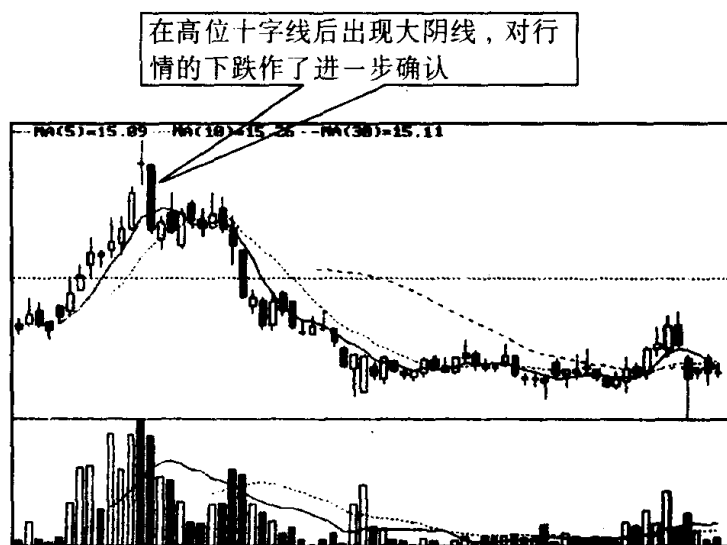


图 16

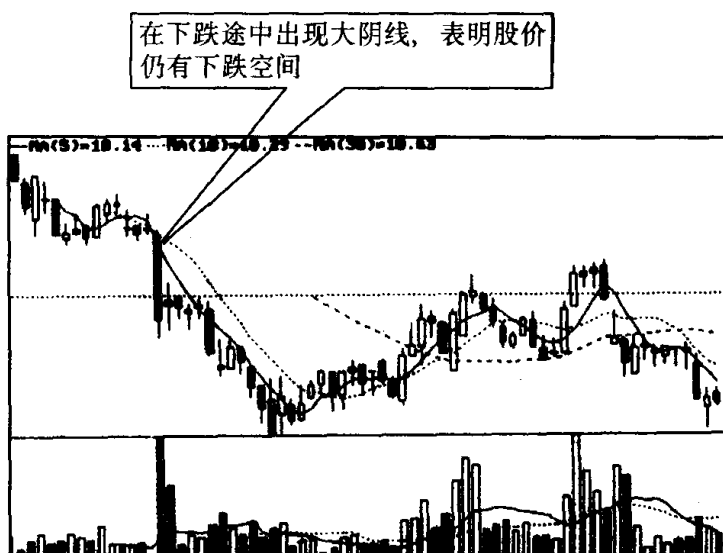


图 17

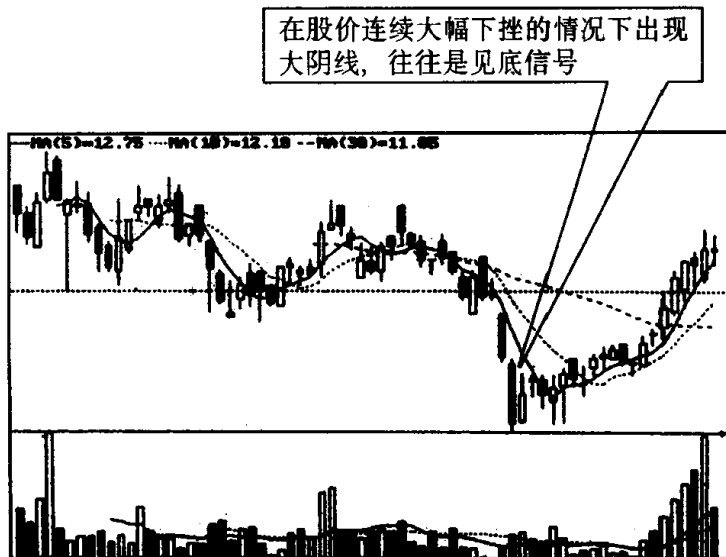
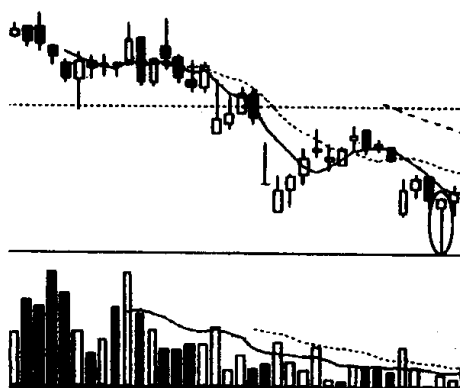


图 18

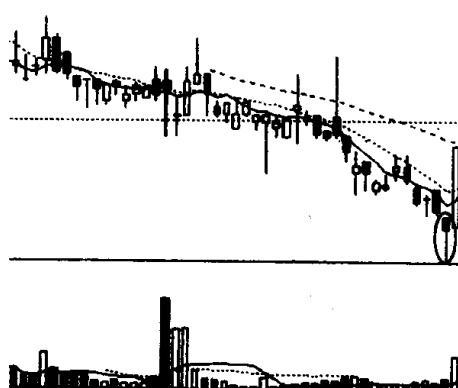
第四节 锤头线与吊颈线的识别和运用

习题 3 指出下面两张图中画圈处的 K 线名称、特征和技术含义，并说明投资者见此 K 线图形后应如何操作？



(该股往后走势见图 22)

图 19



(该股往后走势见图 23)

图 20

参考答案 图中画圈处的 K 线叫“锤头线”，其特征是 K 线实体很小，一般无上影线(即使有，上影线也很短)，但下影线很长(见图 21)。通常，在下跌过程中，尤其是在股价大幅下跌后出现锤头线，股价转跌为升的可能性较大(见图 22、23)。这里要注意的是：锤头线止跌回升的效果如何，与下列因素有密切关系：(1)锤头实体越小，下影线越长，止跌作用就越明显；(2)股价下跌时间越长、幅度越大，锤头线见底信号就越明确；(3)锤头线有阳线锤头与阴线锤头之分(见图 21)，作用意义相同，但一般说来，阳线锤头力度要大于阴线锤头。投资者在下跌行情中见到锤头线，激进型的可试探性地做多，稳健型的可在锤头线出现后再观察几天，如股价能

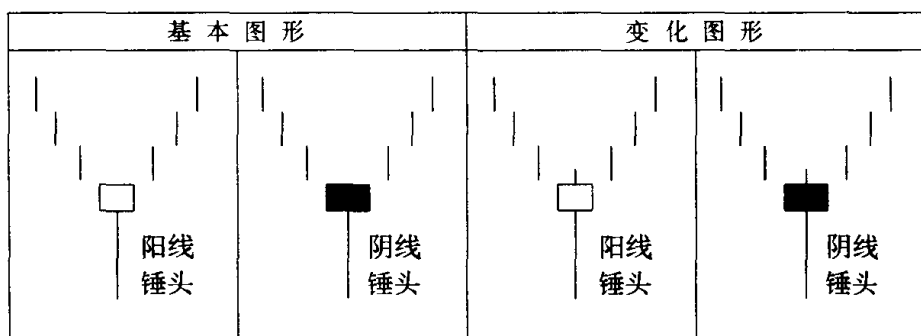


图 21

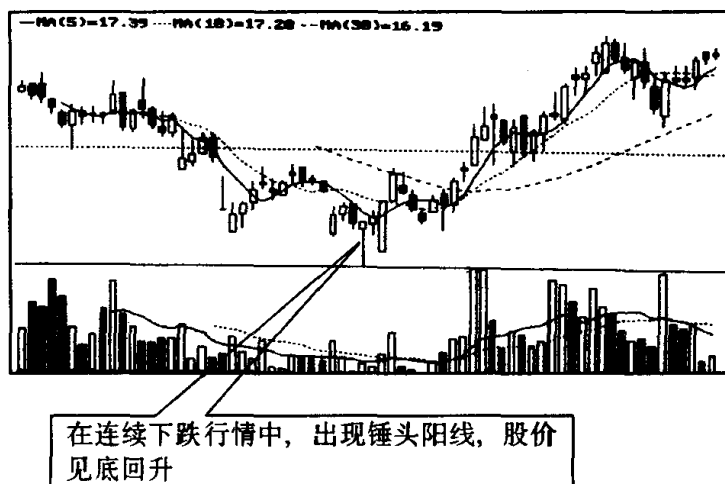


图 22

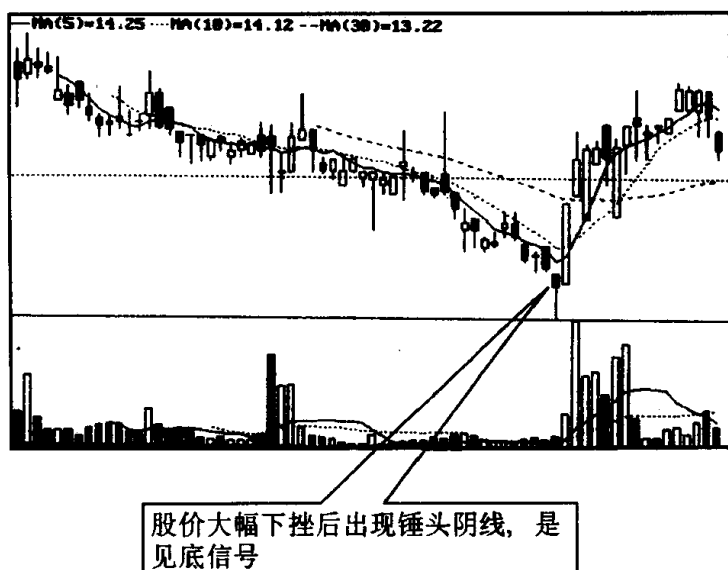
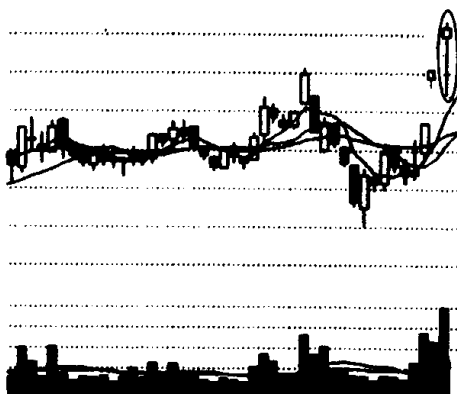


图 23

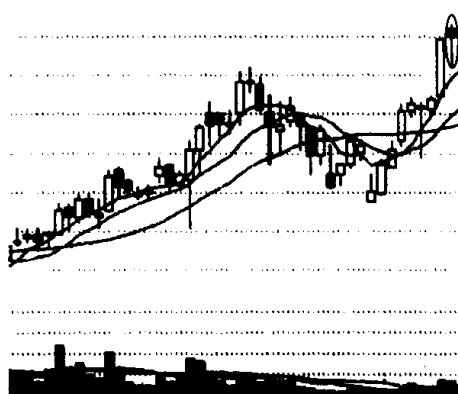
放量上升,即可跟着做多。

习题 4 下面两张图画圈处所指的 K 线一根是阴线,一根是阳线。请问它们的名称和特征是什么? 性质上有无区别? 投资者看到此 K 线图形后应采取什么对策?



(该股往后走势见图 27)

图 24



(该股往后走势见图 28)

图 25

参考答案 上面两张图画圈处的 K 线是同一种 K 线,在性质

上并无区别,名叫“吊颈线”,又称绞刑线^[注]。其特征是:(1)K 线实体很小,上影线很短或者没有,但下影线很长(通常是实体长度的2~3倍)。(2)在上涨行情末端出现(见图 26)。该 K 线出现,预示着股价已涨到尽头,接下来很有可能转升为跌(见图 27、图 28)。一般来说,该 K 线在股价已有较大涨幅情况下出现,其显示的转跌信号比较可靠。如果此时吊颈线是以阴线形式出现,则下跌的概率更大。投资者在上涨行情中,尤其是股价已有大幅上扬情况下看到此 K 线,必须引起高度警惕,不管后市如何,可先作些减磅,日后一旦发觉股价掉头向下,应及时抛空出局。

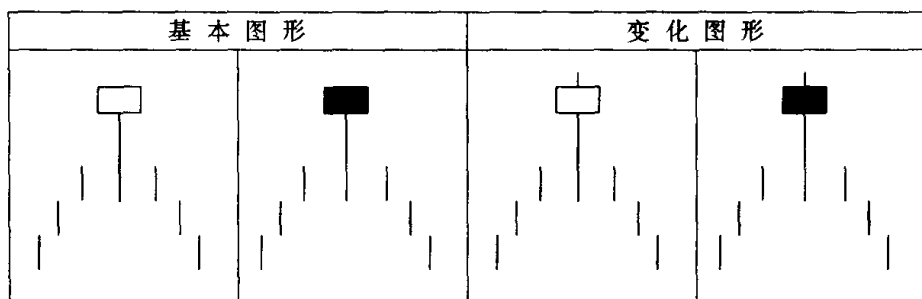


图 26

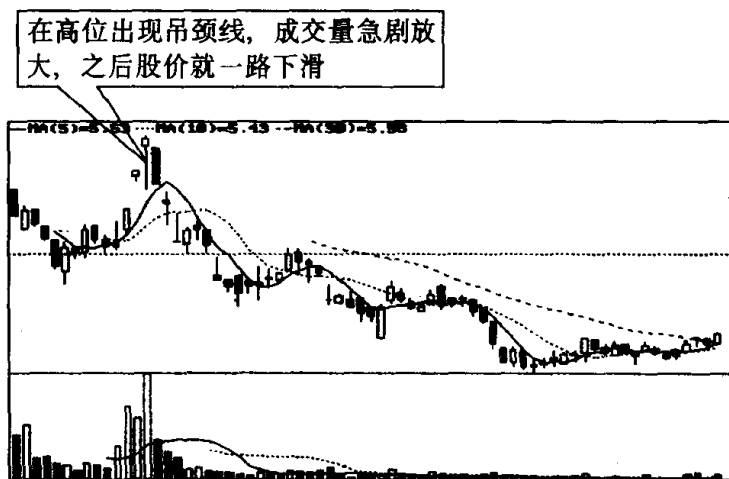


图 27

【注】 将它起名为吊颈线、绞刑线,意在提醒投资者,这种 K 线的出现是一种很不好的预兆。这也足见起名者的良苦用心。

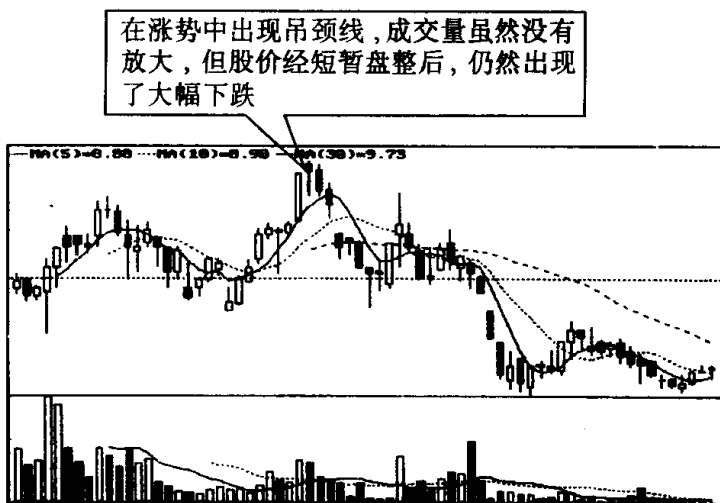
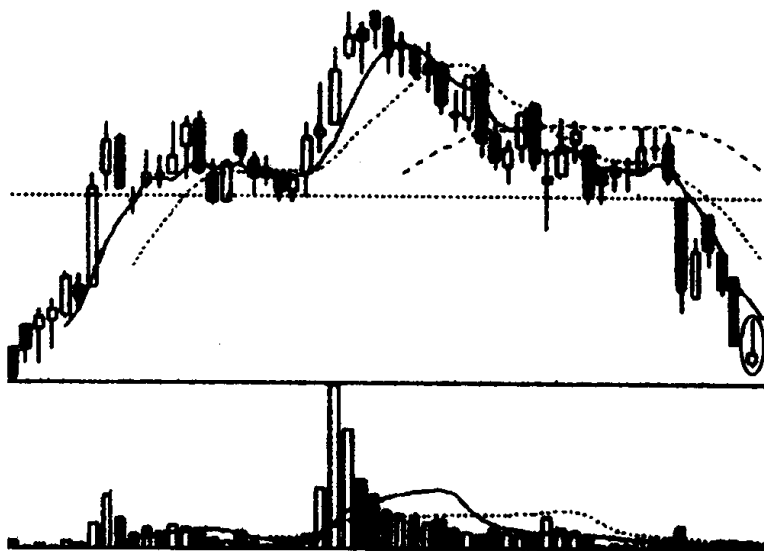


图 28

第五节 倒锤头线与射击之星的识别和运用

习题 5 指出下图画圈处 K 线的名称、特征和技术含义,并说



(该股往后走势见图 31)

图 29

明投资者见此 K 线图形后应如何操作？

参考答案 图中画圈处的 K 线，叫“倒锤头线”，因其形状像个倒转锤头而得名。其特征是：在下跌趋势中出现。K 线实体（可阴可阳）很小，下影线很短或者没有，但有一根较长的上影线（见图 30）。倒锤头出现在下跌过程中，具有止跌回升的意义（见图 31）。如果倒锤头与早晨之星同时出现（见图 32），则行情反转向上的可能性就更大。投资者见此 K 线形态，可适量逢低吸纳。

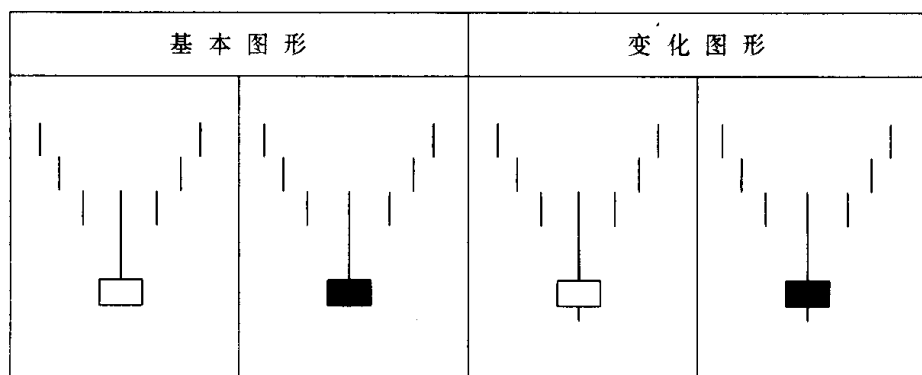


图 30

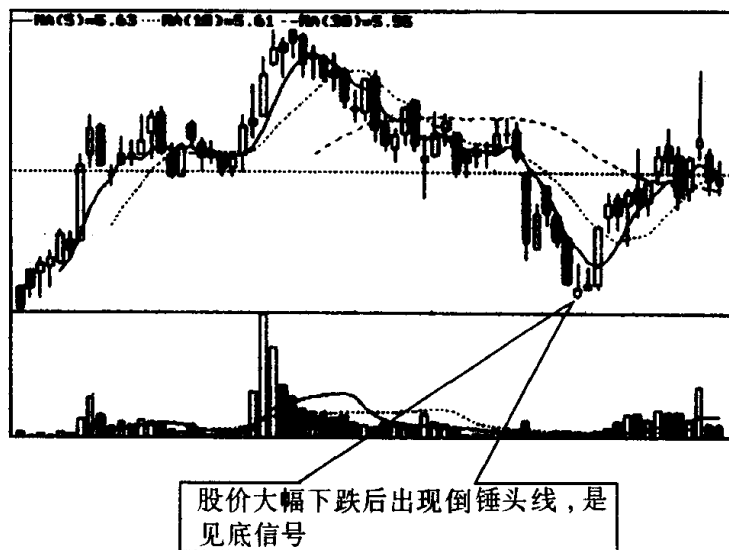


图 31

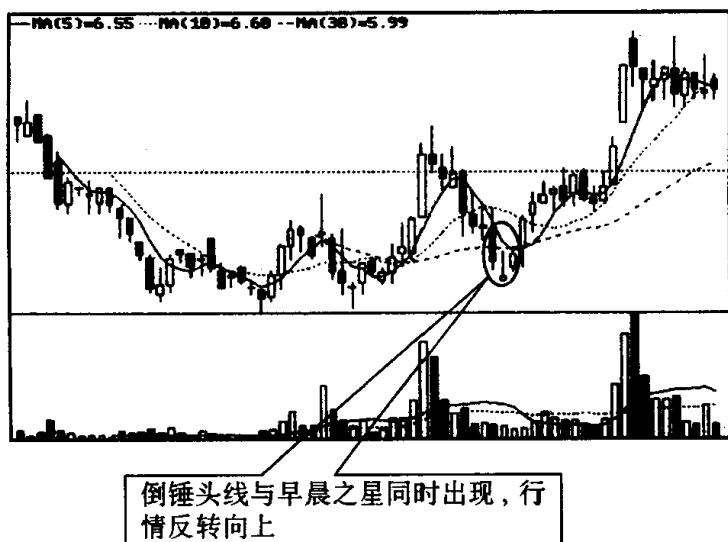
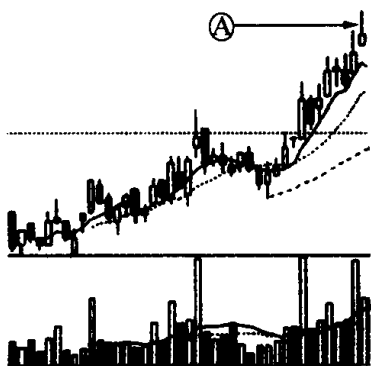


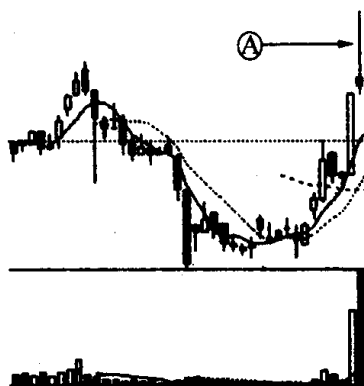
图 32

习题 6 为什么下面两张图中箭头 A 所指的 K 线被人称之为射击之星？它的别名是什么？构成射击之星有哪两个基本条件？投资者见此 K 线图形后应如何操作？



(该股往后走势见图 36)

图 33



(该股往后走势见图 37)

图 34

参考答案 图中箭头 A 所指的 K 线很像弓箭发射的样子，因此被人称之为“射击之星”。此外，人们还根据射击之星的特点，给它起了一些混名，如扫帚星、流星。在西方的童话中，巫婆总是骑着一把

扫帚在空中飞来飞去,像一颗流星到处流窜。这也就是扫帚星、流星混名的来历。因此,扫帚星、流星的出现,使人有一种不祥的预感。它暗示股价可能由升转跌,投资者如不及时出逃,就要被流星、扫帚星击中,倒上大霉。一根 K 线要成为射击之星,必须满足以下两个基本条件:第一、K 线实体要很小,阴线、阳线均可,但上影线要很长(是 K 线实体二倍以上),如若下影线,也是很短很短。第二、出现在上升趋势中,通常已有一段较大涨幅(见图 35)。从技术上来讲,在一轮升势后出现射击之星表示市势已经失去了上升的持久力,多方已抵抗不住空方打击,股价随时可能见顶回落(见图 36、图 37)。因此,投资者在股价大幅上扬后,见到射击之星应退出观望为宜。

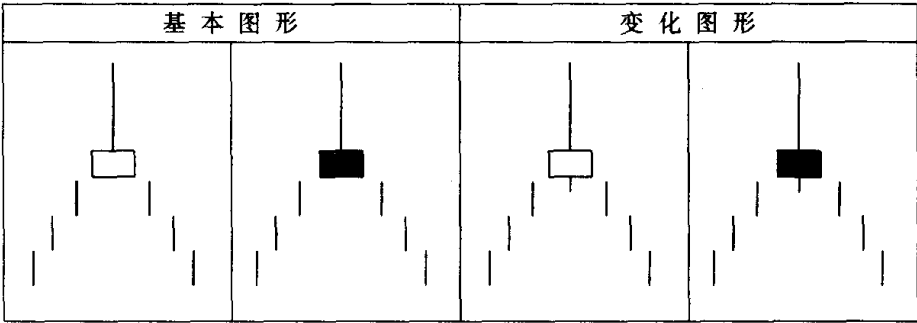


图 35

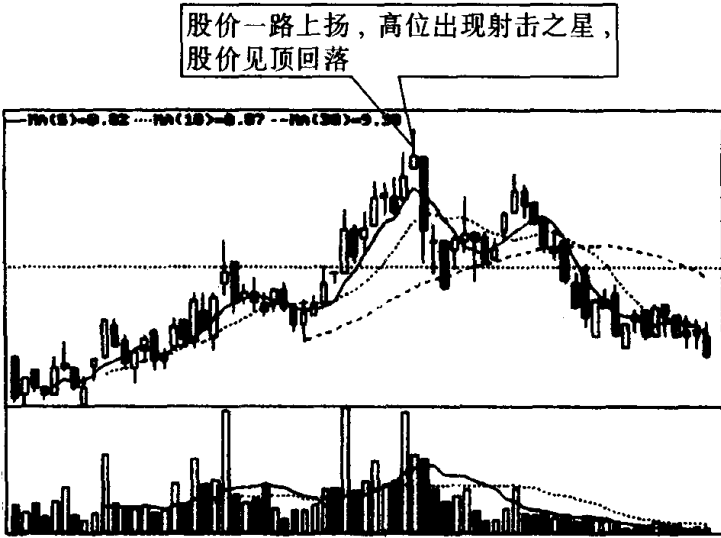


图 36

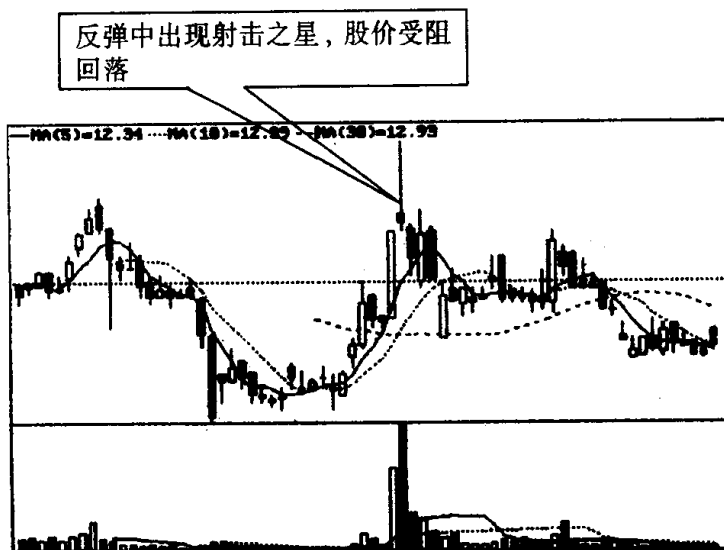
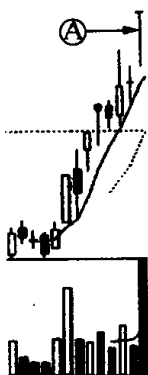


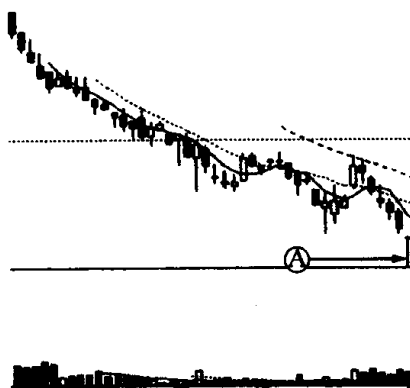
图 37

第六节 T 字线、上档倒 T 字线与一字线的识别和运用

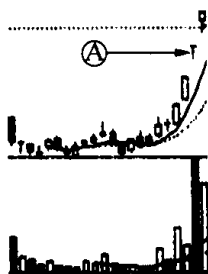
习题 7 下面 4 张图中箭头 A 所指的都是同一种 K 线,但它们



(该股往后走势见图 43)
图 38

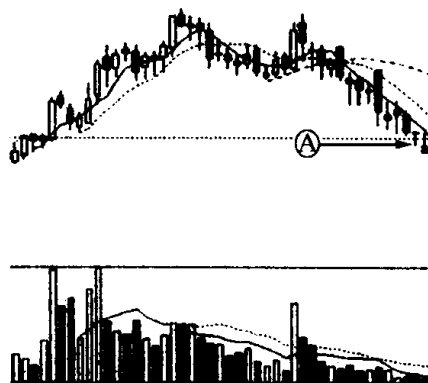


(该股往后走势见图 44)
图 39



(该股往后走势见图 45)

图 40



(该股往后走势见图 46)

图 41

各自的技术含义是不同的。请问：该 K 线叫什么名称？它们的技术含义有何不同？造成它们各自不同的原因是什么？

参考答案 上面 4 张图中箭头所指的 K 线叫“T 字线”，又称蜻蜓线。因其形状像英文字母 T，故称为 T 字线。它的开盘价、最高价和收盘价相同，K 线上只留下影线。如有上影线也是很短很短。T 字线信号强弱与其下影线成正比，下影线越长，则信号越强(见图 42)。这 4 张图中 T 字线因所处的位置不同，所以各自的技术含义也不相同。图 38 中 T 字线是出现在股价有较大涨幅之后，此时 T 字线在技术上显示的是一种见顶信号。图 39 中的 T 字线出现在股价有较大跌幅之后，此时 T 字线在技术上显示的是一种见底信号。图 40 中的 T 字线出现在股价上涨过程中，此时 T 字线在技术上显示的是一种继续上涨的信号。图 41 中的 T 字线出现在股价下跌过程中，此时 T 字线在技术上显示的是一种继续下跌信号。为什么 T 字线在不同场合，表示的含义有如此大的差别呢？这主要因为 T 字线是一种庄家线，它完全是由庄家控盘所造成的。在 T 字线上我们处处可以看到庄家做的手脚。首先让我们来看一下股价大幅飚升后出现的 T 字线。这种在高位拉出的 T 字线，其实就是庄家为了掩护高位出货施放的一颗烟幕弹。通常，市场涨幅已大时，股价若出现大抛盘，散户一般都如惊弓之鸟，逃得比谁都快。但是由于庄家一早就以不计卖价的大

卖单抛出,所以散户根本就来不及溜走,而正当散户惊慌失措的时候,尾市又突然出现了一股神秘力量,大笔买单将股价重新推到开盘价位置。这种翻手为云、覆手为雨的操盘手法,显然不是散户行为,散户也不可能做到的。这只有控盘庄家才能做得出。庄家这样做的目的就是为了让散户产生一种错觉。觉得这种先抑后扬的“T”走势是股价拉升过程中的一种洗盘行为。这会逼使一些抛出筹码的短线客再度追涨买进,让持筹的散户放心做多。紧接着第二天或第三天股价高开,更会使一些股民戒心全无,这时庄家见诱多成功,就趁机大量发货,在人们一片看好之中,神不知鬼不觉地实现胜利大逃亡。因此这种在高位出现的 T 字线的后面,与之相伴的多数就是高开低走的大阴线。一旦 K 线走势到了这个地步,股价下跌也就是必然的了(见图 43)。与此情形相反的是,在股价连续下跌后出现的 T 字线,反映了庄家在低位建仓后,利用先抑后扬的“T”字走势稳定军心的一种迫切心情。如果这种止跌信号被市场认同,庄家就会在 T 字线后面,拉出几根阳线,或是让盘面演化而成阴阳线交错的盘升走势(见图 44)。因此当股价走势出现了上述情况,我们就可以大致推断出庄家的操盘意图,此时投资者可采取适量买进的策略,与庄共舞。第三种情形是股价在上升过程中出现 T 字线。这是庄家利用 T 字线走势在洗盘,而决不是在“出货”(见图 45)。如果投资者认准了是上升过程中的 T 字线,就应该继续持仓,不要让庄家骗走筹码。但是究竟





基本图形		变化图形	
			

图 42

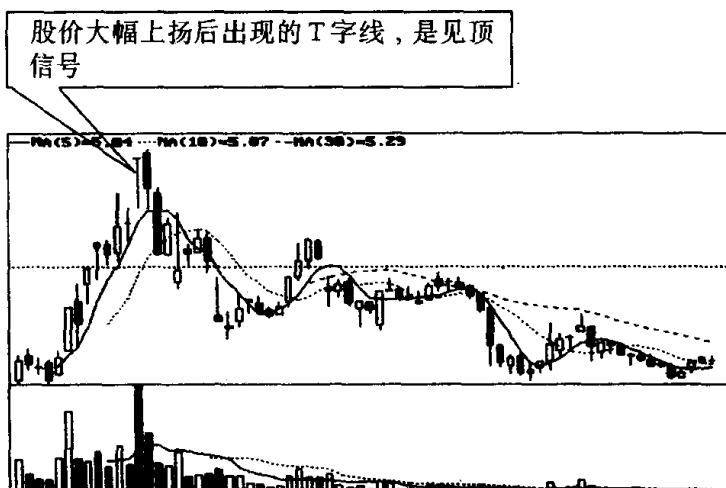


图 43

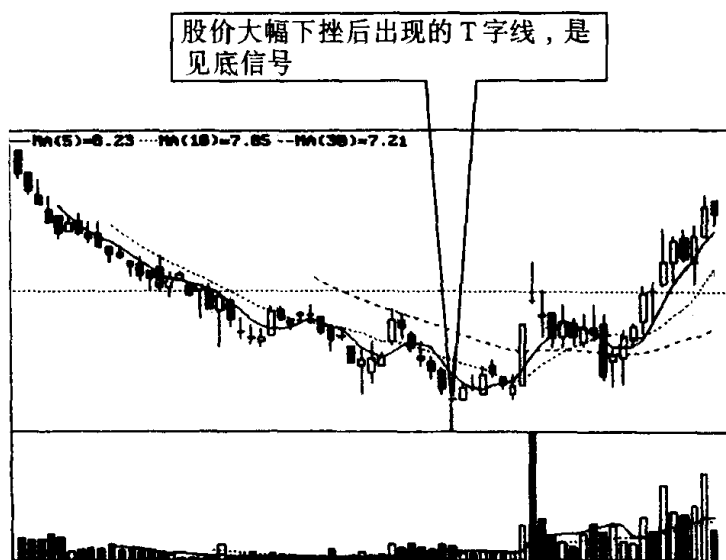


图 44

如何识别上升中的T字线还是上升到顶的T字线呢？这里关键是要看两点：(1)上升幅度大不大，假如上升幅度已经很大，出现高位T字线的可能性就较大，反之，则可能性较小。(2)T字线之后，股价重心是上移，还是下沉？是上移，则是庄家利用T字线在洗盘；是下沉，则是庄家利用T字线在出货。第四种情形，是股价在下跌途

中出现的 T 字线,这是被套庄家利用 T 字走势,制造一种止跌企稳的假象,以此来吸引买盘,派发手中筹码。当投资者不明就里买进后,就会陷入庄家圈套,股价仍会义无反顾地向下滑落(见图 46)。

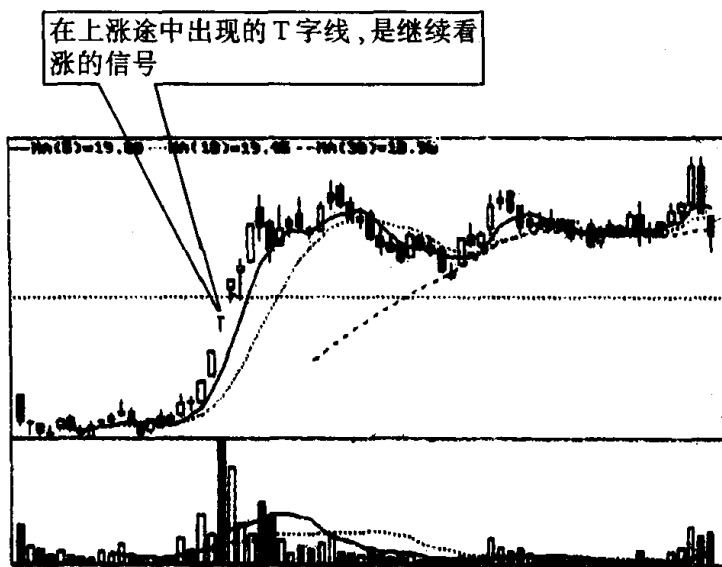


图 45

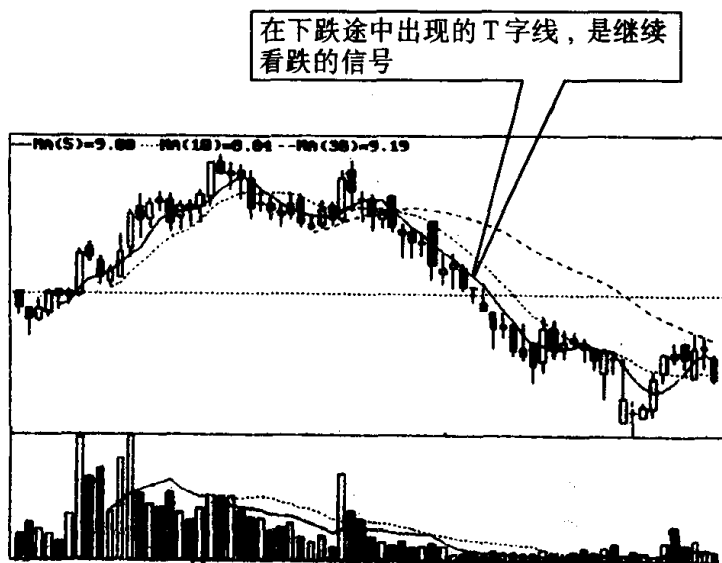
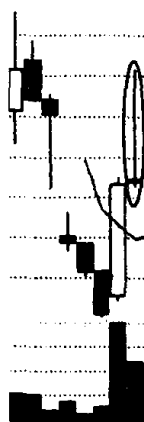


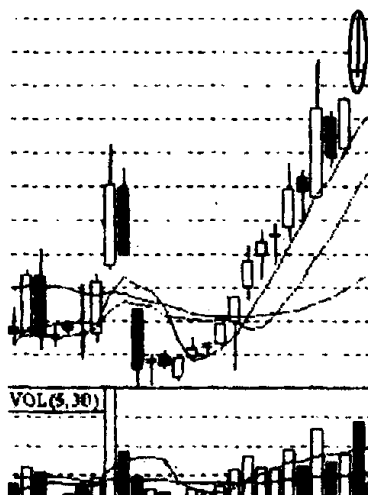
图 46

毋庸讳言,股价在下跌途中出现的 T 字线和在下跌底部出现的 T 字线是很容易混淆的,区别的方法在于:(1)看下跌幅度,如跌幅已很大,出现底部 T 字线可能性较大,反之,则可能性很小。(2)看 T 字线之后股价重心是上移,还是下沉。如果 T 字线后股价重心在上移,很有可能是庄家利用 T 字线稳定军心,正在策划一轮上攻行情,这个 T 字线就是见底回升的信号。此时投资者可考虑适量买进。如果 T 字线是为投资者设置的一个多头陷阱,这个 T 字线就是继续下跌的信号,股价在这之后仍会有较大下跌幅度。此时投资者一定要耐心观望,绝不可盲目买进。总之,T 字线真实地反映了庄家的操盘意图,投资者只要认真分析 T 字线出现的时间、位置,再结合其他技术分析指标,就能识破庄家的阴谋,在与庄家争斗中取得胜利。

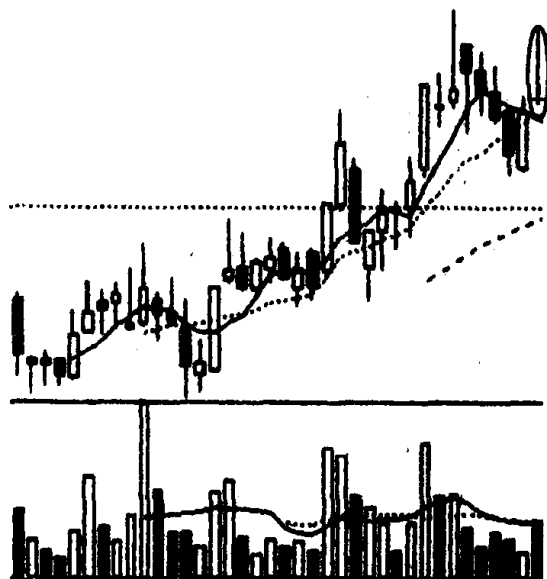
习题 8 下面 3 张图是 3 个不同个股的 K 线走势图。第一张图是月 K 线图,第二张图是周 K 线图,第三张图是日 K 线图。这 3 张图画圈处都指的是同一种 K 线。请你说出该 K 线的名称和它在日 K 线、周 K 线和月 K 线中所起的作用。



(该股往后走势见图 51)
图 47



(该股往后走势见图 52)
图 48



(该股往后走势见图 53)

图 49

参考答案 在上升的趋势中,出现开盘价、最低价、收盘价相同或基本相同,上影线较长的 K 线称之为“上档倒 T 字线”,又称下跌转折线(见图 50)。它表明在空方打击下,多方已无力将股价推高,股价将要反转下跌,此时投资者应退出观望为宜。一般来说上档倒 T 字线,一旦被市场认同,股价下跌就是势在必行,但是值得注意的是它对多方打击的力度,与其形成的时间长短有很大关系,也就是一天形成的上档倒 T 字线与一周形成的倒 T 字线作用大小是

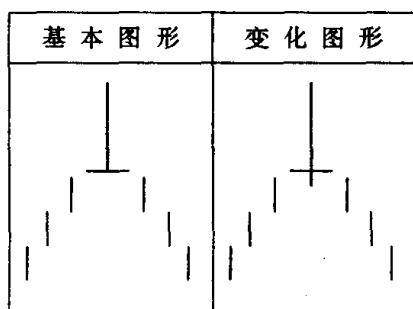


图 50

不一样的。通常,形成的时间越长,威力就越大。例如,习题 8 中提到 3 个股票的 K 线图反映了不同时间段的股价走势,上档倒 T 字线对它们所起的作用大小就有很大的差别。图 47 的 K 线图是月 K 线图,其中的上档倒 T 字线是一个月股价走势的缩影。它形成的时间最长,杀伤力也最大,股价下跌后几年都不能翻身(见图

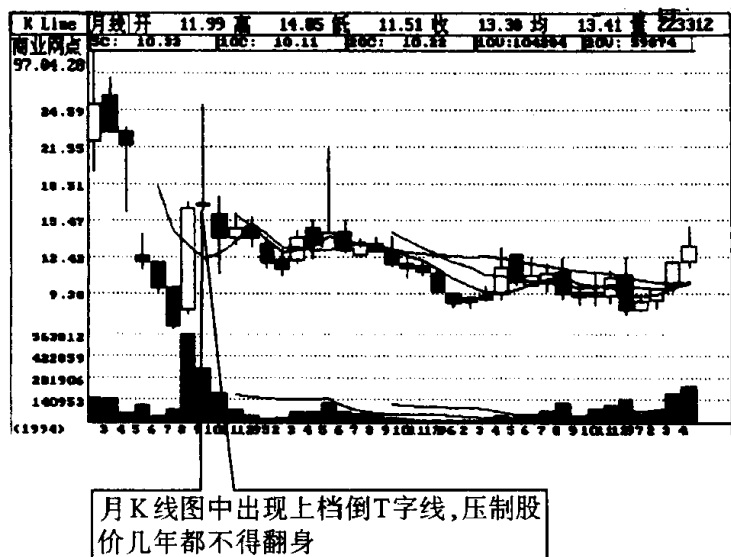


图 51

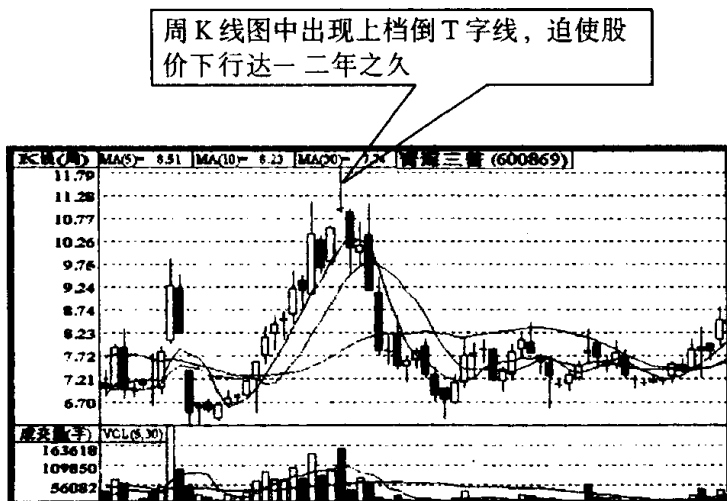


图 52

51)。图 48 的 K 线图是周 K 线图,其中的上档倒 T 字线是一周股价走势的缩影。它形成的时间较短,因此对多方杀伤作用稍弱些。它迫使股价下行达一二年之久(见图 52)。图 49 的 K 线图是日 K 线图,其中的上档倒 T 字线是一天股价走势的缩影。它形成的时间最短,因此对多方杀伤作用力度最小。它压制股价下行时间仅仅是几个月甚至几个星期(见图 53)。可见,同样是上档倒 T 字线,出现在月 K 线图、周 K 线图、日 K 线图中,它的杀伤作用是不一样的。投资者了解这一点对看清大势很有帮助。

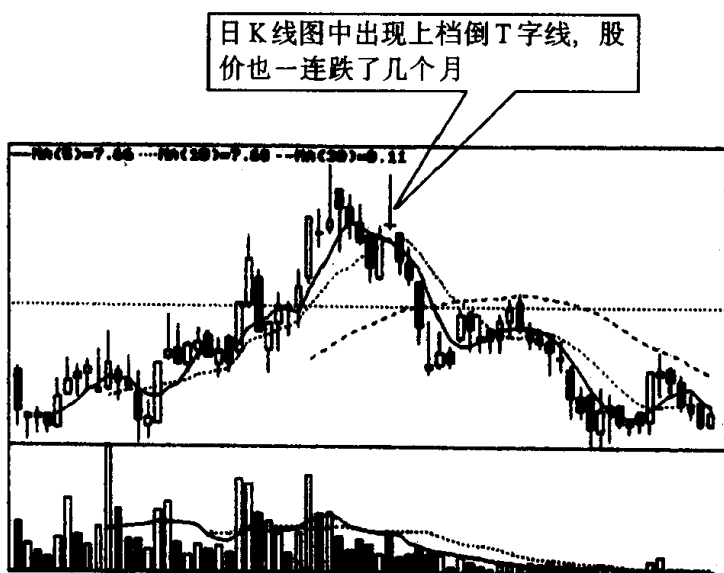


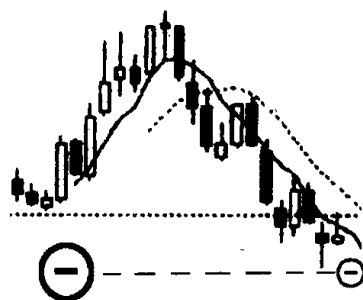
图 53

习题 9 指出图 54、图 55 画圈处的 K 线名称、特征和技术含义,并说明投资者见此 K 线图形应如何操作?

参考答案 图 54、图 55 画圈处叫“一字线”。其特征是开盘价、收盘价、最高价、最低价粘连在一起成一字状,这就是我们平时说的以涨停板或跌停板开盘,全日基本上都在涨停板或跌停板价格成交,一直到收盘为止的一种 K 线走势(见图 56)。在未实行涨跌停板制度前,一字线被视为市场交投极为清淡的标志,而在目前我国实行涨跌停板的制度下,一字线反而成为投资者关注的焦点。



(该股往后走势见图 57)
图 54



(该股往后走势见图 58)
图 55

在涨势中,尤其是股价上涨初期出现的一字线,往往反映该股有重大利好被一些先知先觉者察觉捷足先登,因此,在涨升初期出现一字线,投资者应采取积极做多策略,如一字线的当日没买进,第二天可继续追进。通常在涨势中出现一字线后,股价继续上涨的可能性很大(见图 57),但要注意的是如若该股一连出现几个一字线,从规避短期风险出发,则不宜继续追涨。在跌势中,尤其是股价下跌初期出现的一字线,往往反映该股有重大利空或是股价炒过了头,庄家率先出逃所致。因此,在下跌初期出现一字线,投资者应果断平仓出局,如一字线的当日没卖出,第二天应继续卖出。通常在跌势中出现一字线后,股价继续下跌的可能性很大(见图 58),但要注意的是,如若该股已一连出现几个一字线,就不宜再继续杀跌,可等股价反弹时再出货。

基本图形	变化图形		
—	—	—	—

图 56

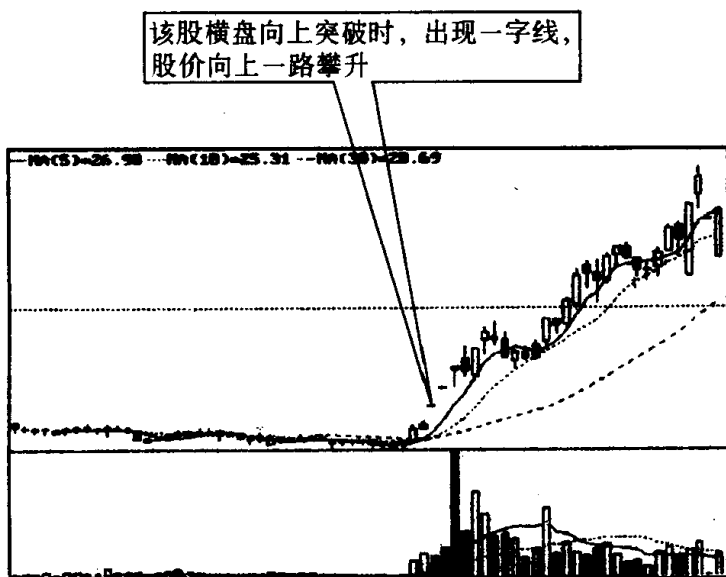


图 57

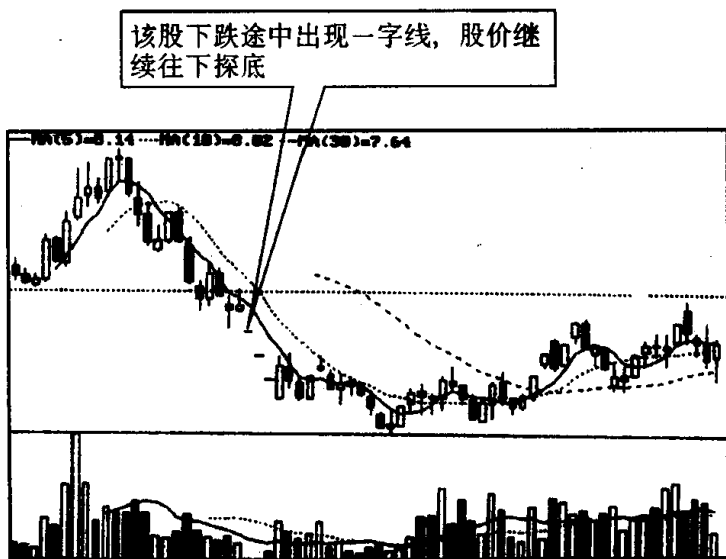
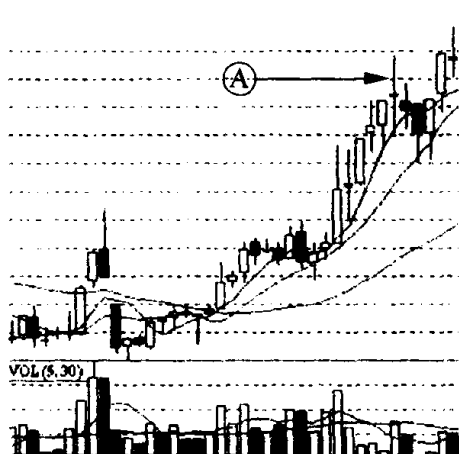


图 58

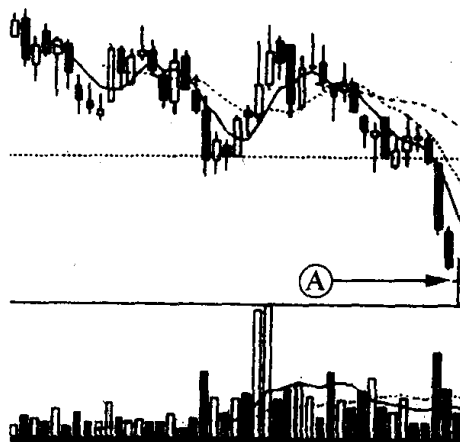
第七节 长十字线与螺旋桨的识别和运用

习题 10 下面两张图，一张是某股周 K 线图的一个片断，一张是某股日 K 线图的一个片断。现在请你指出两张图中箭头 A 所指的 K 线的名称、特征和它们在中图所起的不同作用。



(该股往后走势见图 62)

图 59



(该股往后走势见图 63)

图 60

参考答案 两张图中箭头 A 所指的 K 线都叫“长十字线”，其特征是开盘价和收盘价相同或基本相同，而上下影线特别长。长十字线是个转势信号，即它出现后，行情会发生逆转，原来的上升

基本图形		变化图形			

图 61

趋势会变成下跌趋势，原来的下跌趋势会变成上升趋势(见图 61)。在涨势中出现长十字线，尤其是股价有了一段较大涨幅之后出现，预示股价见顶回落可能性极大。在跌势中出现长十字线，尤其是股价有了一段较大跌幅之后，出现见底回升的可能性极大。总之，长十字线有较强的转势作用，对此投资者应高度重视。这里我们以图 59、图 60 为例作些分析。先看图 59 的走势，当该股在大幅

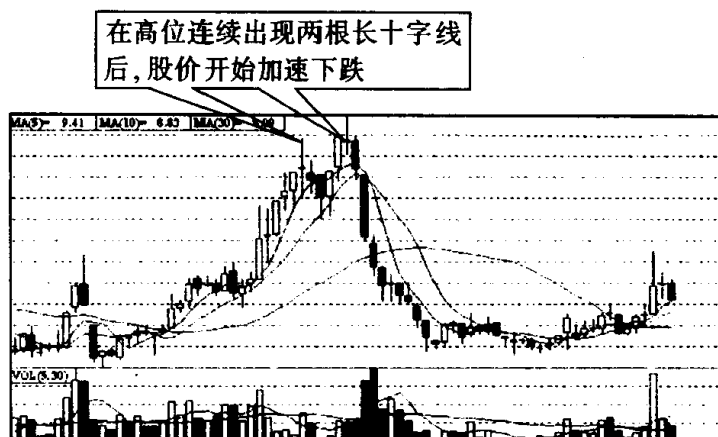


图 62

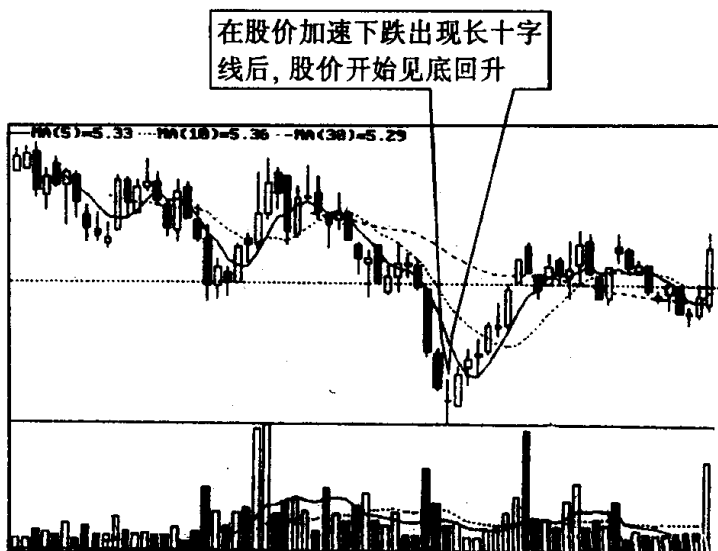
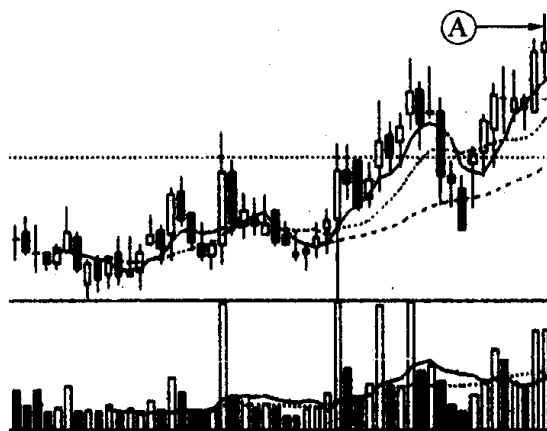


图 63

上扬后,周 K 线图上出现了第一根长十字线,之后,股价经过短暂回落,多方顽强地又将股价硬推了上去,但好景不长,很快又拉出了一根长十字线。接连出现的两根长十字线,彻底动摇了多方的信心,于是在空方打击下,多方阵营发生严重分化,多翻空、多杀多,大家都争相逃命,股价就像掉了线的风筝直线回落(见图 62)。再看图 60 的股价走势,当该股在逐波下探,特别是加速回落时,出现了一根长十字线,这是股价见底的信号。此时意味着空方打击力量已经耗尽,多方开始了强有力的反击(见图 63)。在历史上,沪深股市中有很多个股就是在股价大幅下挫拉出长十字线后,行情开始逆转的。通过这两个实例,大家知道在高位出现的长十字线和在低位出现的长十字线的作用是完全不同的,搞清楚这点,可以帮助我们更好地把握投资机会。

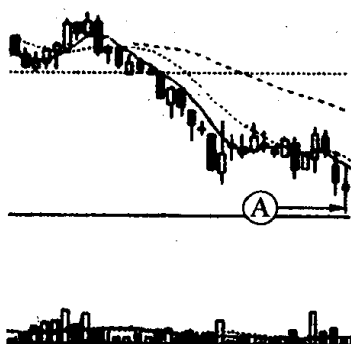
习题 11 图 64、图 65 中箭头 A 所指处是不是同一种 K 线?请说出它们的名称、特征和技术含义?

参考答案 上面两张图中箭头 A 所指处的 K 线是同一种 K 线,名叫“螺旋桨”。因为它中间的实体很小,上下影线很长,看上去就像飞机的螺旋桨,故名螺旋桨(见图 66)。这是一种转势信号。它在上升行情中,尤其是在有一段较大涨幅之后,螺旋桨所起的



(该股往后走势见图 67)

图 64



(该股往后走势见图 68)

图 65

作用是领跌(见图 67)。反之,在下跌行情中,尤其是有一段较大跌幅之后,螺旋桨所起的作用是领涨(见图 68)。这里需要说明的是,螺旋桨既可以阴线形式出现也可以阳线形式出现,两者并无实质区别,不过一般认为在上涨行情中,螺旋桨是阴线,则比阳线力量要大,而在下跌行情中,情形正好相反。值得注意的是,螺旋桨和长十字线很容易混淆。它们的区别是长十字线中间是一根横线,而螺旋桨中间是个短小的实体。螺旋桨和长十字线技术含义相同,都是一种转势信号。但螺旋桨的转势信号比长十字线表现得更为强烈。例如图 69 是沪市中一个较老的股票,上市 3 个月后就 在月 K 线上出现了螺旋桨 K 线组合,之后股价就走上了漫漫熊途,长达数年之久。这足以见得螺旋桨对股价走势的重大影响。

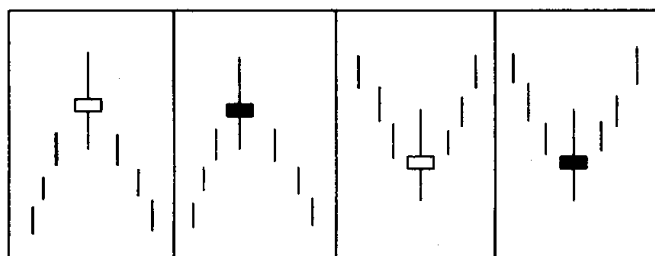


图 66

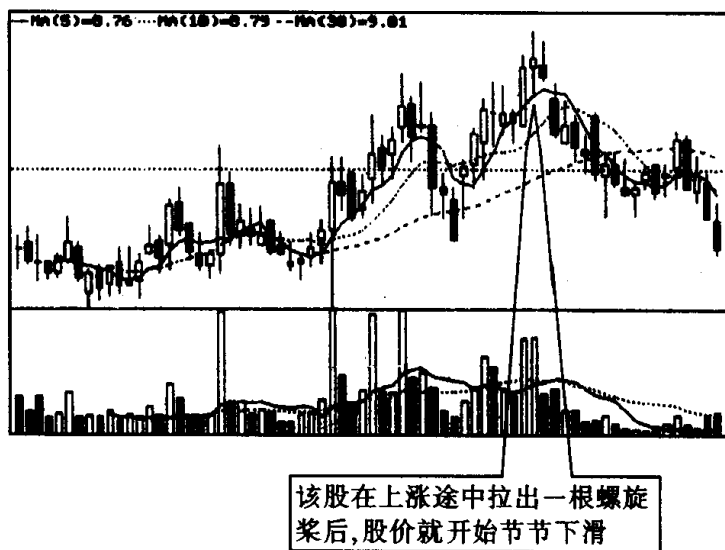


图 67

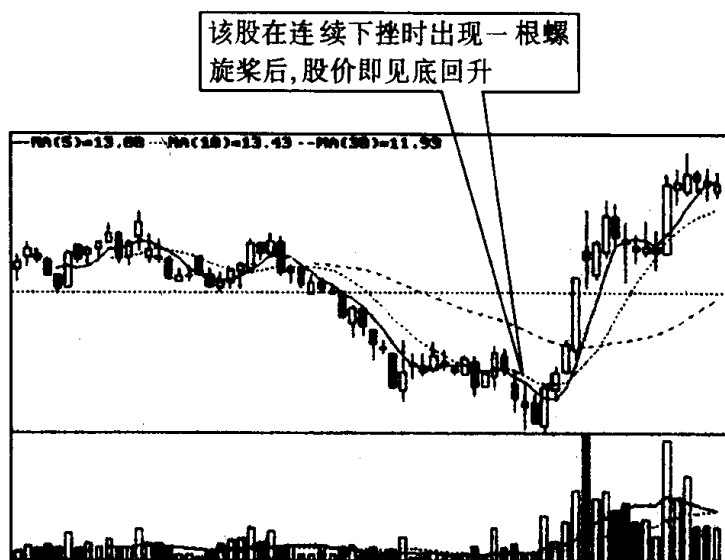


图 68

这是二纺机 1990 ~ 1996 年月 K 走势图。图中清楚地表明在高位出现螺旋桨后，股价就此走上了漫漫熊途

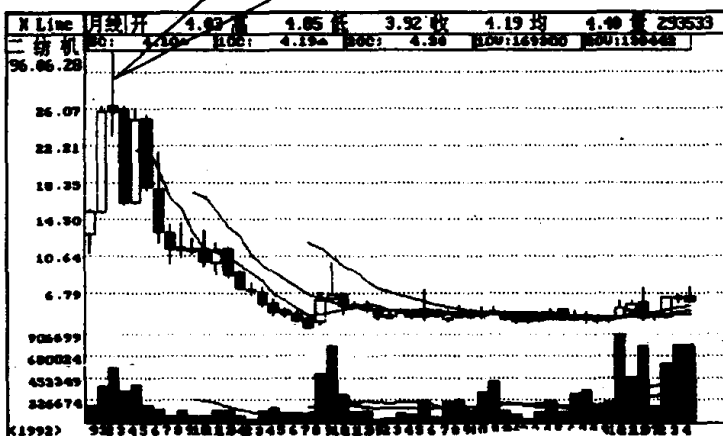
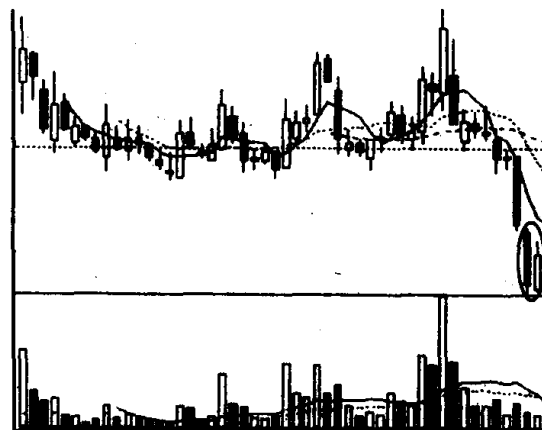


图 69

第八节 曙光初现与乌云盖顶的识别和运用

习题 12 指出图中画圈处的 K 线组合的名称、特征和作用，并



(该股往后走势见图 72)

图 70

说明投资者见此 K 线图形应如何操作？

参考答案 图中画圈处的 K 线组合叫“曙光初现”。其特征是：在连续下跌行情中先出现一根大阴线或中阴线，然后接着出现一根大阳线或中阳线，阳线的实体深入到前一根阴线实体的二分之一以上处(见图 71)。曙光初现，顾名思义是指黑夜已经过去，黎明即将来临。从技术上来说，该 K 线形态出现后，暗示股价已经沉底或已到了阶段性底部，股价见底回升的可能性很大(见图 72)。因此投资者见此图形可考虑买进一些股票，适量做多。

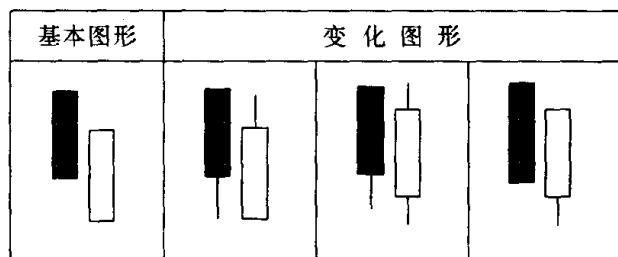


图 71

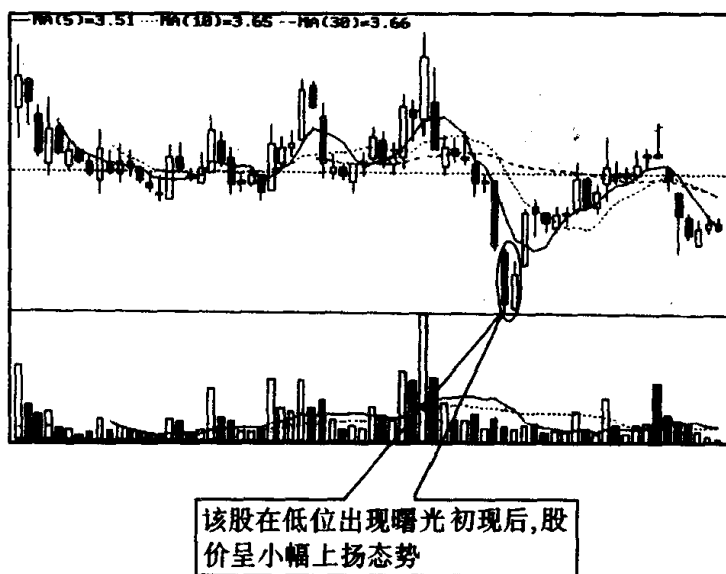
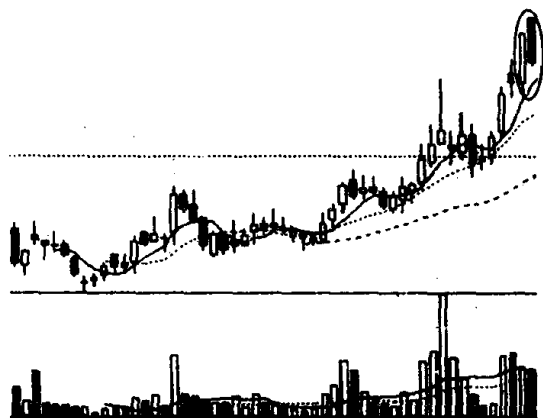


图 72

习题 13 图中画圈处是什么 K 线组合？它有何特征？当出现这个 K 线图形后市场会向什么方向发展？



(该股往后走势见图 75)

图 73

参考答案 图中画圈处的 K 线组合叫“乌云盖顶”。其特征是:在上涨行情中,出现一根中阳线或大阳线后,第二天股价跳空高开,但没有高走,反而高开低走,收了一根中阴线或大阴线,阴线的实体已经深入到第一根阳线实体的二分之一以下处(见图 74)。这预示股价上升势头已尽,一轮跌势即将开始。投资者见到此 K 线图形,应警觉市况有变,以抛售出局为宜。如图 75 在一轮上升行情末端出现乌云盖顶后,股价就一路下跌。乌云盖顶在沪深股市中出现频率较高。下面我们再来看两个实例:图 76 是西安旅游(0610)1997 年 10 月 30 日~1998 年 2 月 26 日的日 K 线走势图。图中画圈处是乌云盖顶,在这之后股价就一路下行。图 77 是鞍山信托(600816)1996 年 10 月~1998 年 4 月周 K 线走势图。图中画

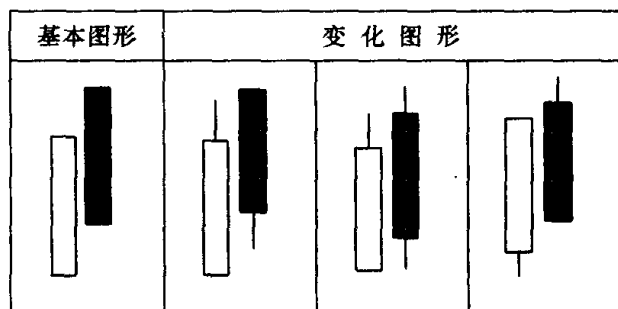


图 74

圈处是乌云盖顶，在这之后，股价持续走低。

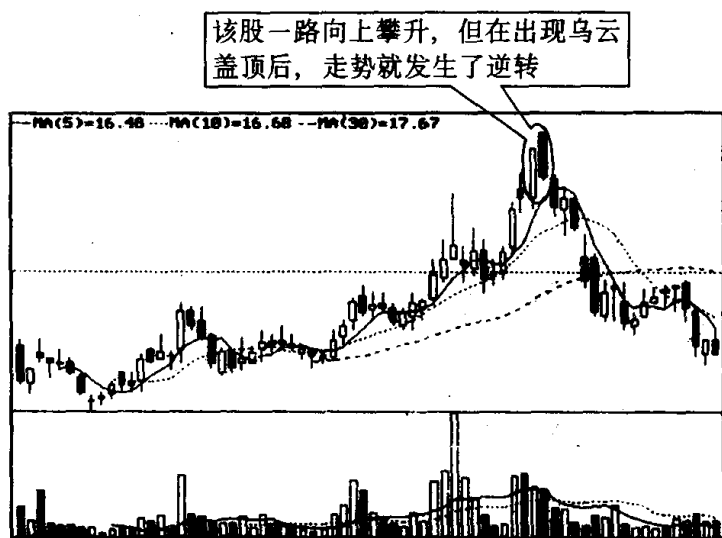


图 75

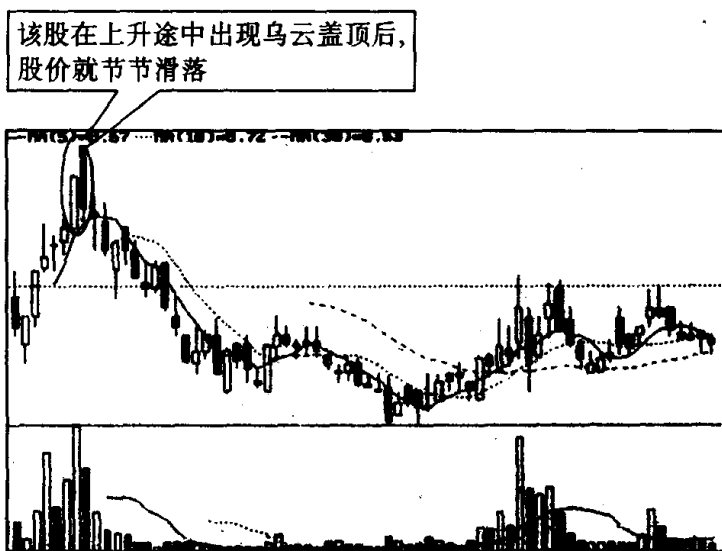


图 76

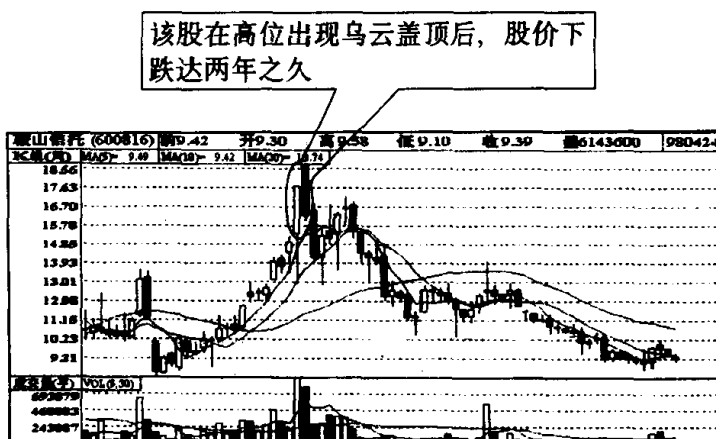
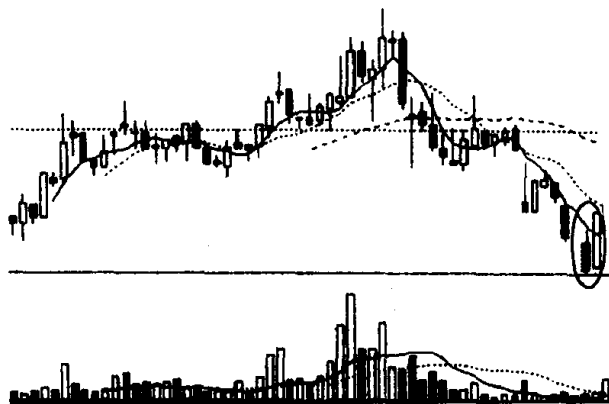


图 77

第九节 旭日东升与倾盆大雨的识别和运用

习题 14 说出图 78 画圈处的 K 线组合的名称、特征和技术含义，并说明投资者见此 K 线组合图形应如何操作？



(该股往后走势见图 80)

图 78

参考答案 图 78 画圈处的 K 线组合叫“旭日东升”。其特征是：在连续下跌的行情中先出现一根大阴线或中阴线，然后接着出

现一根高开高收的大阳线或中阳线(见图 79)。阳线的收盘价已高于前一根阴线的开盘价,这说明股价经过连续下挫,空头能量已释放殆尽。在空方无力再继续打压时,多方奋起反抗,并旗开得胜,股价高开高走,前景又开始变得光明起来。故这种 K 线组合,人们给它起名为旭日东升,意即前景光明,后市看好。投资者见此图形,不宜继续看空做空,而要转变思维,逢低吸纳,适时做多(见图 80)。

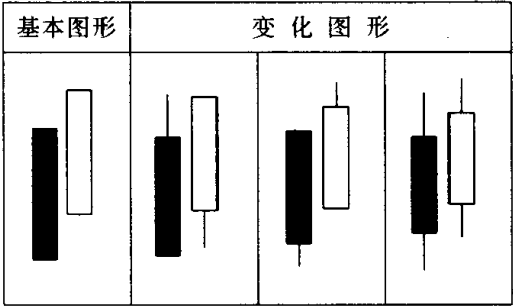


图 79

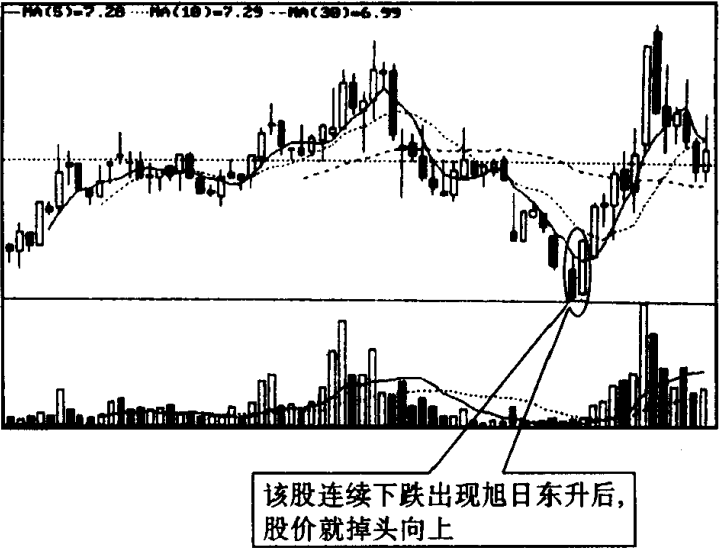
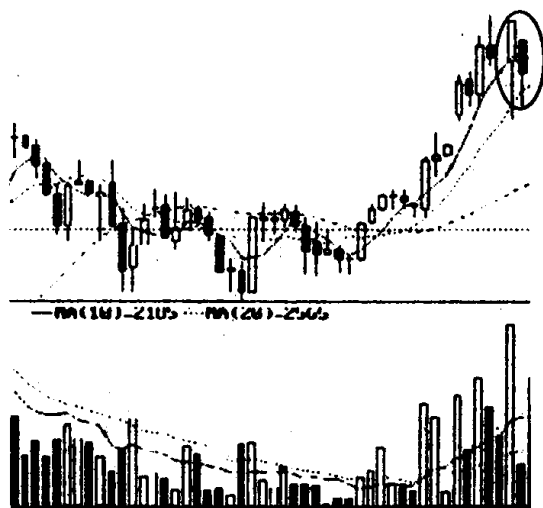


图 80

习题 15 图 81 中的个股昨天收了一根有较长下影线的中阳线,今天股价跳低开盘收了一根带有下影线的中阴线。请问这一

阳一阴的 K 线组合叫什么名称？其特征和技术含义是什么？投资者见此 K 线组合图形应如何操作？



(该股往后走势见图 83)

图 81

参考答案 这一阳一阴的 K 线组合叫“倾盆大雨”。其特征是：在股价有了一段升幅之后，先出现一根大阳线或中阳线，接着出现了一根低开低收的大阴线或中阴线。其收盘价已比前一根阳线的开盘价要低（见图 82）。倾盆大雨，顾名思义当这种 K 线形态出现，股市就要遭到暴雨袭击了（见图 83）。因此投资者见此图形，应及早退出观望。为什么这种 K 线组合出现，形势对多方极为不利呢？关键在于今天这根低开低收的阴线使多方信心受到了极大的打击。低开，说明人们已不敢追高，而想低价出售股票的投资者却大有人在；低收，更是明明白白反映了市场看淡该股的大众心理。这种 K 线组合出现，如伴有成交量，形势则更糟糕。故很多有经验的投资者见此图形，第一个反应就是减磅操作。当然，并不是说这个图形出现后，股价就非跌不可，这中间也不排斥庄家利用此招进行中途洗盘，为日后股价上升夯实基础。但是总的说来，这种情况发生的机会很少。其原因很可能是：一来庄家用这种方法洗盘，把技术形态搞坏，本身就要冒洗盘没有洗成反而遭来更大的

抛盘,促使股价快速下跌,把自己套住的风险;二来即使庄家洗盘,也大多数是发生在股价涨升初期,一般不会发生在股价已有了相当升幅之后。所以,我们在涨势中,尤其在股价涨了很多之后看到这种图形,从规避风险出发,还是减磅操作为好。一旦发现在这之后,股价重心仍在下移,就坚决抛空离场。

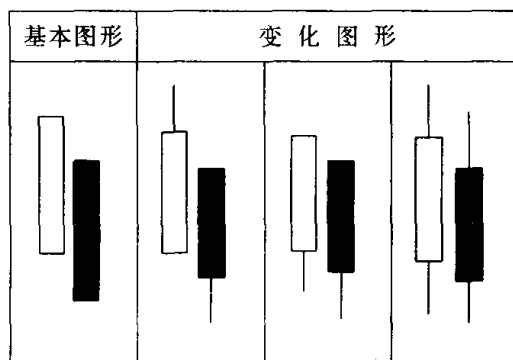


图 82

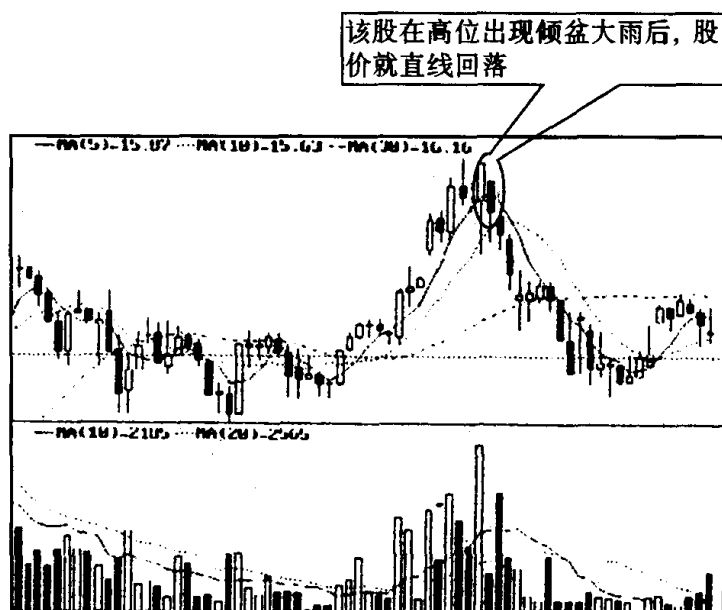
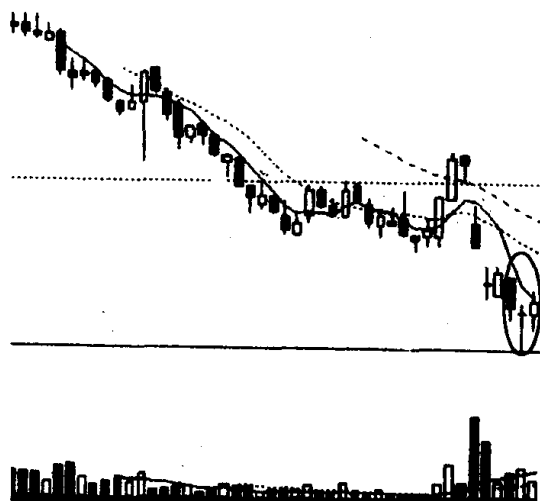


图 83

第十节 早晨十字星与黄昏十字星的识别和运用

习题 16 指出图中画圈处的 K 线组合的名称、特征和技术含义,并说明投资者见此 K 线组合图形应如何操作?



(该股往后走势见图 86)

图 84

参考答案 图中画圈处 K 线组合叫“早晨十字星”,又称希望十字星。早晨十字星通常出现在股价连续下挫的过程中,它由 3 根 K 线组成,第一根 K 线为阴线,第二根 K 线是十字线,第三根 K 线为

基本图形	变化图形		

图 85

阳线。第三根 K 线即阳线收盘价,已深入第一根 K 线即阴线实体之中。阳线深入阴线实体部分越多,信号就越可靠(见图 85)。早晨十字星的技术含义是:股价经过大幅回落后,做空能量已大量释放,股价无力再创新底,呈现底部回升态势,这是较明显的大市转向信号(见图 86)。投资者见此信号,再结合其他技术指标,可考虑适量买进。

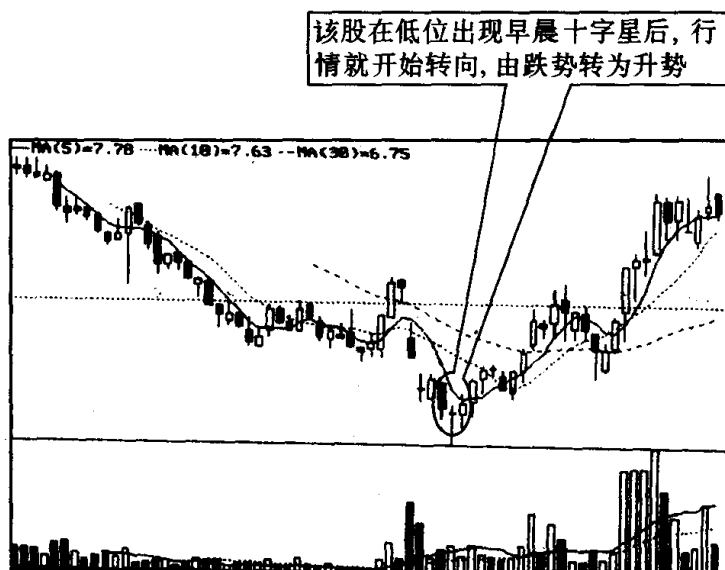
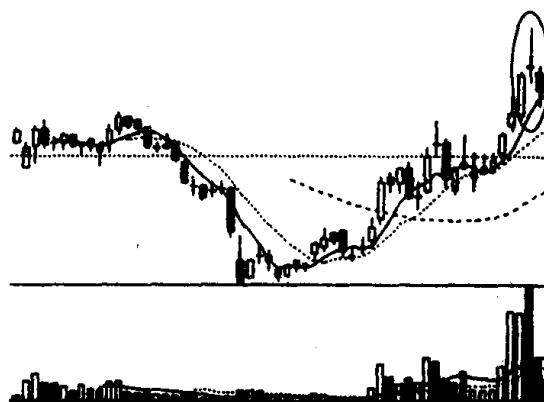


图 86

习题 17 下图画圈处 K 线图形使投资者看了很不舒服,因而



(该股往后走势见图 89)

图 87

人们给它起了个混名。你知道它叫什么吗？该 K 线组合出现，常常预示行情会朝哪个方向发展，请你举些实例说明。

参考答案 图 87 中画圈处的 K 线形态叫“黄昏十字星”。其特征是：股价经过一段时期上涨后，出现向上跳空开盘，开盘价与收盘价相同或非常接近，而且留有上下影线，形成一颗“十字星”，接着第 2 天跳空拉出一根下跌的阴线，这就构成了黄昏十字星（见图 88）。它的出现表明股价已经见顶或离顶部不远，股价将由强转弱，一轮跌势将不可避免（见图 89）。此时投资者应离场出局为妙。这里我们再来举一个例子。图 90 是安凯客车（0868）1997 年 7 月至 1998 年 8 月的周 K 线走势图，从图中可以发现在 1998 年 5、6 月

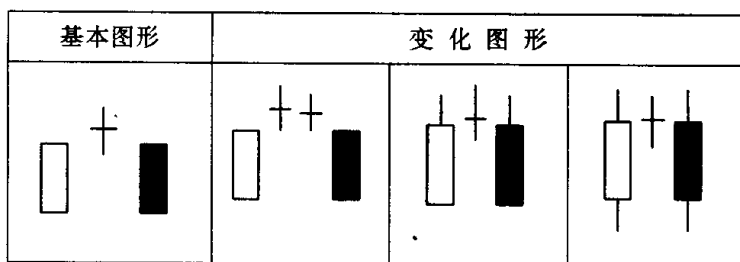


图 88

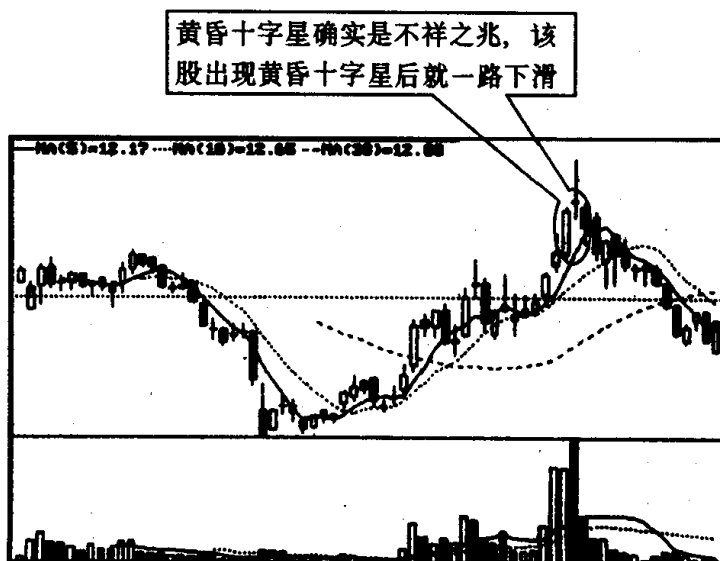


图 89

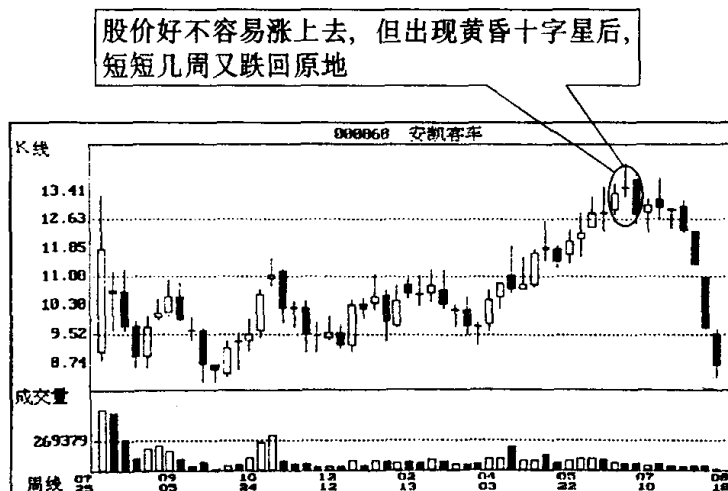
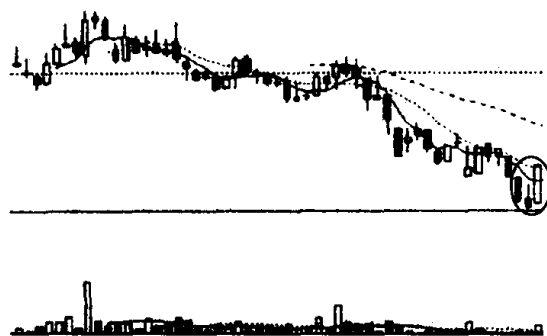


图 90

份拉出黄昏十字星后，随之股价就一落千丈。可见投资者对在高位出现的黄昏十字星的杀伤作用不可小视。否则很容易吃大亏。

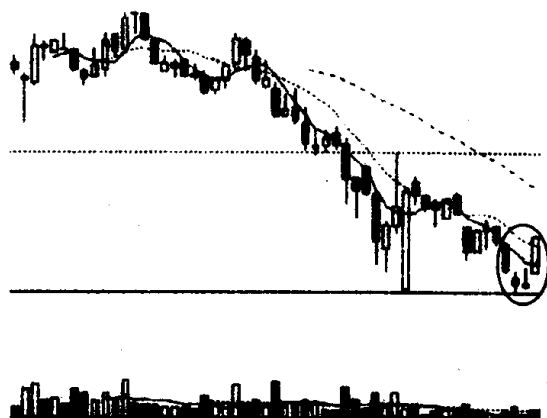
第十一节 早晨之星与黄昏之星的识别和运用

习题 18 指出图 91、图 92 画圈处 K 线组合的名称、特征和技术含义，并说明投资者见此 K 线组合图形应如何操作？



(该股往后走势见图 94)

图 91



(该股往后走势见图 95)

图 92

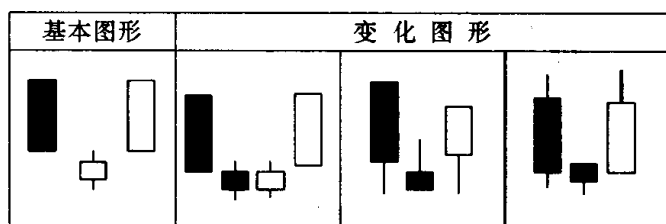


图 93

该股在低位出现早晨之星后，形势发生了逆转，出现飚升行情

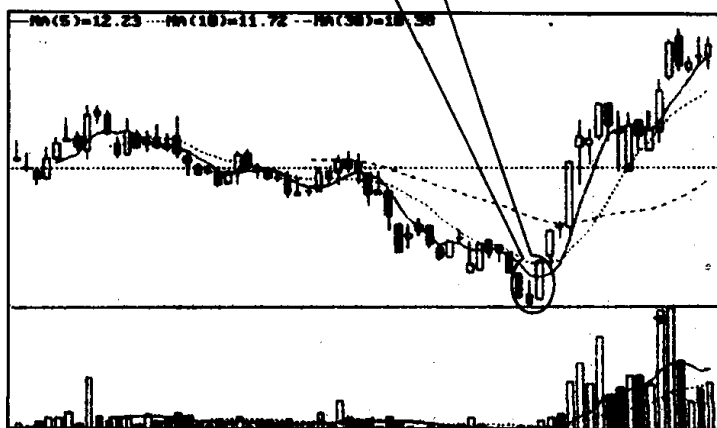


图 94

参考答案 图91、图 92 画圈处的 K 线组合叫“早晨之星”，又称希望之星。早晨之星的特征是：由 3 根 K 线组成。在下跌过程中，先出现一根中阴线或大阴线，第二天出现了一根低开的小阳线(亦可以是小阴线)，随后市场转跌为升，出现了一根中阳线或大阳线(见图 93)。早晨之星的技术含义和早晨十字星相同，都是一种见底回升信号(见图 94、图 95)。投资者见此信号，可考虑适量买进。

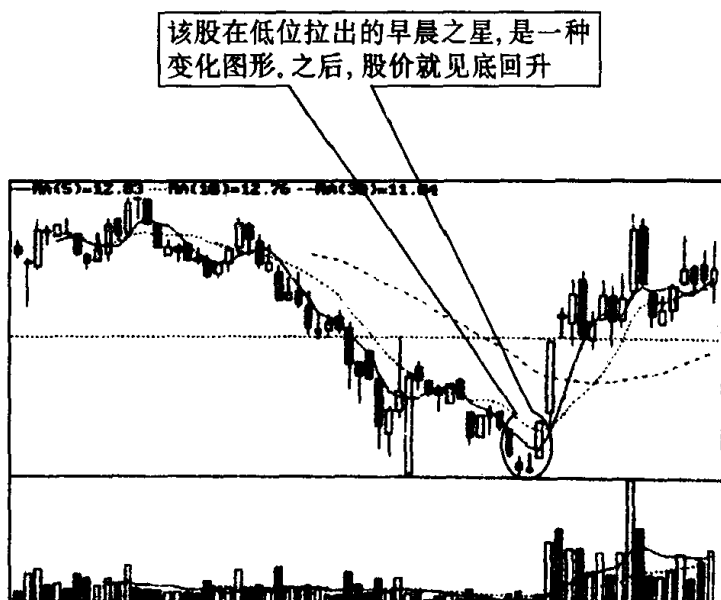
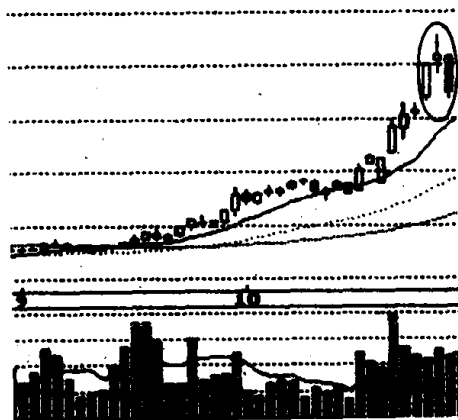


图 95

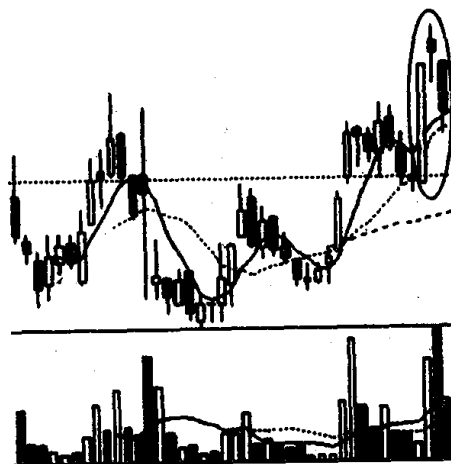
习题 19 图 96、图 97 画圈处的 K 线组合分别由 3 根 K 线组成。它们形状类似, 但第二根 K 线, 一根是阳线, 一根是阴线。请问它们是不是同一种 K 线, 性质有何不同? 你看见这种 K 线组合图形应如何操作?

参考答案 这两种 K 线组合均属同一品种, 性质并无什么不同, 是股市中常见的一种 K 线组合, 名叫“黄昏之星”。黄昏之星由 3 根 K 线组成, 第一根 K 线是一根实体较长的阳线; 第二根 K 线是实体较短的 K 线(阴线、阳线均可, 但阴线的下跌力度要强于阳线), 人们将它喻之为“星”, 这是 K 线组合中的主体部分; 第三根 K



(该股往后走势见图 99)

图 96



(该股往后走势见图 100)

图 97

基本图形	变化图形		

图 98

线是一根实体较长的阴线,它深入到第一根 K 线实体之内(见图

98)。黄昏之星是股价见顶回落的信号(见图 99、图 100)，预测股价下跌可靠性较高，有人统计在 80% 以上。因此投资者遇此 K 线组合，不宜再继续买进，应考虑及时减仓，并随时做好停损离场的准备。

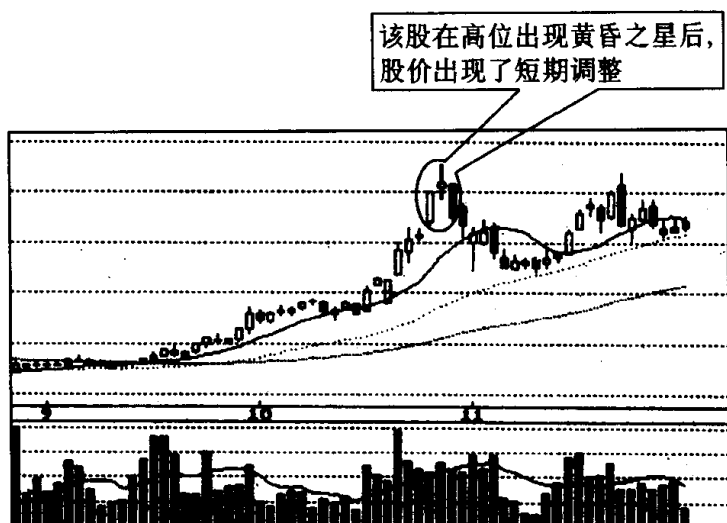


图 99

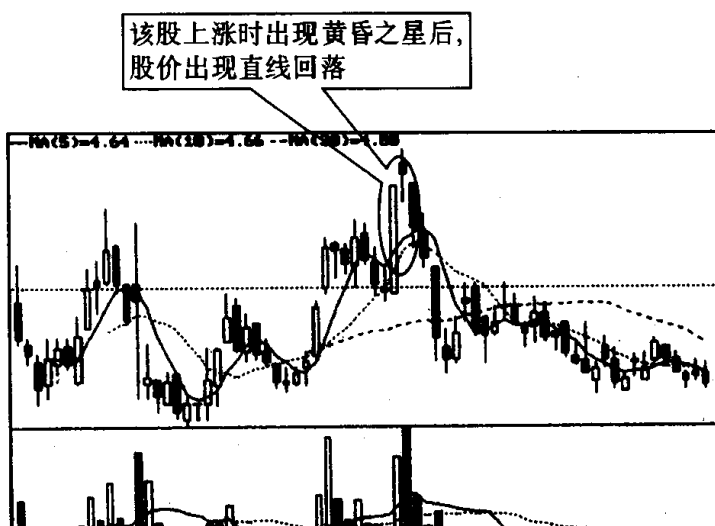


图 100

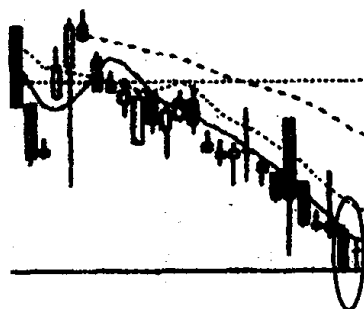
第十二节 身怀六甲与穿头破脚的识别和运用

习题 20 下面两张图中画圈处都属于同一种 K 线组合,但图 102 与图 101 稍有差别,因此图 102 还有个雅称。请问,该 K 线组合和图 102 的雅称是什么?它们有何特征、技术上有何含义?投资者见此 K 线组合图形应如何操作?



(该股往后走势见图 106)

图 101



(该股往后走势见图 107)

图 102

参考答案 上面两张图的画圈处 K 线组合叫“身怀六甲”,又名母子线、孕线。之所以起名为身怀六甲,是因为该 K 线形态的外观好像一个孕妇在怀着小宝宝的模样。图 102 中第二根 K 线是个十字线,因此人们又给它起了个雅号,为底部十字胎^[注1]。

身怀六甲的特征是:它必须由一根较长的 K 线和一根较短的 K 线组成。前面一根较长的 K 线的实体部分完全“吞噬”或“包容”

【注 1】 十字胎分两种:出现在底部,叫底部十字胎;出现在顶部,叫顶部十字胎。

了后面那根较短的 K 线^[注2](见图 103)。如果身怀六甲中较短的 K 线是一根十字线,我们就称它为十字胎(见图 104)。在日本的 K 线技术分析理论中,身怀六甲被视为一种“警告”或“提示”信号,或者说是一种准市场逆转信号。如果身怀六甲出现于升势市场中,它就是在警告人们:目前市场继续将股价向上推高的力量已经减弱,多头行情已接近尾声,继之而来的很可能就是下跌行情(见图 105)。如果身怀六甲出现在下跌市场中,就是在提醒人们:目前市场下跌的势头已趋缓,股价可能见底回升,或者继续下跌空间已很小,市场正积蓄力量,等待机会向上突破或反转(见图 106、图 107)。值得注意的是身怀六甲所提示的买卖信号,只是“准市场逆转信号”,也就是说,在一个强劲的多头市场中,上升时出现身怀六甲股

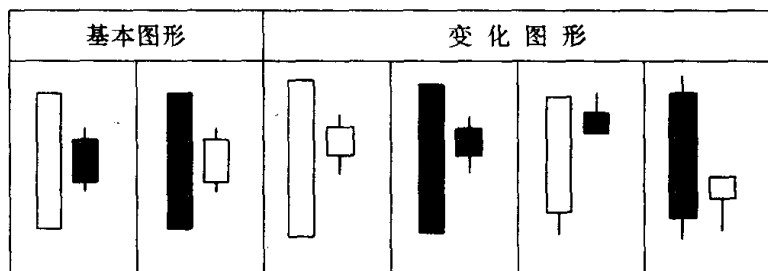


图 103

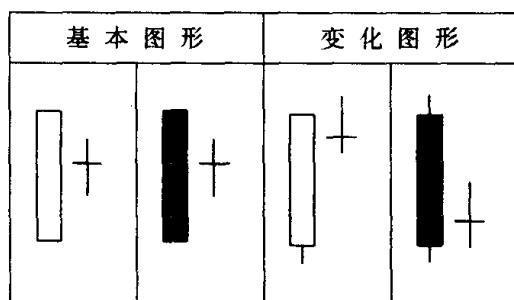


图 104

【注2】 身怀六甲 K 线理论来自海外。对身怀六甲前面一根较长的 K 线完全包容后面一根较短的 K 线,海外技术派人士有两种看法:一种认为完全包容不光是指 K 线实体还应该包括上下影线;另一种认为完全包容只要将 K 线实体完全包住即可,上下影线稍微出头一点也无妨。我们分析了沪深股市历年来的 K 线图形,觉得后一种看法比较符合实际情况。

价并不会马上见顶，仍会继续上涨；反之，在一个空头力量十分强大的市场中，下跌时出现身怀六甲，股价不会马上见底，仍会继续下滑。出现这种情况，也就是人们通常说的“涨要涨过头，跌要跌

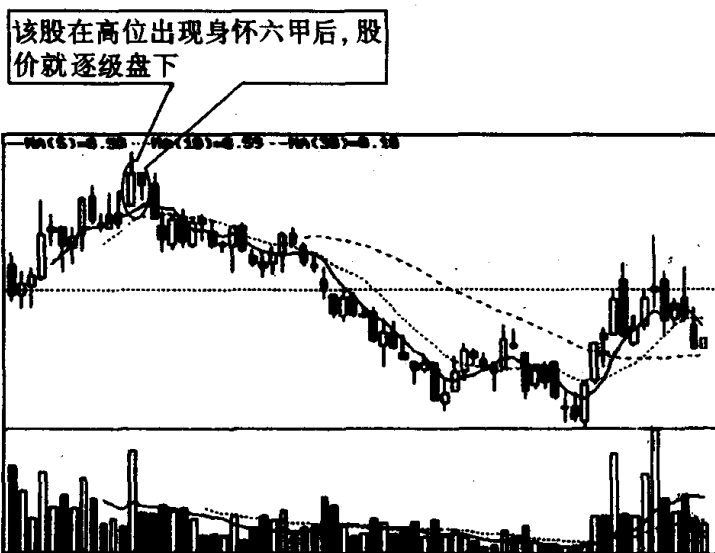


图 105

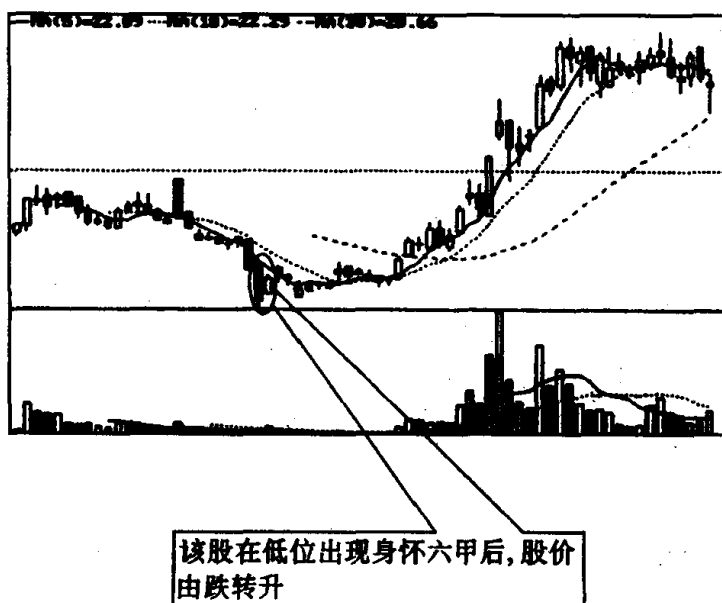


图 106

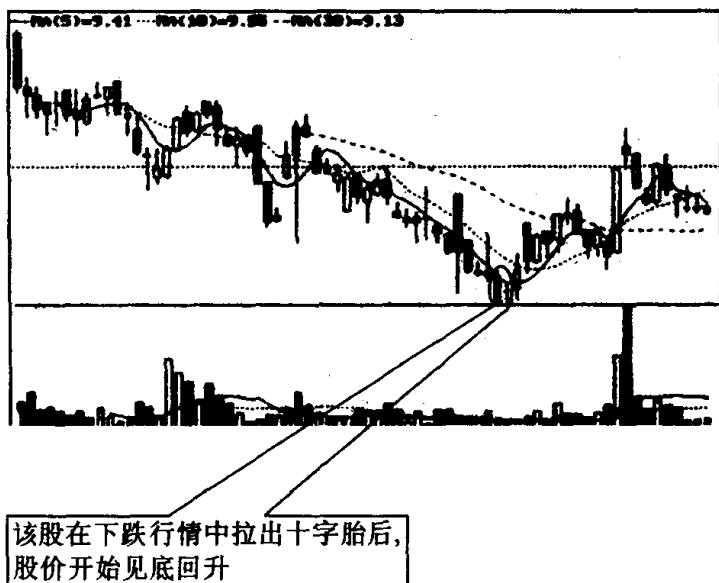
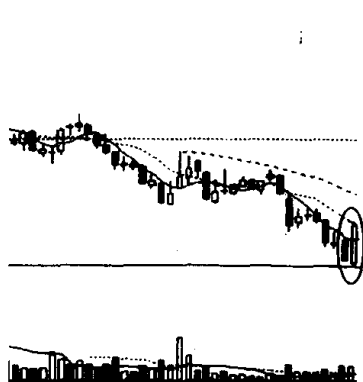


图 107

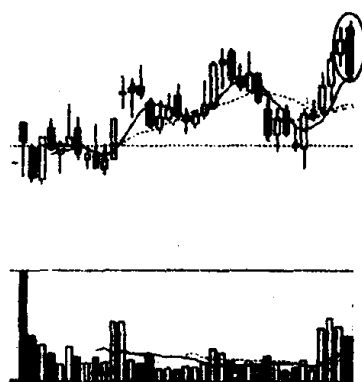
过头”。因此，投资者在极强或极弱的市场或个股中看到身怀六甲 K 线组合后，不要马上作出买进卖出的决定，可继续留心观察，并结合其他技术指标进行综合分析后，再作定夺。

习题 21 指出下面两张图中画圈处 K 线组合的名称、特征及技术含义，并说明该 K 线组合在什么情况下，其所显示的信号力



（该股往后走势见图 112）

图 108



（该股往后走势见图 113）

图 109

度会大大增强。

参考答案 上面两张图画圈处 K 线组合叫“穿头破脚”，意即第二根 K 线将第一根 K 线从头到脚全部穿在里面了。穿头破脚有两种形态，一种是在底部出现；一种是在顶部出现。底部穿头破脚的特征是：(1)在下跌趋势中出现。(2)第二根 K 线，即阳线的长度必须足以吞吃掉第一根 K 线即阴线的全部(上下影线不算)(见图 110)。顶部穿头破脚的特征是：(1)在升势中出现。(2)第二根 K 线，即阴线的长度必须足以吞吃掉第一根 K 线即阳线的全部(上、

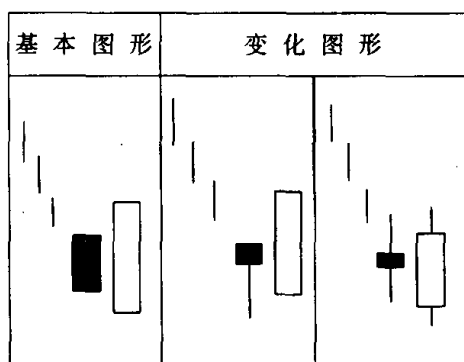


图 110

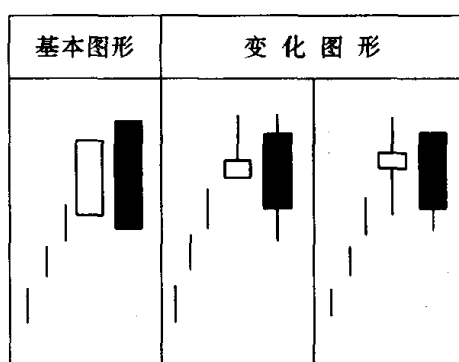


图 111

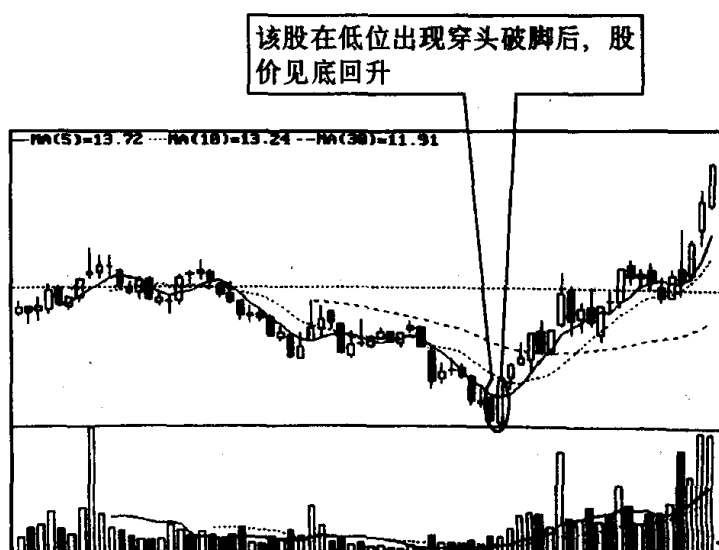


图 112

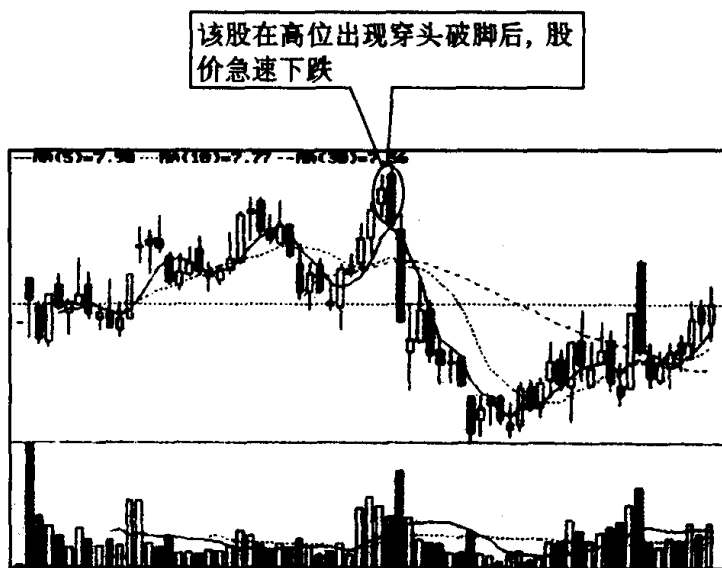


图 113

下影线不算)(见图 111)。从技术上来说,底部穿头破脚是股价止跌回升的信号(见图 112)。顶部穿头破脚是股价见顶回落的信号(见图 113)。一般说来,无论是底部,还是顶部的穿头破脚,都是一种转势信号,即由原来的跌势转为升势,或由原来的升势转为跌势。通常这种转势信号的强烈,与下面的因素有关:(1)穿头破脚两根 K 线的长度越悬殊,转势的力度就愈强。(2)第二根 K 线包容前面的 K 线愈多,转势机会就越大。

第十三节 平底与平顶的识别和运用

习题 22 图 114~图 117 画圈处的 K 线组合是不是同一类型? 它叫什么名称? 其特征和含义是什么? 投资者见到此 K 线组合图形应如何操作?

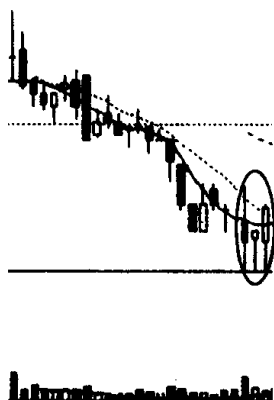
参考答案 图 114~图 117 画圈处的 K 线组合属于同一品种,名叫“平底”,又称钳子底。其特征是在下跌行情中,当某根 K 线的



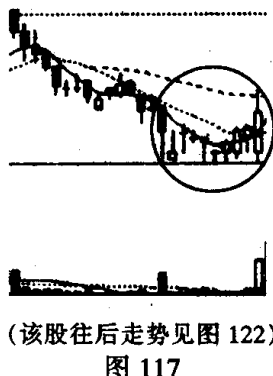
(该股往后走势见图 119)
图 114



(该股往后走势见图 120)
图 115



(该股往后走势见图 121)
图 116



(该股往后走势见图 122)
图 117

最低价位(包括下影线在内),与后一根或几根邻近的 K 线的最低价位处在同一水平位置上时,就构成了平底(见图 118)。平底是见底回升的信号(见图 119~图 122)^[注]。如果它出现在较大跌势之后,所提示的股价反转的可能性就很大。投资者见到此 K 线形态,可考虑适量买进。

【注】 图 119~图 122 中的平底(见画圈处)由两根 K 线构成,也由 3 根 K 线构成,甚至由更多的 K 线构成,但它们技术含义是一样的,都是见底回升的信号。

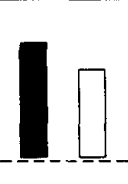


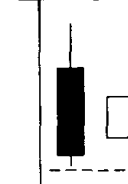

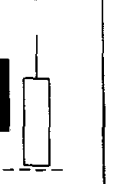
基本图形		变 化 图 形			
					

图 118

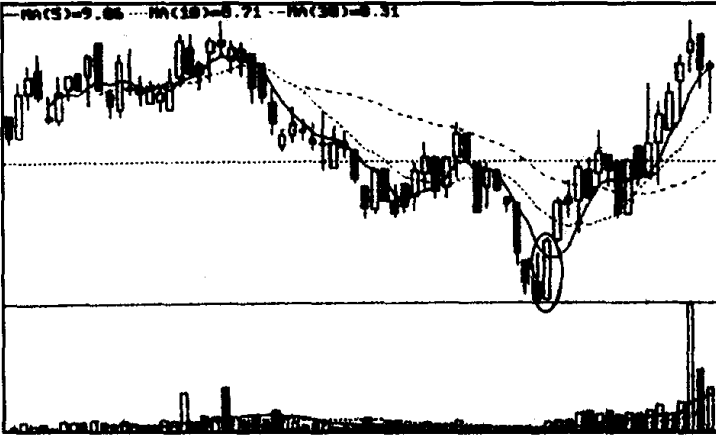


图 119

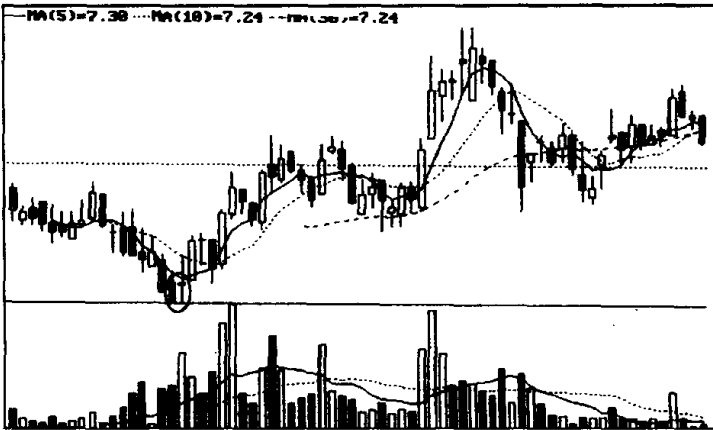


图 120

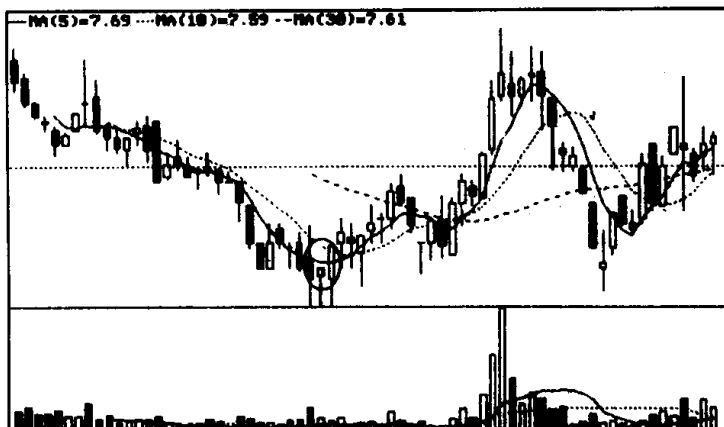


图 121

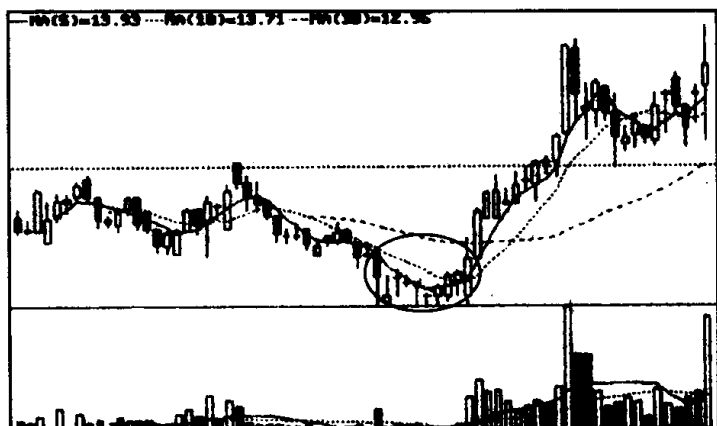
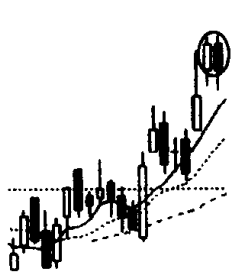


图 122

习题 23 指出图 123～图 125 画圈处 K 线组合的名称、特征和技术含义,并说明投资者见此 K 线组合图形应如何操作?

参考答案 图 123～图 125 画圈处的 K 线组合叫“平顶”,又称钳子顶。平顶形成于涨势市场中,当某根 K 线的最高价位(包括上影线在内),与后一根或几根邻近的 K 线最高价位相同时,就构成了平顶(见图 126)。平顶是市场逆转信号,它预示股价见顶回落的可能性很大(见图 127、图 128)。平顶有时也可能和穿头破脚、吊颈线、射击之星等其他形态同时出现(见图 129、图 130)。如果是这样,则股价下跌的可能性就更大。此时,投资者只有“三十六计,走为上计”,赶

快躲开这个是非之地。



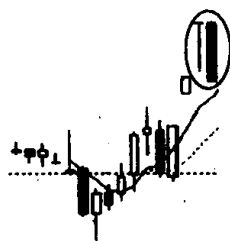
(该股往后走势见图 127)

图 123



(该股往后走势见图 128)

图 124



(该股往后走势见图 129)

图 125

基本图形		变 化 图 形			

图 126

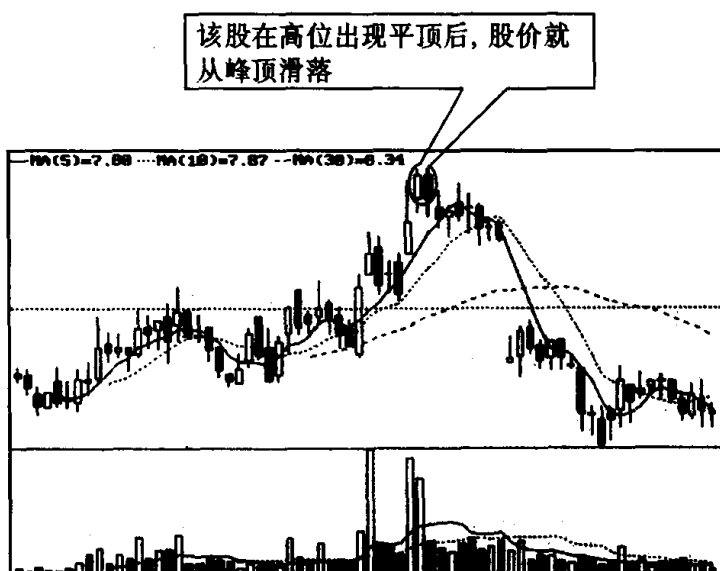


图 127

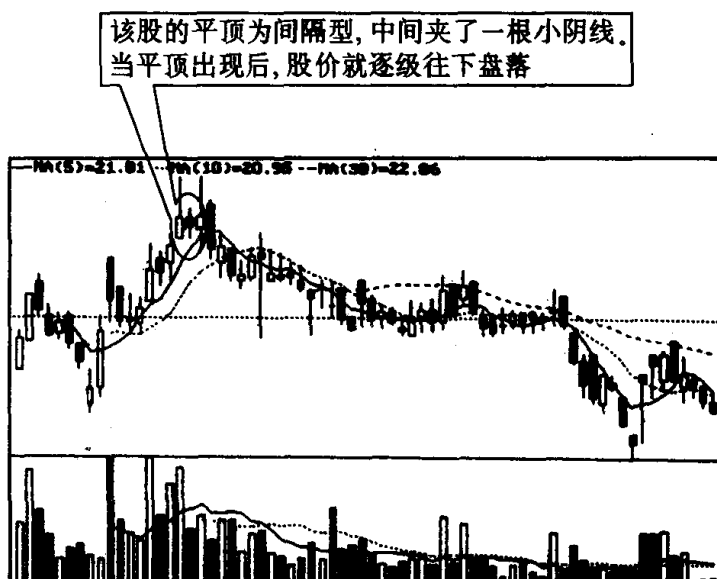


图 128

说明：下面两幅图画圈处都包括两组 K 线形态。图 129 画圈处既是平顶，同时又是 T 字线；图 130 画圈处既是平顶，又是乌云

盖顶。平顶、T 字线、乌云盖顶都是见顶信号。这两幅图中的个股就是在它们的合力作用下,股价出现了大幅下跌。

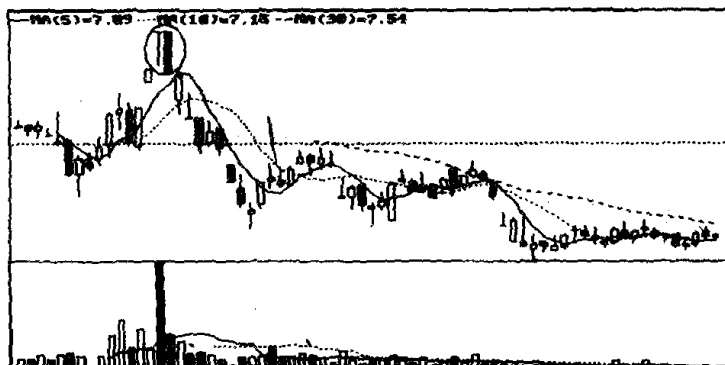


图 129

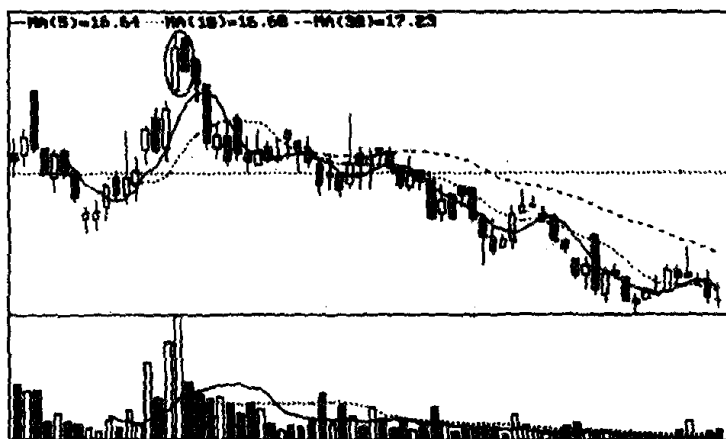
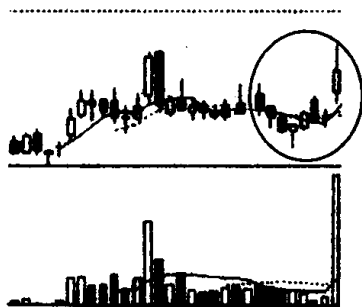


图 130

第十四节 圆底与圆顶的识别和运用

习题 24 指出图中画圈内 K 线形态的名称、特征和技术含义,并说明投资者见此 K 线图形应如何操作?



(该股往后走势见图 133)

图 131

参考答案 图中画圈处的 K 线形态叫“圆底”。这里所说的圆底与传统图形分析方法中的圆底略有不同。它必须满足以下几个条件：(1)股价形成一个圆弧底。(2)圆弧内的 K 线多为小阴小阳

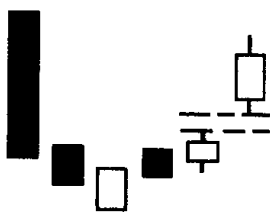
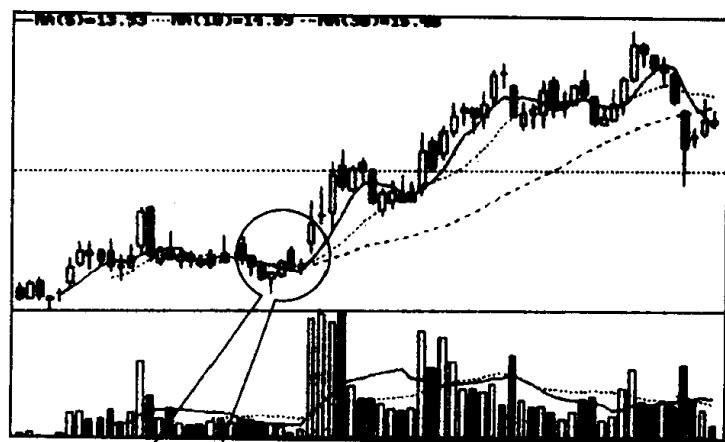


图 132

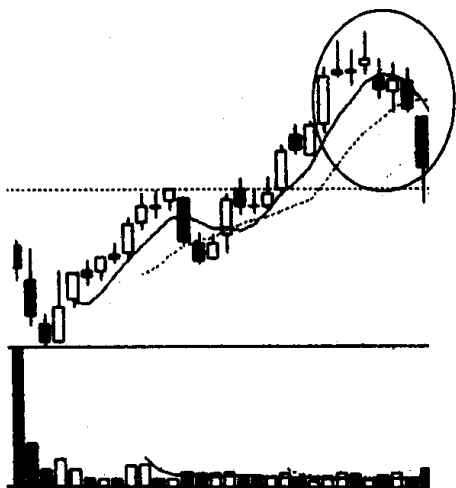


该股在构筑圆底 K 线组合图形后，股价就一路向上

图 133

线。(3)最后以上升缺口来确认圆底形态的成立(见图 132)。股价在下跌或横向整理时,出现圆底 K 线形态,表示市场做空力量已大大减弱,后市很有可能转为升势(见图 133)。因此,投资者见此 K 线形态应考虑适量买进。

习题 25 指出图中画圈处的 K 线组合的名称、特征和技术含义,并说明投资者见此 K 线组合图形应如何操作?



(该股往后走势见图 136)

图 134

参考答案 图中画圈处的 K 线组合叫“圆顶”。这里的圆顶与传统图形所说的圆顶略有差异。它必须满足以下几个条件:(1)股价形成一个圆弧顶。(2)圆弧内的 K 线多为小阴小阳线。(3)最后以下跌缺口来确认圆顶形态成立(见图 135)。圆顶的技术含义是:股价在上涨或横向整理时出现圆顶 K 线组合,表示多方已无力推

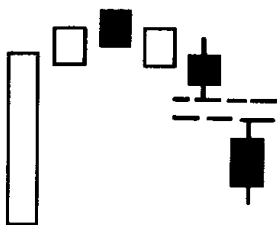


图 135

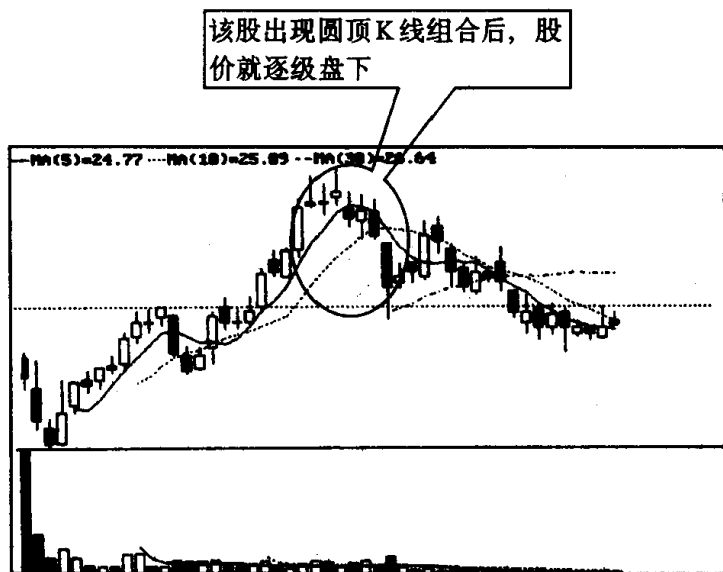
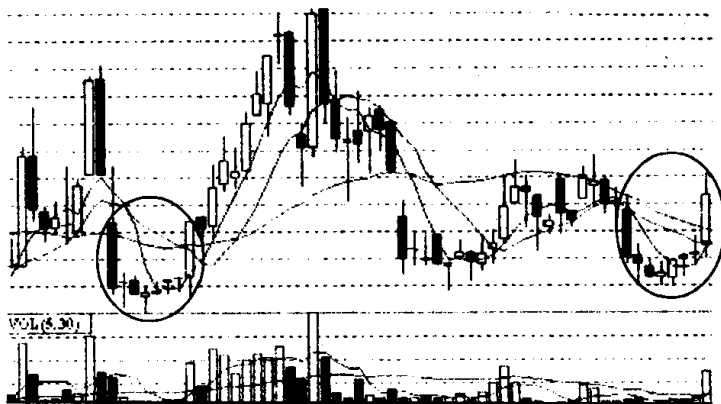


图 136

高股价，后市很有可能转为跌势(见图 136)。因此，投资者见此 K 线组合应早作退场准备。

第十五节 塔形底与塔形顶的识别和运用

习题 26 指出图中画圈处 K 线组合的名称、特征和作用，并



(该股往后走势见图 139)

图 137

说明投资者见此 K 线组合图形应如何操作？

参考答案 图中画圈处 K 线组合叫“塔形底”。因其形状像一个倒扣的塔顶，故命名为塔形底。塔形底是见底回升信号。它的特征是：在一个下跌行情中，股价在拉出长阴线后，跌势开始趋缓，出现了一连串的小阳、小阴线，随后窜出一根大阳线，此时升势确立（见图 138）。一般来说，股价在低位形成塔形底后，如若有成交量配合，往往会有一段较大的涨势出现（见图 139）。因此，投资者见此图形应抓准机会，跟进做多。



图 138

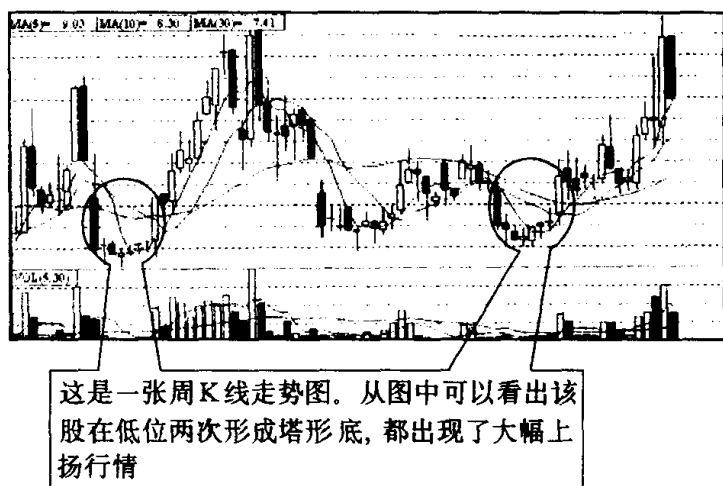
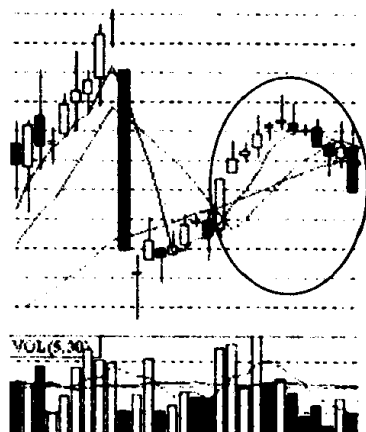


图 139

习题 27 图 140 是深市中某股周 K 线图的一个片段。请你指出图中画圈处 K 线组合的名称、特征和技术含义，并说明投资者见此 K 线图形应如何操作？

参考答案 图 140 画圈处叫“塔形顶”。其特征是：在上升时首先拉出一根较有力度的大阳线或中阳线，然后出现一连串向上攀升的小阳线（偶尔夹有 1、2 根小阴线也可），之后上升速度减缓，



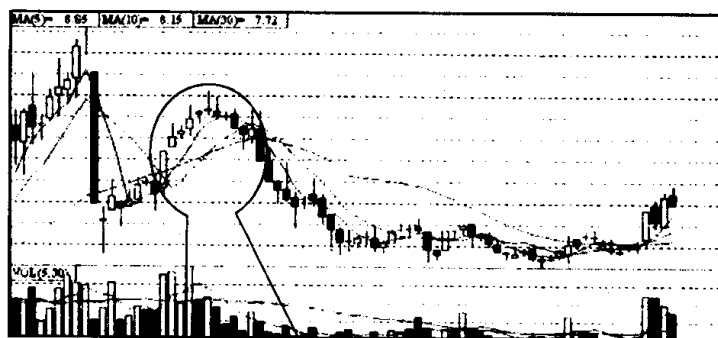
(该股往后走势见图 142)

图 140

接着出现一连串向下倾斜的小阴线(偶尔夹有 1、2 根小阳线也可),最后出现一根较有力度的大阴线或中阴线。至此,塔形顶就完成



图 141




这是一张周K线走势图,从图中可看出该股在出现塔形顶后,就一蹶不振

图 142

了(见图 141)。塔形顶出现,表明行情开始转向(见图 142)。投资者如遇此 K 线图形应及时作离场处理,避免股价继续下跌带来的风险。

第十六节 红三兵与黑三兵的识别和运用

习题 28 指出图中画圈处的 K 线组合的名称、特征和作用,并说明投资者见此 K 线组合图形应如何操作?



(该股往后走势见图 145)

图 143

参考答案 图 143 中画圈处的 K 线组合叫“红三兵”。其特征是:在上涨趋势中,出现 3 根连续创新高的小阳线(见图 144)。红三兵是推动股价上涨的信号,一般来说在股价见底回升,或在横盘后出现红三兵,表明多方正在积蓄能量,准备发力上攻。如若在红三兵后,股价上冲时,成交量能同步放大,那么说明该股已有新主力加入,往后继续上涨的可能性极大(见图 145)。因此,投资者见红三兵,可考虑适量买进一些股票。

基本图形	变化图形

图 144

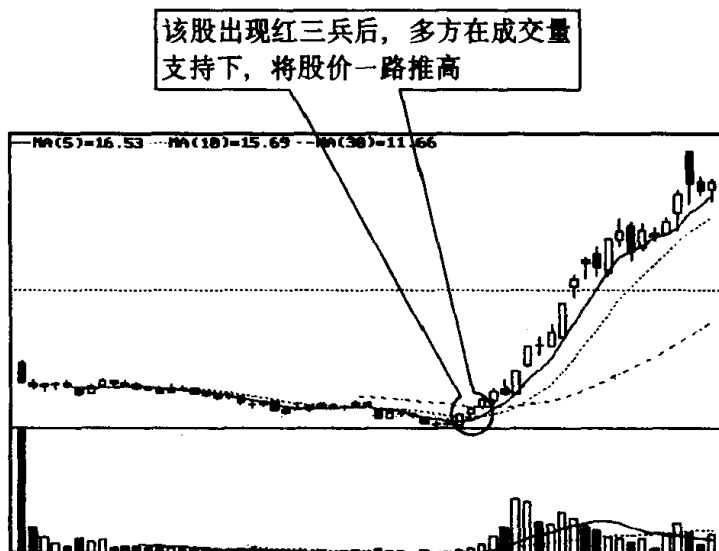
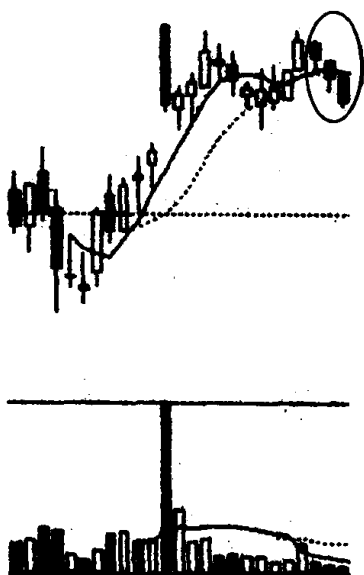


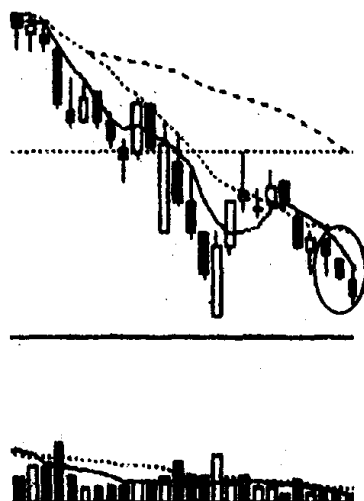
图 145

习题 29 指出图中画圈处 K 线组合的名称、特征和技术含义，并说明投资者见此 K 线组合图形应如何操作？



(该股往后走势见图 149)

图 146



(该股往后走势见图 150)

图 147

参考答案 图中画圈处的 K 线组合叫“黑三兵”。它的特征是：3 根小阴线，其最低价一根比一根低（见图 148）。因为这 3 根小阴线像 3 个穿着黑色服装的卫兵在列队，故名为黑三兵。黑三兵在行情上升时，尤其是股价有了较大升幅之后出现，暗示行情快要转为跌势（见图 149），但如果在下跌行情后期，当股价已有一段较大跌幅或连续急跌后出现，暗示探底行情短期内即将结束，并有可能转为一轮升势（见图 150）。因此，投资者见到黑三兵后，可根据黑三兵出现时的位置，决定不同投资策略，也就是说在上涨行情中出现黑三兵，要考虑做空；在下跌行情中出现黑三兵，要考虑做多。

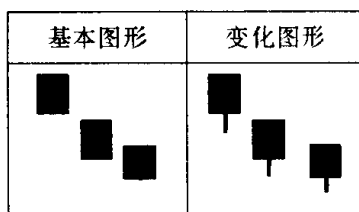


图 148

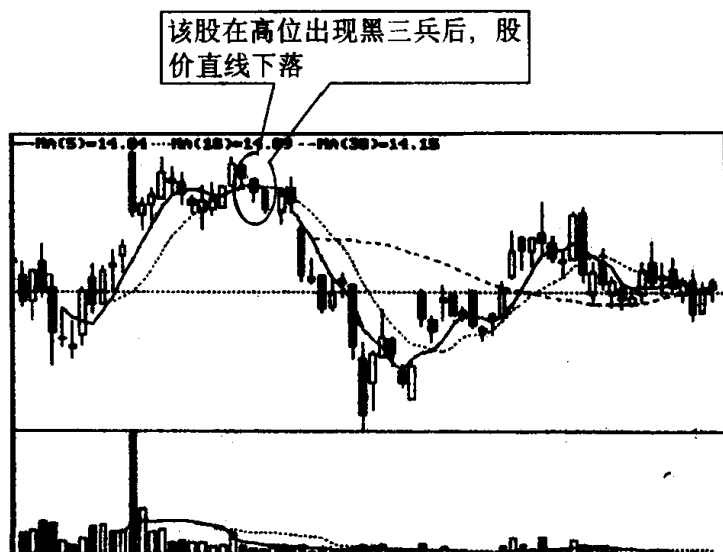


图 149

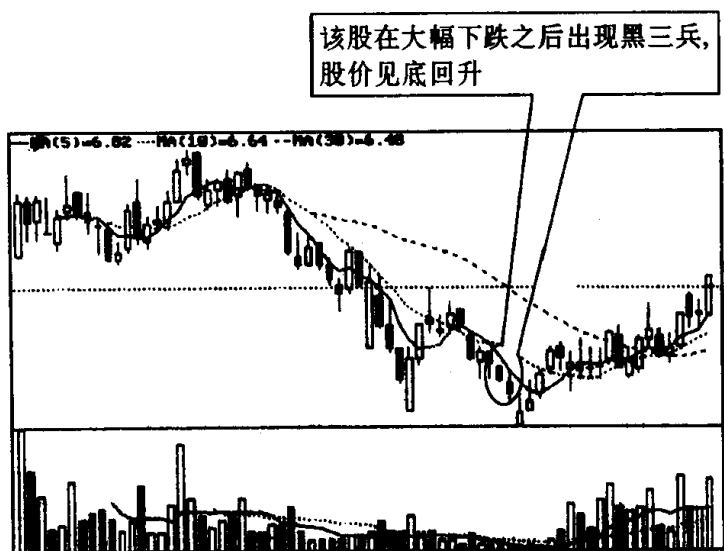



图 150

第十七节 三个白色武士、升势停顿与 升势受阻的识别和运用

习题 30 指出图中画圈处 K 线组合的名称、特征和技术含义，



(该股往后走势见图 153)

图 151

并说明投资者见此 K 线组合图形应如何操作？

参考答案 图中画圈处叫“三个白色武士”。三个白色武士是红三兵的一种特殊形态。其特征是：股价在经过一段整理的走势后，连续出现 3 根阳线，而且每根 K 线都以最高价或次高价收盘，一般最后一根阳线的力度最大（见图 152）。在涨升初期，或股价横盘整理后出现三个白色武士，表示股价已经过充分的换手，积累了一定上升能量，继续上涨的可能性较大（见图 153）。因此投资者见到三个白色武士后可考虑适量买进。

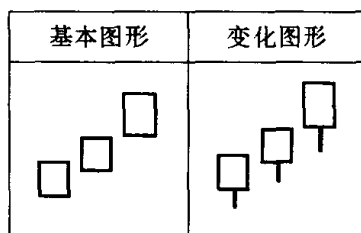


图 152

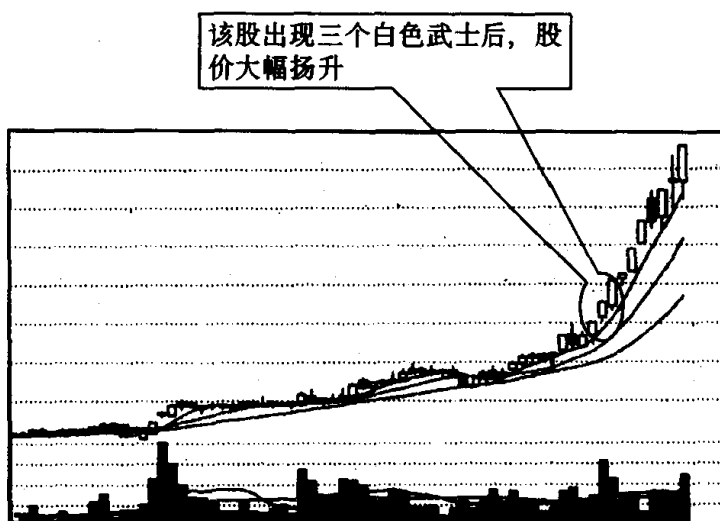
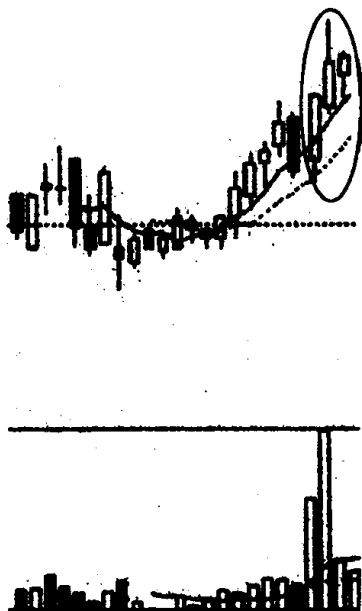


图 153

习题 31 指出图中画圈处 K 线组合的名称、特征和技术含义，并说明投资者见此 K 线组合图形应如何操作？



(该股往后走势见图 156)

图 154

参考答案 图中画圈的 K 线组合叫“升势停顿”。其特点是：在上升行情中，当连续出现两根相对较长的阳线之后，第三根阳线实体一下子缩得很小，这反映了升势可能停顿(见图 155)，升势停顿出现在涨势中，尤其是股价已有了很大升幅之后，表明做多的后续力量已经跟不上，股价随时会出现回落(见图 156)。因此，投资者见此图形后，应考虑适时做空。

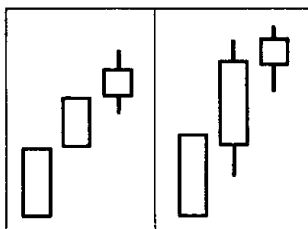


图 155

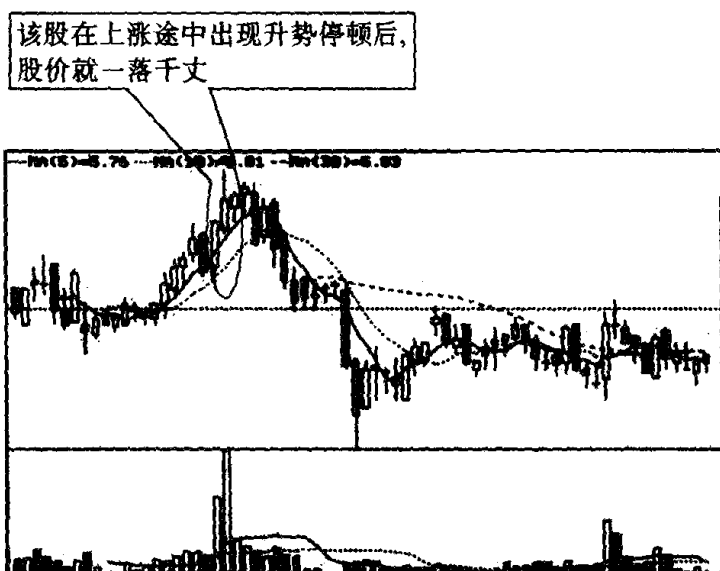
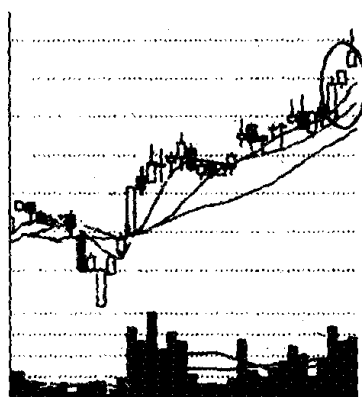


图 156

习题 32 图中画圈处的 K 线组合由 3 根阳线组成，你知道它叫什么名称吗？它和我们前面说的三个白色武士有何不同？这种不同对行情演变有何影响？



(该股往后走势见图 159)

图 157

参考答案 图中画圈处的 K 线组合叫“升势受阻”。它和我们前面说的三个白色武士（见本书第 88 页）主要不同之处在于：第一，三个白色武士 3 根阳线的实体虽小，但呈逐渐增大的态势，给人一

种稳扎稳打的印象。而升势受阻 3 根阳线的实体呈现逐渐缩小的态势,给人一种虎头蛇尾的感觉。第二三个白色武士的 3 根阳线,每根阳线都以最高价或接近最高价收盘,因此,K 线上很少有上影线,即使有也很短,给人一种气势正旺的感觉。但升势受阻的 3 根阳线中,最后一根 K 线的上影线却很长,表明上档卖压沉重(见图 158)。造成这种情况的原因是:前者多方占绝对优势,使股价能保持连续升势;后者多方力量明显不足,推高股价已显得力不从心。正因为如此,当 K 线走势图中出现三个白色武士时,行情一般就看涨。而当 K 线走势图中,尤其是股价已有一段涨幅后出现升势受阻时,则行情一般看跌(见图 159)。

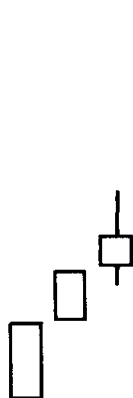


图 158

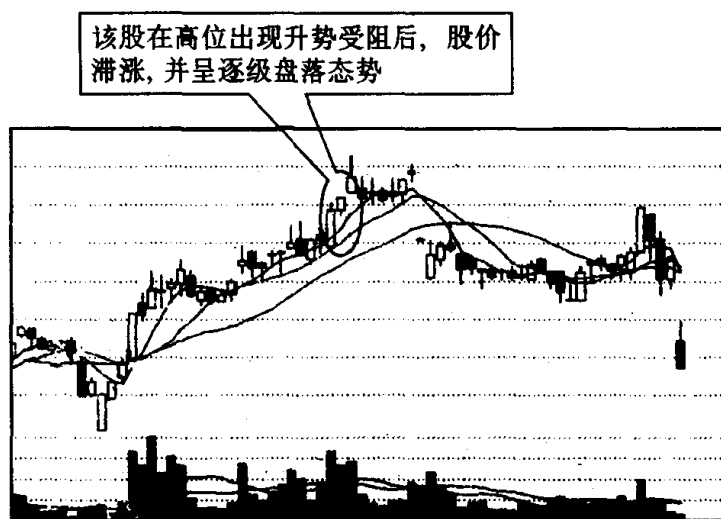


图 159

第十八节 冉冉上升形与绵绵阴跌形的识别和运用

习题 33 指出图中画圈处 K 线组合的名称、特征和技术含义,并说明投资者见此 K 线组合图形应如何操作?



(该股往后走势见图 162)

图 160

参考答案 图中画圈处的 K 线组合名称叫“冉冉上升形”。其特征是：股价经过一段时间横盘后出现了向上倾斜的一组小 K 线

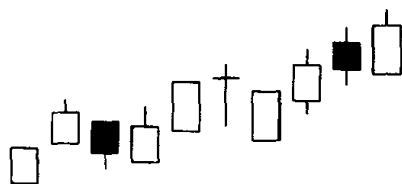


图 161

该股在低位出现冉冉上升形 K 线组合后，股价一路往上攀升

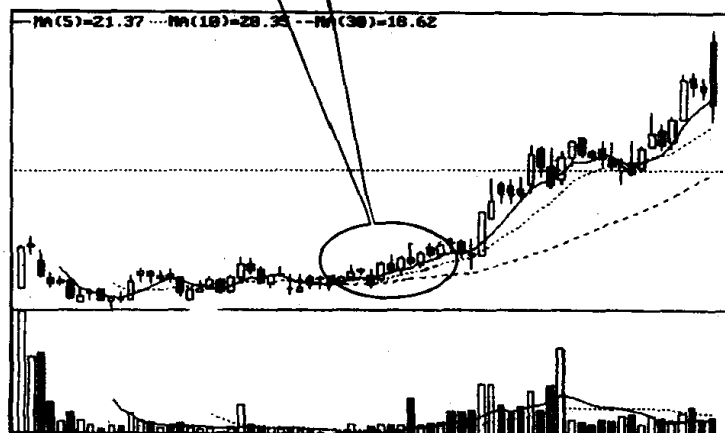


图 162

(一般不少于 8 根), 其中以小阳线居多, 中间也可夹着一些小阴线(见图 161)。这种不起眼的小幅上升走势就如冉冉上升的旭日, 故名冉冉上升形。它往往是股价日后大涨的前兆, 如若成交量也呈温和放大态势, 这种可能性就很大(见图 162)。从沪深股市历年来的一些大牛股来看, 它们在启动初期, 就是常以这种形式表现的。因此, 投资者见此 K 线图形, 可先试着做多, 如若日后股价出现拉升现象, 再继续加码买进。

习题 34 指出图中画圈处 K 线组合的名称、特征和技术含义, 并说明投资者见此 K 线组合图形应如何操作?



(该股往后走势见图 165)

图 163

参考答案 图中画圈处的 K 线组合名称叫“绵绵阴跌形”。其特征是：经过一段时期盘整，出现向下倾斜的一组小 K 线(一般不少于 8 根)，其中以小阴线居多，中间也可夹着一些小阳线(见图 164)。这种看似每天跌幅不大的 K 线走势，犹如绵绵阴雨下个不停，它反映后市走势极不乐观，股价很有可能长期走弱(见图 165)。股市中有一句俗话，急跌不可怕，最怕的就是阴跌。因为有经验的投资者知道，股价急跌后恢复也很快。但阴跌就不同，它往往下跌无期，对多方杀伤相当厉害，故投资者对这种绵绵阴

跌走势应保持高度警惕。空仓者不宜轻易加入；持仓者应及时止损离场。

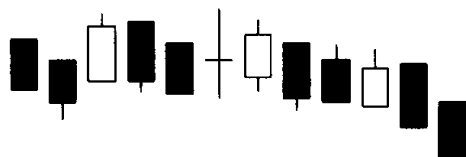


图 164

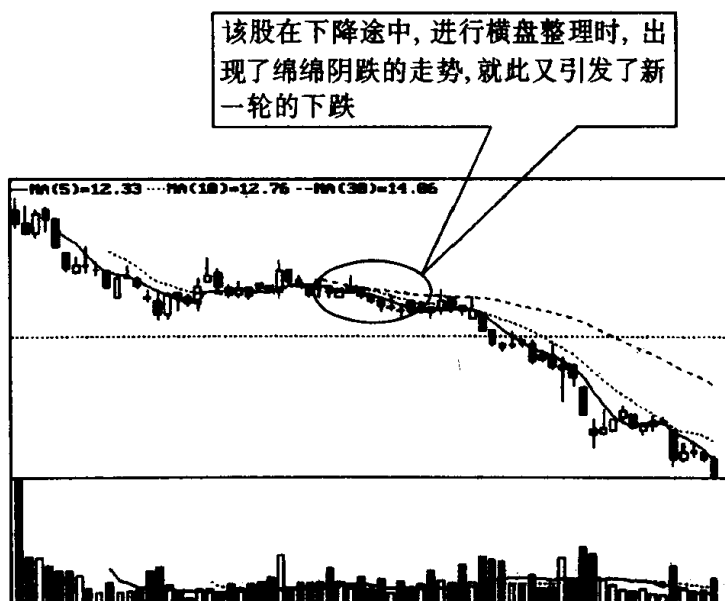
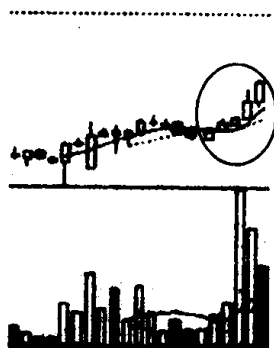


图 165

第十九节 徐缓上升形与徐缓下降形的识别和运用

习题 35 指出图 166 画圈处 K 线组合的名称、特征和技术含义, 并说明投资者见此 K 线组合图形应如何操作?

参考答案 图 166 画圈处的 K 线组合叫“徐缓上升形”。其特征是: 在上涨行情的初期, 连续出现几根小阳线, 随后出现 1、2 根



(该股往后走势见图 168)

图 166

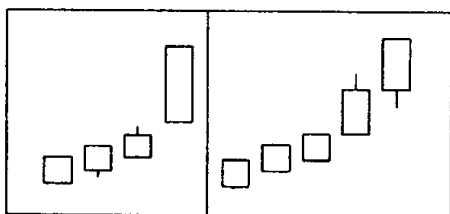


图 167

该股在出现徐缓上升形后，股价呈稳步上扬态势

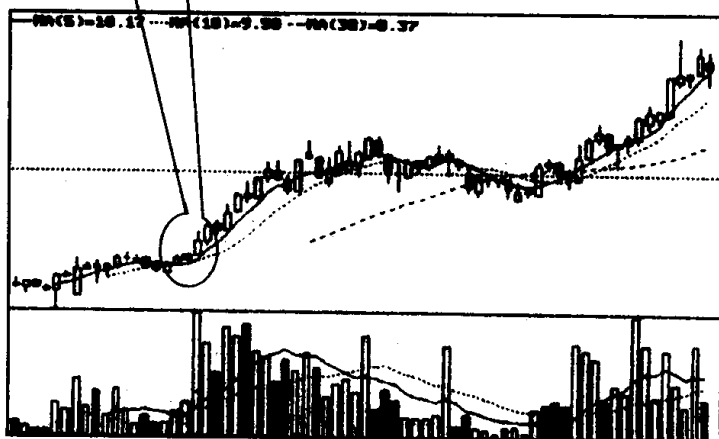



图 168

中、大阳线(见图 167)。在股价刚启动或横盘后股价往上抬升时,出现徐缓上升形,表明多方力量正在逐步壮大,后市虽有波折,但总趋势向上的格局已初步奠定(见图 168),投资者遇此图形可考虑适量跟进。

习题 36 指出图中画圈处 K 线组合的名称、特征和技术含义,并说明投资者见此 K 线组合图形应如何操作?



(该股往后走势见图 171)

图 169

参考答案 图中画圈处的 K 线组合叫“徐缓下降形”。其特征是:在下跌行情的初期,连续出现几根小阴线,随后出现 1、2 根中、大阴线(见图 170),这表明空方力量正在逐步壮大,后市虽有波折,但总趋势向下的格局已初步奠定(见图 171)。因此,投资者见此 K 线图形,要以做空为主,或采取持币观望态度。

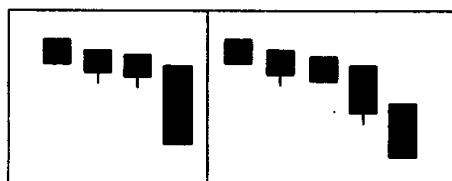


图 170

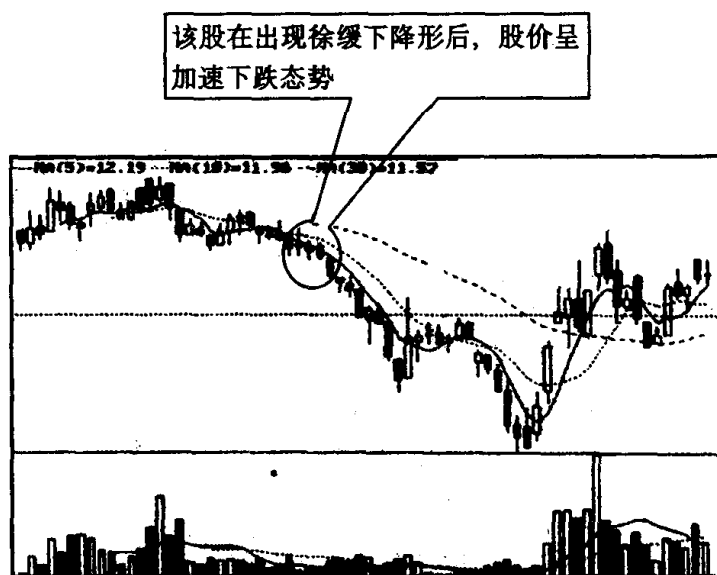
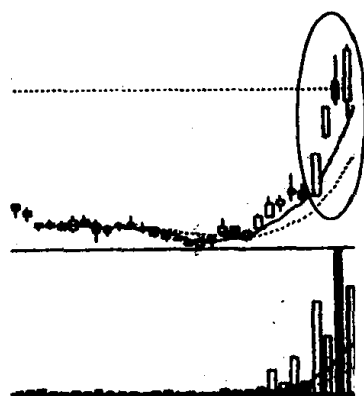


图 171

第二十节 上升抵抗形与下降抵抗形的识别和运用

习题 37 图中画圈处是 K 线组合，请说出它们的名称、特征和



(该股往后走势见图 174)

图 172

技术含义,并说明投资者见此 K 线组合图形应如何操作?

参考答案 图中画圈处的 K 线组合叫“上升抵抗形”。其特征是:在股价上升过程中,连续跳高开盘,收出众多阳线,其中夹着少量阴线,但这些阴线的收盘价均比前一根 K 线的收盘价高(见图 173)。股价上升时出现上升抵抗形,是买方力量逐渐增强的一种表现,它显示日后股价仍会继续上涨(见图 174),少数还可能出现加速上扬态势。因此,投资者见到上升抵抗形 K 线图形,可考虑适量买进。

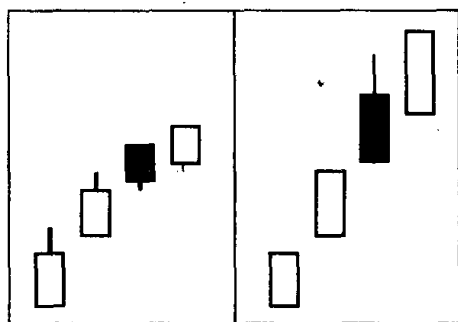


图 173

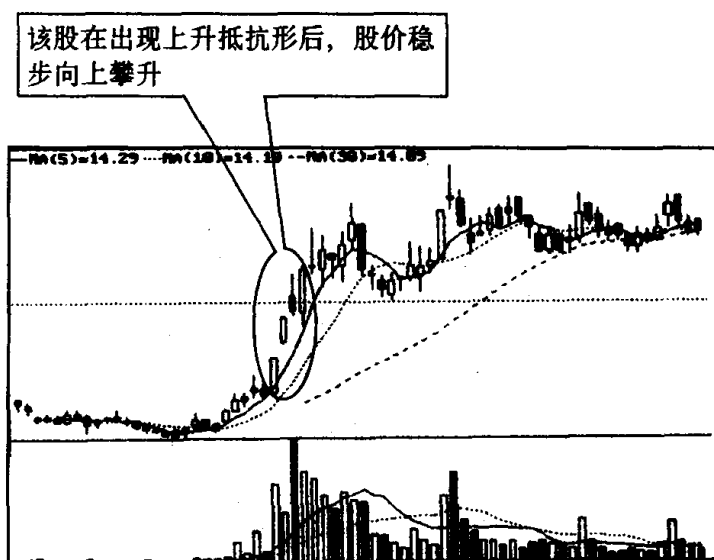



图 174

习题 38 指出图中画圈处的 K 线组合的名称、特征和技术含义,并说明投资者见此 K 线组合图形应如何操作?



(该股往后走势见图 177)

图 175

参考答案 图中画圈处的 K 线组合叫“下降抵抗形”。其特征是:在股价下降过程中,连续跳低开盘,收出众多阴线,其中夹着少量阳线,但这些阳线收盘价均比前一根 K 线的收盘价要低(见图 176)。在下跌趋势中出现这种 K 线形态,反映多方不甘心束手就擒,不时地组织力量进行反抗,但终因大势所趋,回天乏力,在空方的打击下,股价又出现了惯性下滑(见图 177)。因此,投资者见此图形仍要以做空为主,持币的应冷静观望,不要轻易去抢反弹。

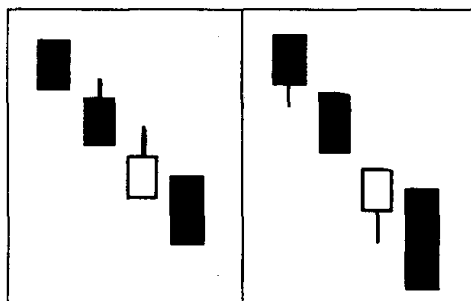


图 176

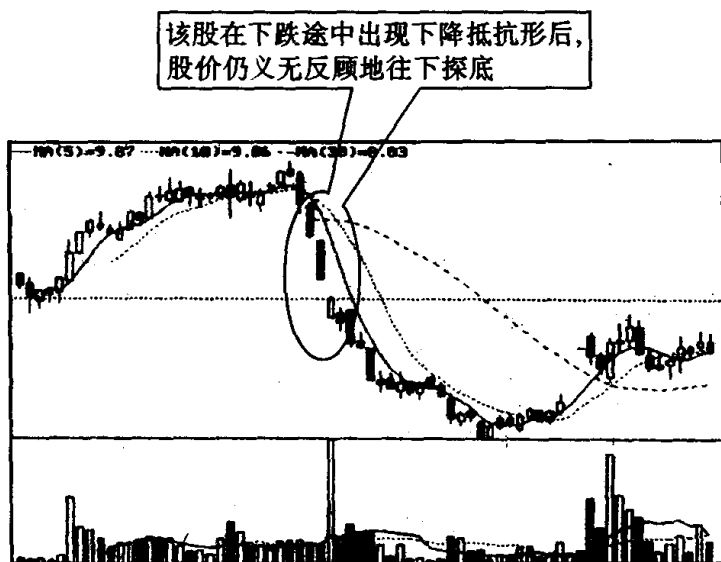
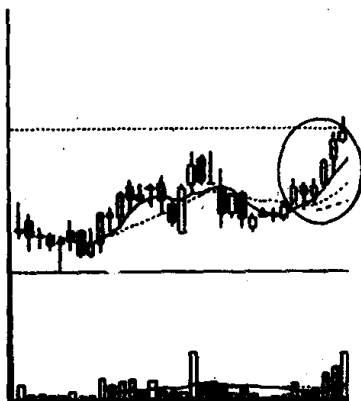


图 177

第二十一节 稳步上涨形与下跌不止形的识别和运用

习题 39 该股是 1998 年的大牛股，股价年涨幅达 300%，但



(该股往后走势见图 180)

图 178

它启动初期却一波三折,从 K 线组合上也可以看出庄家那种不急不慢的操作法。现在上图画圈的地方很能说明这个问题。请问,那个画圈处 K 线组合的名称、特征和技术含义是什么?

参考答案 图中画圈处的 K 线组合叫“稳步上涨形”。它的特征是:在上涨过程中众多阳线中夹着较少的小阴线,股价一路上扬(见图 179)。稳步上涨形的出现,表明股价仍会继续上涨,这是一个做多信号(见图 180)。投资者应以持股为主,不要轻易卖出股

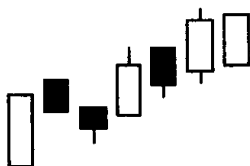
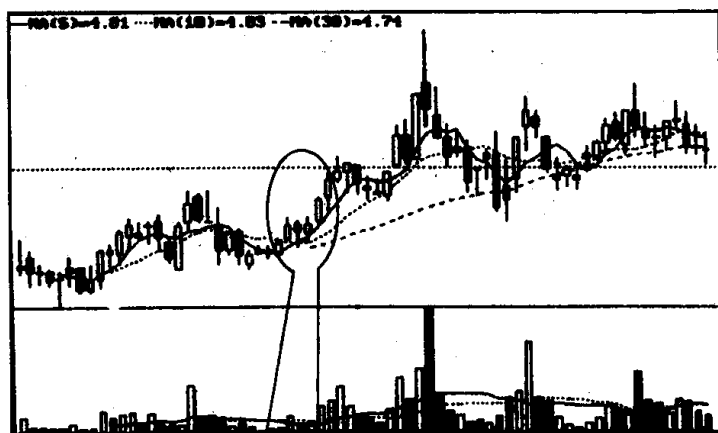


图 179



该股是 1998 年大牛股,年涨幅达 300%。庄家在它上涨初期用稳步上涨形的走势将股价缓慢推高,为日后股价大幅上扬夯实了基础。这足见庄家操盘手法之老练

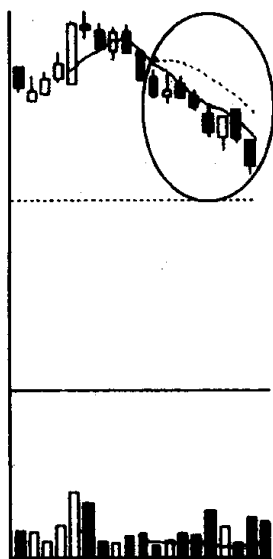
图 180

票。稳步上涨形与冉冉上升形、徐缓上升形、上升抵抗形的区别是:稳步上涨形形成于上涨过程中,虽然出现少量下跌的 K 线,但

它们无碍大局,股价仍然稳步地上涨,这表明多头力量在盘中占了上风。冉冉上升形出现在股价经过一段时期盘整的后期,它由若干根小阳线(中间也可夹有一些小阴线)组成,整个 K 线排列只呈略微向上倾斜状,它反映多头力量在悄悄地积聚。徐缓上升形是先连续出现数根小阳线,然后再拉出中大阳线。它反映了多头气势日益强盛。上升抵抗形是连续高开,出现众多高收的阳线,其中夹着少量的阴线,但这些阴线均收高于前一根 K 线,这说明盘中多头力量十分强大。

从推动股价上涨的短期作用来说,力量最强的是上升抵抗形,其次是徐缓上升形,第三是稳步上涨形,最后一位是冉冉上升形。但这仅仅对短线操作有参考价值,对中长线操作而言,不急不慢的上升走势反而让人放心。可见,不同的投资者对它们作用的评价有很大的差别。这点投资者操作时要做到胸中有数。

习题 40 指出图中画圈处 K 线组合的名称、特征和技术含义,并说明投资者见此 K 线组合图形应如何操作?



(该股往后走势见图 183)

图 181

参考答案 图中画圈处的 K 线组合叫“下跌不止形”。其特征

是：在下跌过程中，众多阴线中夹着较少的小阳线，股价一路下滑（见图 182）。下跌不止形的出现，表明股价仍会继续下跌（见图 183）。因此，投资者应该认清方向，卖出股票，趁早离开为妙。下跌

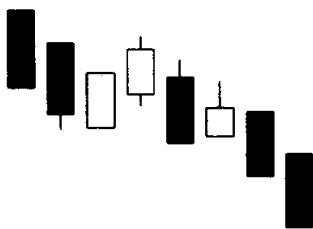


图 182

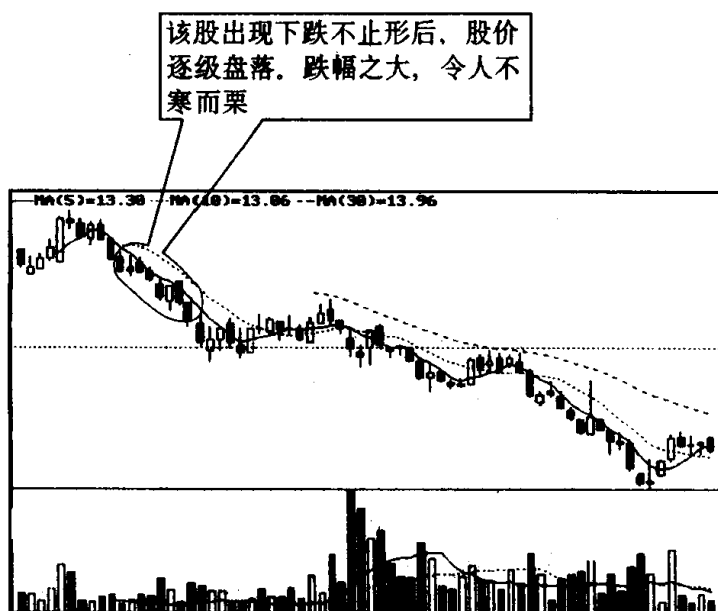


图 183

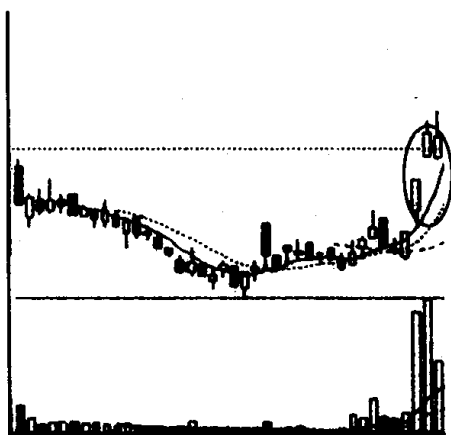
不止形和绵绵阴跌形、徐缓下降形、下降抵抗形的区别是：下跌不止形形成于下跌过程中，虽然出现少量上涨的 K 线，但仍然止不住下跌的趋势，这表明空头的力量在盘中占了上风。绵绵阴跌形出现在股价经过一段盘整的后期，它由若干根小阴线（中间也可夹有一些小阳线）组成，整个 K 线排列只呈略微向下倾斜状，它反映了空方力量在悄悄地积聚。徐缓下降形是先连续出

现数根小阴线，然后拉出中、大阴线。它反映了空头气势日益强盛。下降抵抗形是连续低开，出现众多低收的阴线，其中夹着少量的阳线，但这些阳线均低收于前一根 K 线，这说明盘中空头力量十分强大。

从推动股价下滑的短期作用来说，力量最强的是下降抵抗形，其次是徐缓下降形，第三是下跌不止形，最后一位是绵绵阴跌形。但这仅仅是对短线操作有参考价值，对中长线操作而言，绵绵阴跌形走势最让人担心。深圳有一个股票，在 1993~1995 年大熊市中，从 40 几元绵绵阴跌到 2 元多才止跌，其情景真是惨不忍睹。对于这种情况投资者必须有充分的认识，操作时才会进退自如。

第二十二节 高位并排阳线与低位并排阳线的识别和运用

习题 41 指出图中画圈处 K 线组合的名称、特征和技术含义，并说明投资者见此 K 线图形应如何操作。



(该股往后走势见图 186)

图 184

参考答案 图中画圈处的 K 线组合叫“高位并排阳线”，又叫升势恋人肩并肩缺口。其特征是：在行情上涨途中，两个有着大约

相同开盘价格的阳线跳空升起,与上一日的阳线之间形成了一个缺口。由于两根跳空阳线的开盘价格基本相同,是一种并排阳线,它在上涨途中出现,因而取名为高位并排阳线(见图 185)。另外,从图形上看它们好像是一对“肩并肩”的“恋人”。因此我们又给它取了一个俗名,叫做升势恋人肩并肩缺口。高位并排阳线的出现,表明股价仍会继续上扬。其缺口往往会成为今后一段时期内股价

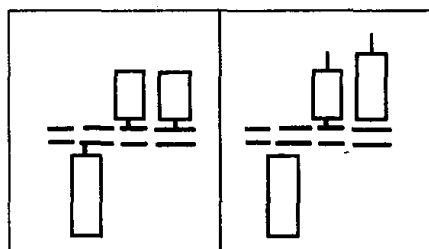


图 185

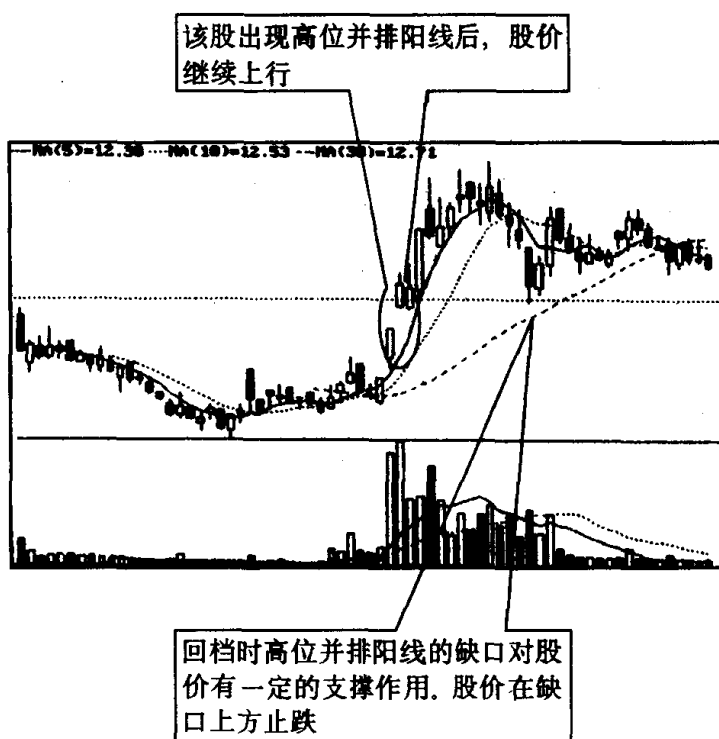
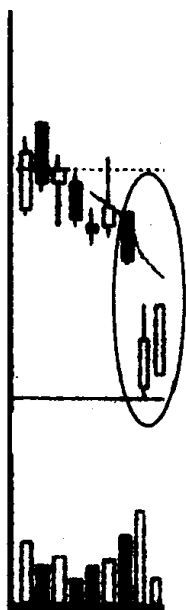


图 186

运行的一个支撑区域,当股价下跌至该区域时,一般能够得到较强的支撑(见图 186),但如果股价跌破这一区域,就应引起我们的特别注意,因为市场很有可能向相反的方向逆转。根据这个道理,投资者见此 K 线图形后应以做多为主,但日后股价滑落缺口之下,应马上反手做空,停损离场。

习题 42 你认识下图画圈处的 K 线组合图形吗? 它叫什么名称? 有何作用? 投资者见此 K 线组合图形后应如何操作?



(该股往后走势见图 189)

图 187

参考答案 图中画圈处的 K 线组合叫“低位并排阳线”。其特

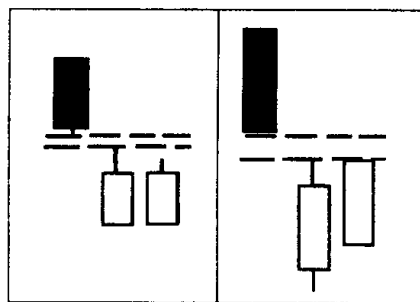


图 188

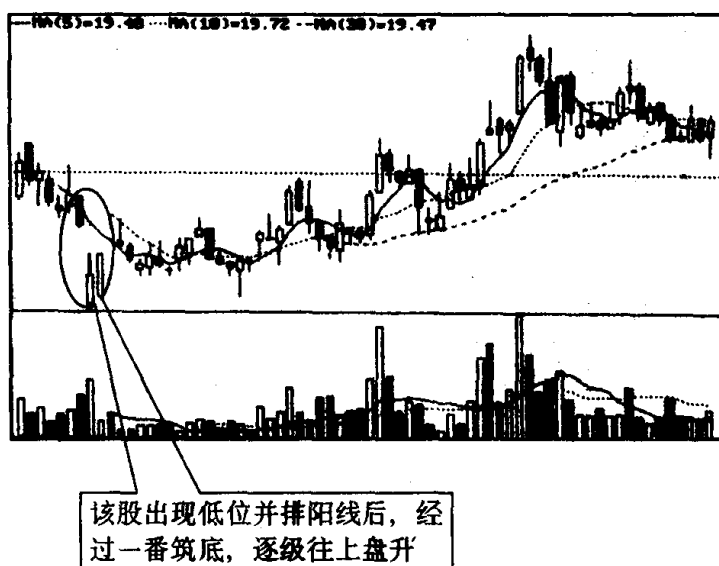


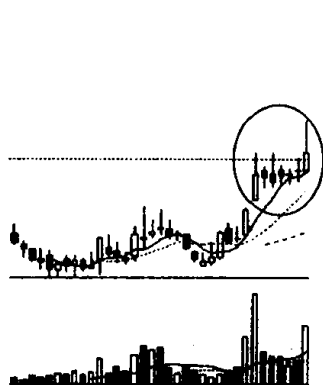
图 189

征是：股价经过一段时间的下跌，出现了一根跳空低开的阳线，至收盘时仍留下一个缺口，紧接着又出现一根与之并列的阳线（见图 188），成交量也随之逐渐放大，这就是低位并排阳线。在下跌行情中出现低位并排阳线往往是股价已到谷底或到阶段性底部的信号（见图 189）。因此，投资者见此 K 线图形可考虑适量建仓。

第二十三节 上档盘旋形与低档盘旋形的识别和运用

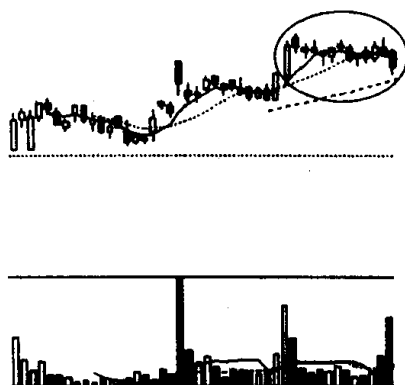
习题 43 图 190、图 191 画圈处，依其性质来说均属于同一种 K 线组合，但结果却不一样，一个上涨了，一个下跌了。为什么会出现这种情况？

参考答案 图 190、图 191 画圈处的 K 线组合叫“上档盘旋形”。其特征是：在上涨行情中，拉出一根或数根较有力度的阳线后，股价开始停滞不前，出现了一系列小阴小阳线，经过一段时期



(该股往后走势见图 193)

图 190



(该股往后走势见图 194)

图 191

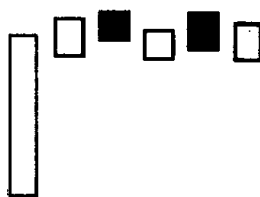


图 192

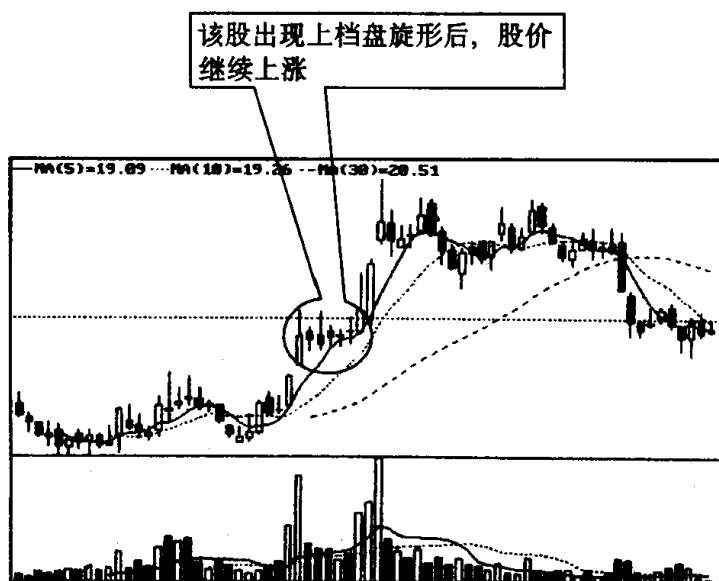


图 193

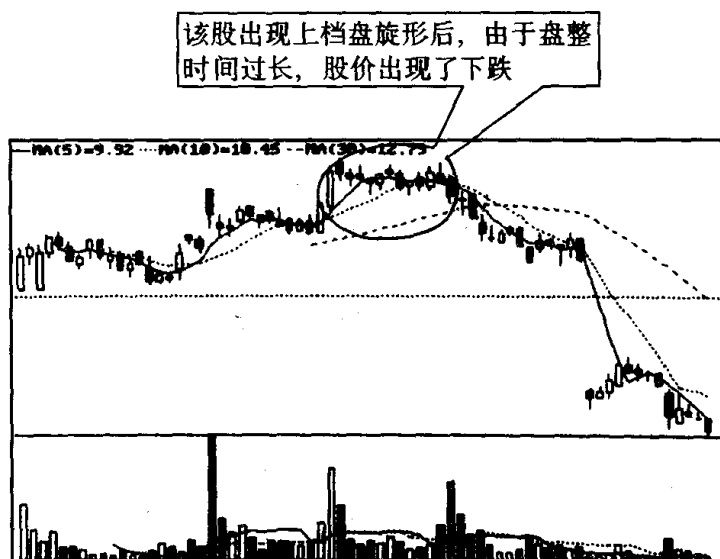
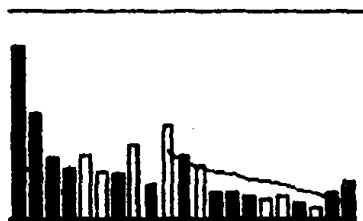
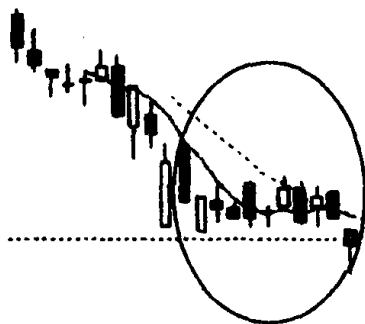


图 194

整理后，它会作出向上或向下的选择(见图 192)。一般来说，上档盘整的合理时间为 5~10 天，若盘整时间过长，表示上升乏力，很有可能转为跌势。根据这一 K 线理论，我们来看图 193 的个股走势，就可以发现它在第一次发力上攻时，拉出了较有力度的 2 根阳线之后，开始进入上档盘整，由于整理的时间较短，只有 6 个交易日，因此多方在消化浮筹后，随着成交量放大，股价出现了飚升。而图 194 的个股走势表明它在进行上档盘整时，由于整理时间较长，多方显得力不从心，因此在空方打击下，股价出现破位下行，一轮升势就此结束。由此可见，当股价上扬后出现上档盘整时，投资者应依据上档盘整日子长短来调整自己的投资策略，见机行事，切不可一味地做多或做空。

习题 44 指出图中画圈处 K 线组合的名称、特征和技术含义，并说明投资者见此 K 线组合图形应如何操作？



(该股往后走势见图 197)

图 195

参考答案 图中画圈处的 K 线组合叫“低档盘旋形”。其特征是：股价经过一轮下跌进入了小阴小阳的横向整理，随后出现一根跳空下跌的阴线。将前一阶段整理格局打破（见图 196）。低档盘旋形 K 线组合的出现，表明新一轮的跌势开始，前面小阴小阳的横向整理只不过是跌势中的盘整而已（见图 197）。因此，投资者见此图形应及时减仓，避免股价继续下跌带来的风险。



图 196

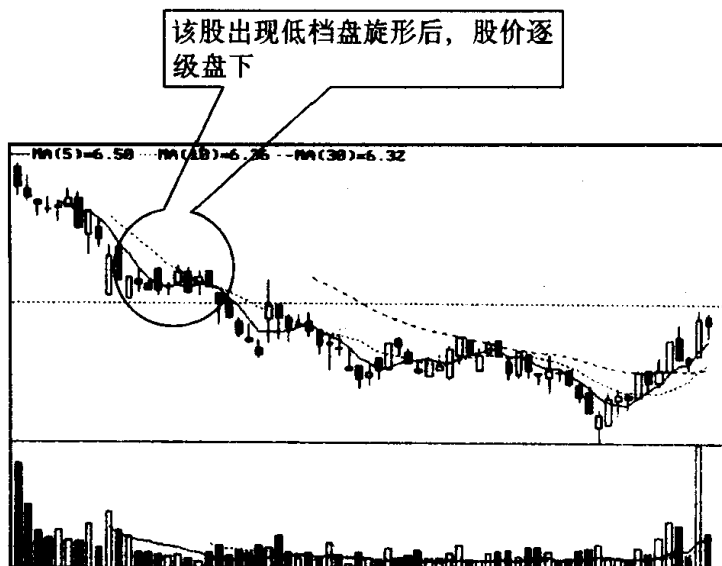
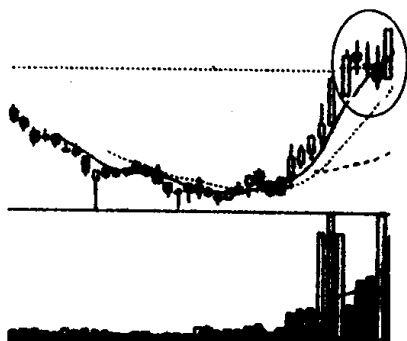


图 197

第二十四节 上升三部曲与下降三部曲的识别和运用

习题 45 指出图中画圈处的 K 线组合名称、特征和技术含义，并说明投资者见此 K 线组合图形应如何操作？



(该股往后走势见图 200)

图 198

参考答案 图中画圈处的 K 线组合叫“上升三部曲”，俗称升势三鸦。其特征是：股价经过一段时期上涨，在一根大阳线或中阳线之后，接连出现了 3 根小阴线，但 3 根小阴线都没有跌破前面这根阳线的开盘价，并且成交量也开始减少，随后就出现一根大阳线（见图 199）。该图形说明多方在积蓄力量，伺机上攻。因此，投资者遇到这种情况，不要以为三连阴后股价就会转弱，开始做空，这往往会使投资产生失误。这里我们以图 200 中的个股为例，当该股出现上升三部曲后，股价继续在上漲。显然投资者如把上升三部曲中的三连阴，看成是卖出信号，这就大错特错了，抛股离场，势必会错失一大段行情。

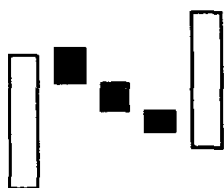


图 199

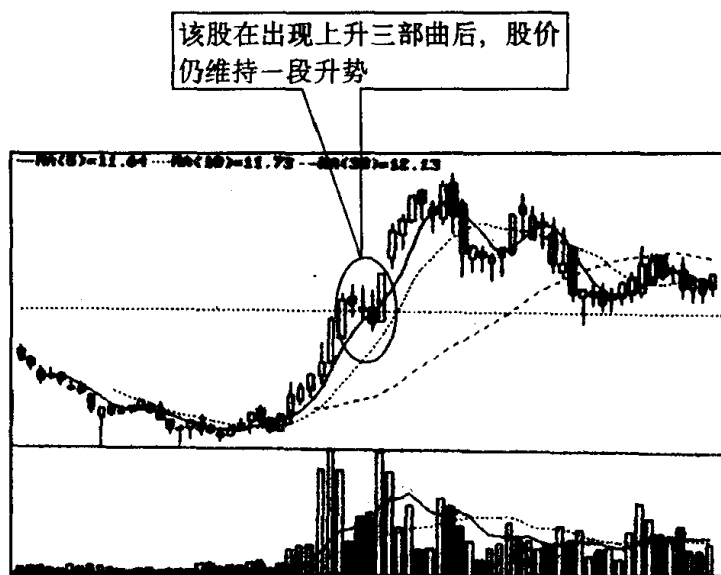




图 200

习题 46 指出图中画圈处的 K 线组合图形的名称、特征和技

术含义,并说明投资者见此 K 线组合图形应如何操作?



(该股往后走势见图 203)

图 201

参考答案 图中画圈处的 K 线组合叫“下降三部曲”，又叫降势三鹤。其特征是：股价在下跌时出现了一根实体较长的阴线，随后连续拉出 3 根向上攀升实体较为短小的阳线，但最后一根阳线的收盘价仍比前一根长阴线的开盘价要低，之后紧接着又出现了一根长阴线，把前面 3 根小阳线全部或大部分都吞吃了(见图 202)。下降三部曲的出现，表明多方虽然想作反抗，但最终在空方的打击下显得不堪一击。这表明股价还会进一步向下滑落(见图 203)。因此，投资者见此 K 线图形后应顺势而为，减持手中的仓位。

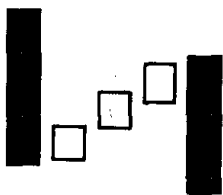


图 202

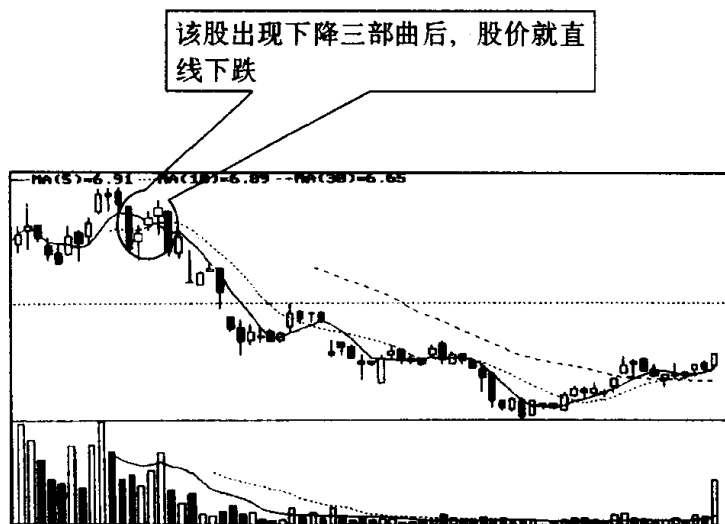
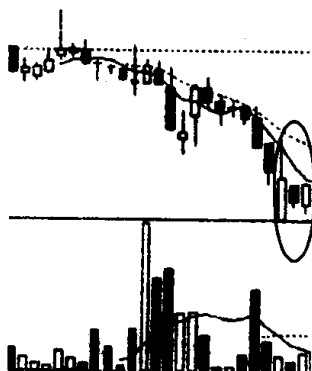


图 203

第二十五节 两红夹一黑与两黑夹一红的识别和运用

习题 47 指出图中画圈处 K 线组合的名称、特征和技术含义，并说明投资者见此 K 线组合图形应如何操作？



(该股往后走势见图 206)

图 204

参考答案 图中画圈处的 K 线组合叫“两红夹一黑”。其特征是：左右两边是阳线，当中是阴线，3 根 K 线的中轴基本上是在同一水平位置上，两根阳线的实体一般比阴线实体长（见图 205）。通常，在下跌趋势中出现两红夹一黑 K 线图形，暗示股价会暂时止跌，或有可能见底回升（见图 206）；在上涨趋势中，尤其是上升初期出现该图形，表明股价经过短暂休整后，仍会继续往上涨。

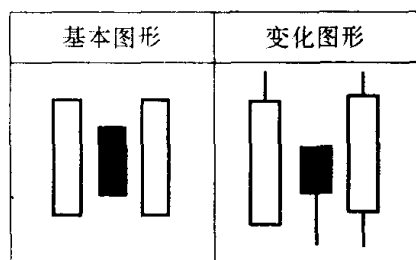


图 205

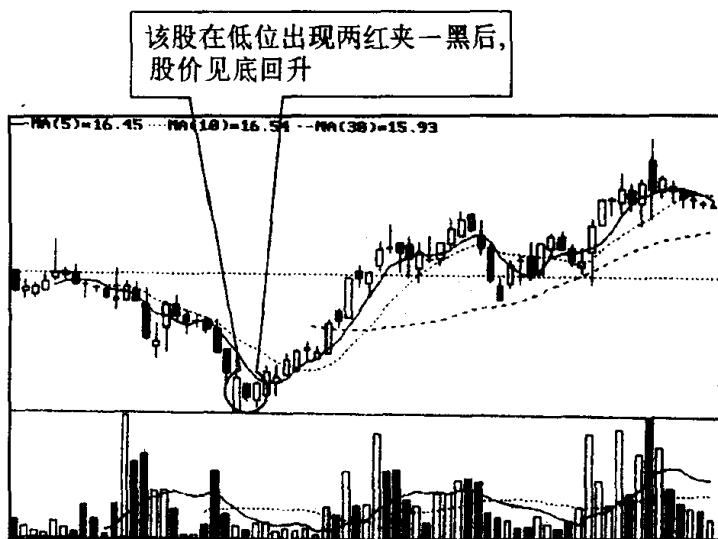
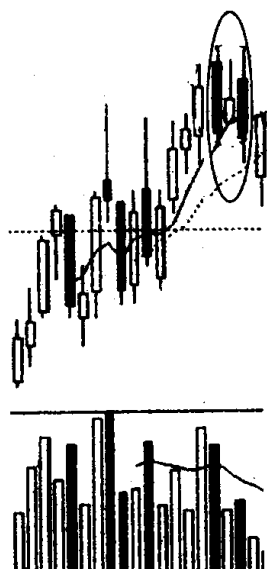



图 206

习题 48 指出图中画圈处的 K 线组合的名称、特征和技术含义，并说明投资者见此 K 线组合图形应如何操作？



(该股往后走势见图 210)

图 207



(该股往后走势见图 211)

图 208

参考答案 图中画圈处的 K 线组合叫“两黑夹一红”。其特征是:左右两边是阴线,当中是阳线,两根阴线的实体一般要比阳线实体长(见图 209)。通常,在上升趋势中出现两黑夹一红 K 线图形,暗示股价升势已尽,有可能见顶回落(见图 210);在下跌趋势中,尤其是下跌初期出现该图形,表明股价经过短暂休整后,仍会继续下跌(见图 211)。

基本图形	变化图形

图 209

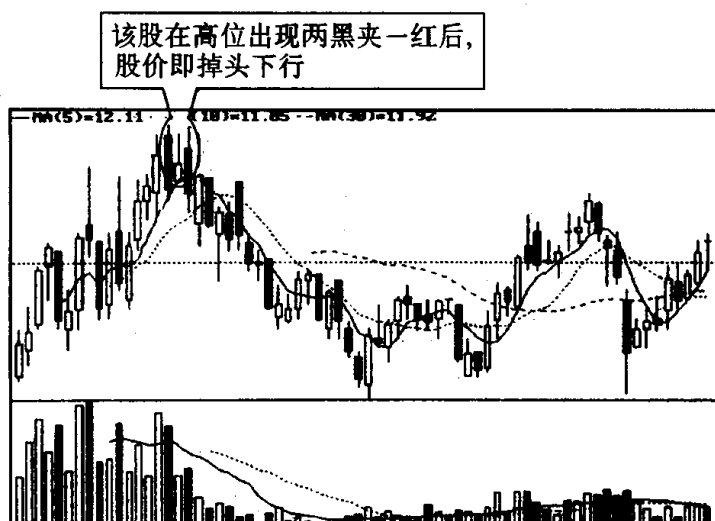


图 210

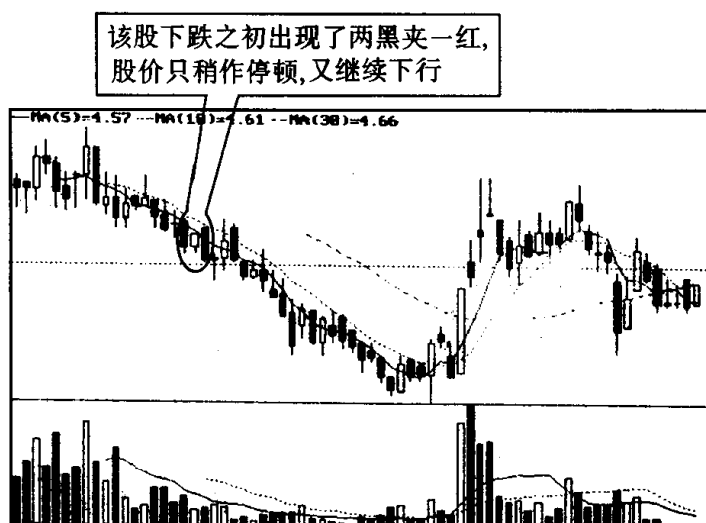
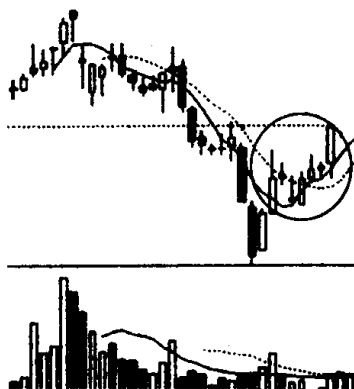


图 211

第二十六节 多方尖兵与空方尖兵的识别和运用

习题 49 指出图中画圈处的 K 线组合名称、特征和作用,并说明投资者见此 K 线组合图形应如何操作?



(该股往后走势见图 214)

图 212

参考答案 图中画圈处的 K 线组合叫“多方尖兵”。其特征是:股价在上升过程中,遇到空方打击,出现了一根上影线,股价随之回落整理,但多方很快又发动了一次攻势,股价穿越了前面的上影线(见图 213)。从图上看,多方在发动大规模攻势前曾作过一次试探性的进攻,在 K 线上留下了一根较长的上影线。有人把它比喻成深入空方腹地的尖兵,故得了多方尖兵的雅名。多方尖兵的出现,表示股价会继续上涨(见图 214)。对投资者而言,看见这种

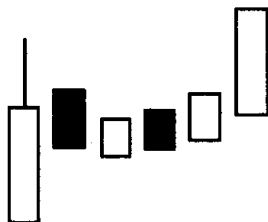


图 213

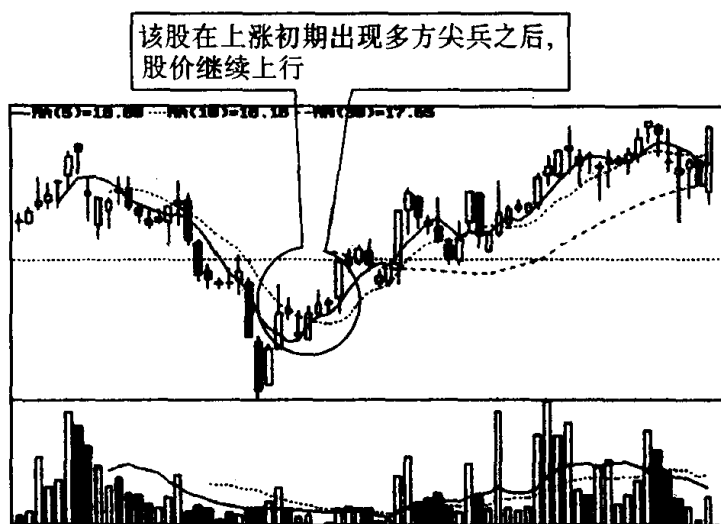
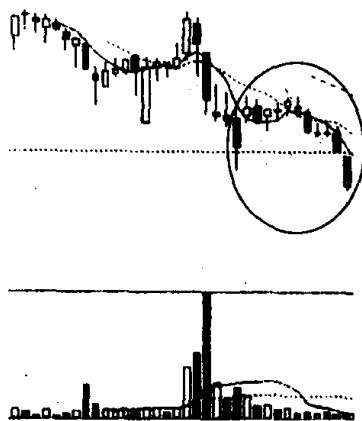


图 214

K 线图形跟着做多，往往会有较多获利机会。

习题 50 指出图中画圈处的 K 线组合的名称、特征和技术含义，并说明投资者见此 K 线组合图形应如何操作？



(该股往后走势见图 217)

图 215

参考答案 图中画圈处的 K 线组合叫“空方尖兵”。其特征是：股价在下跌过程中，遇到多方反抗，出现了一根下影线，股价随之弹升，但空方很快又发动了一次攻势，股价就穿越了前面的下影

线(见图 216)。从图上看,空方在杀跌前曾作过一次试探性进攻,在 K 线上留下了一根较长的下影线,有人把它视作深入多方阵地的尖兵,这也就是空方尖兵名称的由来。空方尖兵的出现,表示股价仍会下跌(见图 217)。投资者如看见这种 K 线图形,适时做空,以减少股价继续下行带来的风险。



图 216

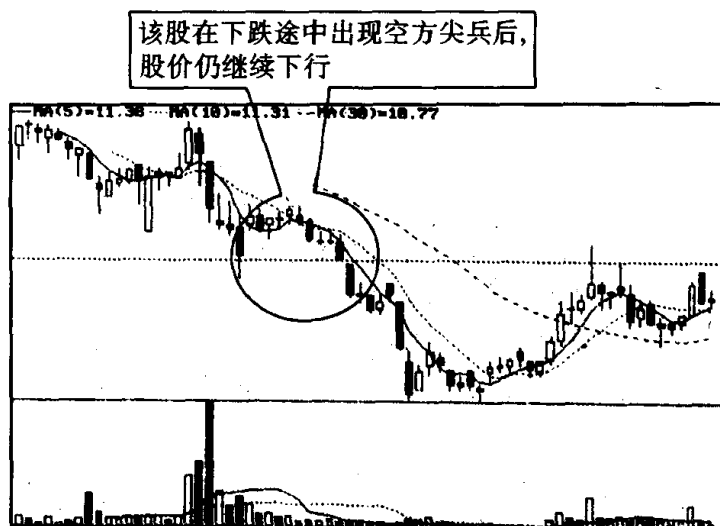
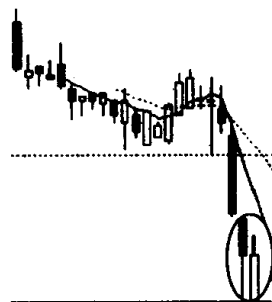


图 217

第二十七节 好友反攻与淡友反攻的识别和运用

习题 51 指出图 218 画圈处 K 线组合名称、特征和作用,并说明投资者对此 K 线组合图形应如何操作?



(该股往后走势见图 220)

图 218

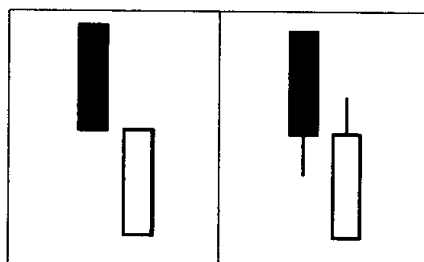


图 219

该股在低位出现好友反攻后，
开始止跌，进入筑底阶段

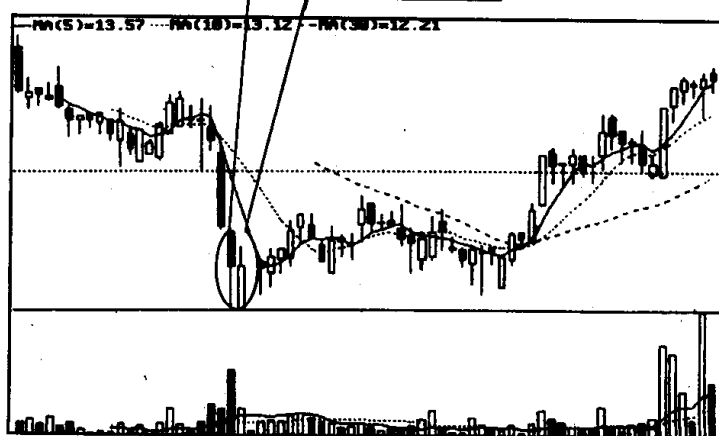
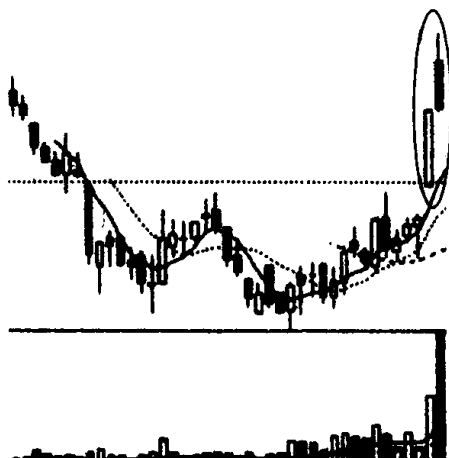


图 220

参考答案 图 218 画圈处的 K 线组合称为“好友反攻”。其特征是：在下跌行情中，出现一根中阴线或大阴线后，股价跳空低开，收了一根中阳线或大阳线，它的收盘价收在与前一根阴线收盘价相同或相近的位置上（见图 219）。好友反攻是见底信号，它提示投资者不要再盲目看空（见图 220）。好友反攻与曙光初现的 K 线组合区别是：阳线实体未深入阴线实体。因此，好友反攻预示见底回升的可靠性不如曙光初现。投资者见此 K 线图形后，持筹者不要盲目去割肉，空仓者可适量买些股票。

习题 52 指出图中画圈处 K 线组合名称、特征和技术含义，并说明投资者见此 K 线组合图形应如何操作？



（该股往后走势见图 223）

图 221

参考答案 图中画圈处的 K 线组合叫“淡友反攻”。其特征是：在上升行情中，在出现中、大阳线的次日，股价跳空高开上攻无力，继而下跌，其收盘价与前一根阳线的收盘价相同或相近，形成一根大阴线或中阴线（见图 222）。淡友反攻是见顶信号，它提示投资者不要再盲目看多（见图 223）。淡友反攻与乌云盖顶 K 线组合的区别是：阴线实体未深入阳线实体，其预示的下跌可靠性不如乌云盖顶。但上升行情中出现淡友反攻，如

伴随着成交量急剧放大，它的领跌作用甚至要超过乌云盖顶，此点也不可忽视。因此投资者见此 K 线图形后，可根据盘面情况，适量减仓。

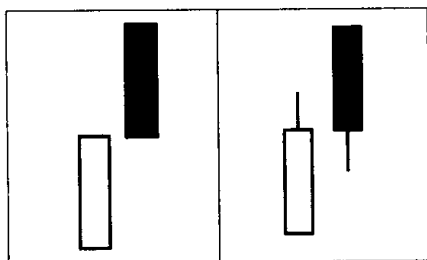


图 222

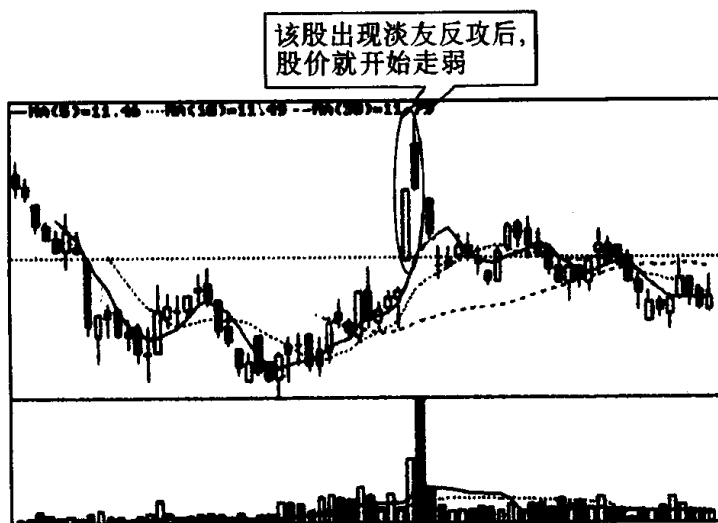
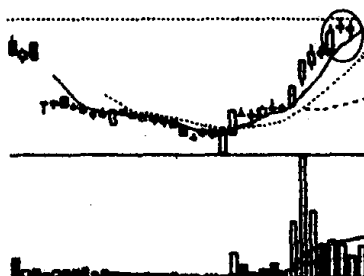


图 223

第二十八节 上涨二颗星与下跌三颗星的识别和运用

习题 53 指出图中画圈处 K 线组合的名称、特征和技术含义，并说明投资者见此 K 线组合图形应如何操作？



(该股往后走势见图 226)

图 224

参考答案 图中画圈处的 K 线组合叫“上涨二颗星”。其特征是：在连续上涨的行情中，于大阳线或中阳线上方出现两根小 K 线，就此构成了上涨二颗星（见图 225）。上涨二颗星的出现，表明涨势仍会继续，股价很有可能在短期内展开新一轮的升势（见图 226）。因此，投资者见此图形后可适量增加仓位，持筹待涨。

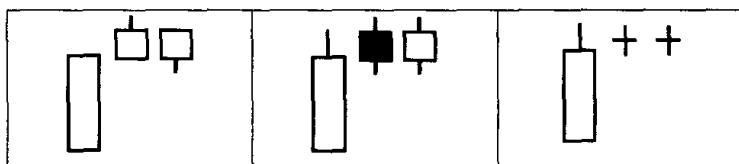


图 225

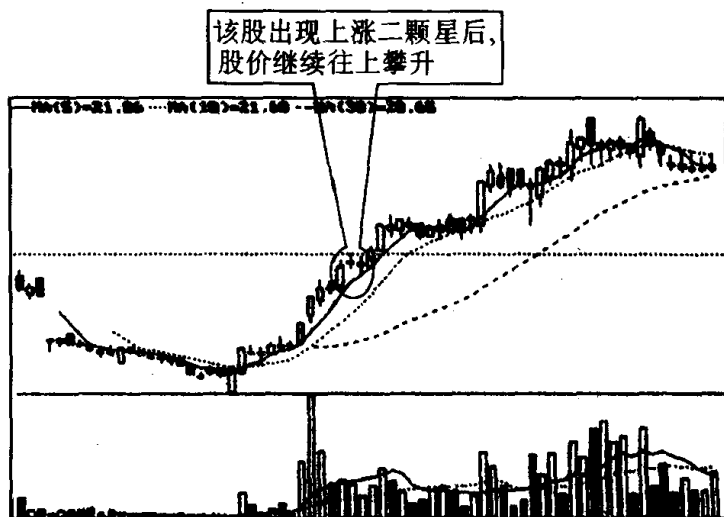
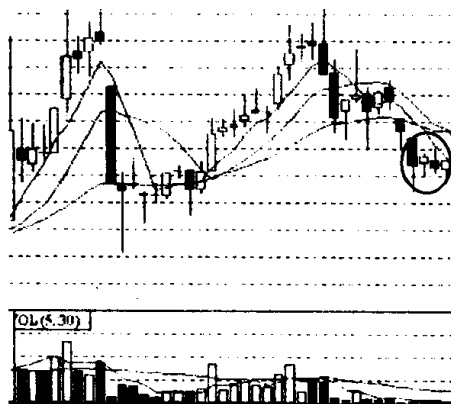


图 226

习题 54 这是深市某股的周 K 线图。请指出图中画圈处 K 线组合的名称、特征和技术含义，并说明投资者见此 K 线图形应如何操作？



(该股往后走势见图 229)

图 227

参考答案 图中画圈处的 K 线组合叫“下跌三颗星”。其特征

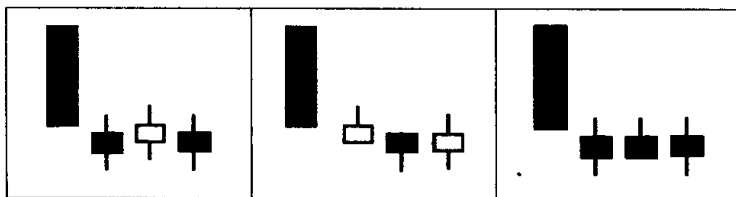


图 228

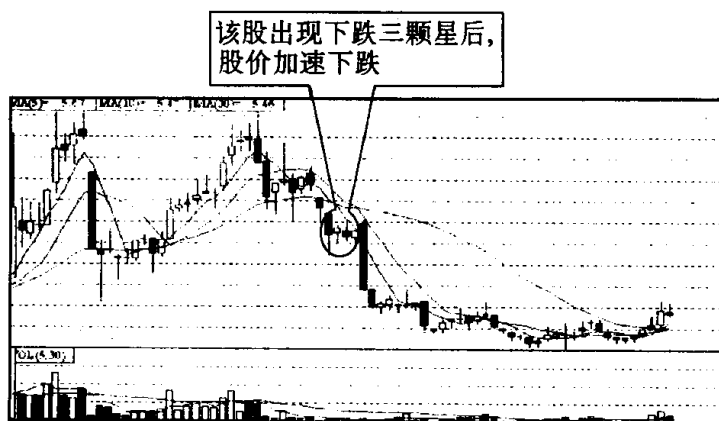
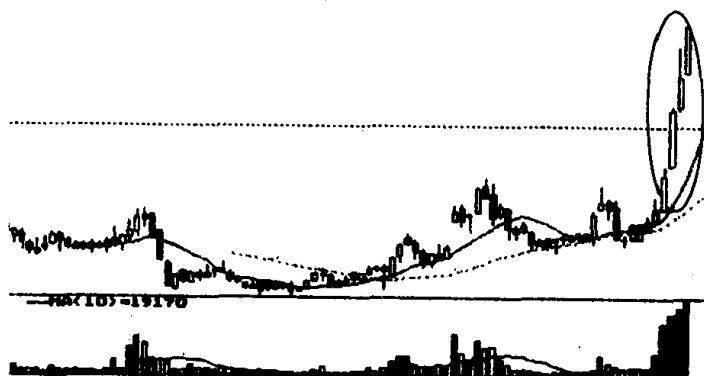


图 229

是：在股价下跌行情中，若 K 线图上出现连续 3 根小阴小阳线，股价上下波动很小，这就构成了下跌三颗星（见图 228）。下跌三颗星出现，表明市场仍处于弱势，股价仍有继续下探的空间（见图 229）。因此，投资者见此图形应作好离场准备。

第二十九节 连续跳空三阳线与连续跳空三阴线的识别和运用

习题 55 图中画圈处是什么 K 线组合？当出现这种 K 线组合后，后市一般会朝什么方向发展？



（该股往后走势见图 232）

图 230

参考答案 上图画圈处的 K 线组合叫“连续跳空三阳线”。其特征是：在上涨途中，多头气盛，连续跳空高开，拉了 3 根阳线（见图 231）。由于一鼓作气，再而衰，三而竭，多方用尽了最后力气。此时

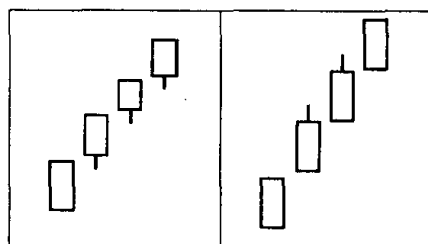


图 231

若空方趁机组织力量反攻，多方就无力抵抗。因此，在上涨途中出现连续跳空三阳线，往往是涨势到头的征兆，这预示股价不久就会由涨转跌(见图 232)。因此，投资者见此 K 线图形应进行减仓操作，如若发现日后股价掉头下行，要及时停损离场。

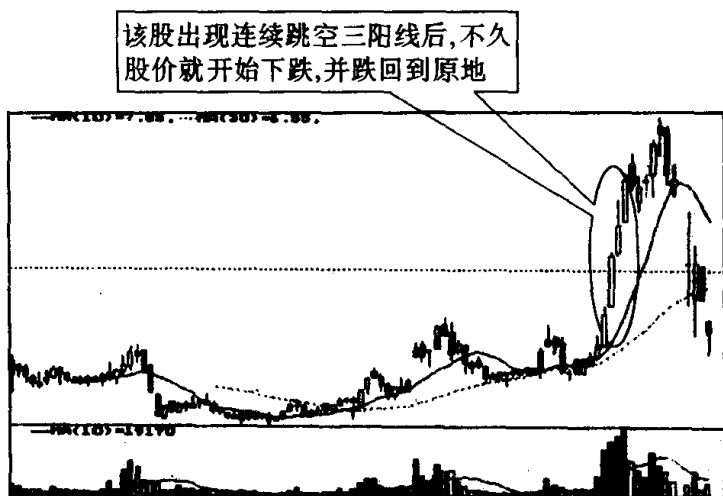
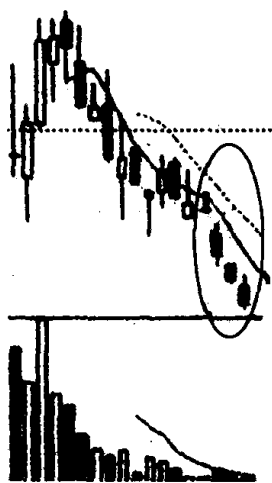


图 232

习题 56 指出图中画圈处 K 线组合的名称、特征和技术含义，



(该股往后走势见图 235)

图 233

并说明投资者见此 K 线组合图形应如何操作？

参考答案 图中画圈处 K 线组合叫“连续跳空三阴线”。其特征是：在下跌途中连续出现 3 根跳空低开下跌的阴线（见图 234）。股价这时往往已经见底，如若之后拉出的 1 根或 2 根阳线能及时回补下跌的第三个缺口，说明多方反攻在即，股价上升的可能性极大（见图 235、图 236）。因此，投资者见此 K 线形态可在股价企稳时，适量买进一些股票，持筹待涨。

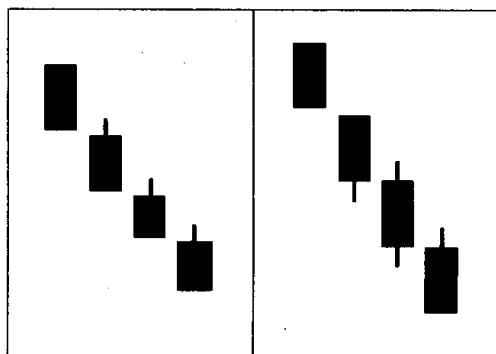


图 234

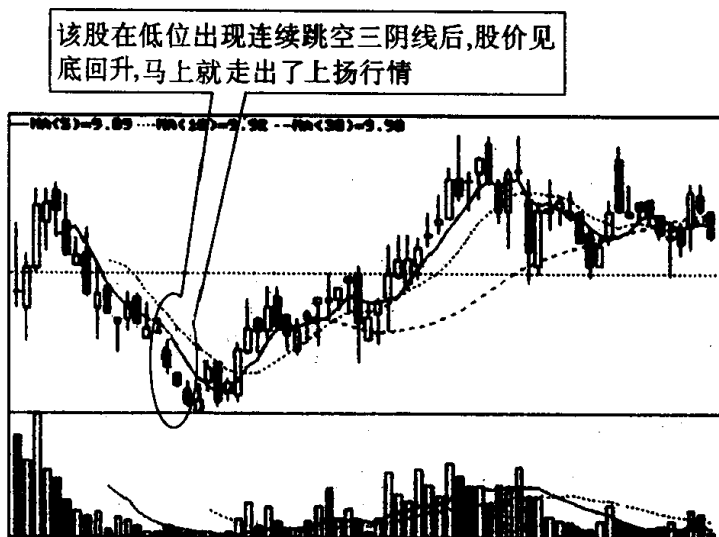


图 235

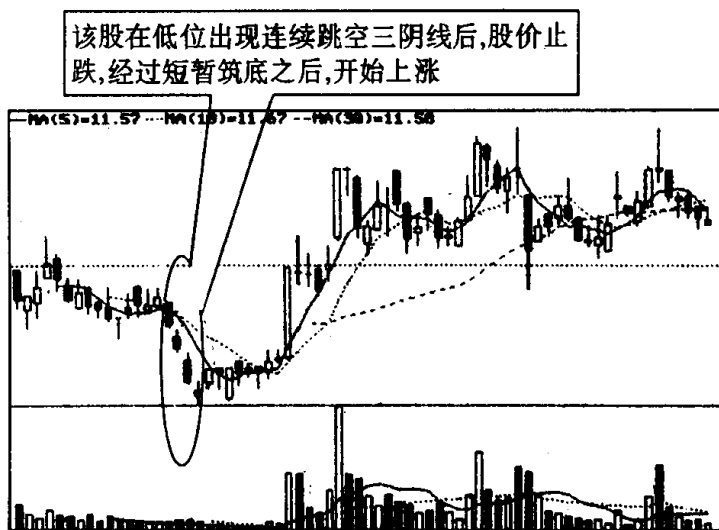
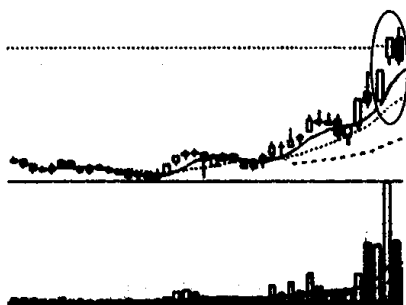


图 236


第三十节 跳空上扬形与下档五阳线的识别和运用

习题 57 下面两张图画圈处的 K 线组合都有一个明显特征。请问这个特征是什么？当走势图上出现这种 K 线组合,后市一般会朝什么方向发展？



(该股往后走势见图 240)

图 237



(该股往后走势见图 241)

图 238

参考答案 上面两张图画圈处的 K 线组合的明显特征是：在上涨趋势中，出现了一根跳空上扬的阳线，但第二天股价不涨反跌，拉出了一根阴线，不过它的收盘价收在前一天跳空处附近，缺口没有被填补，这种 K 线组合图形叫“跳空上扬形”，又称升势鹤鸭^[注]缺口(见图 239)。该图形的出现，说明股价在攀升的过程中遇到了一些麻烦，但之后多方经过努力，克服或战胜了这一挫折，继续把股价往上推高。该图形也可看作是行情上涨前的洗盘换手，因为只有夯实股价，打好基础，行情上涨才显得稳扎有力。一般来说，该图形出现在涨势初期、中期，行情有可能出现两种发展模式：一是股价经过一段时期盘整后再度上扬(见图 240)；二是股价经过

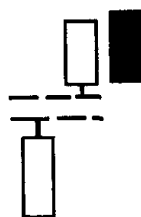


图 239

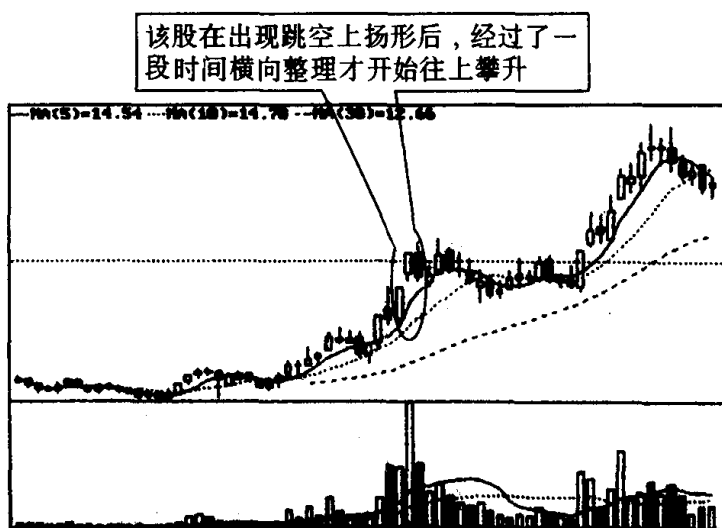


图 240

[注] 鹤，即白鹤，喻为阳线；鸭，即乌鸦，喻为阴线。

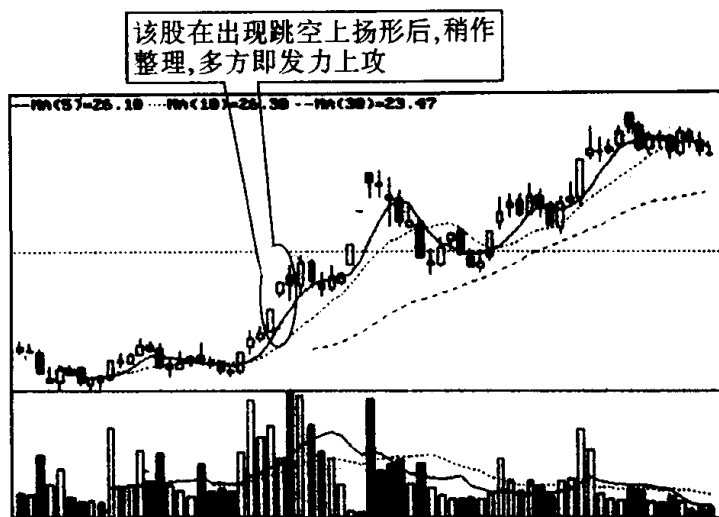


图 241

短暂调整就开始发力上攻(见图 241)。但是不管是何种模式,在上涨初期、中期出现这种 K 线组合均预示股价仍会继续往上攀升。

习题 58 指出图中画圈处的 K 线组合的名称、特征和技术含义,并说明投资者见此 K 线组合图形应如何操作?

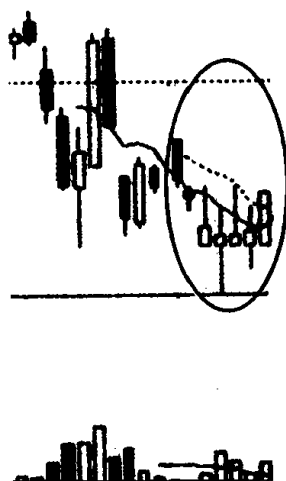


图 242

参考答案 图中画圈处的 K 线组合叫“下档五阳线”,也叫低

档五阳线。其特征是：在下跌持续一段时期后，K线图连续出现了5条阳线（有时可能是6条、7条），表示在此价位多方的承接力量较强（见图243）。低档五阳线的出现，预示着股价可能已经见底或者到了一个阶段性底部（见图244），这是一种买入信号。此时，投资者如逢低适量买进，风险不大，短线获利机会较多。

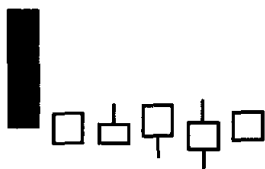


图 243

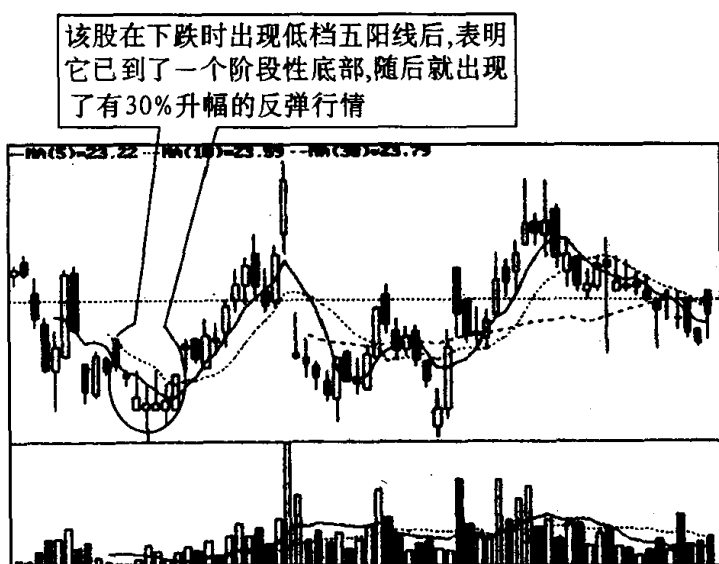
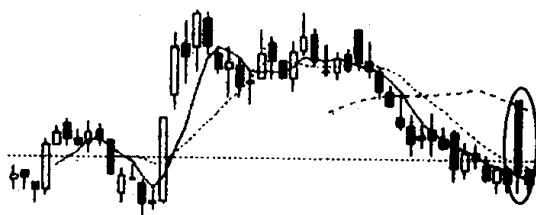


图 244

第三十一节 高开出逃形与下探上涨形的识别和运用

习题 59 指出图 245 画圈处的 K 线的名称、特征和技术含义，并说明投资者见此 K 线图形应如何操作。



(该股往后走势见图 247)

图 245

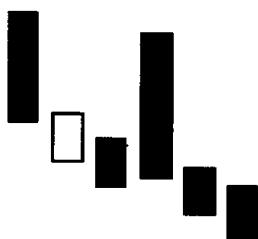


图 246

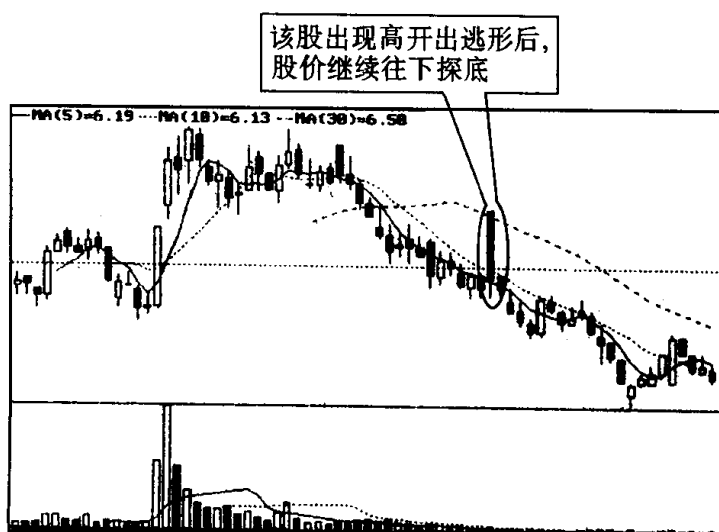
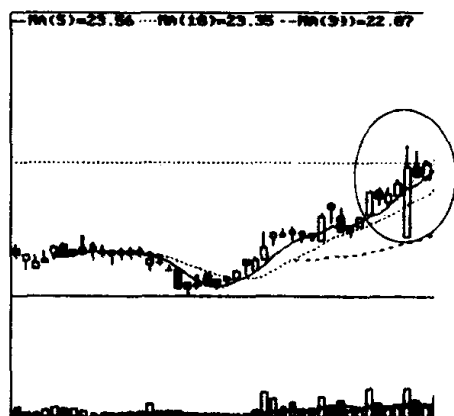


图 247

参考答案 图 245 画圈处的 K 线叫“高开出逃形”。其特征是：在跌势中某日突然大幅高开(甚至以涨停板开盘)，当天就遭到空方一路打压，收出一根大阴线(甚至以跌停板收盘)(见图 246)。高开出逃形多数是被套庄家利用朦胧消息拉高出货所致，一般在这根大阴线之后，股价将有一段较大跌势(见图 247)。因此，投资者见到此 K 线图形，唯一的选择就是马上停损离场。

习题 60 指出图中画圈处的 K 线名称、特征和技术含义，并说明投资者见此 K 线应如何操作？



(该股往后走势见图 250)

图 248

参考答案 图中画圈处的 K 线叫“下探上涨形”。其特征是：在上升行情中，某日突然大幅低开(甚至以跌停板开盘)，当日以涨势收盘(甚至以涨停板报收)，从而在图中拉出一根低开高走的大阳线(见图 249)。这就构成了先下跌后上涨的形态，故名为下探上涨形。从技术含义上来说，下探上涨形往往预示着后面将有一段

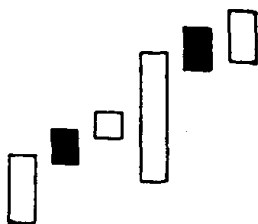


图 249

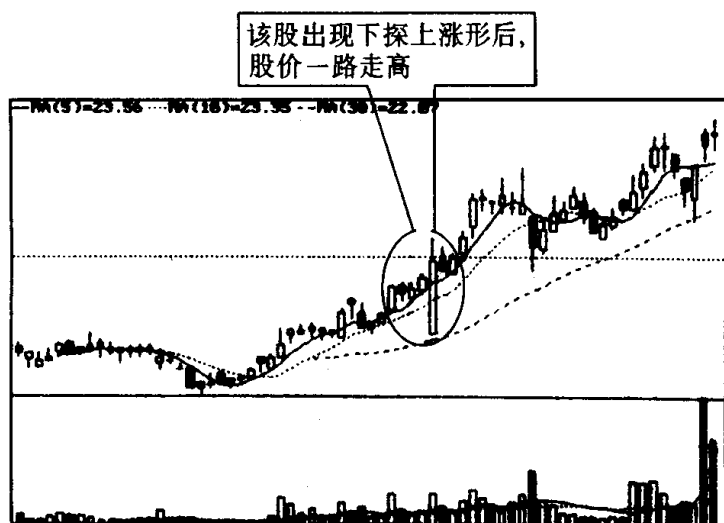


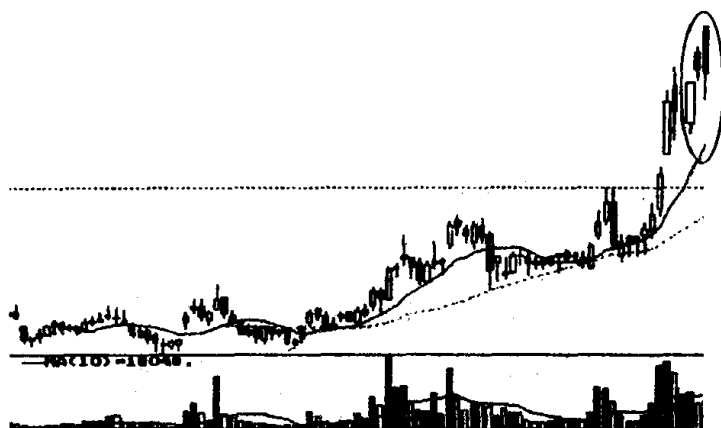
图 250

较好的扬升行情。如果这种 K 线出现在涨势初期,它发出的买进信号就更加可靠(见图 250)。因此,投资者见此 K 线,可考虑继续买进,并采取持筹待涨的策略。

第三十二节 双飞乌鸦、三只乌鸦与下跌三连阴的识别和运用

习题 61 图 251 画圈处的 K 线组合很少出现,但一旦出现很值得投资者重视。你知道这是为什么吗?现在请你就此谈谈它的特征和作用。

参考答案 这是一种较典型的向淡型 K 线组合。其特征是:在上升市道中,连续出现两根阴线,第一根阴线的实体部分,与上一根 K 线的实体形成一段小缺口,构成起飞的形状,可惜翅折羽断,没有飞起来,出现了高开低收的情形。第二根阴线,也重蹈第一根阴线的覆辙,同样走出了高开低走的结局,不过第二根阴线比较长,已把第一根阴线完全吞并了(见图 252)。从图形上看,它好像两个乌鸦在空中盘旋,因此人们给它起了个双飞乌鸦的名称。



(该股往后走势见图 253)

图 251

双飞乌鸦出现, 令人生厌, 它说明人们对这个市道已很烦腻, 做多力量严重不足, 后市由升转跌可能性很大(见图 253)。

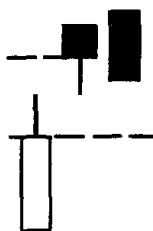


图 252

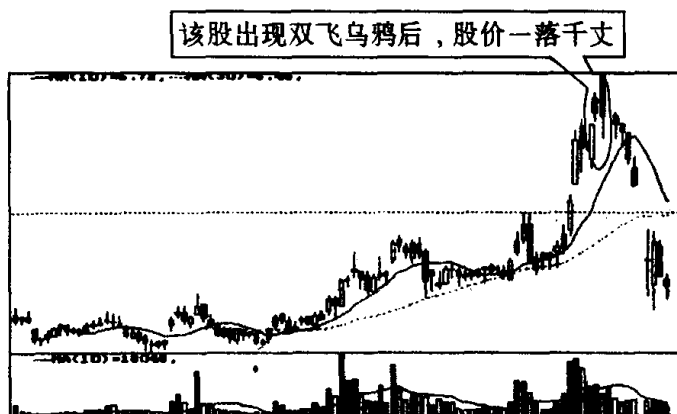
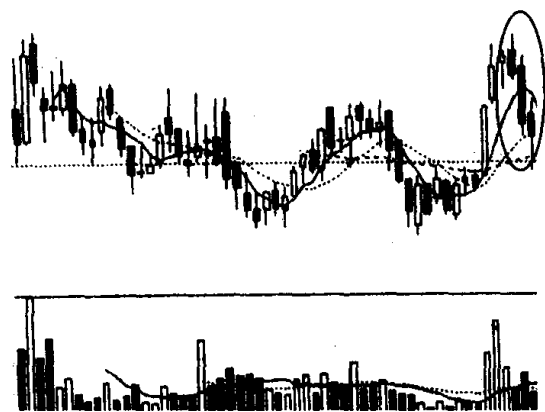


图 253

习题 62 指出图中画圈处 K 线组合的名称、特征和技术含义，并说明投资者见此 K 线组合图形应如何操作？



(该股往后走势见图 256)

图 254

参考答案 图中画圈处的 K 线组合叫“三只乌鸦”，又称暴跌三杰。其特征是：在上升行情中，股价在高位出现 3 根连续跳高开盘，但却以阴线低收的 K 线。这就是三只乌鸦（见图 255）。在上升行情中出现三只乌鸦，说明上档卖压沉重，多方每次跳高开盘，均被空方无情地打了回去。这是股价暴跌的先兆，是个不详的讯号（见图 256）。因此，投资者见此 K 线图形应及早离场。

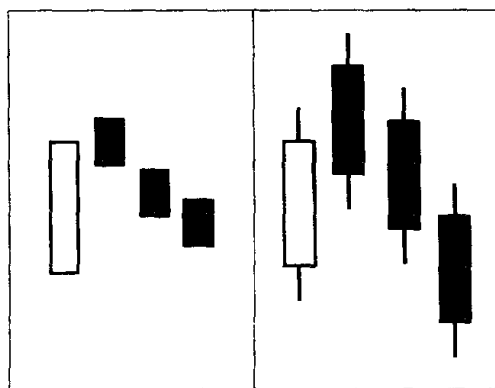


图 255

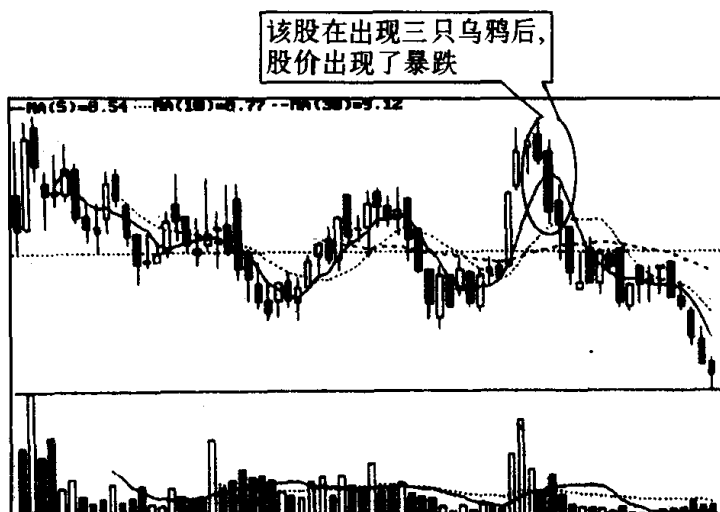
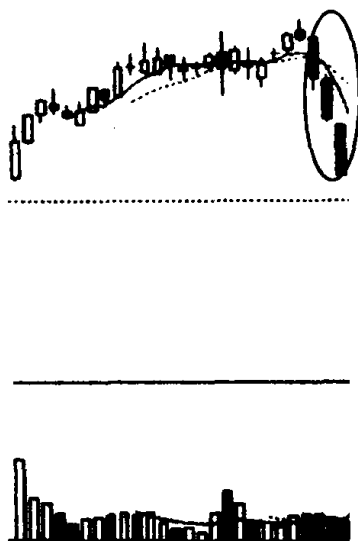


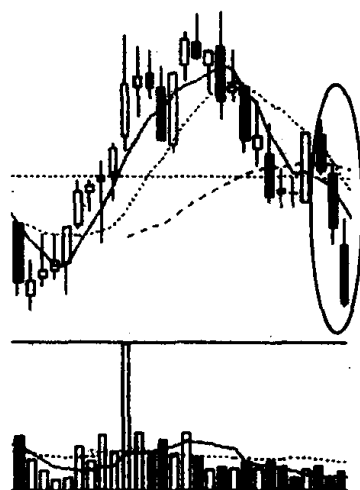
图 256

习题 63 指出下面两张图中画圈处的 K 线组合的名称、特征，并说明投资者见此 K 线组合图形应如何操作？



(该股往后走势见图 260)

图 257



(该股往后走势见图 261)

图 258

参考答案 上面两张图画圈处的 K 线组合叫“下跌三连阴”。其特征是：在下跌趋势中，接连出现了 3 根大阴线或中阴线，每次

都以低价报收,而且最后一根阴线往往力度最强(见图 259)。下跌三连阴在下跌初期出现,表明空方力量强大,下跌还有空间(见图 260)。因此,投资者此时应果断停损离场,退出观望。下跌三连阴在下跌末期出现,也即在股价连续下挫的情况下出现,是空方能量耗尽的一种表示,如果下跌时成交量也急剧放大,这往往是跌势到头的一种信号(见图 261),行情将由卖变买,市道由弱转强,因此,投资者此时见到下跌三连阴后不要恐慌,切勿盲目割肉。退一步说,即使股价日后还有下跌空间,它也要等到反

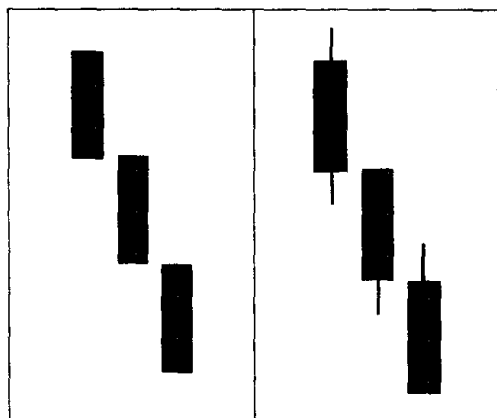


图 259

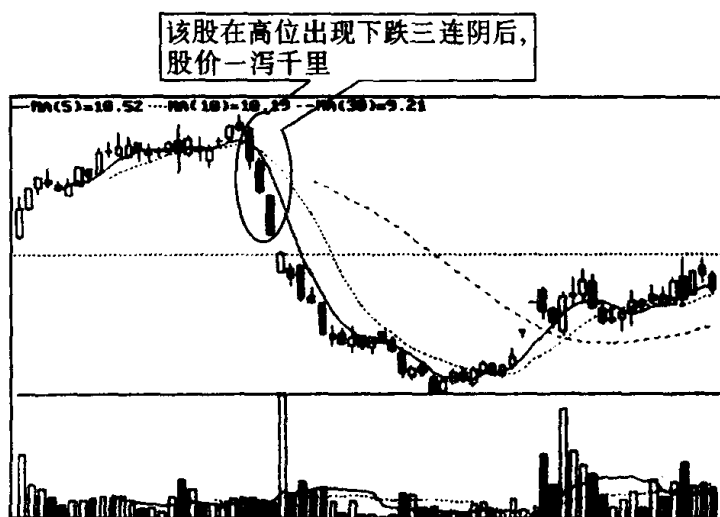


图 260

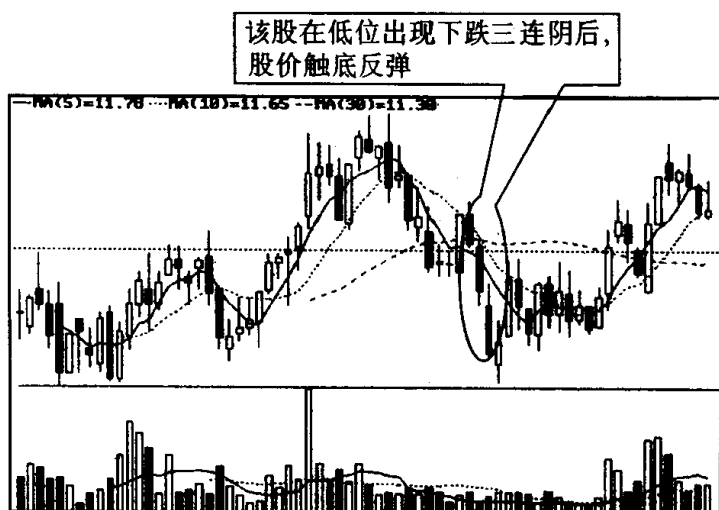


图 261

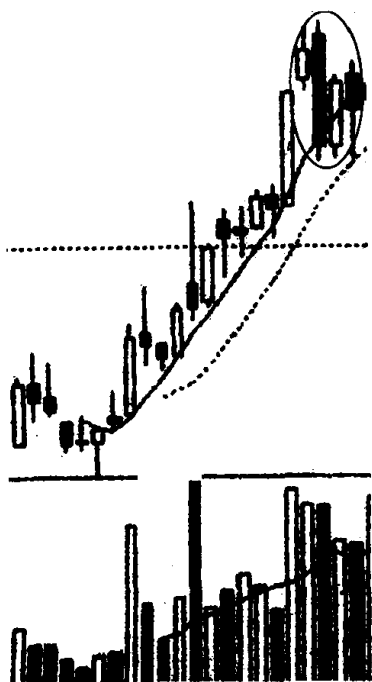
弹时空方打击能量重新聚集后,才会继续下跌。所以,投资者从最坏角度考虑,也须等到三连阴触底反弹时放空,这样也好减少一些损失。另外在很多情况下,股价三连阴见底后,反转向上的机会也屡见不鲜,投资者如在三连阴后及时买进,说不定能抱上一个金娃娃。

第三十三节 下降覆盖线、阳线跛脚形与倒三阳的识别和运用

习题 64 指出图 262 画圈处的 K 线组合的名称、特征和技术含义,并说明投资者见此 K 线组合图形应如何操作?

参考答案 图 262 画圈处的 K 线组合叫“下降覆盖线”。其特征是:在上升行情中,先出现了一根穿头破脚的阴线,第二天收出了一根阳线,但紧接着又收出了一根低收的阴线,并已深入到前一根阳线之内(深入部分越长,力度越大),这就构成了下降覆盖线(见图 263)。下降覆盖线出现,在技术上是一种见顶信号,股价日后下挫的可能性很大,(见图 264)。因此,投资者见此图形应及时

停损离场。



(该股往后走势见图 264)

图 262

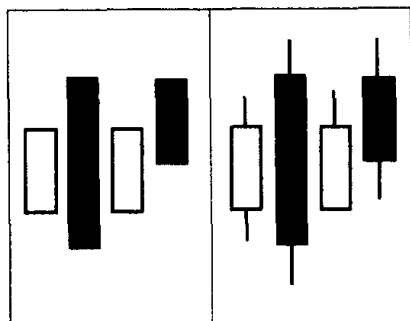


图 263

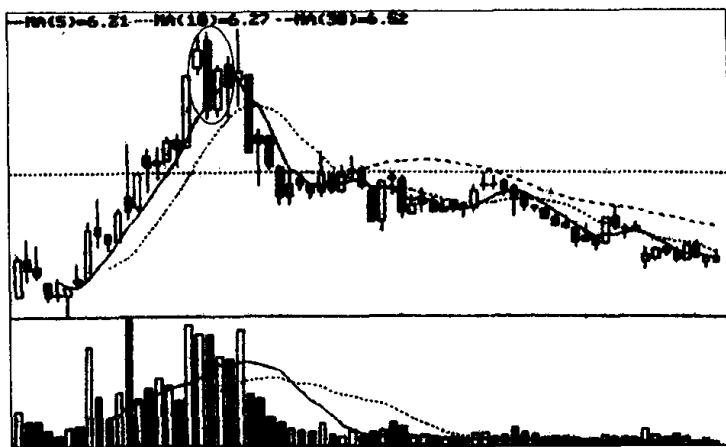
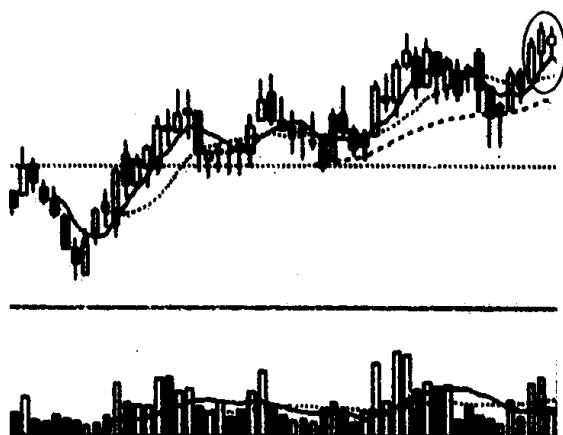


图 264

习题 65 指出图 265 画圈处的 K 线组合名称、特征和作用,并说明投资者见此 K 线组合图形应如何操作?



(该股往后走势见图 267)

图 265

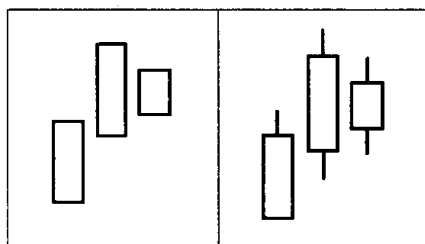


图 266

该股出现阳线跛脚形后,股价像
断了线的风筝,直线下落

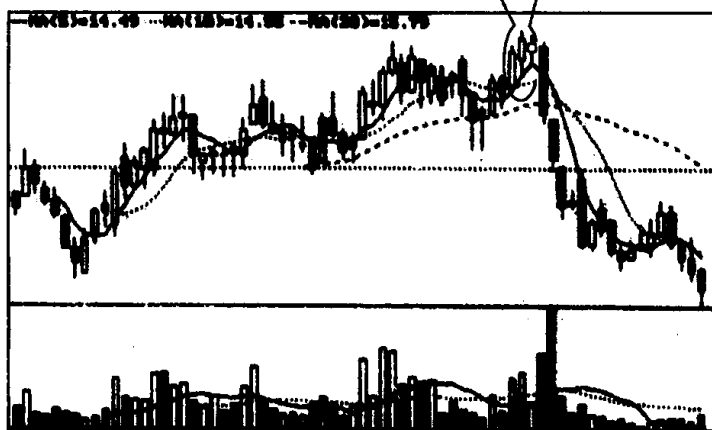
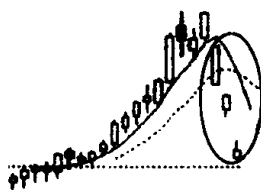


图 267

参考答案 图 265 画圈处的 K 线组合叫“阳线跛脚形”。其特征是：股价经过一段较大幅度的上涨后连续出现了 3 根以上的阳线（含 3 根），后面两根阳线都是低开，且最后一根阳线收盘价比前面阳线收盘价要低。这在图形上就成了一个“跛脚”状（见图 266）。在涨势中出现阳线跛脚形，说明上档抛压沉重，是一种卖出信号，如果它出现在股价有一段较大涨幅之后，这种卖出信号就较为可靠（见图 267）。因此，投资者见此图形后应考虑适时做空，避免股价下跌带来的风险。

习题 66 指出图中画圈处的 K 线组合的名称、特征和作用，并说明投资者见此 K 线组合图形应如何操作？



（该股往后走势见图 270）

图 268

参考答案 图中画圈处的 K 线组合叫“倒三阳”。其特征是：股价连拉 3 根阳线，但走势同连拉 3 根阴线一般，股价一天比一天低（见图 269）。因这种 K 线组合与通常的连拉 3 根阳线的走势完全不同，因而我们给它取名为倒三阳。一般而言，倒三阳常出现在庄家股上，这是庄家为了出逃而放出的一颗烟幕弹。倒三阳的出现，意味股价已步入了跌势，投资者不要受阳线所迷惑，而要趁早卖出股票离场为妙（见图 270）。

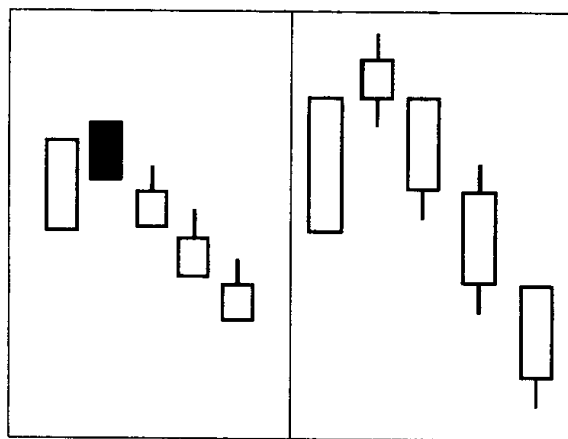


图 269

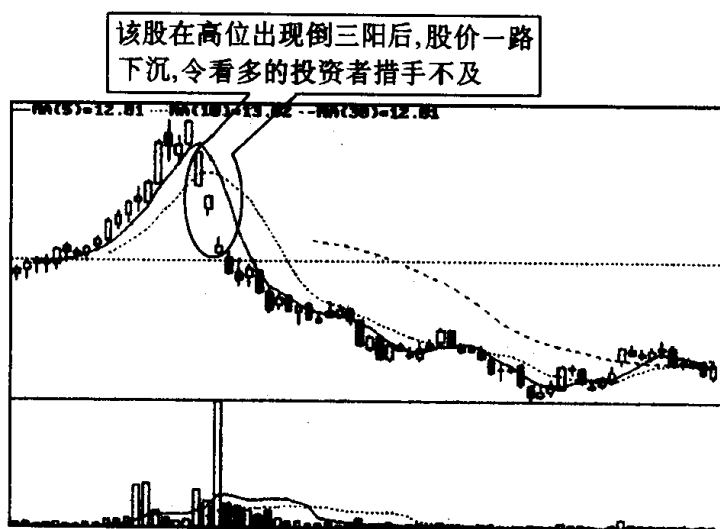
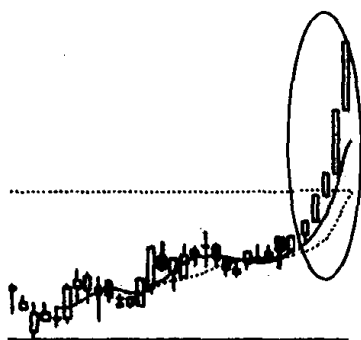


图 270

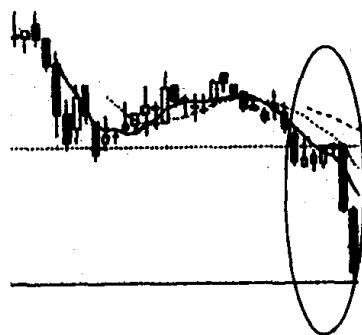
第三十四节 加速度线与弧形线的识别和运用

习题 67 下面 4 张图画圈处的 K 线组合都属于同一种类型，你知道它们的名称、特征和作用吗？



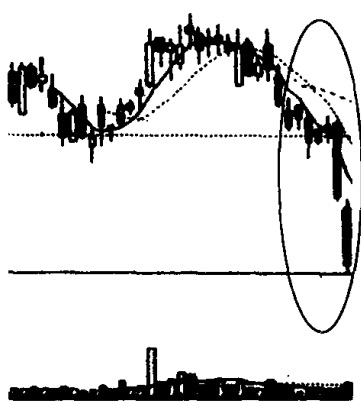
(该股往后走势见图 276)

图 271



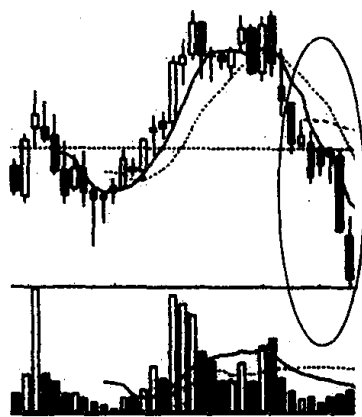
(该股往后走势见图 277)

图 272



(该股往后走势见图 278)

图 273



(该股往后走势见图 279)

图 274

参考答案 这 4 张图画圈处的 K 线组合叫“加速度线”，意即它像一个长跑运动员，越接近终点，步伐越快。股市走势有时也和长跑一样，越是接近目标位置，如峰顶或谷底，其涨幅或跌幅都会出现加速现象（见图 275）。正因为如此，我们看到在上升行情中，一些个股先是缓慢地爬升，后来就越涨越快，接连拉出很有力度的中阳线或大阳线。此时上升行情也就走到了尽头。反之，在下跌行情中，一些个股先是缓慢地下滑，后来越跌越快，接连拉出很有

力度的中阴线或大阴线，这时下跌行情一般也就到了终结的时候。根据深沪股市实战经验加速度线在上涨行情中所产生的转向作用，要比在下跌行情中所产生的转向可靠得多。也就是说，当股价上升时先是慢慢涨，后来产生加速上扬行情，这时股价十有八九会在短时期内掉头向下(见图 276)。而当股价下跌时，先是

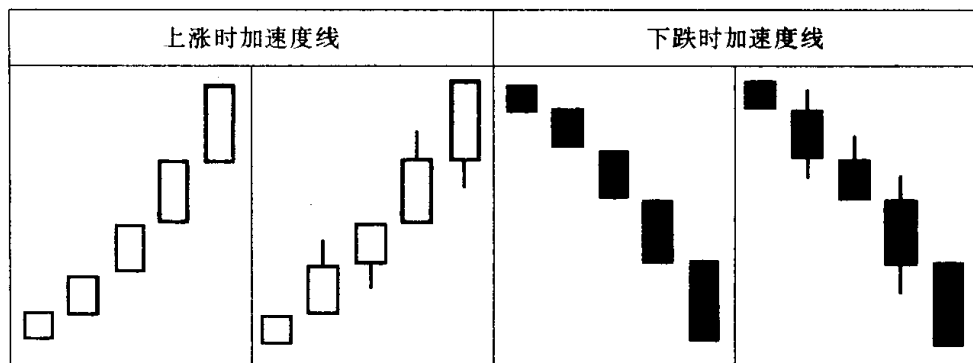


图 275

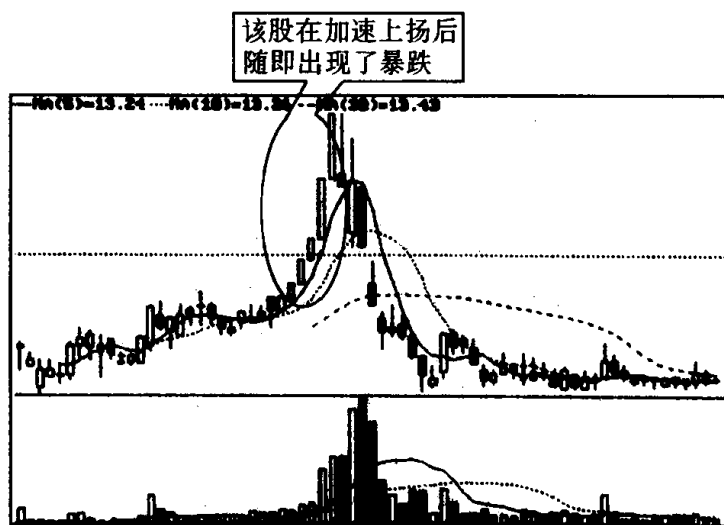


图 276

慢慢地跌，后来产生加速下跌行情，这时股价见底的可能性较大，但不一定会马上产生上升行情。这时它有可能横盘筑底后再慢慢向上(见图 277)，当然少数会沉底后，马上反转向向上(见图 278)，

或横盘筑底失败，继续向下(见图 279)。产生这种情况的原因，恐怕是应验了一句古话：下跌容易上涨难。故投资者对暴跌后的筑底行情要多看少动。持筹者不要再盲目割肉，待股价反弹或上涨时，再考虑卖出；持币者等筑底向上盘升迹象出现时，再考虑建仓。

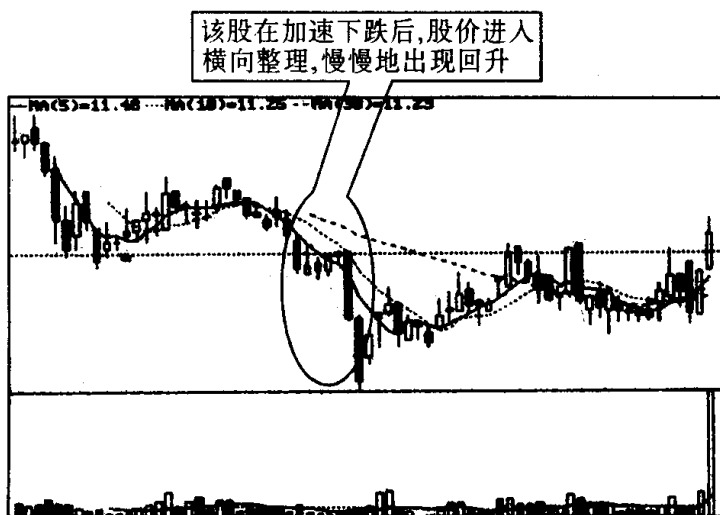


图 277

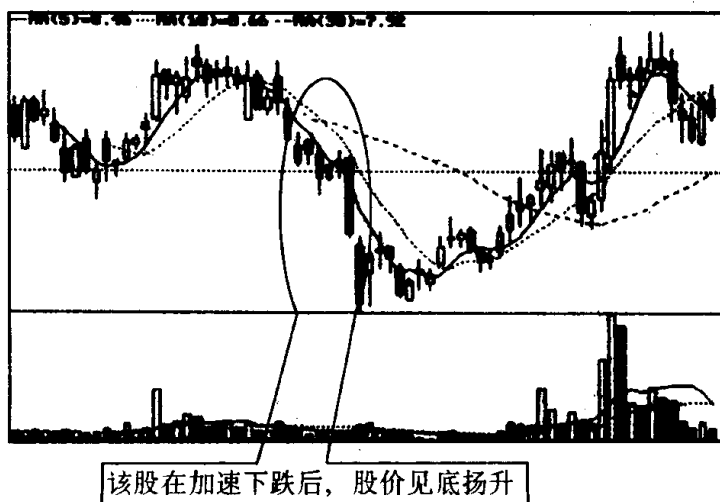


图 278

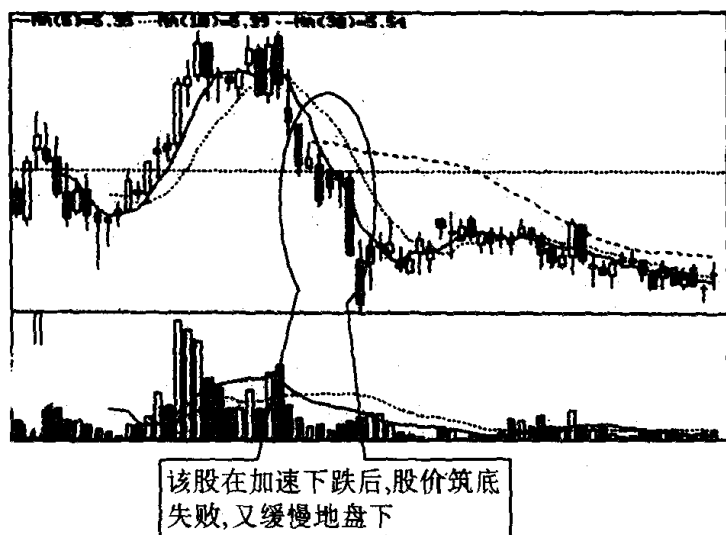
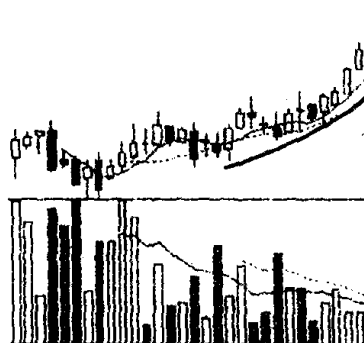


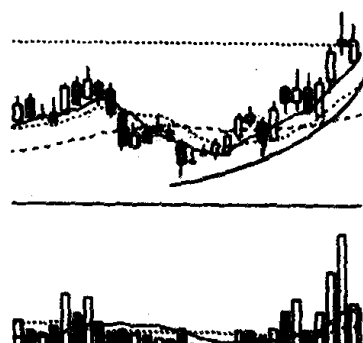
图 279

习题 68 指出下面两张图画线处的 K 线组合名称、特征和技术含义,并说明投资者见此 K 线组合图形应如何操作?



(该股往后走势见图 283)

图 280



(该股往后走势见图 284)

图 281

参考答案 上面两张图画线处的 K 线组合叫“弧形线”。其特征是:股价升幅缓慢,在上上下下波动中,底部逐渐抬高,呈一个向上的抛物线(见图 282)。弧形线一旦形成,被市场认可后,其上升周期较长,涨幅也较大。这里我们看图 283、图 284 在出现弧形线之后的股价走势,就可以发现它们在这之后都出现了令人欣喜

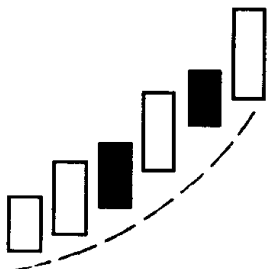


图 282

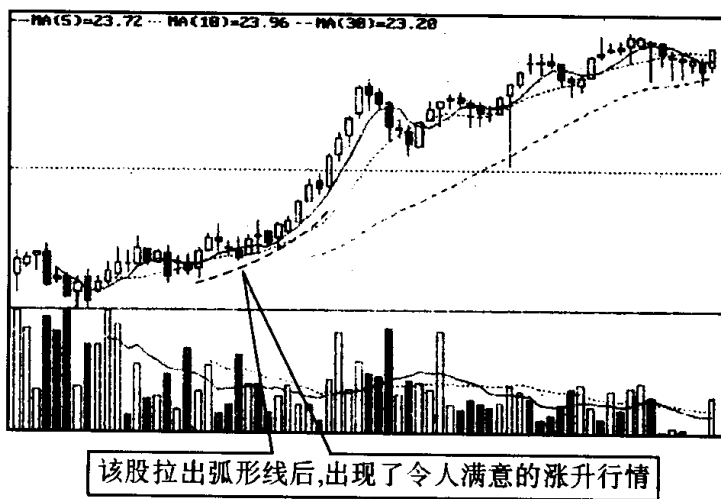


图 283

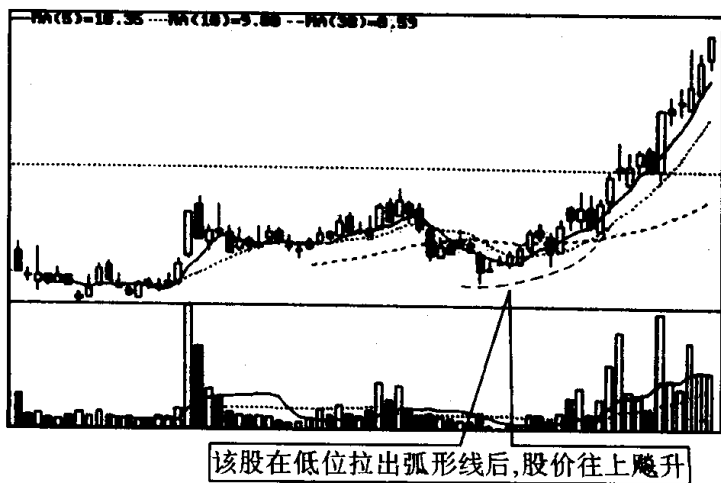
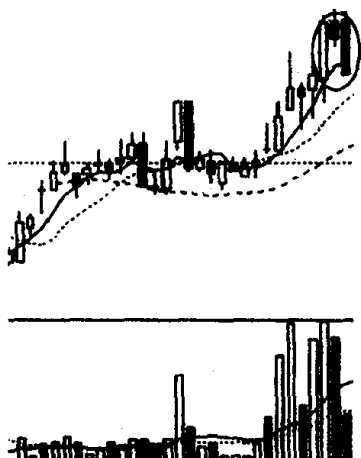


图 284

的攀升行情。因此有人建议买到这种股票,不要轻易放过它,持股时间可以相对长一些。在操作中,一般的技术指标都可暂不理睬,只要紧盯着 SAR 指标^[注]的信号走即可。

第三十五节 镊子线、尽头线与搓揉线的识别和运用

习题 69 下面两张图画圈处属于什么 K 线组合? 请你说出它们的名称、特征和技术含义,并说明投资者见此 K 线图形应如何操作?



(该股往后走势见图 288)

图 285



(该股往后走势见图 289)

图 286

参考答案 该图画圈处的 K 线组合叫“镊子线”。镊子线中间那根 K 线,几乎是位于左右两根 K 线的顶部。而且其 3 根 K 线的最高价差不多处于同一个价位(见图 287)。为何叫镊子线呢? 因为它的形状像有人拿着镊子,小心翼翼地夹着一块小东西,生怕它掉下去的样子,故名为镊子线。镊子线出现在上涨趋势中,尤其是有了一段较大涨幅后,往往预示着股价将会见顶回落(见图 288);

[注] 关于 SAR 指标,本书以后几册会详细介绍。

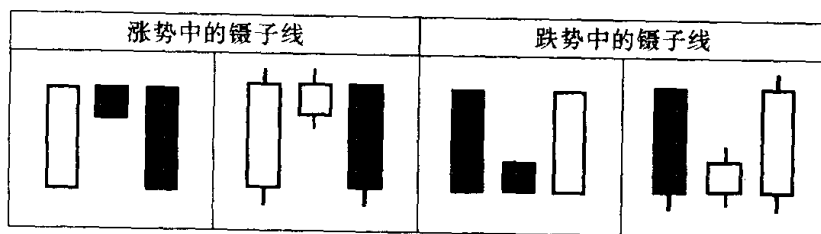


图 287

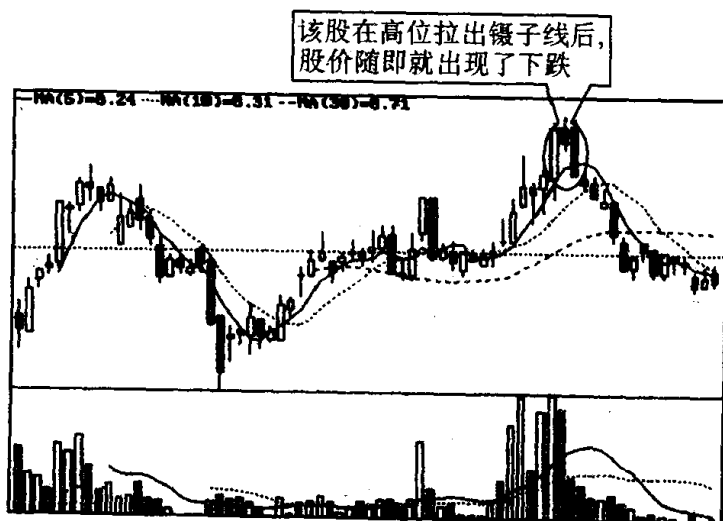


图 288

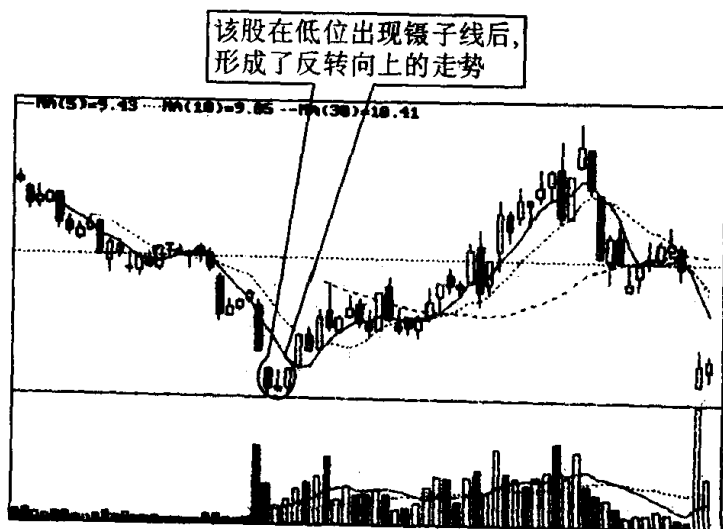
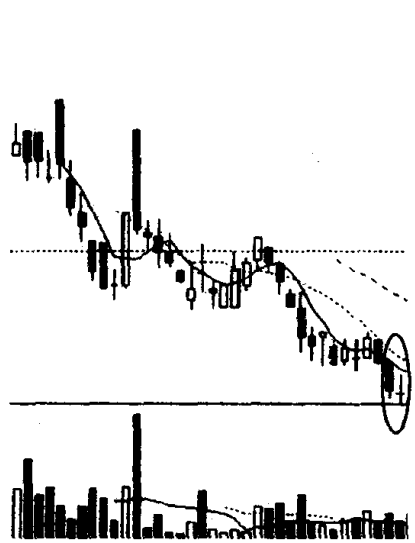


图 289

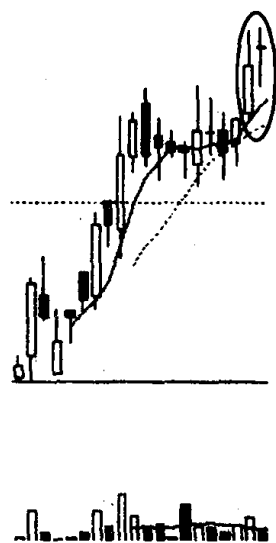
镊子线出现在下跌趋势中,尤其是在有了一段较大跌幅后,往往预示着股价会见底回升(见图 289)。根据这个道理,投资者在涨势中看到镊子线就不能再盲目看多,而要进行减仓操作,若发现股价掉头向下,则要果断地抛空离场;投资者在跌势中看到镊子线就不能再盲目看空,待股价企稳时,可适量买进一些股票。

习题 70 下面两张图画圈处是属于同一种 K 线组合。请你说出它们的名称、特征和技术含义,并说明投资者见此 K 线组合图形应如何操作?



(该股往后走势见图 293)

图 290



(该股往后走势见图 294)

图 291

参考答案 图中画圈处的 K 线组合叫“尽头线”。顾名思义,尽头线就是表示行情到头的意思。其特征是:在上升趋势中,原行情进行得相当顺利,一般都认为这个趋势会继续进行下去,结果在一根长阳线的上影线右方,却出现了一根完全涵盖在上影线范围内的短十字线或小阴(小阳)线,这就是尽头线。反之,在下跌趋势中亦然(见图 292)。尽头线是转势信号,它在上涨行情中出现,是预示股价要下跌,这时投资者要考虑卖出。它在下跌行情中出现,预示股价要上涨,这时投资者要考虑买进。另外,这里要注意的是在股市中类似图 292 这样标准的尽头线出现机会并不多,而大多数

情况下股市中出现的都是不太标准的尽头线^[注]。但是即使如此，这种不太标准的尽头线所发出的股价转向信号，对投资者仍然有相当大的参考价值。如图 293、图 294 两张图中出现的尽头线，就不是标准形态。但它们出现后，股价运行方向确实实发生了逆转。可见，只要是尽头线，不论形态是否标准，投资者都要密切关注。在涨势中出现尽头线，要进行减仓操作，并随时做好退场准备；在跌势中出现尽头线，不应再盲目看空，可在股价回升时适时做多。

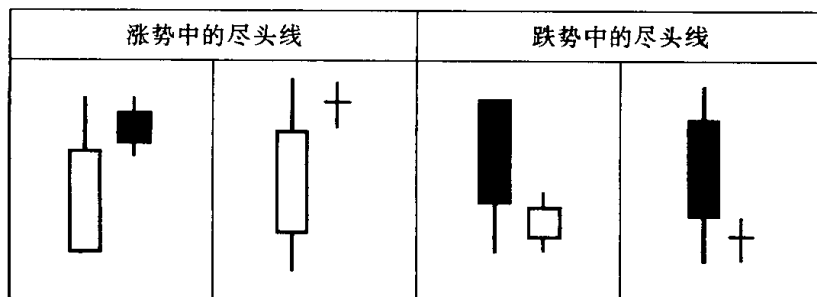


图 292

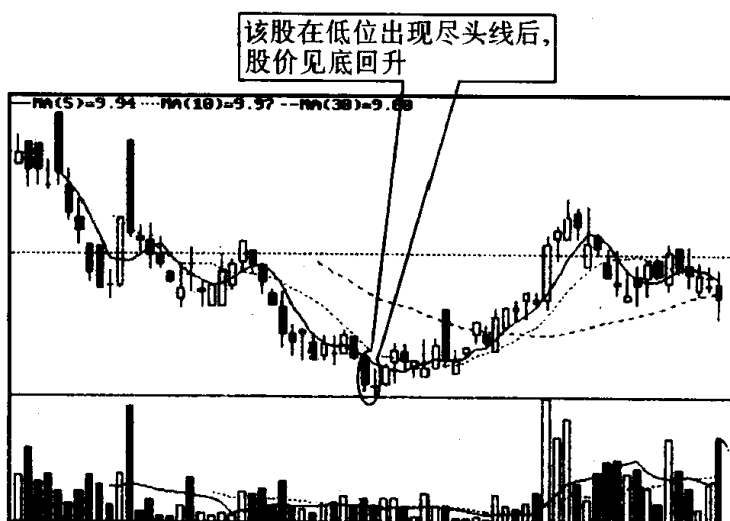


图 293

〔注〕 如果第二根 K 线的上下影线较长，但只要它的实体较短，且完全被第一根 K 线的影线所包容，也可以看作是尽头线。

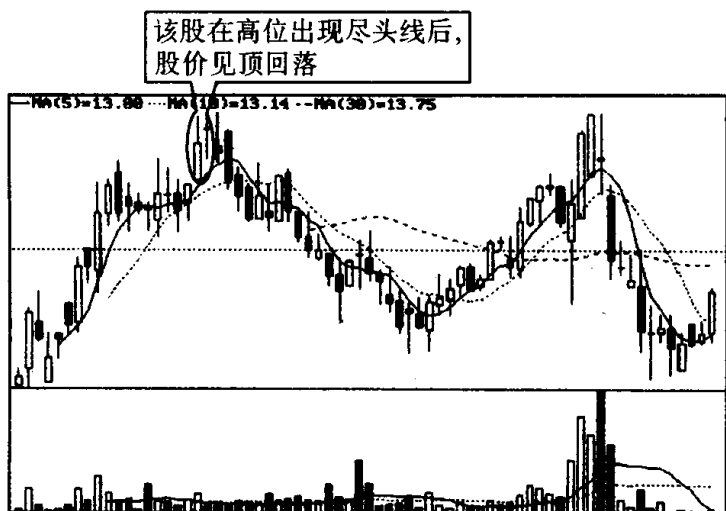
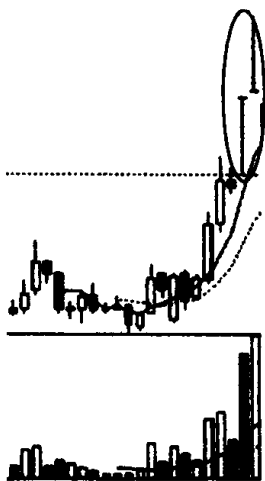


图 294

习题 71 指出图中画圈处的 K 线组合的名称、特征和技术含义，并说明投资者见此 K 线组合图形应如何操作？



(该股往后走势见图 297)

图 295

参考答案 图中画圈处的 K 线组合叫“搓揉线”。其特征是：它由一根 T 字线和一根倒 T 字线组成(见图 296)。搓揉线，顾名思义就是股价像织物一样在洗衣机中反复受到搓揉的意思。很明

显,有这般能耐对股价进行反复搓洗的必然是庄家所为。庄家这样做的目的无非是两个:(1)洗盘;(2)变盘。因此,在上涨途中,尤其是涨势初期,出现搓揉线,大多是庄家用此方法来清洗浮筹,以此减轻上行压力,而在上涨末期,尤其是股价已有了很大涨幅后出现搓揉线,这大多是庄家通过上下震荡搅乱人们视线,以达到高位出货的目的。所以,当高位出现搓揉线,成交量有明显放大时,应警惕庄家出逃,大盘随时有变盘的可能(见图 297)。一般而言,投

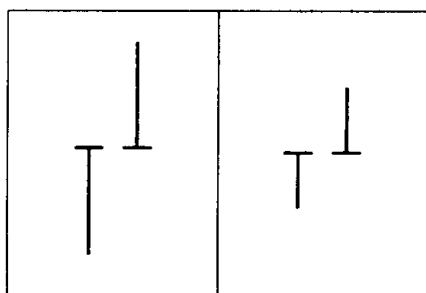


图 296

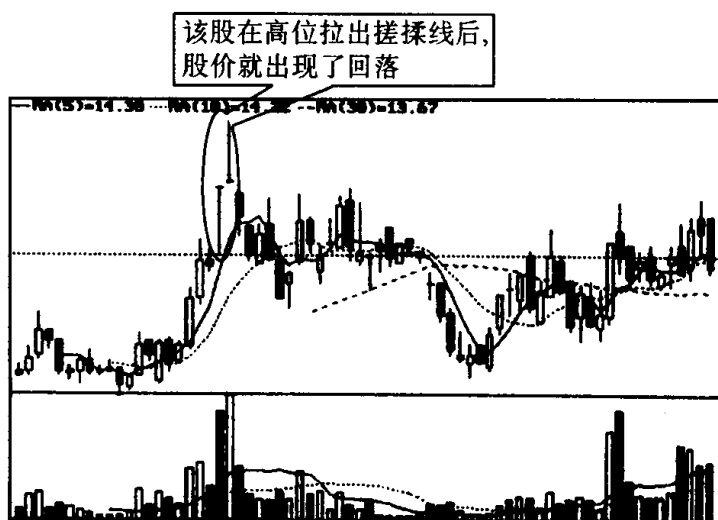


图 297

资者见到搓揉线,应考虑庄家的所作所为,及时作好应变的准备。如是洗盘可适量买进;如是变盘应及时减仓。那么如何来辨别庄家利用搓揉线是进行洗盘,还是变盘呢?当然首先要看股价的上

涨幅度，譬如说股价短时期就涨了几倍，或是其绝对价位已远远超过同类性质股票的股价，就有变盘嫌疑，反之，则可看成是洗盘。但是，在超强市场、超强个股中，一些个股常常会出现超涨了还会再超涨的现象，一时倒很难断定它是否“涨幅过大”。这时投资者可改用别的方法来辨别搓揉线性质，这里我们介绍几种区别方法：第一，如果是上涨途中的洗盘，T字线和倒T字线的影线一般都较短，为小K线形态，而上涨末端的变盘，T字线和倒T字线的影线都很长，为大K线形态。第二，如果是上涨途中的洗盘，成交量较小，而上涨末端的变盘，成交量很大。第三，如果是上涨途中的洗盘，日后股价重心必然上移，而上涨末端的变盘，日后股价重心必然下沉。可见，投资者只要掌握好这几个要点，还是比较容易辨别搓揉线性质的。

综合练习一

——K 线概念的辨析

习题 72 按照 K 线理论,下列 K 线图形只要放在不同地方,表达的意思就完全不同。现在请你说出这几种 K 线名称,并说明它们在什么情况下会产生截然不同的含义。

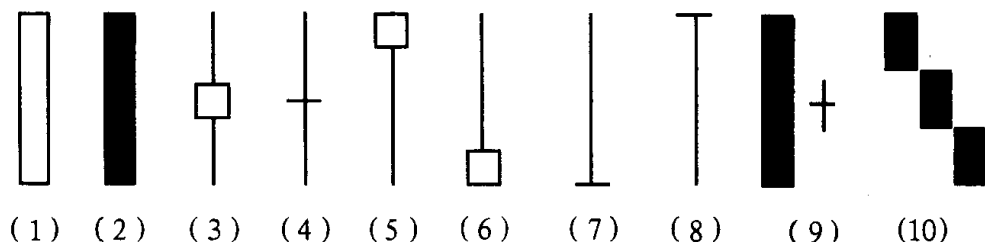
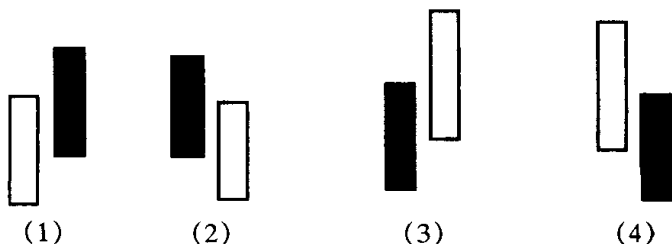
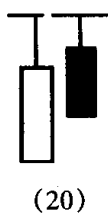
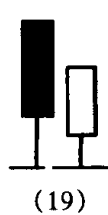
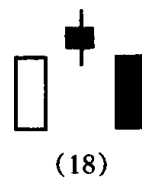
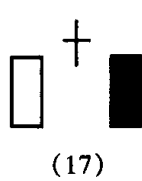
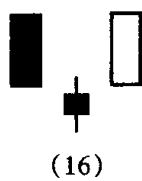
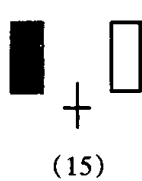
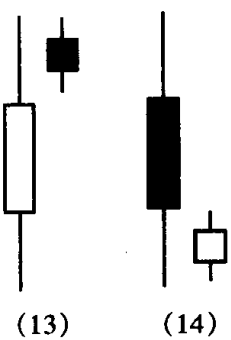
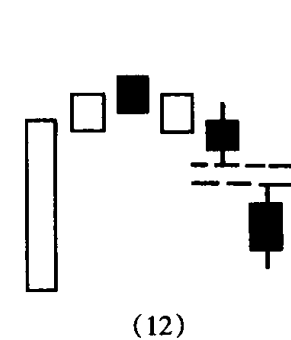
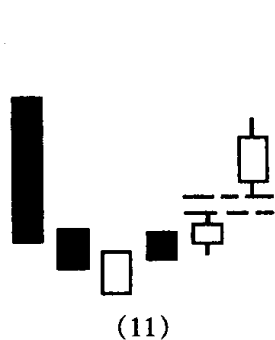

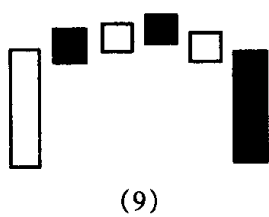
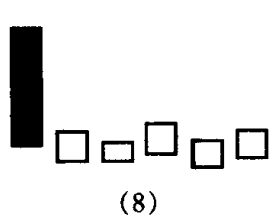
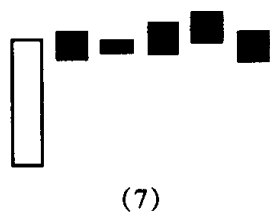


图 298

参考答案 上面 10 种 K 线图形依次分别为:(1)大阳线、(2)大阴线、(3)螺旋桨、(4)长十字线、(5)锤头线(吊颈线)、(6)倒锤头线(射击之星)、(7)倒 T 字线、(8)T 字线、(9)身怀六甲、(10)下跌三连阴。一般来说,它们在下列情况下,会产生截然不同的含义:在连续下跌行情中,尤其是大幅下跌后出现,发出的是止跌信号,可作为买进的重要参考依据;在连续上涨行情中,尤其是大幅上扬后出现,发出的是见顶信号,可作为卖出的重要参考依据。

习题 73 下面的 K 线组合,可以分成两类:一类为顶部形态,是卖出信号;一类为底部形态,是买进信号。现在请你将它们分一下类,并说出它们的名称。





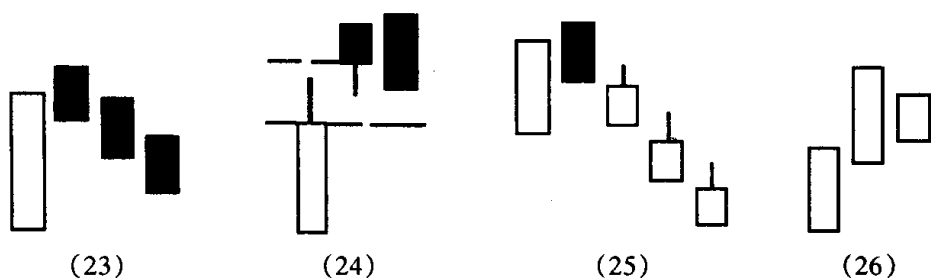
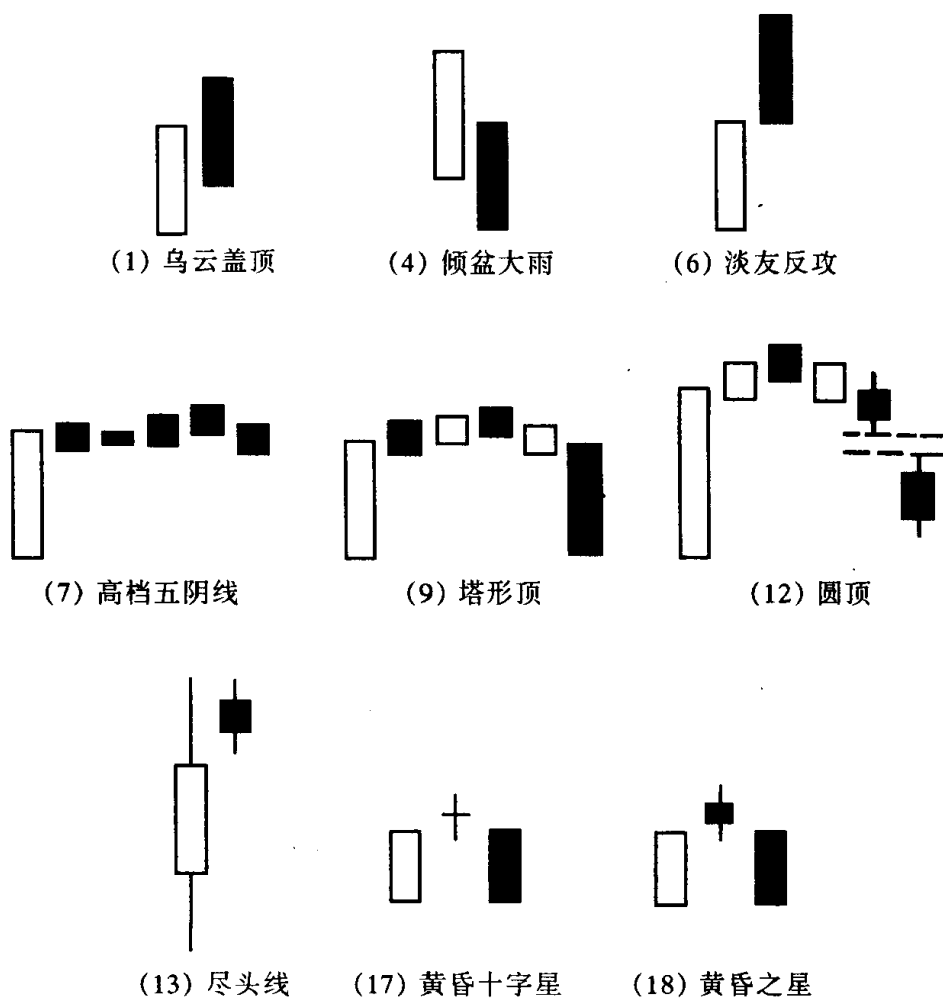
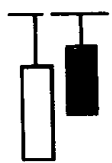


图 299

参考答案

属于顶部形态的 K 线组合有：

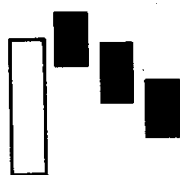




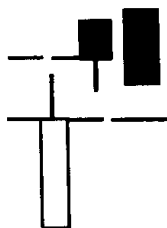
(20) 平顶



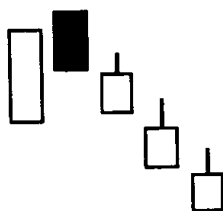
(21) 镊子线



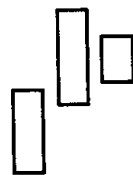
(23) 三只乌鸦



(24) 双飞乌鸦



(25) 倒三阳



(26) 阳线跛脚形

属于底部形态的 K 线组合有：



(2) 曙光初现



(3) 旭日东升




(5) 好友反攻



(8) 低档五阳线



(10) 塔形底



(11) 圆底



(14) 尽头线

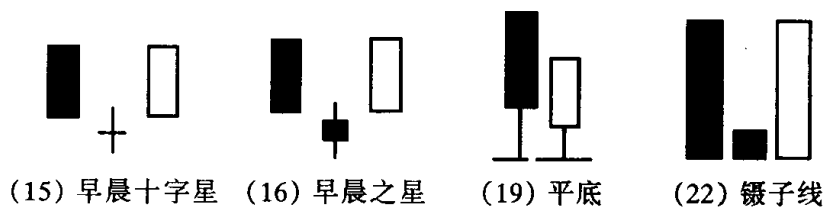


图 300

习题 74 我们将下面的 K 线形态分成 4 组,每一组的 K 线形态的性质、名称都是一样的,但它们之间的信号强弱有较大差异。现在请你说出各组 K 线形态的名称,另按其信号强弱的秩序,依次

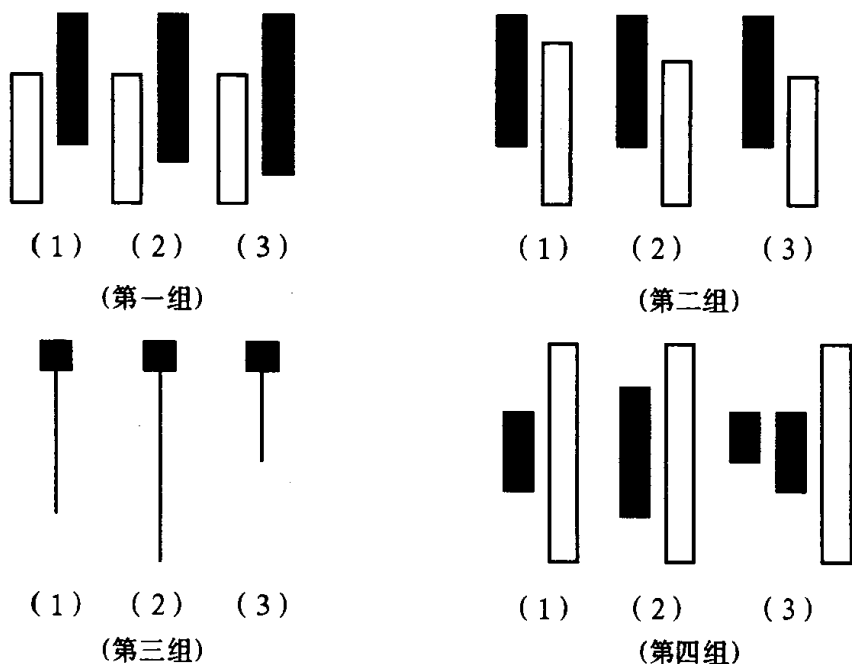


图 301

将它们排成队(由强到弱),并简要说明其中理由。

参考答案 第一组 K 线组合叫乌云盖顶;第二组 K 线组合叫曙光初现;第三组 K 线在底部出现叫锤头线,在顶部出现叫吊颈线;第四组 K 线叫穿头破脚。

第一组乌云盖顶由强到弱的秩序是:(3)、(2)、(1)。理由:阴线

实体深入阳线实体部分越多,信号就越强。

第二组曙光初现由强到弱的秩序是:(1)、(2)、(3)。理由:阳线实体深入阴线实体部分越多,信号就越强。

第三组锤头线(吊颈线)由强到弱的秩序是:(2)、(1)、(3)。理由:下影线越长,信号就越强。

第四组穿头破脚由强到弱的秩序是:(3)、(1)、(2)。理由:阳线包容前面的K线越多,转势力度就越大:阳线与阴线比例越悬殊,信号就越强。

习题 75 试写出各组对立K线或K线组合的名称:

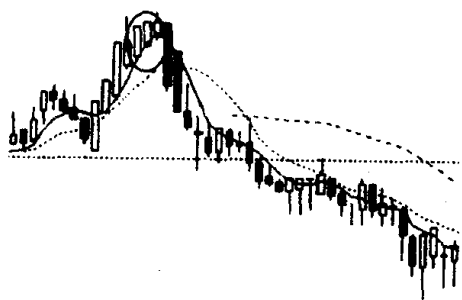
- | | | | |
|----------|-----|-----------|-----|
| (1)大阳线 | () | (2)倒锤头线 | () |
| (3)早晨十字星 | () | (4)乌云盖顶 | () |
| (5)空方尖兵 | () | (6)好友反攻 | () |
| (7)塔形顶 | () | (8)平 顶 | () |
| (9)红三兵 | () | (10)下降抵抗形 | () |

参考答案 (1)大阴线 (2)射击之星 (3)黄昏十字星 (4)曙光初现 (5)多方尖兵 (6)淡友反攻 (7)塔形底 (8)平底 (9)黑三兵 (10)上升抵抗形

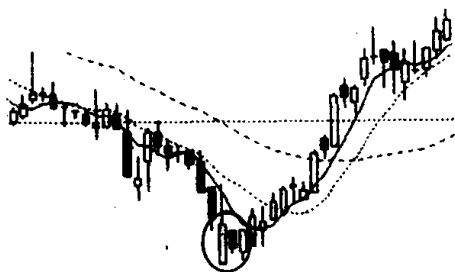
综合练习二

——K 线图形的辨认

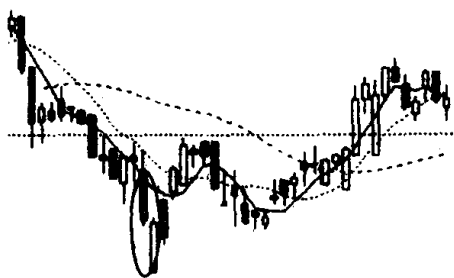
习题 76 下面 20 张小图画圈处和画线处的 K 线形态,反映了多空双方搏斗时,多方占据一定的优势。如我们将多方对空方攻击的过程,分成攻击刚开始、攻击在继续,攻击已接近尾声 3 个时段,那么我们就需要根据情况采取不同的对策。多方攻击刚开始,大胆建仓;多方攻击还在继续,继续买进;多方攻击已近尾声,适时减仓。现在请你将下面图中画圈处或画线处的 K 线形态,按这 3 个时段归类,并说明每种 K 线形态的名称。



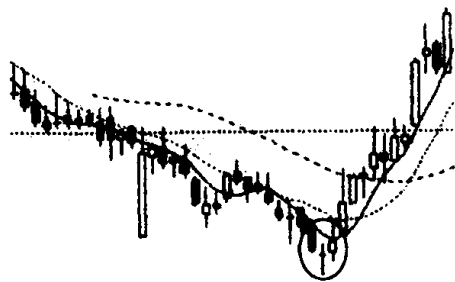
(1)



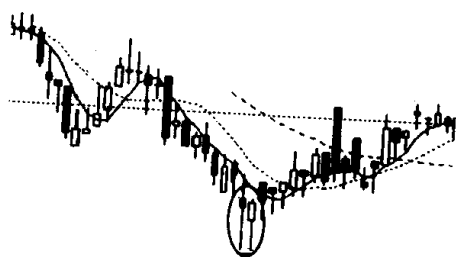
(2)




(3)




(4)



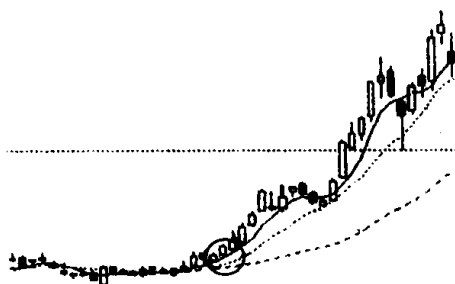
(5)



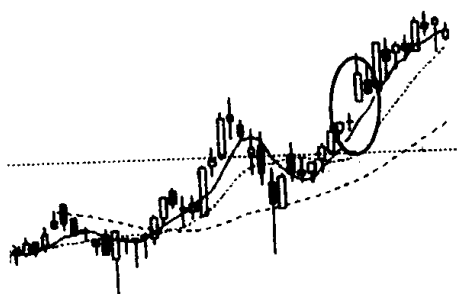
(6)



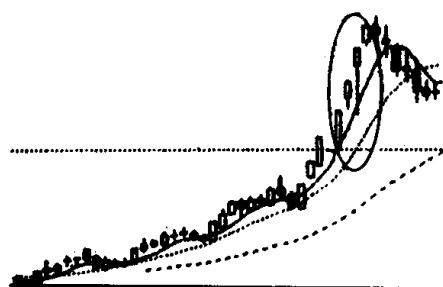
(7)



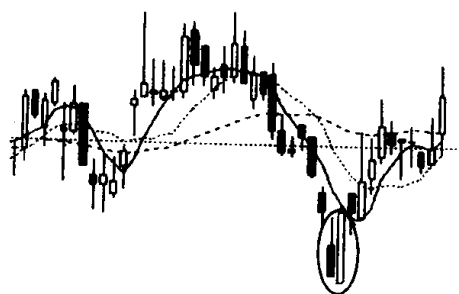
(8)



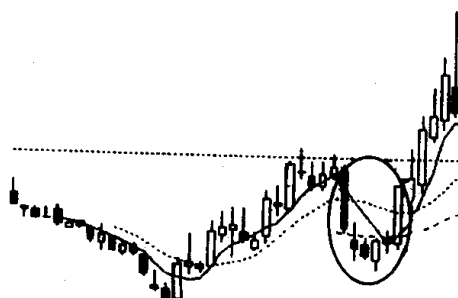
(9)



(10)



(11)



(12)

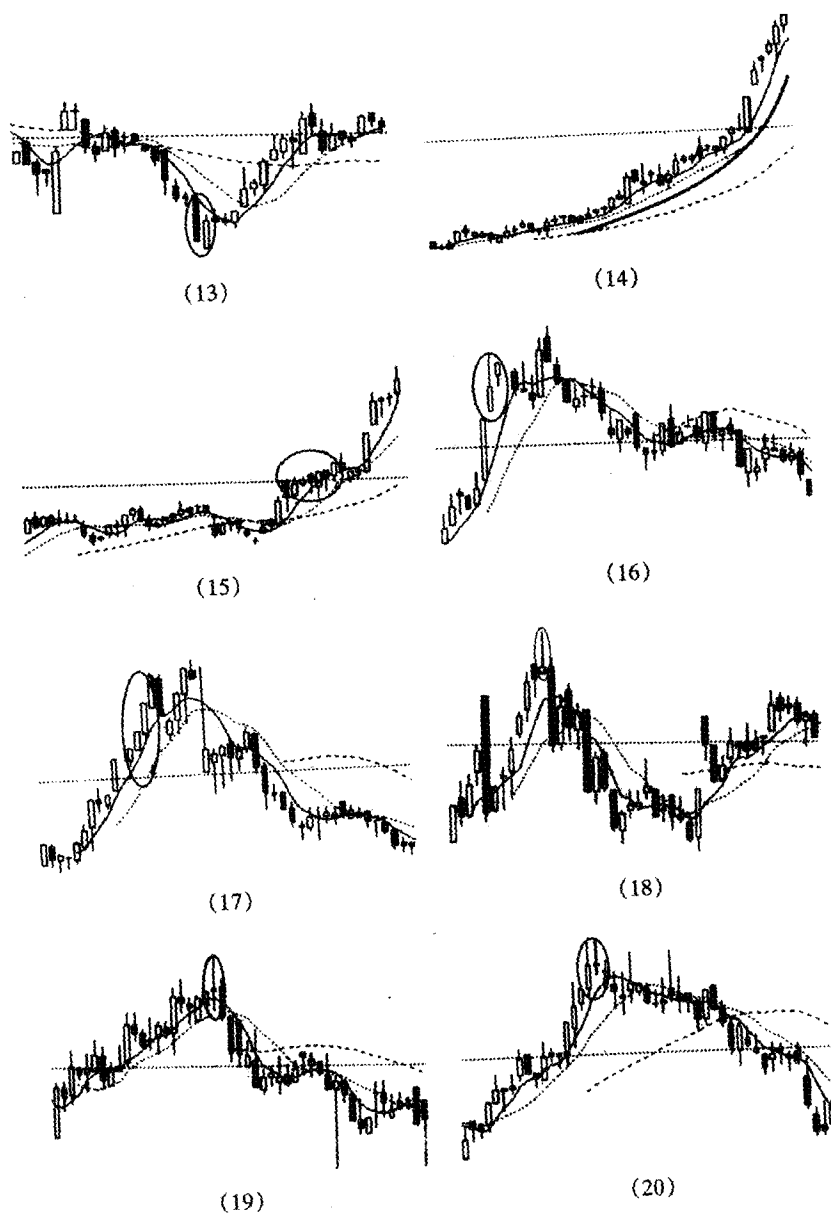


图 302

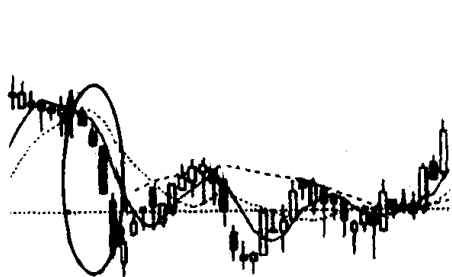
参考答案

属于多方攻击刚开始的 K 线形态有：(2)两红夹一黑，(3)好友反攻，(4)早晨十字星，(5)平底，(6)镊子线，(8)红三兵，(11)穿头破脚，(12)塔形底，(13)曙光初现。

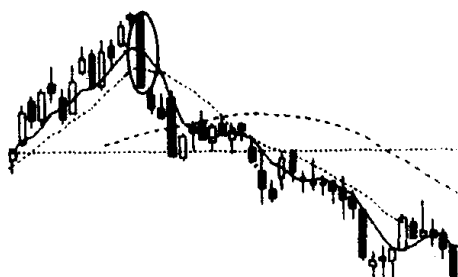
属于多方攻击还在继续的 K 线形态有：(7)上档盘旋形，(9)跳空上扬形，(14)弧形线，(15)稳步上涨形。

属于多方攻击已接近尾声的 K 线形态有：(1)阳线跛脚形，(10)连续跳空三阳线，(16)尽头线，(17)加速度线，(18)射击之星，(19)螺旋桨，(20)平顶。

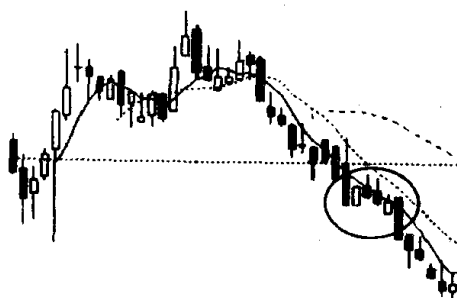
习题 77 下面 20 张小图画圈处的 K 线形态，反映了多空搏斗时，空方占据一定的优势。如果我们将空方对多方打击的过程，分成打击刚开始、打击还在进行、打击已到尾声 3 个时段，那么我们就需要根据不同情况采取不同的对策。空方打击刚开始，必须全线清仓；空方打击还在进行，应继续减仓；空方打击已到尾声，要坚决守仓。现在请你将上面图中画圈处的 K 线形态，按这 3 个时段归类，并说明每种 K 线形态的名称。



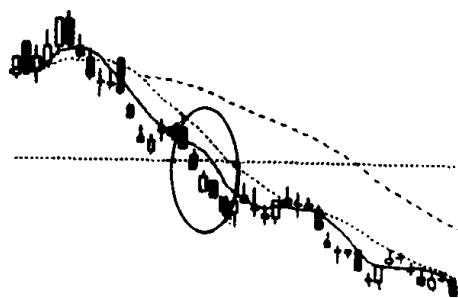
(1)



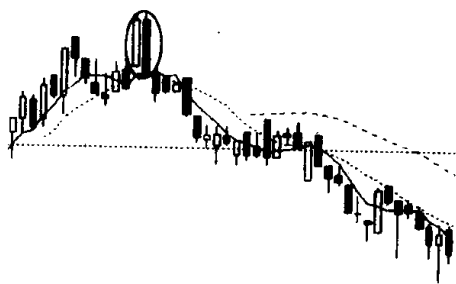
(2)



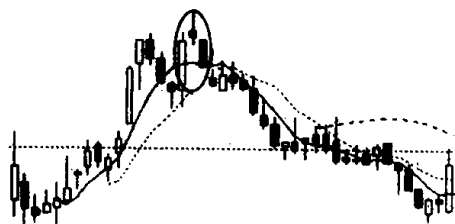
(3)



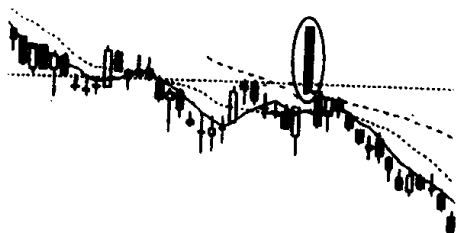
(4)



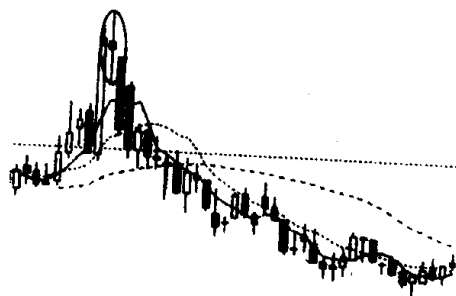
(5)



(6)



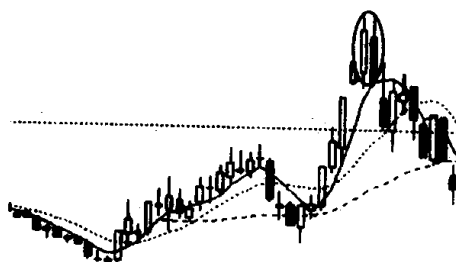
(7)



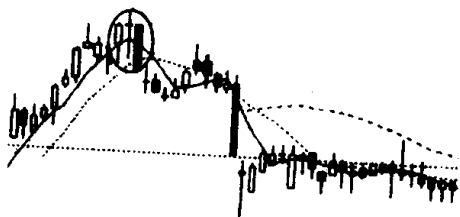
(8)



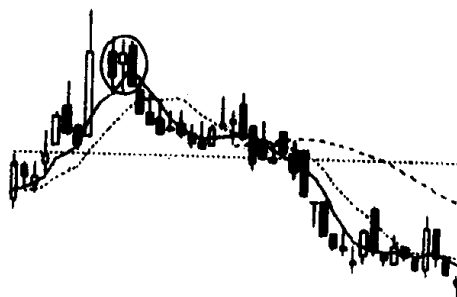
(9)



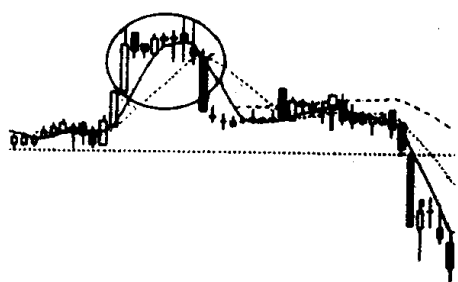
(10)



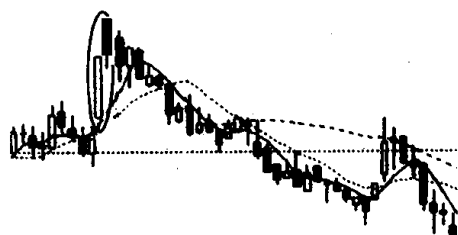
(11)



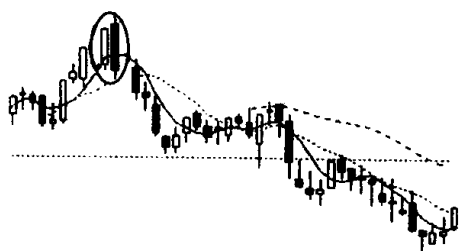
(12)



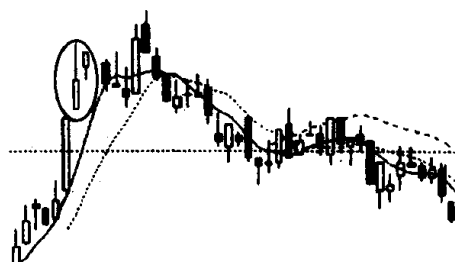
(13)



(14)



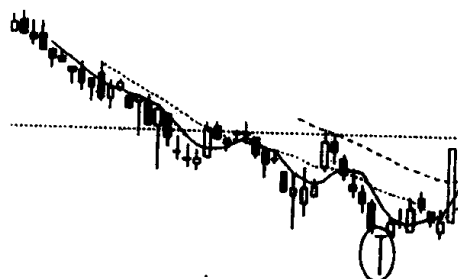
(15)



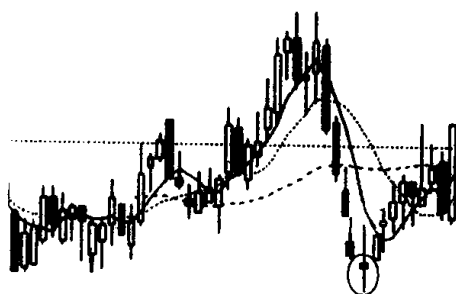
(16)



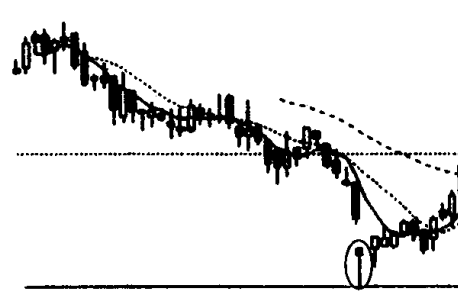
(17)



(18)



(19)



(20)

图 303

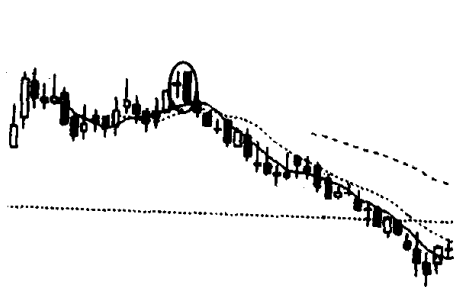
参考答案

属于空方对多方打击刚开始的 K 线形态有：(2)大阴线，(5)平顶，(6)黄昏之星，(8)螺旋桨，(9)三只乌鸦，(10)倾盆大雨，(11)黄昏十字星，(12)两黑夹一红，(13)塔形顶，(14)淡友反攻，(15)穿头破脚，(16)尽头线。

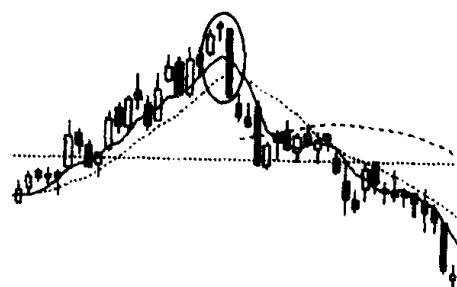
属于空方对多方打击还在进行的 K 线形态有：(3)下跌不止形，(4)下跌抵抗形，(7)高开出逃形。

属于空方对多方打击已到尾声的 K 线形态有：(1)加速度线，(17)倒锤头，(18)T 字线，(19)螺旋桨，(20)锤头线。

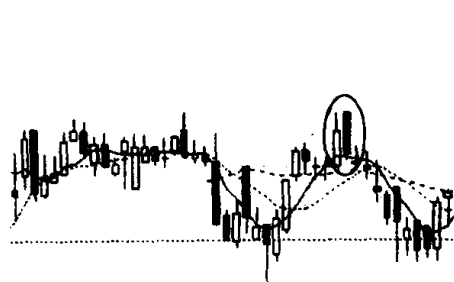
习题 78 下面 8 张小图画圈处都是反映头部信号的 K 线形态，每种 K 线形态内部均包括两种以上(含两种)的 K 线或 K 线组合，这种复合形头部 K 线形态发出的信号比一般头部 K 线形态发出的信号要可靠得多，在实战中有很大的参考价值。现在请你分别说出这些复合形头部 K 线形态中的 K 线组合(包括 K 线)的名称。



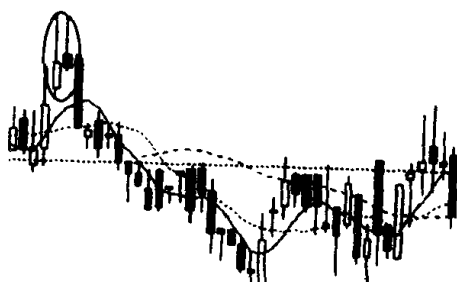
(1)



(2)



(3)



(4)

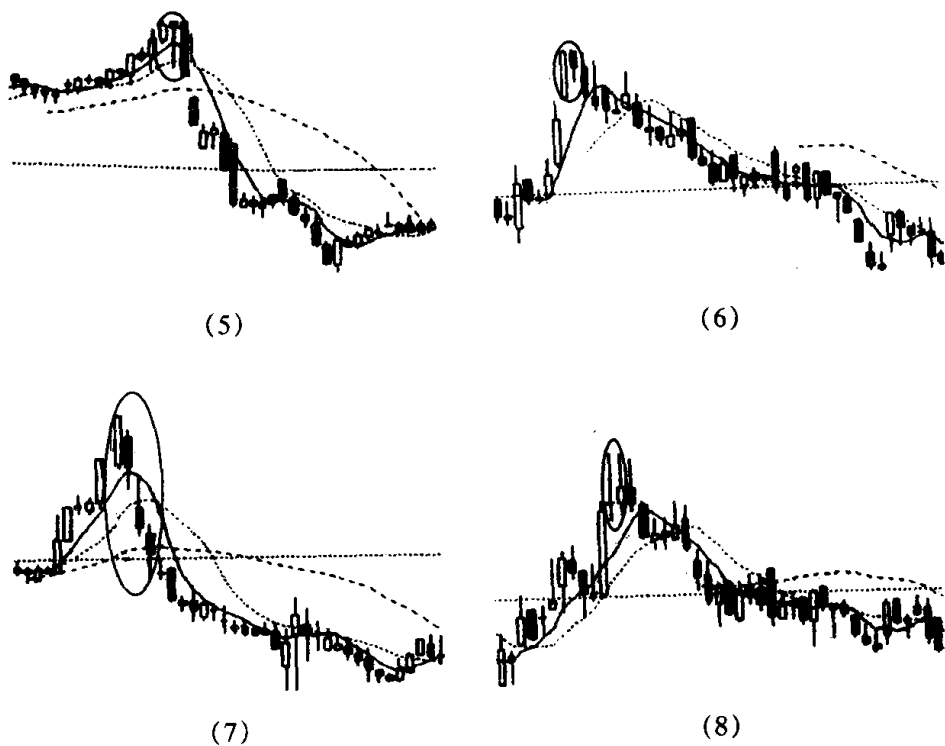
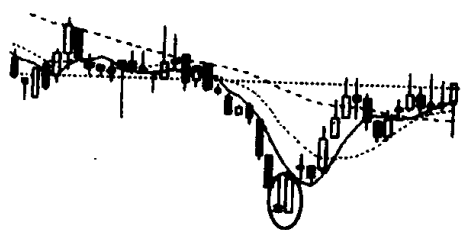


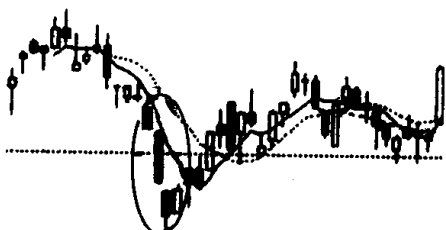
图 304

参考答案 图(1)画圈处 K 线形态既是平顶，又是穿头破脚；图(2)K 线形态既是黄昏之星，又是大阴线；图(3)K 线形态既是平顶，又是乌云盖顶；图(4)K 线形态既是平顶，又是射击之星；图(5)K 线形态既是平顶，又是吊颈线、大阴线；图(6)K 线形态既是平顶，又是身怀六甲；图(7)K 线形态既是倾盆大雨，又是下跌三连阴；图(8)K 线形态既是平顶，又是射击之星、长十字线。

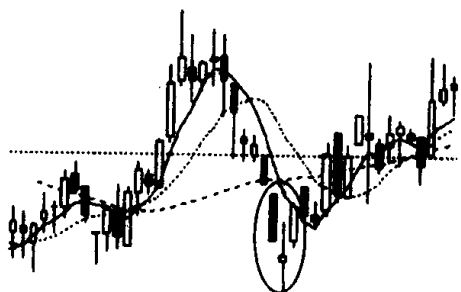
习题 79 下面 8 张小图画圈处都是反映底部信号的 K 线形态，每种 K 线形态内部均包括两种以上(含两种)的 K 线或 K 线组合，这种复合形底部 K 线形态发出的信号比一般底部 K 线形态发出的信号要可靠得多，在实战中有很大的参考价值。现在请你分别说出这些复合形底部 K 线形态中的 K 线组合(包括 K 线)的名称。



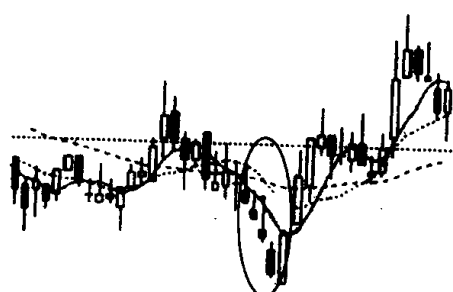
(1)



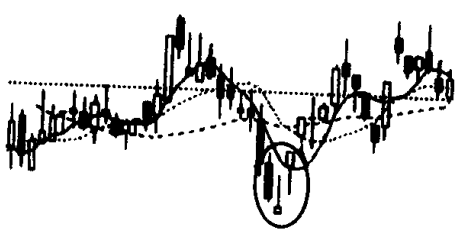
(2)



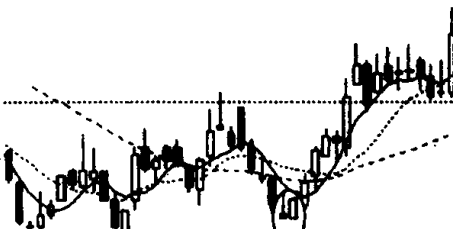
(3)



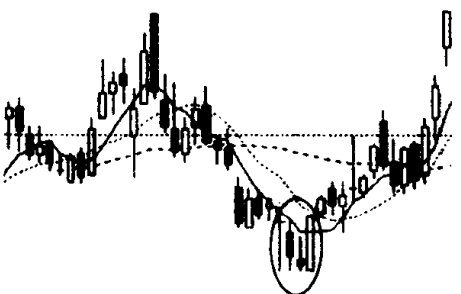
(4)



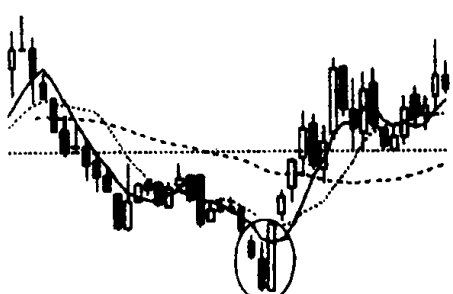
(5)



(6)



(7)

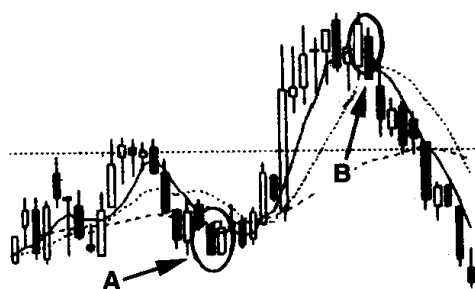


(8)

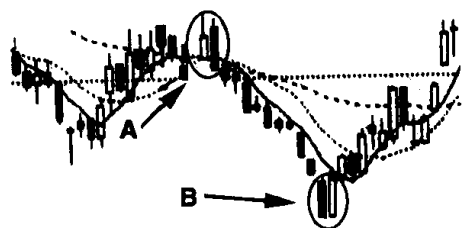
图 305

参考答案 图(1)画圈处 K 线形态既是平底, 左边又是倒锤头线。图(2)画圈处的 K 线形态既是下跌三连阴, 又是旭日东升。图(3)画圈处的 K 线形态既是早晨之星, 中间又是螺旋桨。图(4)画圈处的 K 线形态既是连续跳空三阴线, 又是穿头破脚。图(5)画圈处的 K 线形态既是早晨之星, 又是倒锤头线。图(6)画圈处的 K 线形态既是平底, 左边又是倒锤头线。图(7)画圈处的 K 线形态既是平底, 又是穿头破脚、T 字线。图(8)画圈处的 K 线形态既是平底, 又是穿头破脚。

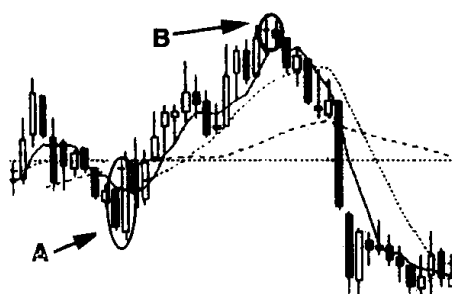
习题 80 下面 8 张小图, 每张图都画了两个圈。现在请你说出各张小图画圈处的 K 线形态的名称。



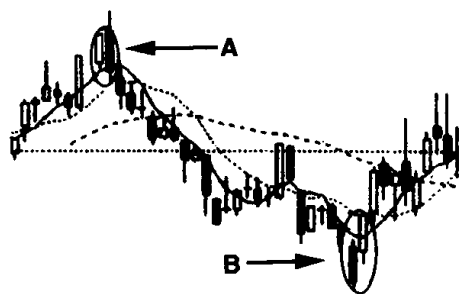
(1)



(2)



(3)



(4)

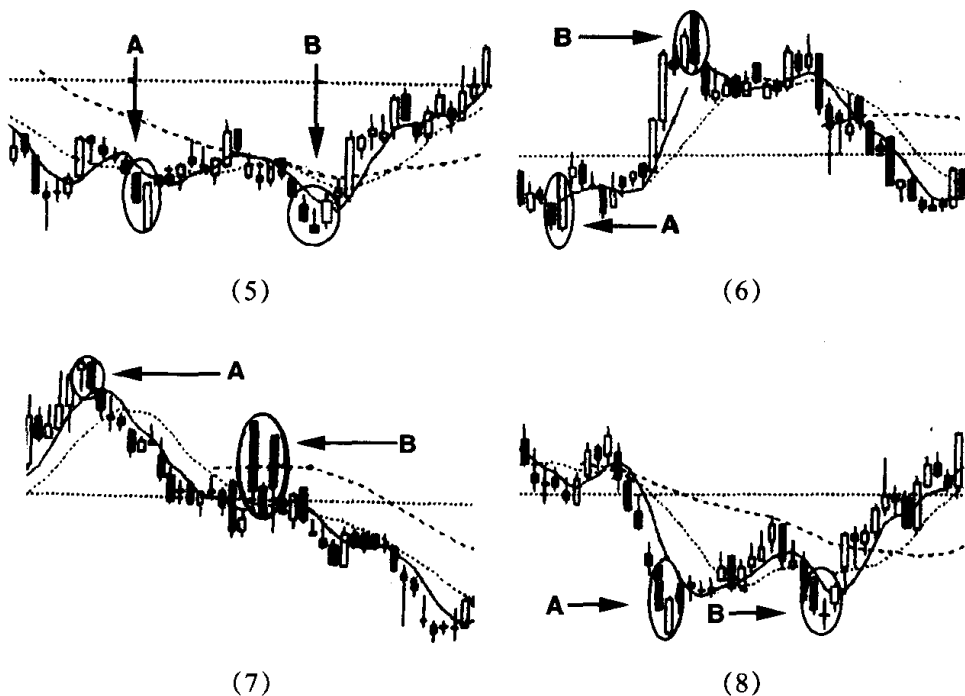


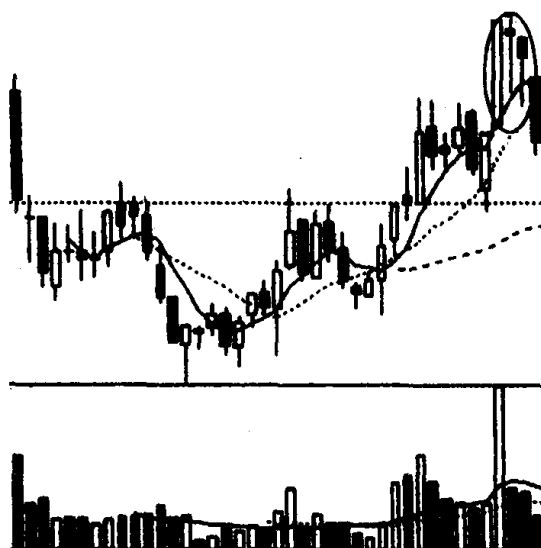
图 306

参考答案 图(1)K 线形态是:A. 平底,B. 倾盆大雨。图(2)K 线形态是:A. 穿头破脚,B. 平底。图(3)K 线形态是:A. 穿头破脚,B. 平顶。图(4)K 线形态名称是:A. 穿头破脚,B. 旭日东升。图(5) K 线形态名称是:A. 曙光初现,B. 早晨之星。图(6)K 线形态名称是:A. 穿头破脚,B. 乌云盖顶。图(7)K 线形态名称是:A. 平顶,B. 高开出逃形。图(8)K 线形态名称是:A. 好友反攻,B. 早晨十字星。

综合练习三

——K 线图形的运用

习题 81 仔细观察下图,并回答以下问题:图中画圈处是一种什么样的 K 线形态?在这个 K 线形态里包含哪些 K 线和 K 线组合?它向市场发出了什么信号?投资者见此 K 线形态应如何操作?



(该股往后走势见图 308)

图 307

参考答案 图 307 画圈处是一种复合形的 K 线形态。所谓复合形的 K 线形态,即一组 K 线里同时包括几种 K 线或 K 线组合。在图 307 中复合形的 K 线形态中包括的 K 线和 K 线组合有:大阳线、平顶、身怀六甲、吊颈线。

首先看大阳线,这是在股价连续上升情况下出现的,并且成交放出了近期天量。从 K 线理论上说,此时拉出大阳线并伴有大量成交,暗示股价已涨到了头。再看大阳线和后一根 K 线,它们的结合构成了一个平顶的走势。在涨势中出现平顶 K 线组合是一种见

顶信号。另外,这根大阳线肚里又怀了两个小宝宝,即和后面两根 K 线组合成身怀六甲的 K 线形态。这种在升势末端出现的身怀六甲,肚子里怀的“小宝宝”越多,市场向淡的可能性就越大。如果我们再把大阳线后面两根 K 线单独拎出来看,这又是令人生厌的吊颈线。吊颈线的出现,常为股价上涨画上了句号。因此,图 307 中画圈处的 K 线形态,无论出现哪一种,对多方都极为不利,都有见顶意味。况且它们在同一个场合出现,形势已变得十分严峻,股价下跌,甚至暴跌都随时可能发生(见图 308)。因此我们认为,在该股走势向市场发出强烈的见顶信号情况下,投资者此时最佳策略是退出观望。

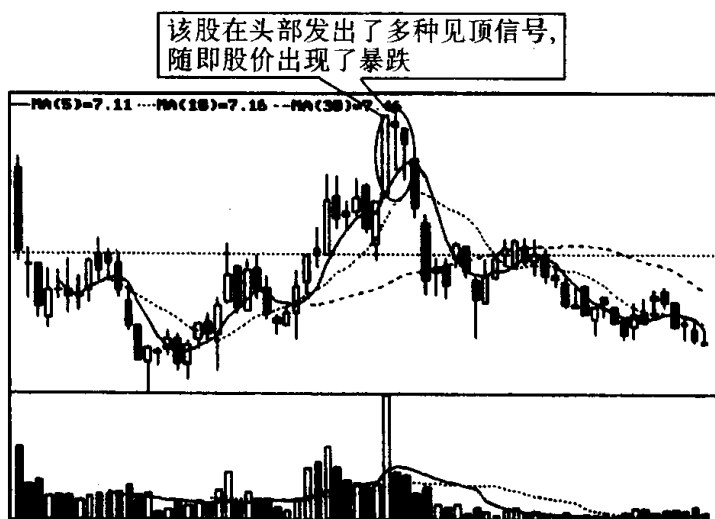
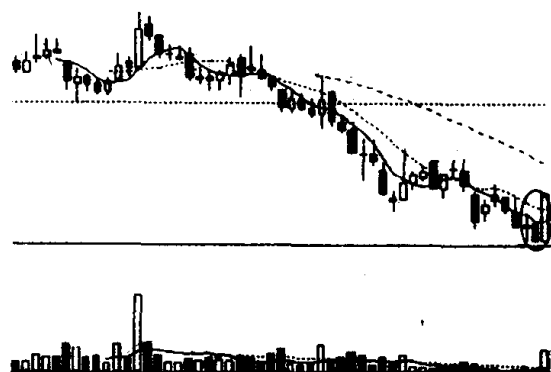


图 308

习题 82 图中的个股下跌了很长时间,今天总算收了一根大阳线。甲说这是超跌反弹,过后马上仍会下跌,现在还不能买。乙说这是见底回升,现在买进正是个好机会。请你根据 K 线理论,分析一下谁的意见对?

参考答案 乙的意见正确。因为从 K 线走势图上来看,最近的 3 根 K 线(见图 309 画圈处)包含了几组 K 线信息。首先,今天的这根大阳线和昨天的阴线构成了一个平底。平底是个见底信号,而且这个平底又是以一根大阳线包容一根小阴线的形式出现



(该股往后走势见图 310)

图 309

的,这种形式的 K 线组合称之为穿头破脚。穿头破脚在 K 线形态中是较有代表性的转势信号,它出现在下跌途中,表示行情有可能转跌为升。从 K 线理论上说,如若穿头破脚的大阳线包容的阴线越多,则力度越强,而今天的大阳线就一连吞吃了前面的 4 根阴线(见图 310),这个力度就不可小视。如果我们再仔细观察一下大阳

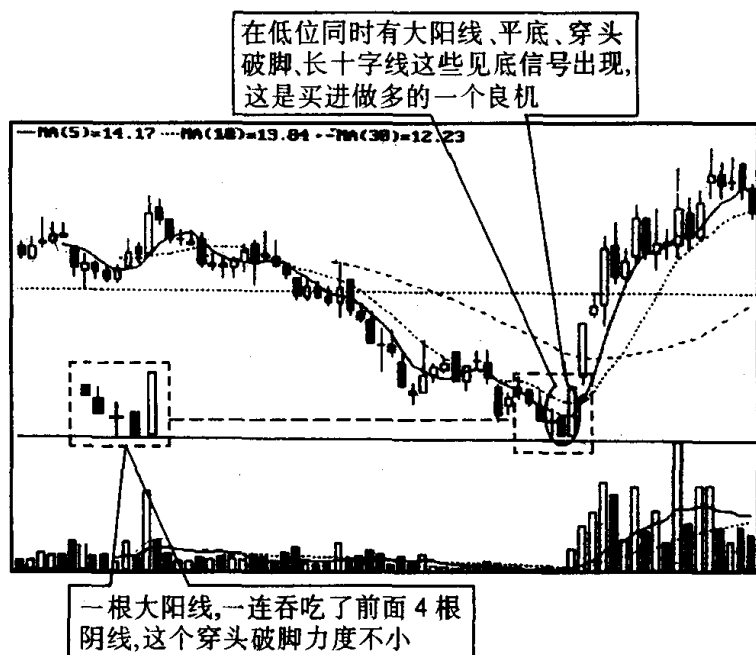


图 310

线之前的第 2 根 K 线,就会发现它是个十字线,十字线是在大幅下跌后出现的,这同样是个见底信号。再说今天的大阳线是在股价连连下滑后突然涌现的,与此同时,成交量开始明显放出,这就不但有见底的意味,而且还反映了做多主力在前期该股下跌时已吸足了筹码,现在有一种按捺不住的急切上攻愿望。当股价在下跌趋势中,同时出现这么多的见底信号,这就明确告诉投资者,股价下跌很可能是真正见底了,此时不买又待何时呢(见图 310)? 有人会说,难道你能肯定它就一定会上涨。要知道,在股市中百分之一百的事是没有的。要做到百分之一百,那只有退出股市去存银行。因此,我们只要推测它十有八九会上去,就可以大胆去买,这有什么不对呢? 作为股市中人,要善于发现机会,机会来了,就要抓住它,可先买进一些股票,如果明天股价继续高开高走,再加码追进。

习题 83 下图是上海证交所成立以来至 1999 年 5 月的月 K 线走势图。请仔细观察这张图回答下面问题:(1)什么是月 K 线,如何绘制月 K 线?(2)研究月 K 线有何意义?(3)从月 K 线图上

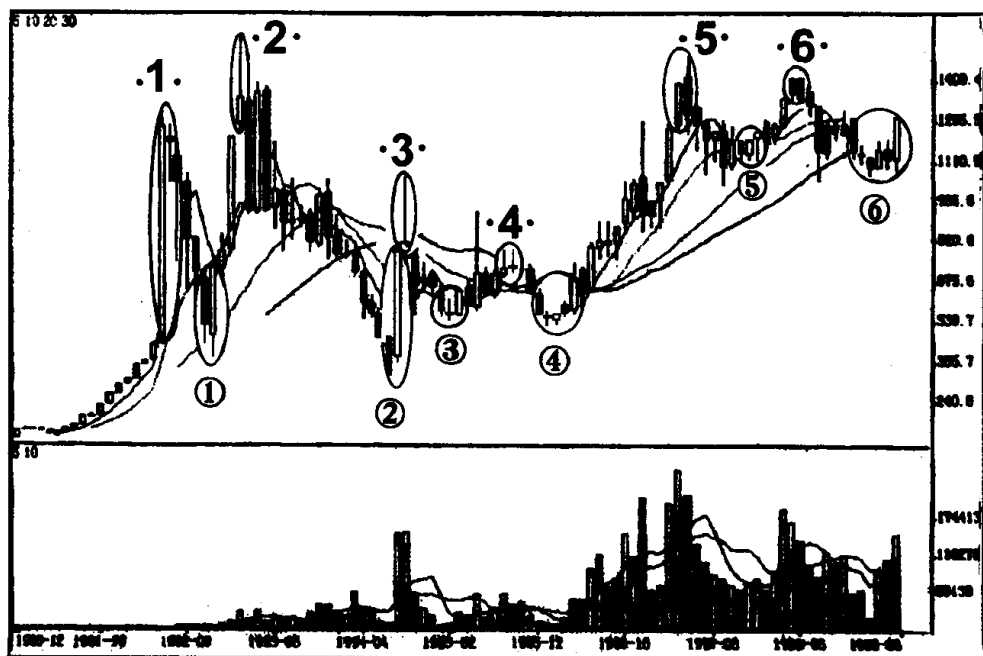


图 311

看,上海股市曾出现过6次头部、6次底部(见图中画圈处),而每次头部或底部,月K线都向我们发出过明显的转势信号。请问这些转势信号的K线形态叫什么名称?

参考答案 (1)月K线是指记录一个月交易的K线图形。月K线绘制方法是:以每月第一个交易日的开市价为月K线的开盘价,每月最后一个交易日的收盘价为月K线的收盘价,每月当中的最高价为上影线顶端,每月当中的最低价为下影线的下端。

(2)月K线时间跨度大,信息集中、明确。上海股市10年的走势在一幅月K线图中就可以清晰地表示出来。这是一般的日K线图、周K线走势图无法表现的。因此,作为一个投资者,要看清大势就必须研究月K线。例如,当上涨时出现转势信号的月K线形态即应抛空离场,这样就可能避免因股市继续下跌带来的风险;当下跌时出现转势信号的月K线形态即应买进股票,并持股待涨,以求争取投资收益的最大化。在股市操作中,一些股市高手就是深入研究了月K线,并按月K线走势顺势操作,最后才成为股市的大赢家。可见,正确地研判月K线走势,对股市实战,尤其是把握股市中长期走势具有重要的现实意义。

(3)上海股市从开始以来的6次头部是:1.顶部十字胎,2.射击之星,3.上档倒T字线,4.平顶,5.乌云盖顶,6.平顶。当这些头部信号显示出来后,及时卖出股票者都有效地规避了市场风险,为日后抄底保存了资金实力。上海股市从开始以来的6次底部是:①穿头破脚,②旭日东升,③早晨之星,④塔形底,⑤平底,⑥塔形底。当这些底部信号显示出来后,及时买进股票者,日后都获得了丰厚的投资回报。

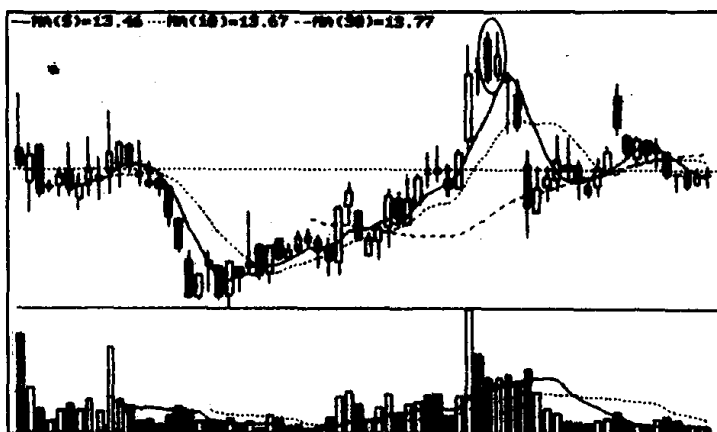
K 线图形的识别和运用测验一

姓名 _____ 得分 _____

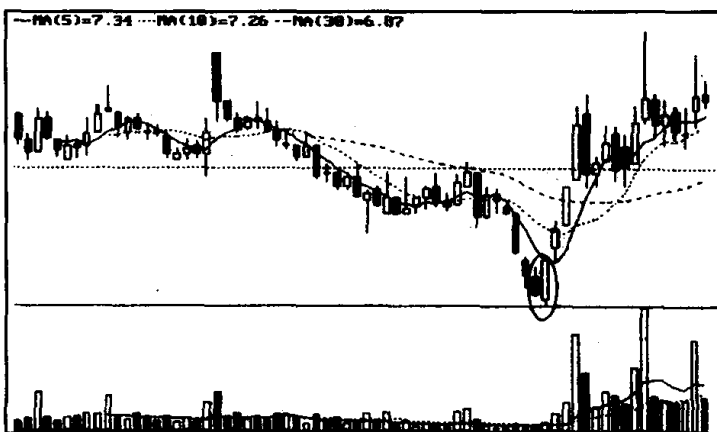
一、是非题(每题 2 分,共 8 分)

在下面的括号里填上“对”或“错”。

1. 图①画圈内的 K 线组合是平顶。 ()
2. 图②画圈内的 K 线组合是穿头破脚。 ()



图①



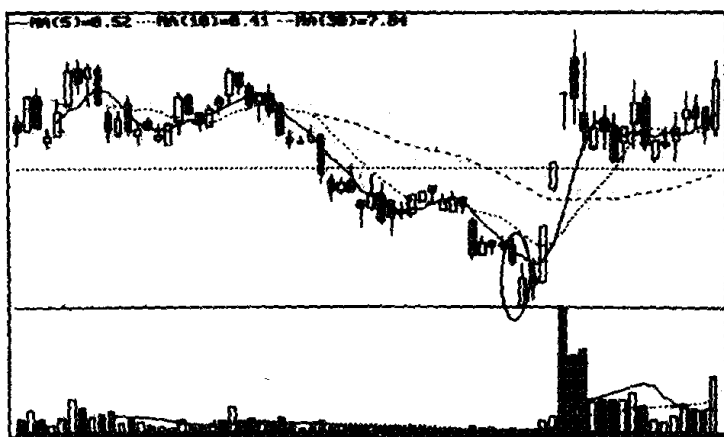
图②

3. 图③画圈内的 K 线组合是淡友反攻。()

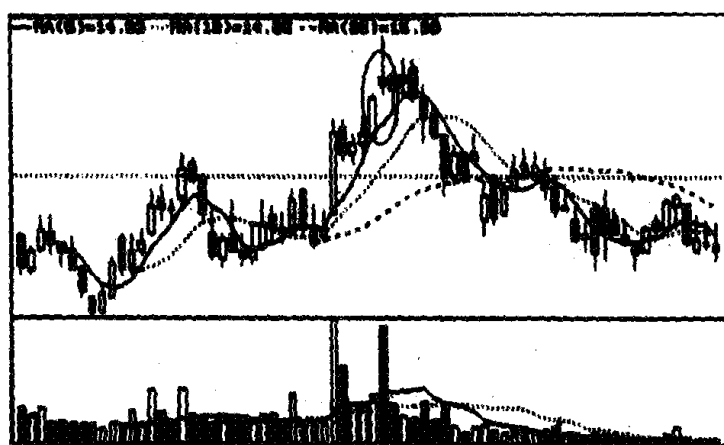
()

4. 图④画圈内的 K 线组合是双飞乌鸦。()

()



图③



图④

二、判断题(每题 2 分,共 8 分)

下面各个小题中都有两句话,其中有一句是正确的。请在正确的话后面打上“√”。

第一题:

(1) 股价在连续大幅上升后,拉出一根大阳线,成交量急剧放大,这是买进信号。()

(2)股价在连续大幅上升后,拉出一根大阳线,成交量急剧放大,这是卖出信号。 ()

第二题:

(1)射击之星上影线与 K 线实体比例越悬殊,信号就越有参考价值。 ()

(2)射击之星上影线与 K 线实体比例越小,信号就越有参考价值。 ()

第三题:

(1)在下跌趋势中,尤其是在股价大幅下跌后出现连续跳空三阴线,是继续下跌信号。 ()

(2)在下跌趋势中,尤其是在股价大幅下跌后出现连续跳空三阴线,是见底信号。 ()

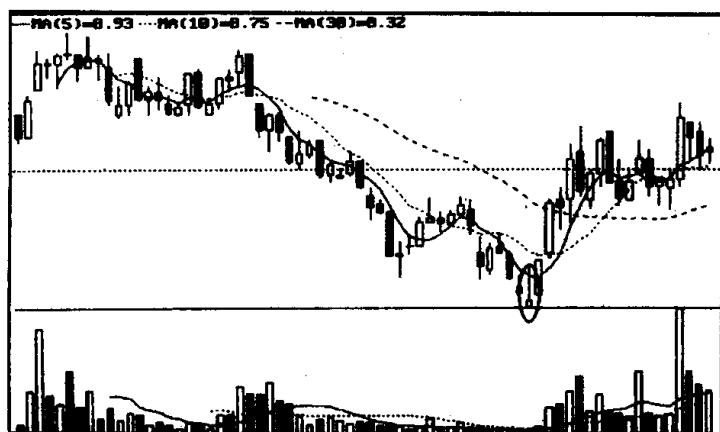
第四题:

(1)穿头破脚包容前面的 K 线越多,则转势信号越强。 ()

(2)穿头破脚包容前面的 K 线越少,则转势信号越强。 ()

三、填空题(每题 2 分,共 8 分)

1.图①画圈内的 K 线是()。它在跌势中,尤其是在股价大幅下挫的情况下出现,是()的信号。



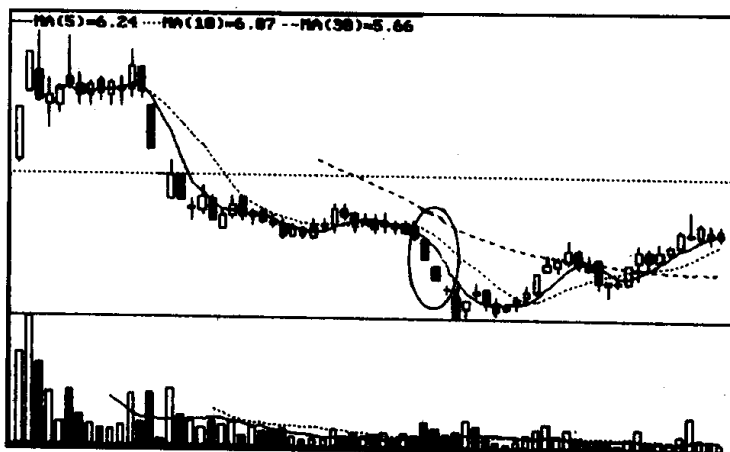
图①

2.图②画圈内的 K 线组合是()。在连续下跌

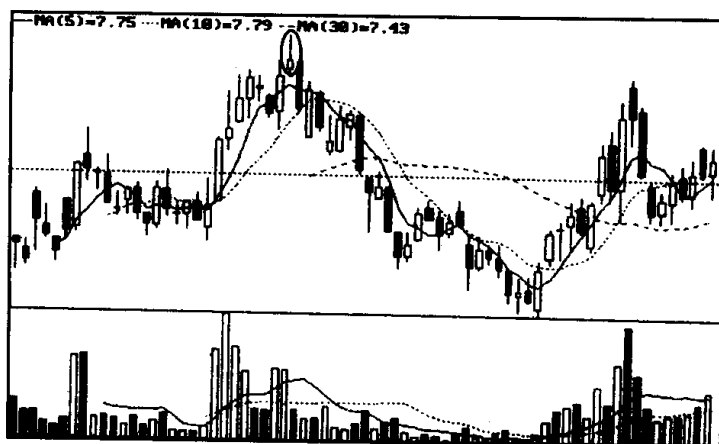
的行情中,出现这种 K 线形态,说明空方的打击已近尾声,因而具有很强的()作用。

3.图③画圈内的 K 线是()。在涨势中出现这种 K 线形态,是一种()信号。

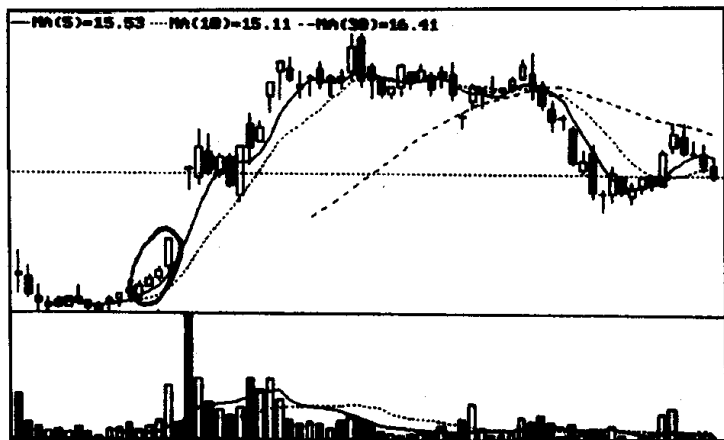
4.图④画圈内的组合 K 线是()。在涨升初期出现这种 K 线形态,是()的信号。



图②



图③

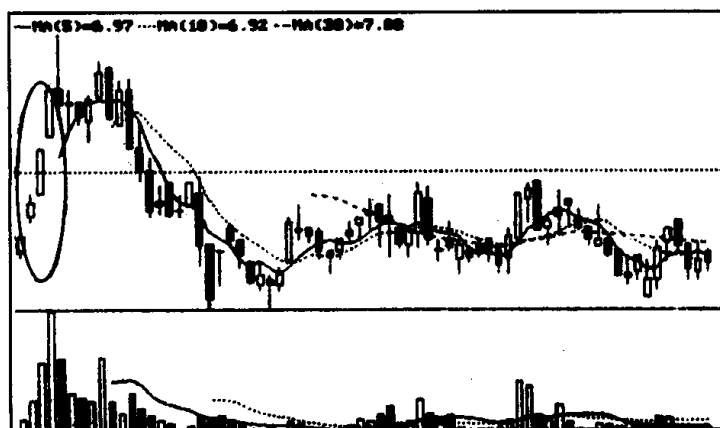


图④

四、选择题(每题 2 分,共 8 分)

1. 图①画圈内的 K 线组合是()

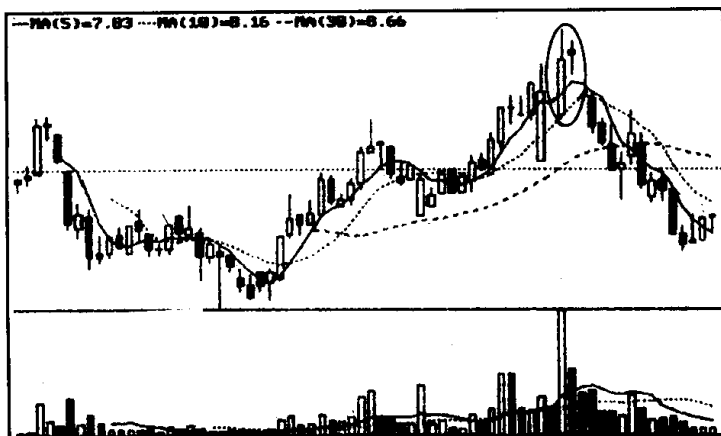
- A、红三兵
- B、升势停顿
- C、连续跳空三阳线
- D、升势受阻



图①

2. 图②画圈内的 K 线组合是()

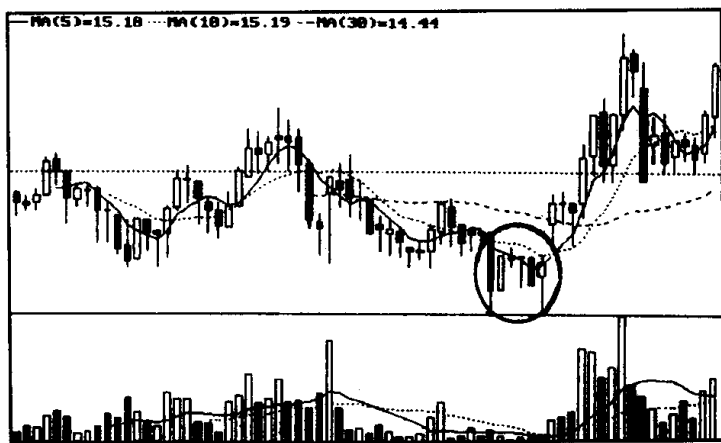
- A、身怀六甲
- B、镊子线
- C、尽头线
- D、吊颈线



图②

3. 图③画圈内的 K 线组合是()

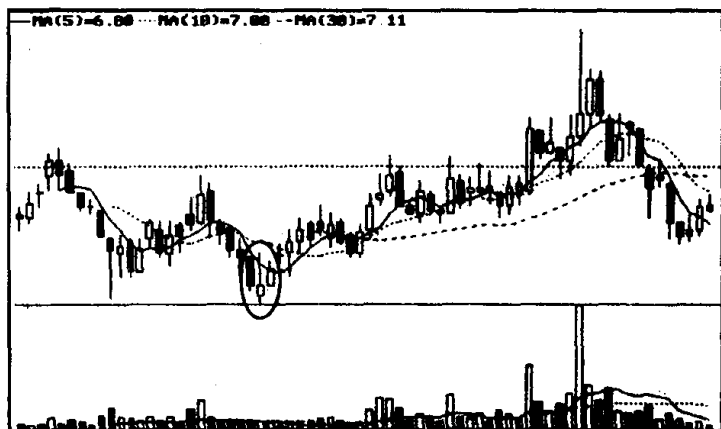
- A、平底
B、平顶
C、曙光初现
D、好友反攻



图③

4. 图④画圈内的 K 线组合是()

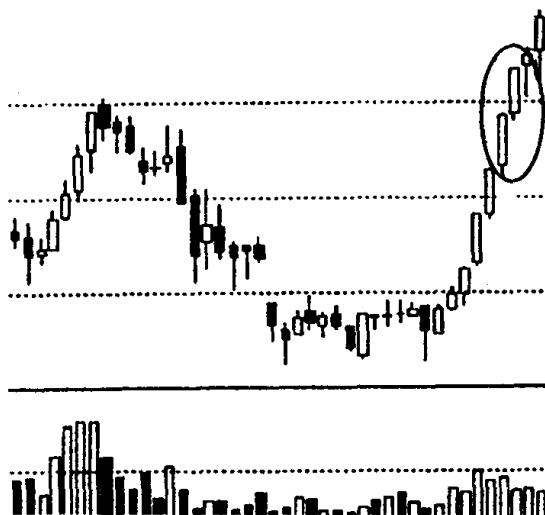
- A、早晨十字星 B、早晨之星
C、黄昏十字星 D、黄昏之星



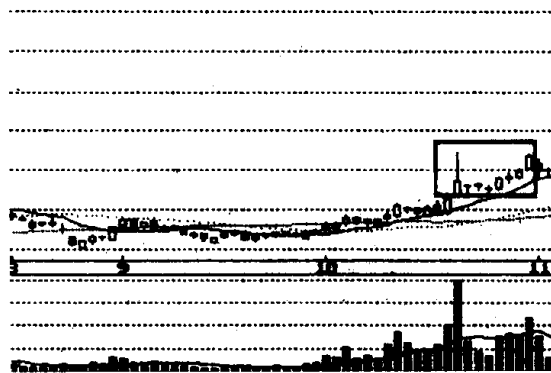
图④

五、简答题(每题 4 分,共 32 分)

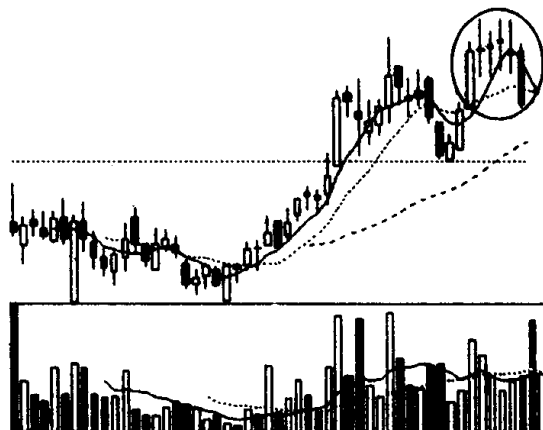
1. 下图是深市某股周 K 线图的一个片断。请问:(1)图中画圈处的 K 线组合叫什么名称?(2)出现这种 K 线形态,后市一般会朝什么方向发展? 投资者见此 K 线形态应如何操作?



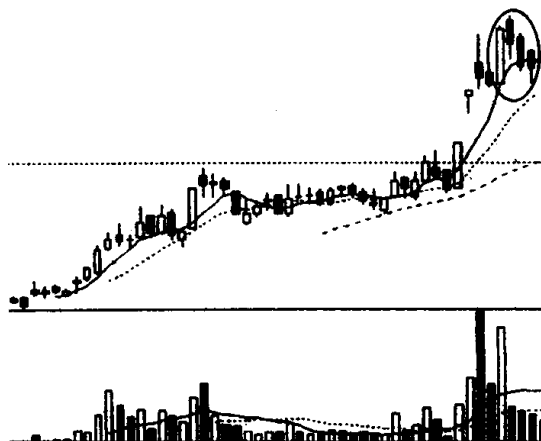
2. 仔细观察下图, 回答下面的问题:(1)下图方框内的 K 线组合叫什么名称?(2)投资者见此 K 线形态应如何操作?



3. 仔细观察下图, 回答下面的问题: (1) 图中画圈内的 K 线组合是圆顶还是塔形顶? (2) 投资者见此 K 线形态应如何操作?




4. 仔细观察下图, 回答下面的问题: (1) 图中画圈处的 K 线组合

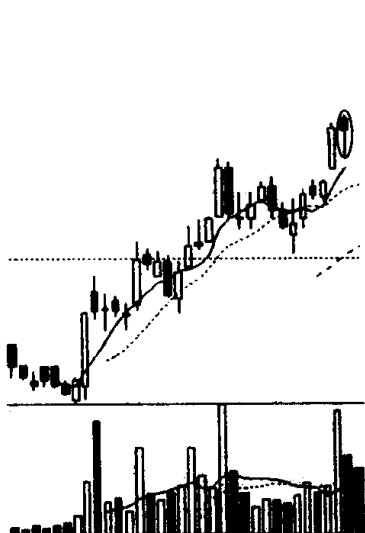


合叫什么名称？(2)投资者遇到这种 K 线形态应怎样操作？

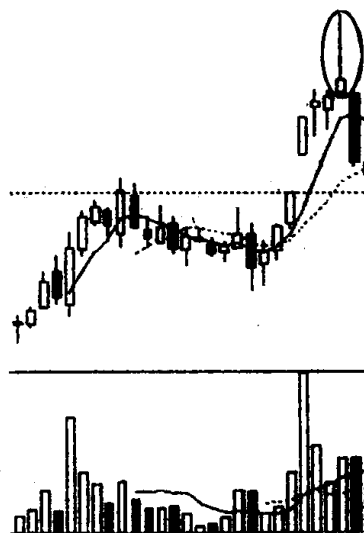
5. 仔细观察下图，回答下面的问题：(1)图中画圈处的 K 线组合叫什么名称？(2)投资者是否可继续买进？



6. 仔细观察下图，回答下面的问题：(1)图①和图②画圈处的 K 线叫什么名称？(2)它们有何相同和不同之处？

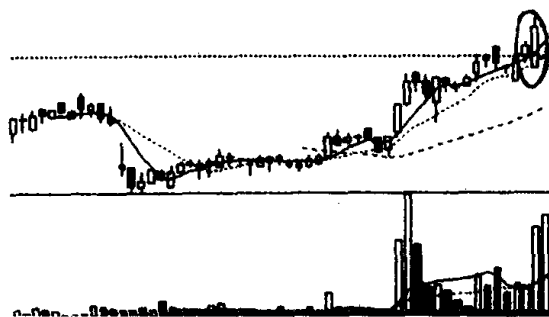


图①




图②

7. 仔细观察下图，回答下面的问题：(1)下图画圈处的 K 线组合叫什么名称？(2)投资者见此 K 线形态如何操作？

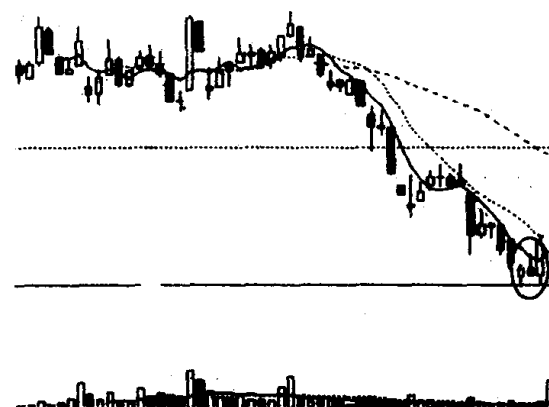


8. 仔细观察下图, 回答下面的问题: (1) 下图中画圈处的 K 线组合叫什么名称? (2) 它的技术含义是什么? (3) 投资者如遇此种 K 线组合应如何操作?

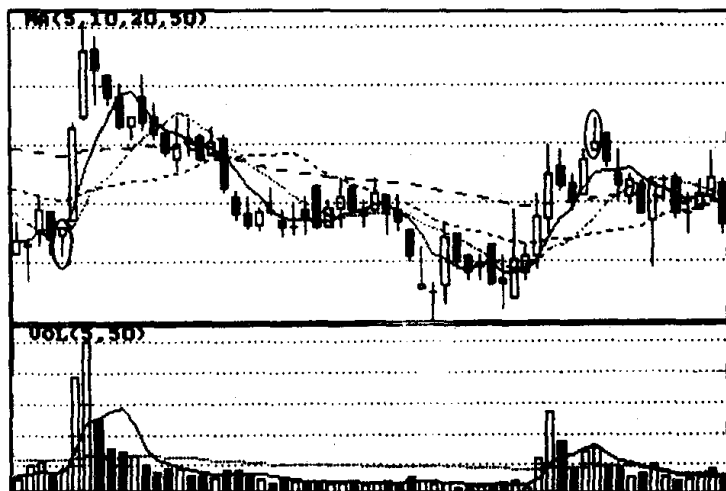


六、问答题(每题 9 分, 共 36 分)

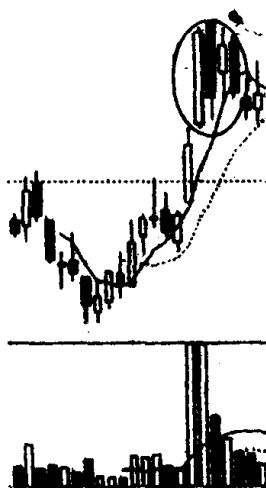
1. 仔细观察下图, 回答下面的问题: (1) 图中画圈处包含几组 K 线组合, 它们叫什么名称? (2) 跌势中出现这样的复合形 K 线形态作用是什么? (3) 投资者见此 K 线形态应如何操作?



2. 下图中有两根 K 线打了圈, 请问: (1) 这两根 K 线有什么相似和不同之处? (2) 它们现在各自表示什么意思?



3. 甲乙两人看了下图画圈处的 K 线形态提出了以下不同的看法: 甲认为该股在强势上攻后, 出现了短暂回调, 虽然拉出了两根阴线, 但成交量大幅萎缩。阴线仍在第一根阳线包容之中, 说明多方仍占据着优势, 后市仍可持股待涨。乙认为该股 K 线形态已变坏, 下跌已成定局, 现在多方应该赶快停损离场。请问: 甲乙两人的意见谁对? 请你运用 K 线理论对此进行一番评说。



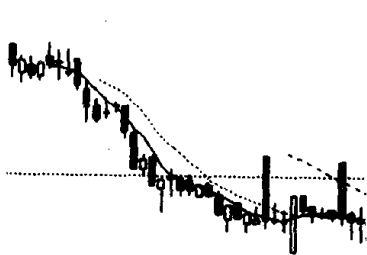
4. 请仔细观察下面四张走势图, 然后回答下列问题: (1) 这四张走势图都有一个共同的特征, 这共同特征是什么? (2) 产生这种特征的原因是什么? (3) 投资者遇此情况应该如何操作?



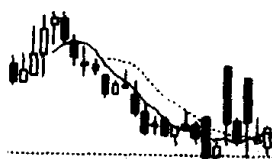
图①



图②



图③



图④

K 线图形的识别和运用测验一

参考答案

一、是非题

1. (对) 2. (对) 3. (错) 4. (对)

二、判断题

第一题(2) 第二题(1) 第三题(2) 第四题(1)

三、填空题

1. 倒锤头、见底回升
2. 连续跳空三阴线、止跌
3. 射击之星、见顶
4. 徐缓上升形、继续上涨

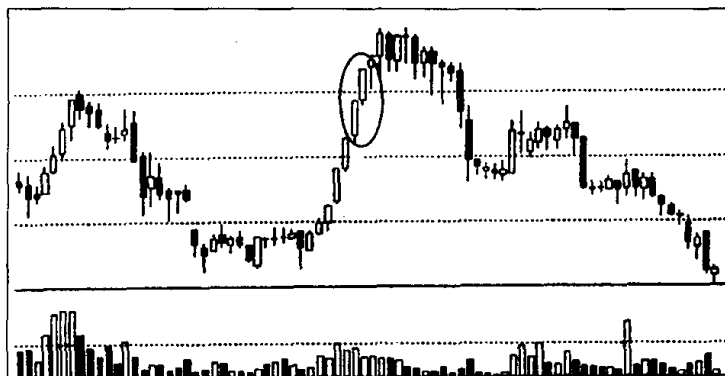
四、选择题

1. C 2. C 3. A 4. B

五、简答题

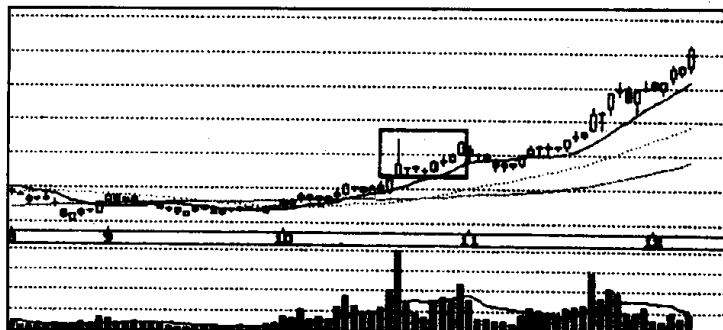
1. 参考答案:(1)图中画圈处的 K 线组合叫升势停顿。(2)一般来说,出现这种 K 线形态,后市在短期内会走弱,并很有可能引发一轮跌势。因此,投资者见此 K 线形态应适时减仓,如发现日后股价掉头下行,应及时抛空离场。

附:该股出现升势停顿后的走势图。



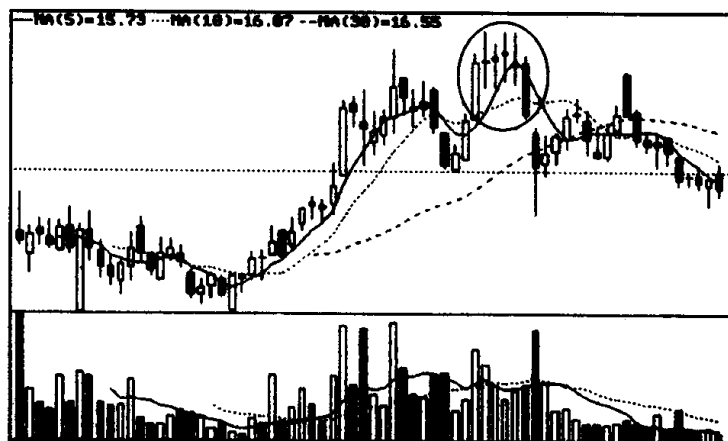
2. 参考答案:(1)图中方框内的 K 线组合叫多方尖兵。(2)在股价上涨时,出现多方尖兵的走势常常是多方主力在发动上攻前的一种试盘动作。因此投资者不必惧怕 K 线上的长长上影线。如若投资者发现日后股价有效地收于这根长上影线的上方,即可大胆地买进。

附:该股出现多方尖兵后的走势图。



3. 参考答案:(1)图中画圈内的 K 线组合不是圆顶,而是塔形顶。(2)投资者如遇到塔形顶的走势,就应意识到股价将出现调整,可适时做空,另觅更好的投资机会。

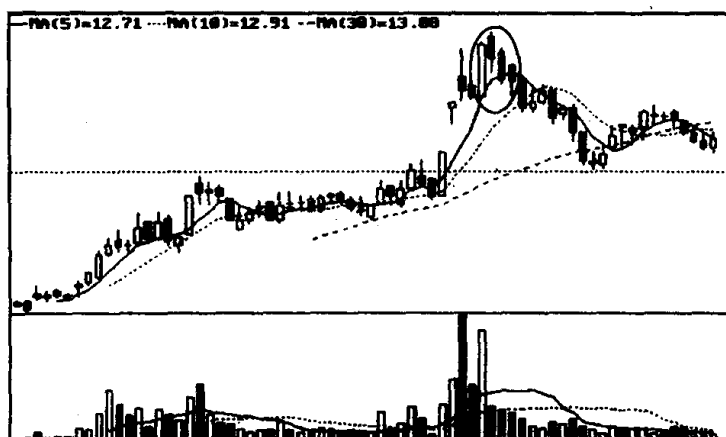
附:该股出现塔形顶后的走势图。



4. 参考答案:(1)图中画圈内的 K 线组合叫三只乌鸦。(2)投资者如遇到这种 K 线组合就应卖出股票,加入空方队伍,以避免往

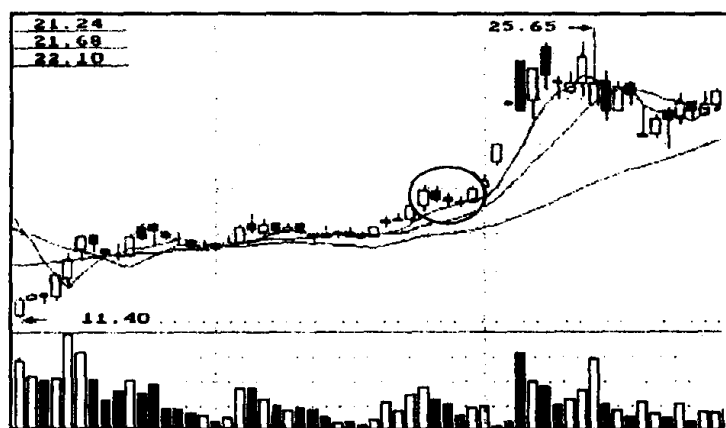
后下跌带来的损失。

附：该股出现三只乌鸦后的走势图。



5. 参考答案：(1)图中画圈处的 K 线组合叫上升三部曲。(2)上升三部曲表明多方重新获得主动权，所以投资者仍可继续买进。

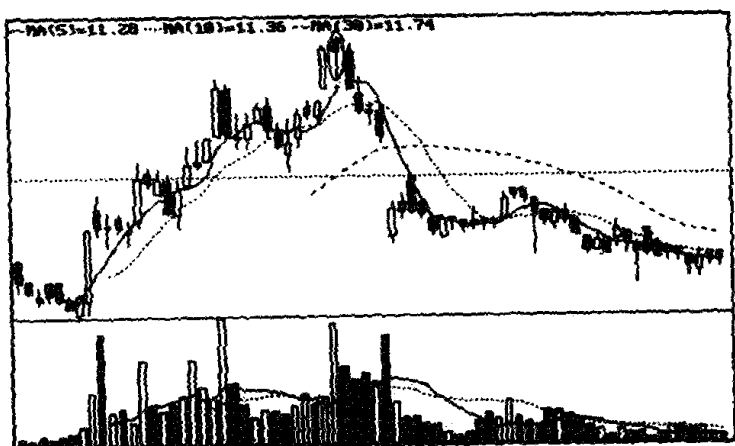
附：该股出现上升三部曲后的走势图。



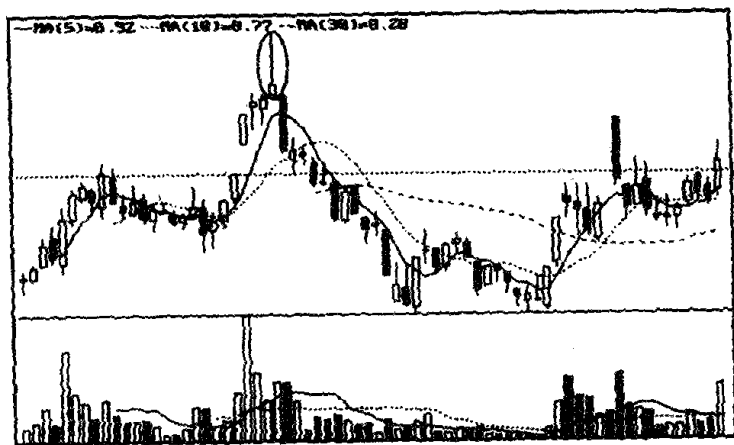
6. 参考答案：(1)图①画圈处的 K 线叫吊颈线，图②画圈处的 K 线叫射击之星。(2)它们的相同之处是：吊颈线和射击之星都形成于涨势中，实体都很小，都是一种见顶信号，预示股价将由升势转为跌势。它们的不同之处是：吊颈线具有很长的下影线，而射击

之星具有很长的上影线。

附：图①出现吊颈线后和图②出现射击之星后的走势图。



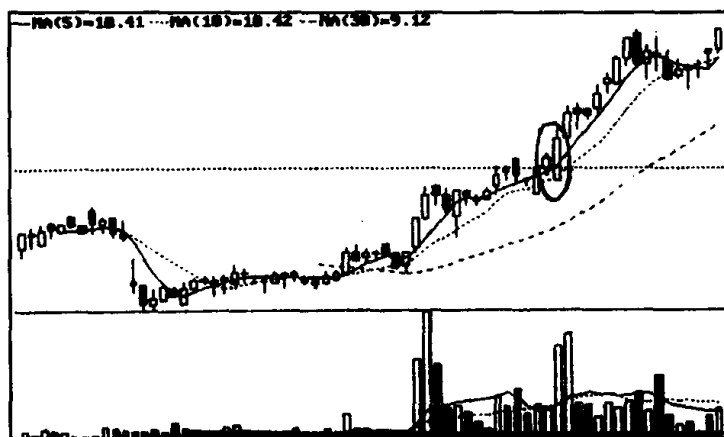
图①



图②

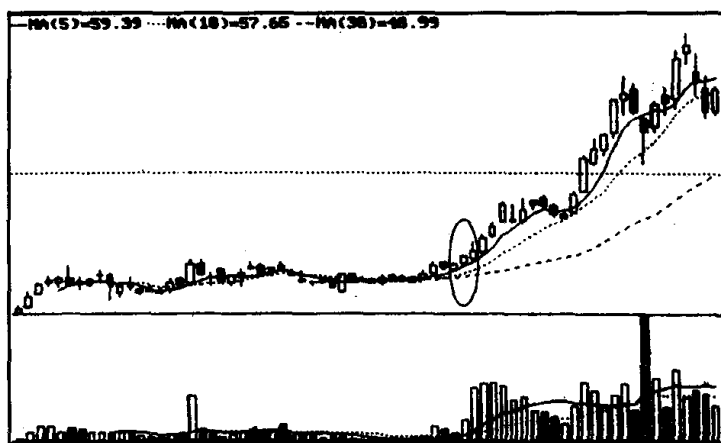
7. 参考答案：(1)图中画圈处的K线组合叫下探上升形。在涨势中出现这种K线形态，是股价继续上涨的信号。(2)投资者如遇到下探上升形的K线组合，应增强持股信心，空仓者可跟进适量做多。

附：该股出现下探上升形后的走势图。



8. 参考答案:(1)图中画圈处的 K 线组合叫红三兵。(2)红三兵出现在上涨初期是继续看涨信号。(3)该股经过较长时间横向整理,出现红三兵走势,成交量又随之大幅增加,这表明多方近期将会展开一轮上攻行情,投资者可跟进积极做多。

附:该股出现红三兵后的走势图。

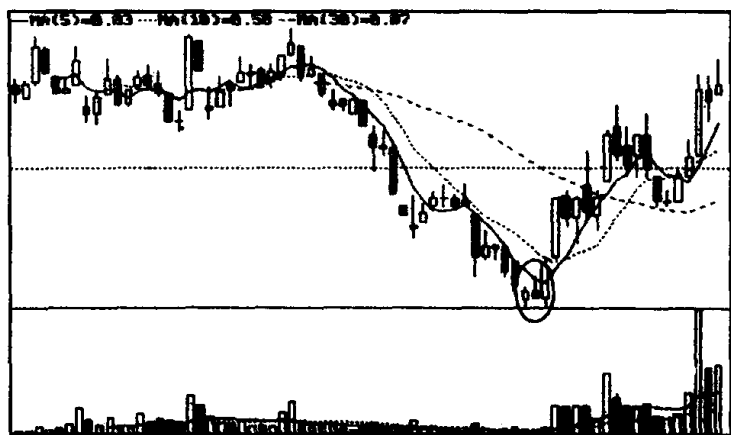


六、问答题

1. 参考答案:(1)图中画圈处包含两组 K 线组合。从整体上看是个平底的 K 线组合,但一根长阳线完全吞吃了前一根倒锤头小阴线,这样一阳一阴两根 K 线又构成了穿头破脚的 K 线组合。(2)在跌势中同时出现平底、穿头破脚这样复合的 K 线组合形态,其信

号有叠加效应,它发出的见底信号要比单一的 K 线组合见底信号可靠得多。(3)投资者若遇到这种 K 线走势,应考虑积极做多,如果成交量能同时放大,就应该大胆地买进。

附:该股出现复合形见底 K 线形态后的走势图。



2. 参考答案:(1)从图形上看,这两根都是实体很小的小阳线,左边圈上的小阳线带有一根较长的下影线,右边圈上的小阳线带有一根较长的上影线。由于它们的形状象一个锤子,因而称之为锤头阳线。右边的锤头阳线,因锤柄(即上影线)朝上,锤头在下,所以,又有人称它为倒锤头阳线。(2)股市中人们想象力是很丰富的。右边的那个倒锤头阳线,人们把它想象成即将要发射出去的箭,因而给它起了一个雅名,称之为射击之星。这个雅名已为市场所接受,并达成共识,因此,现在人们把在低位出现的锤头阳线或锤头阴线统称为锤头线。把高位出现的倒锤头阳线,或倒锤头阴线统称为射击之星。从 K 线理论上分析,锤头线、射击之星都是一种反转形态。通常,在跌势中,尤其在大幅下跌后出现的锤头线,其较长的下影线表示下档承接盘较强,是一种见底回升的信号。在涨势中,尤其在大幅上涨后出现的射击之星,其较长的上影线表示上档卖压沉重,是一种见顶回落的信号。

3. 参考答案:乙的意见正确。从图中画圈处看,这是个复合形的 K 线组合,它包含乌云盖顶、两黑夹一红两组 K 线组合。当该股在拉出一根长阳线后,接着就出现了一根高开低走的中阴线,这一

阳一阴两根 K 线构成了一种乌云盖顶 K 线走势。另外,画圈处的两根较长的阴线中间夹着一根较短的阳线,又形成了一幅令人生畏的两黑夹一红的 K 线图形。一般来说,在涨势中出现的乌云盖顶、两黑夹一红都是见顶信号。当某一股票在上涨途中同时出现这两个见顶信号,下跌的可能性就很大了。如果我们把目光再移到前面,这个复合形的见顶 K 线形态是在股价加速上涨途中出现的,这就更增加了市场对它的下跌预期。从图中可看出,该股在上扬时阳线力度一根比一根大,实体一根比一根长,与此同时,成交量也急剧放大。从 K 线理论上来说,股价加速上扬,连拉阳线,成交量剧增,这本身就说明多方能量耗尽,是股价涨势穷尽的信号。如果在这之后,再出现见顶的 K 线组合,几种力量加在一起,股价就非跌不可了。有人认为下跌时不放量就不要紧,这实际上是一种误识。股价上涨一定要有成交量支持,下跌时无量也可空跌,这已为股市反复所证明。再说,该股急速拉升时放出天量,说明庄家早已趁机高位派发,因此下跌时成交量大幅萎缩,也就是很自然的事了。总之,我们认为甲在这个问题认识上有很多误区。现在对投资者来说,当务之急是要赶快寻机离场,这样多少可减少一点损失。

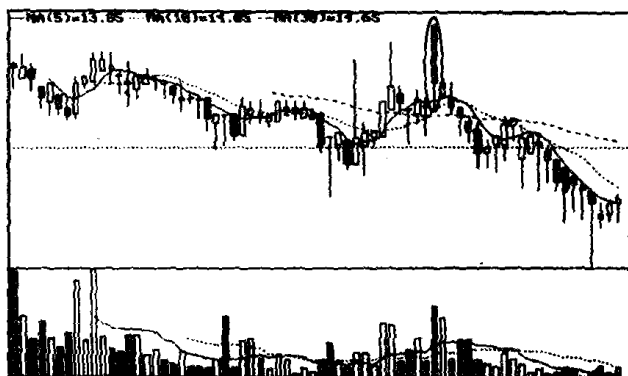
附:该股出现复合形见顶 K 线形态后的走势图。



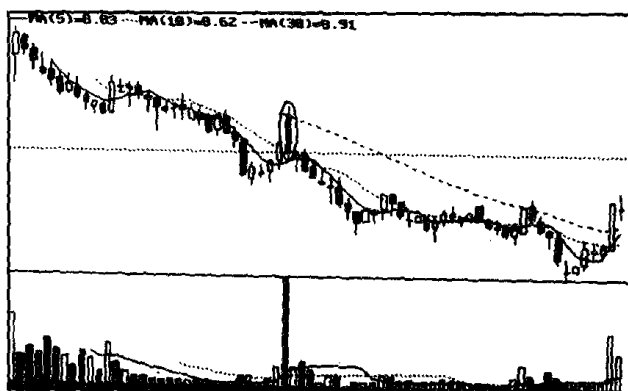
4. 参考答案:(1)这四张图共同特征是在股价下跌途中都出现了高开低走的大阴线(见下图①~图④画圈处),随后股价就呈

加速下滑的态势。(2)我们认为产生这种现象的根本原因是庄家利用反弹大量减磅所致。从图①可以明显看出庄家在高开低走的长阴掩护下,抛掉了手中的筹码实现了胜利大逃亡。从图②可以看出股价在收出这根大阴线时,放出了天量,显然被套庄家顺利派发了大量筹码。图③显示的两根长阴线间隔一段时间,十分引人注目,虽然成交量不大,但庄家总算借此机会出了一些货,减轻了负担。图④中紧靠在一起的大阴线,反映了庄家心情浮躁,出货心切,但无奈下面接盘稀少,庄家并未达到目的。总之,这几张图上十分显眼的大阴线,都表示一个意思——庄家在寻机出逃,故我们将这种K线形态称之为高开出逃形。(3)投资者面对高开出逃形K线走势,应如何操作呢?最好的办法是不参与。大家千万不要被股价突然高开所迷惑,如果一追进去,准会中了庄家的圈套。有人说,高开低走是事后才知道的,如果当日高开高走,不追进去岂不是踏空了吗?股市操作有一个原则,叫做“宁可错过,不可做错”。当你面对股价突然之间的高开,还没有弄清原委,不知究竟是高开低走,还是高开高走,就一头扎进去,这岂不是太盲目了吗?因此,投资者对在跌势中出现股价莫名其妙的高开现象,一定要先冷眼观之。如真的是该股有什么重大利好消息促使股价劲升,在走势图上也会反映出来,例如高开高走,第二天继续往上攀升等等。到时再作定夺追进去不迟,这样做总要比眼睛一闭瞎碰乱撞把握大得多。另外,还要注意的,在下跌中形成高开出逃形走势后,就应该远离此股,经验告诉我们,股价遭此重创后往往有一段较大的跌势,投资者暂时应以不碰它为妙。

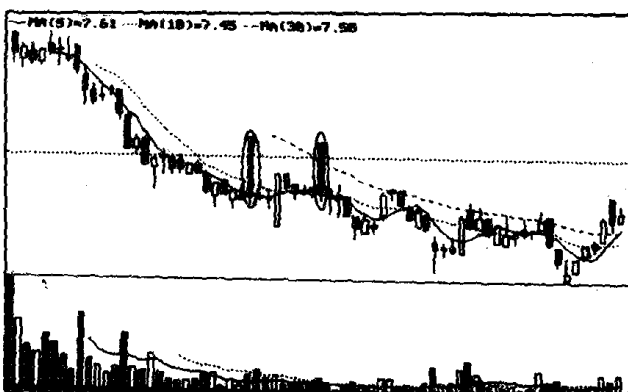
附:图①~图④出现高开出逃形后的走势图。



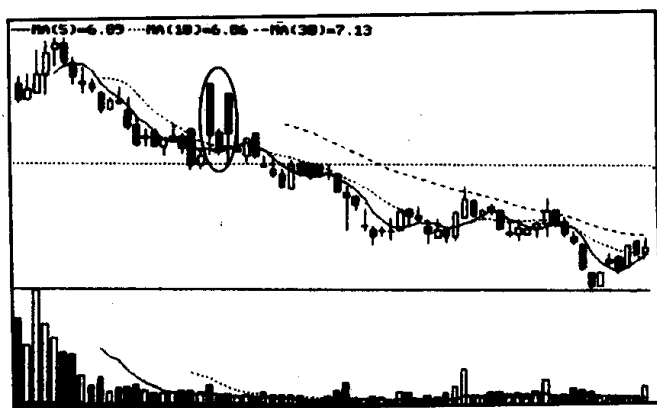
图①



图②



图③



图④

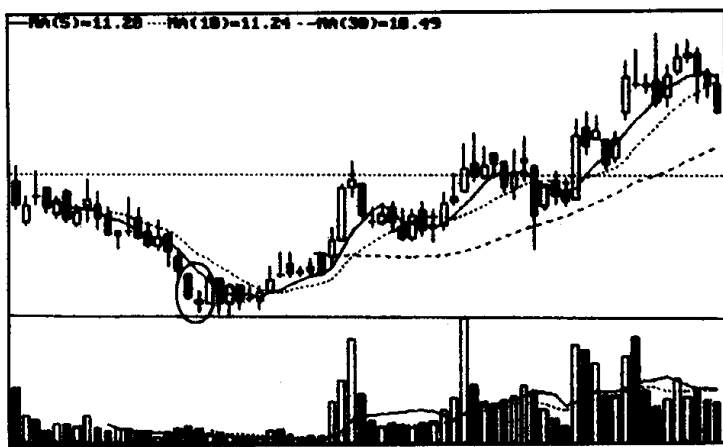
K 线图形的识别和运用测验二

姓名 _____ 得分 _____

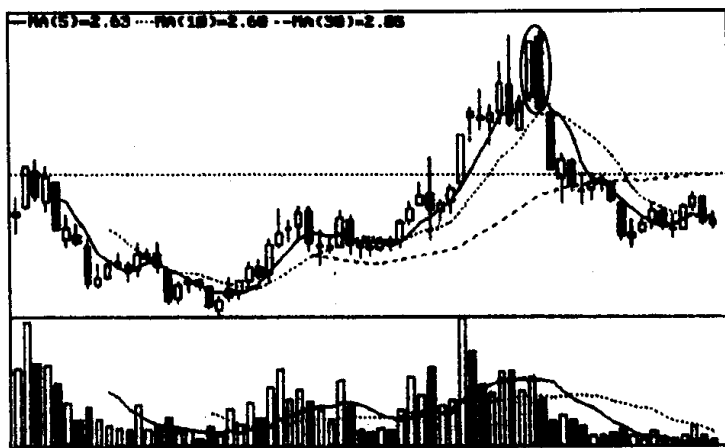
一、是非题(每题 2 分,共 8 分)

在下面的括号内填上“对”或“错”。

1. 图①画圈内的 K 线组合是早晨之星。 ()
2. 图②画圈内的 K 线组合是穿头破脚。 ()

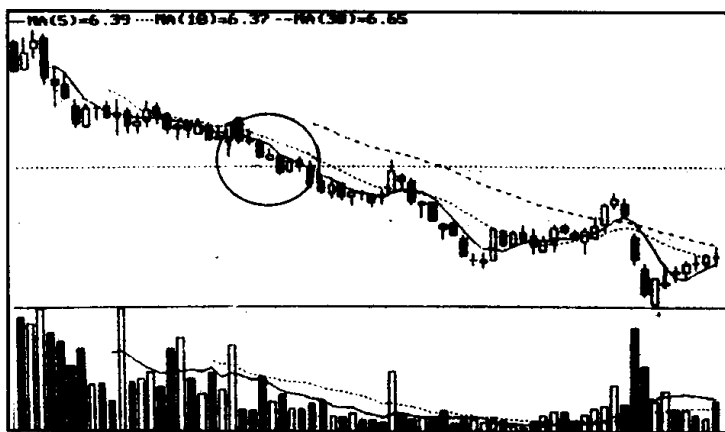


图①

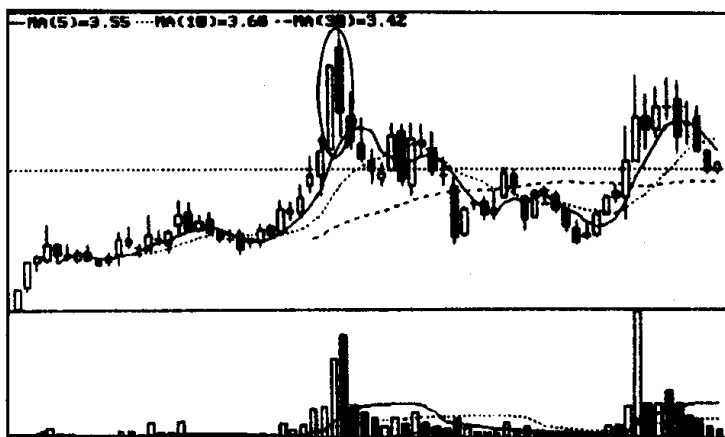


图②

3. 图③画圈的 K 线组合是徐缓下降形。 ()
4. 图④画圈内的 K 线组合是乌云盖顶。 ()



图③



图④

二、判断题(每题 2 分,共 8 分)

下面每组两句话,只有一句是正确的。请你在正确的一句话后面打上“√”。

第一题:

- (1) 在高位出现的 T 字线,长长的下影线,表示接盘能力很强,股价还会大幅上扬。 ()

(2) 在高位出现的 T 字线, 长长的下影线, 表示庄家做盘痕迹明显, 股价有可能转升为跌。 ()

第二题:

(1) 所谓的平底, 就是 2 根或 2 根以上的 K 线, 其最低价处于同一水平位置上。 ()

(2) 所谓的平底, 就是 2 根或 2 根以上的 K 线, 其收盘价处于同一水平位置上。 ()

第三题:

(1) 曙光初现中的阳线实体深入阴线实体的部分越多, 则转势信号越强。 ()

(2) 曙光初现中的阳线实体深入阴线实体的部分越少, 则转势信号越强。 ()

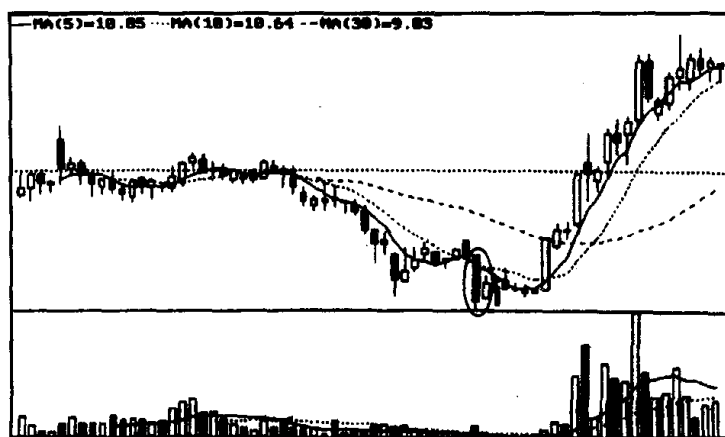
第四题:

(1) 在上涨途中出现上档盘旋形, 如盘旋时间太久, 说明多方上攻愿望不强, 因而下跌的可能性很大。 ()

(2) 在上涨途中出现上档盘旋形, 如盘旋时间越久, 越能说明多方在蓄势待涨, 因而上升的可能性很大。 ()

三、填空题(每题 2 分, 共 8 分)

1. 图①的个股一路下跌后, 在画圈处形成()的走势。



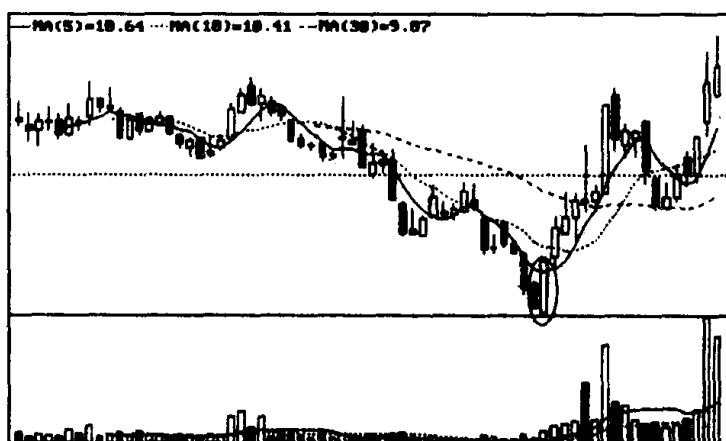
图①

该 K 线组合出现在连续下跌过程中, () 信号强烈, 后来果然在此不久, 该股出现了一轮飚升行情。

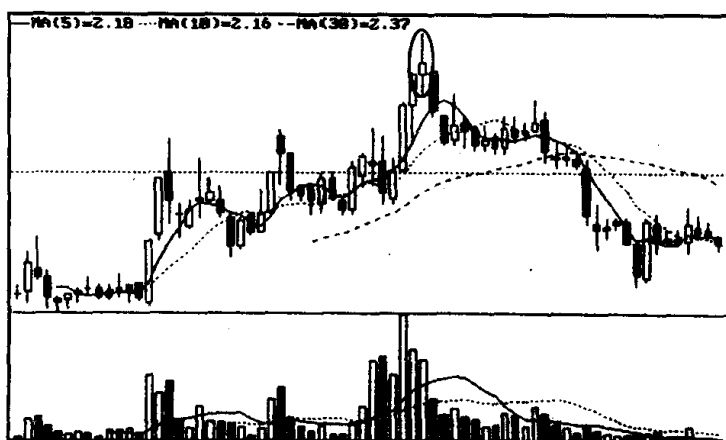
2. 图②画圈处的 K 线组合是()。在跌势中出现这样的 K 线组合, 如()也能随之放大, 向上的概率很大。

3. 图③画圈处的 K 线叫()。在连续上扬过程中, 出现这样的 K 线是一种()信号, 如若日后几日股价重心下移, 一轮跌势就不可避免。

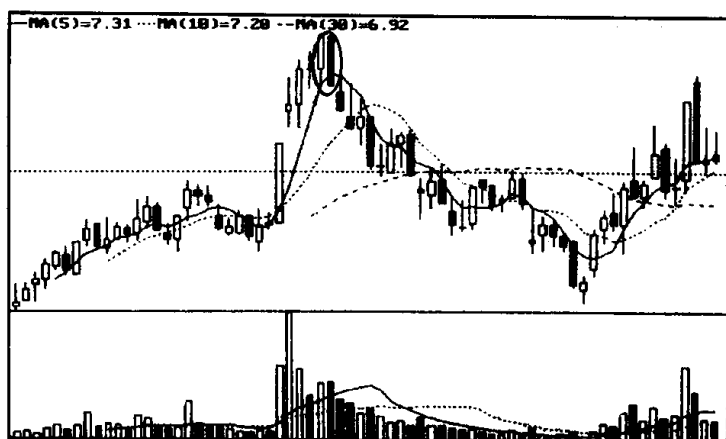
4. 图④画圈处的 K 线组合既是(), 又是(), 所以其见顶信号相当强。



图②



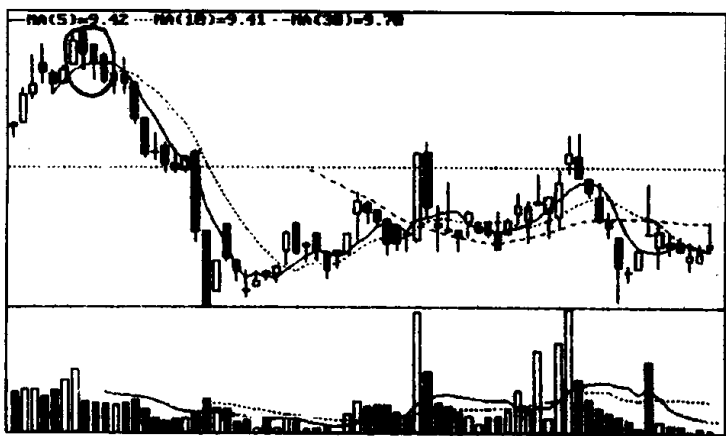
图③



图④

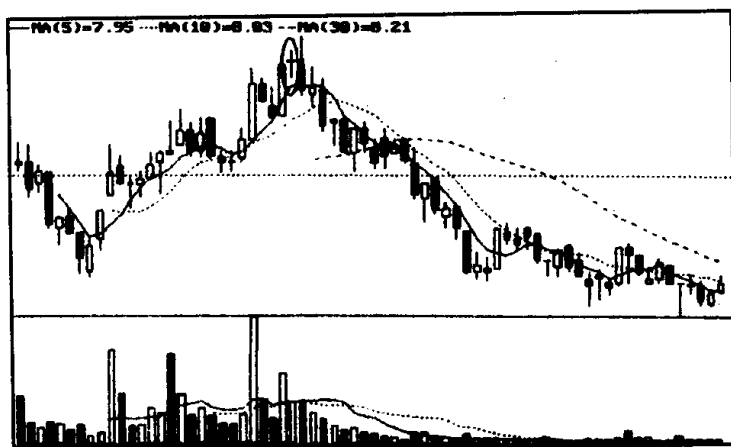
四、选择题(每题 2 分,共 8 分)

1. 图①画圈处的 K 线组合是 ()
- A、连续跳空三阴线 B、下跌三连阴
- C、三只乌鸦 D、双飞乌鸦



图①

2. 图②画圈处的 K 线是 ()
- A、射击之星 B、吊颈线
- C、螺旋桨 D、十字线



图②

3. 图③画圈处的 K 线组合是

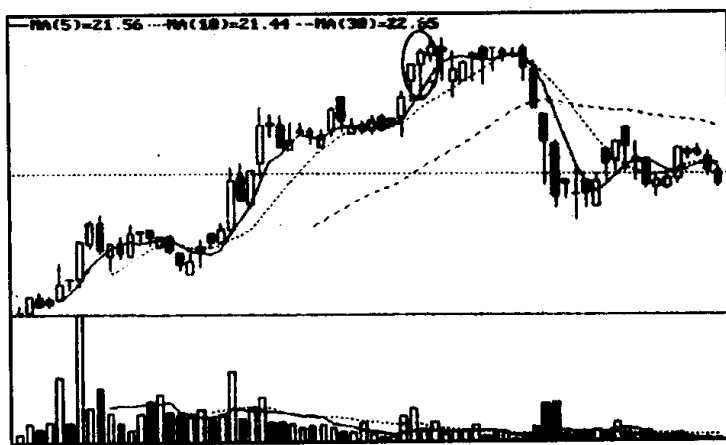
()

A、淡友反攻

B、乌云盖顶

C、升势受阻

D、升势停顿



图③

4. 图④方框内的 K 线组合是

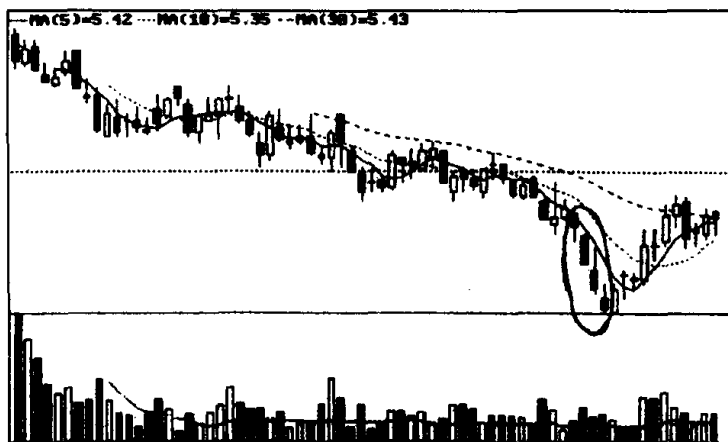
()

A、黑三兵

B、加速度线

C、下跌三连阴

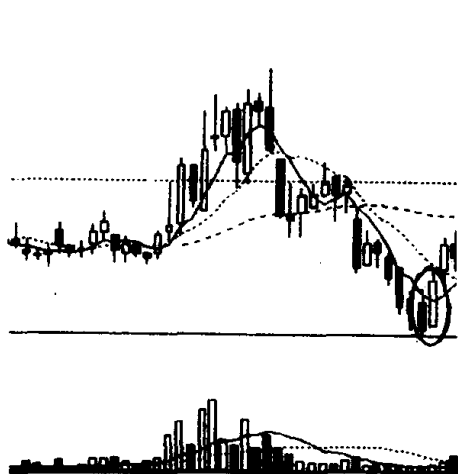
D、连续跳空三阴线



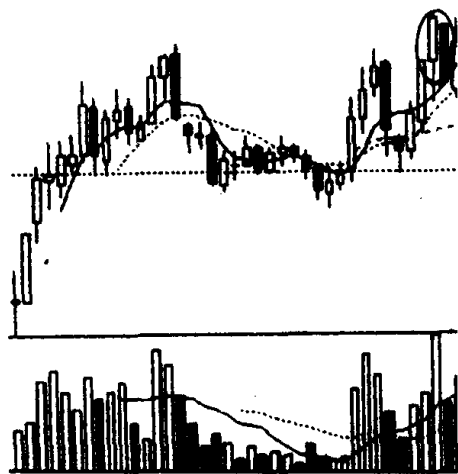
图④

五、简答题(每题 4 分,共 32 分)

1. 仔细观察下图,回答下面的问题:(1)图①、图②画圈处是什么 K 线组合?(2)投资者见到上述 K 线图形应如何操作?

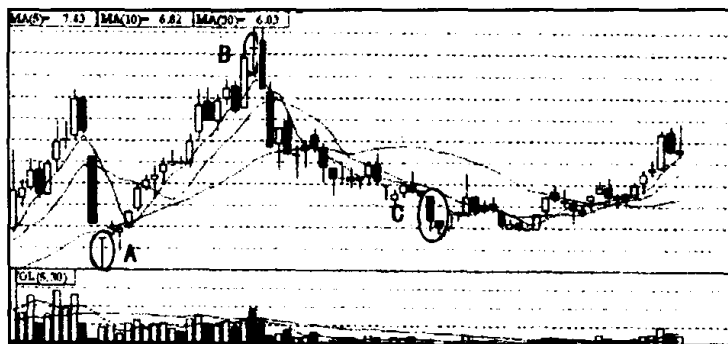


图①

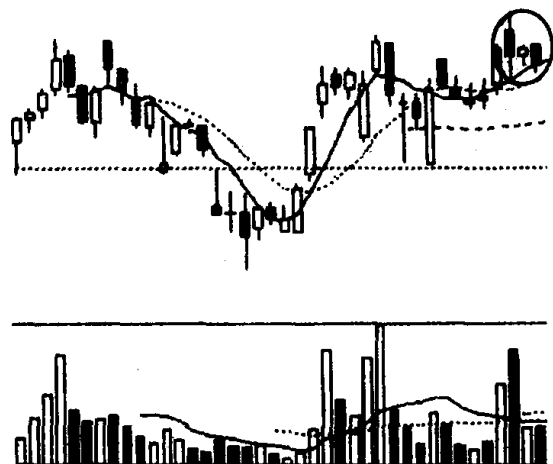


图②

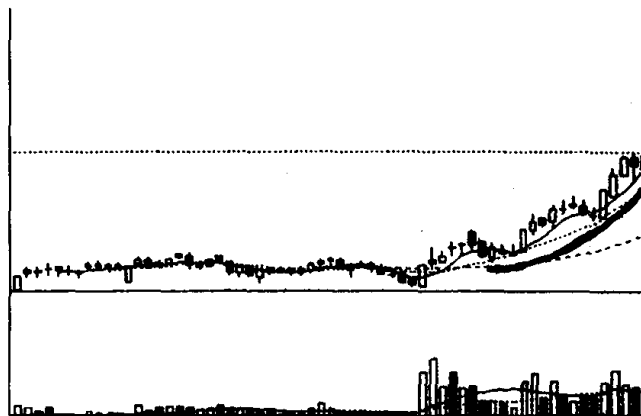
2. 仔细观察下图,回答下面的问题:(1)图中画有 A、B、C 3 个圈,这 3 个圈中的 K 线叫什么名称?(2)它们在技术上有何相同和不同之处?



3. 仔细观察下图, 回答下面的问题: (1) 图中画圈处是什么 K 线组合? (2) 投资者见此 K 线形态应如何操作?



4. 仔细观察下图, 回答下面的问题: (1) 图中画弧线处是什么

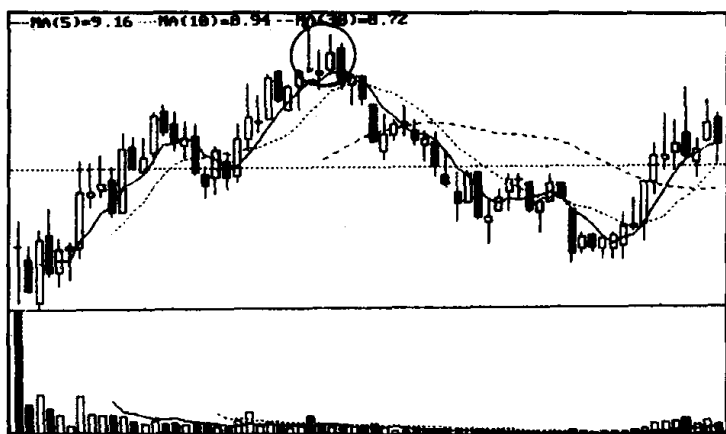


K 线组合？(2)投资者见到此 K 线形态应如何操作？

5. 仔细观察下图, 回答下面的问题:(1)图中画圈处是什么 K 线组合？(2)投资者见此 K 线形态应如何操作？




6. 仔细观察下图, 回答下面的问题:(1)图中画圈处是转势形态的 K 线组合, 它先后 3 次向投资者发出见顶信号, 请问, 这 3 次见顶信号的 K 线或 K 线组合的名称和作用是什么？

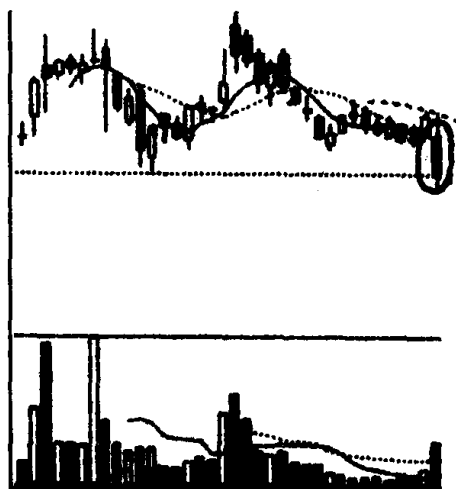


7. 下图是深市某股周 K 线图的一个片断。请你观察该图后回答下面的问题:(1)图中画圈处属于哪一种 K 线组合？(2)投资者

如遇到此 K 线组合应继续做多,还是退出观望?

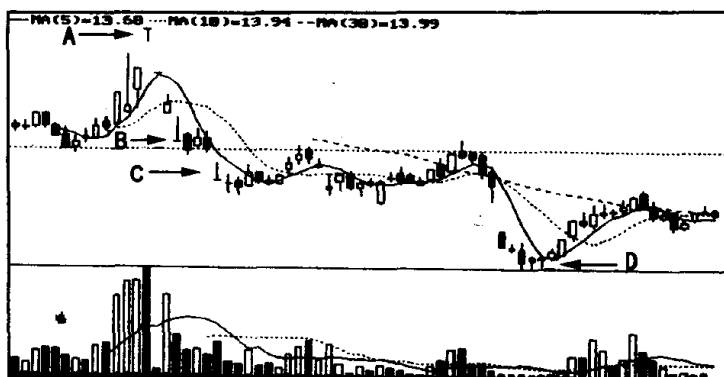


8. 下图显示:某股在连续下跌中,今天又拉出了一根长阴线。请问:投资者现在要不要卖出股票?

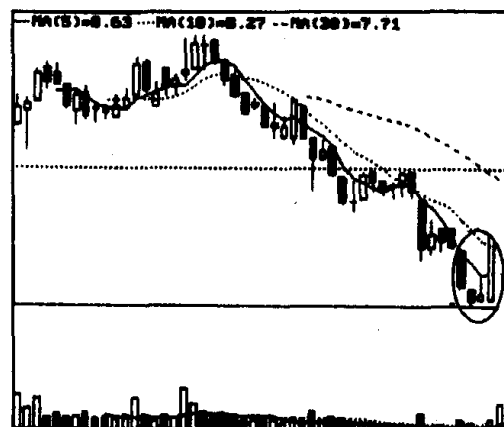


六、问答题(每题 9 分,共 36 分)

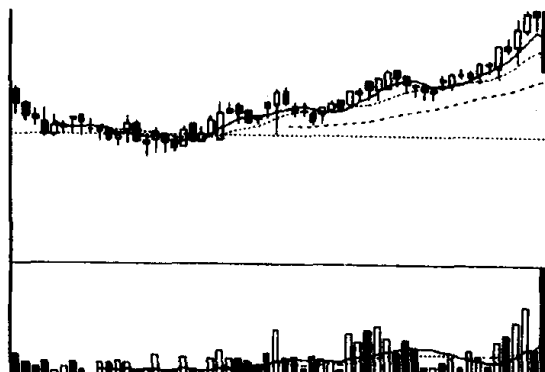
1. 该股是个典型的庄家股,因而出现“T 字线”、“倒 T 字线”的情况特别多。当该股从高位回落时曾 4 次出现过这样的情况。现在请你说说,标有 A、B、C、D 4 根“T 字线”、“倒 T 字线”的技术含义是什么?



2. 下图中画圈处是转势形态的 K 线组合, 它向投资者发出了 3 种见底回升的信号。请问, 这 3 种见底回升信号的 K 线或 K 线组合的名称和作用是什么?

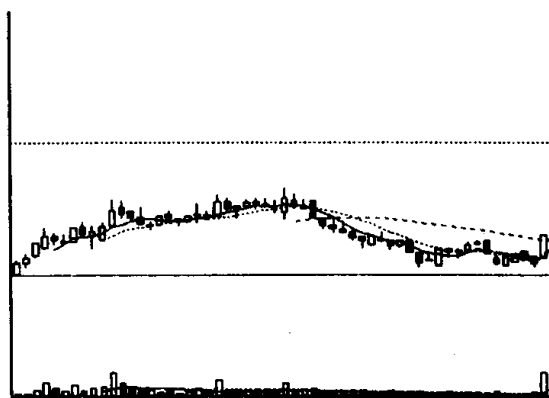


3. 下图中的个股今日放量下跌, 一位投资者已经把前期获利



筹码全部抛空,近期也不打算再买进该股。请问:这位投资者的操作是否正确?

4. 下图中的个股前期一直在横盘整理,今天大市下调,满盘皆绿,它却不跌反涨,拉出了一根光头光脚的大阳线,成交量也随之放大,有人认为这是庄家在逆市操作,该股日后一定会补跌,有人认为这是庄家有实力的表现,该股日后极有可能成为一匹黑马。你认为这两种意见哪一种正确,投资者应如何操作?



K 线图形的识别和运用测验二

参考答案

一、是非题

1. (对) 2. (对) 3. (错) 4. (对)

二、判断题

第一题(2) 第二题(1) 第三题(1) 第四题(1)

三、填空题

1. 身怀六甲、止跌或见底 2. 穿头破脚、成交量
3. 螺旋桨、见顶 4. 平顶、穿头破脚

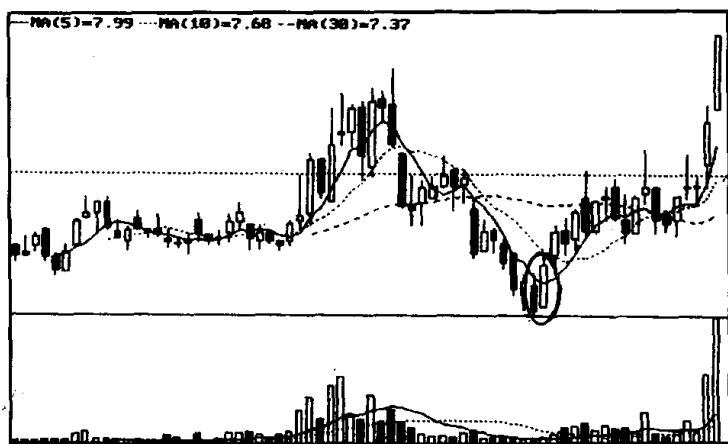
四、选择题

1. C 2. D 3. D 4. D

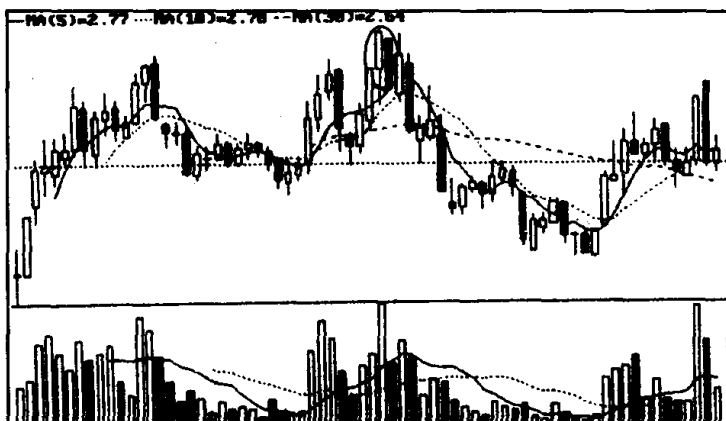
五、简答题

1. 参考答案:(1)图①画圈处的 K 线组合叫旭日东升,图②画圈处的 K 线组合叫倾盆大雨。(2)投资者如见到旭日东升 K 线走势应意识到股价有可能见底回升,此时可考虑试着买进一些股票。投资者如见到倾盆大雨的 K 线走势应意识到股价有可能见顶回落,此时应采取退出的策略,避免股价下跌带来的风险。

附:图①出现旭日东升后和图②出现倾盆大雨后的走势图。

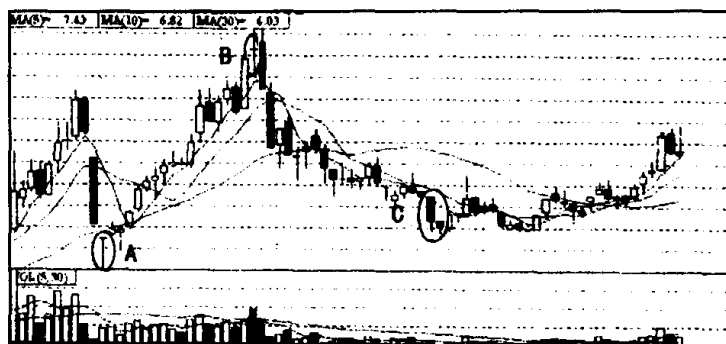


图①



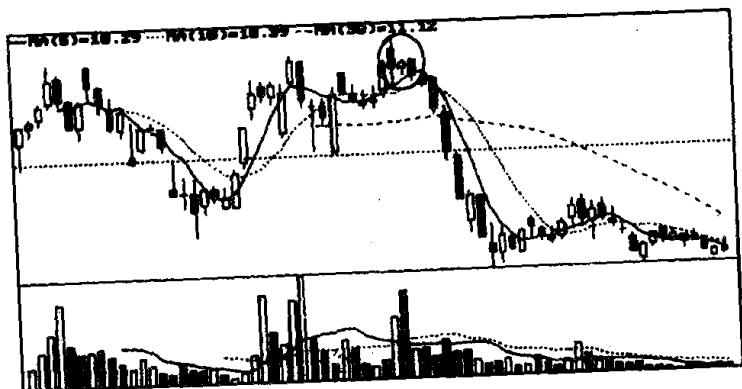
图②

2. 参考答案:(1)A 为 T 字线,B 为长十字线,C 为尽头线。
(2)它们在技术上的共同特征:都是转势信号,都可以改变股价运行的方向。所不同的是:A、C 为见底回升的信号,B 为见顶回落的信号。



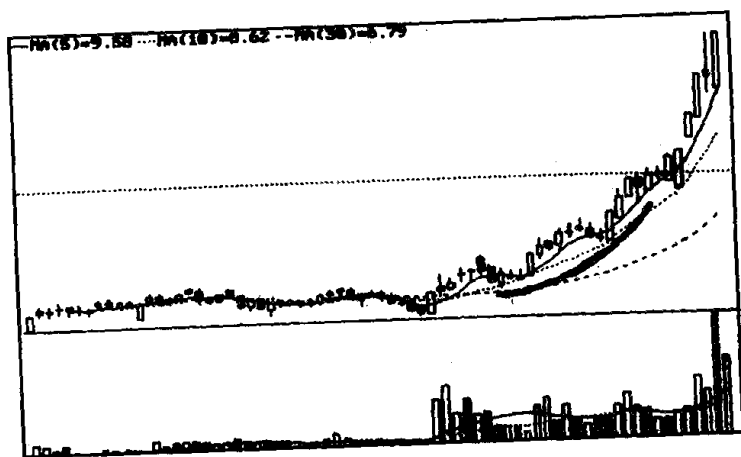
3. 参考答案:(1)图中画圈处的 K 线组合是二黑夹一红。(2)当股价有一段较大涨幅后,出现二黑夹一红时,说明股价升势已尽。这时投资者要提高警惕,可先卖出一些股票,进行减仓操作,如在二黑夹一红后,股价重心继续向下,就应及时抛空离场。

附：该股出现二黑夹一红的走势图。



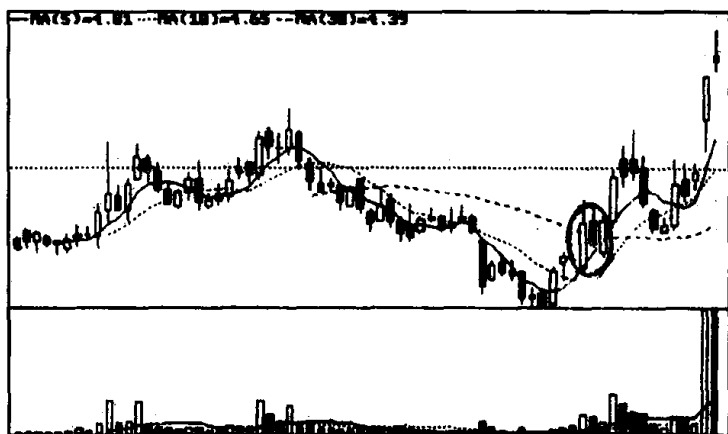
4. 参考答案：(1)图中画弧线的 K 线组合叫弧形线，弧形线是股价继续上涨的信号。(2)当 K 线图上形成弧形走势，成交量也随之放大时，可适时买进一些股票。

附：该股出现弧形线后的走势图。

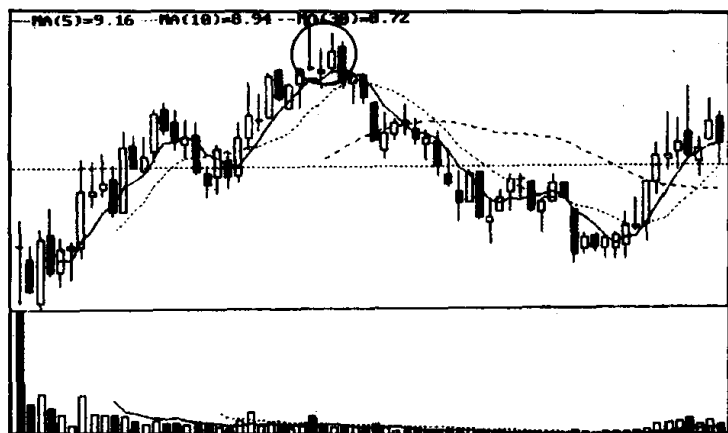


5. 参考答案：(1)图中画圈处的 K 线组合是两红夹一黑。(2)两红夹一黑是股价继续上涨的信号，因此投资者见此图形可持股不动，空仓者可适量买进。

附：该股出现两红夹一黑的走势图。

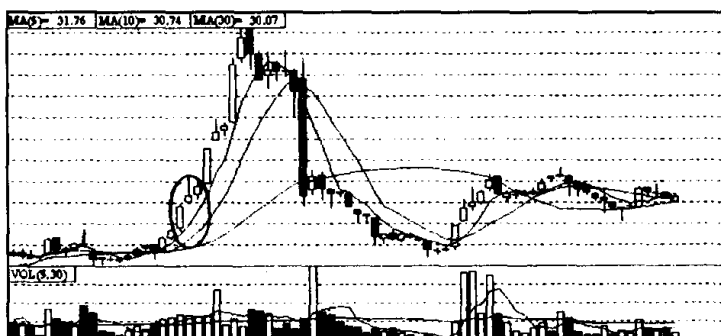


6. 参考答案:这3次见顶信号的K线或K线组合按先后次序分别是倒T字线、螺旋桨、穿头破脚。股价就是在这3次见顶信号的合力作用下,出现了深幅下挫。



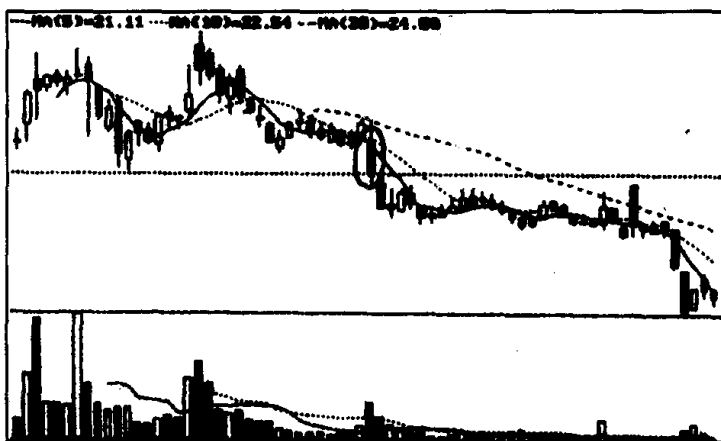
7. 参考答案:(1)图中画圈处的K线组合属于上涨二颗星。(2)投资者遇到这种K线走势应继续做多。因为上涨二颗星是继续上涨的信号,所以,此时投资者仍可持股不动,或适时追加一些筹码。

附：该股出现上涨二颗星后的走势图。



8. 参考答案：投资者要马上停损离场。因为今天这根长阴线是在前期平台整理失败向下破位时产生的，与此同时下跌时成交量也明显放大，说明股价将继续往下探底。

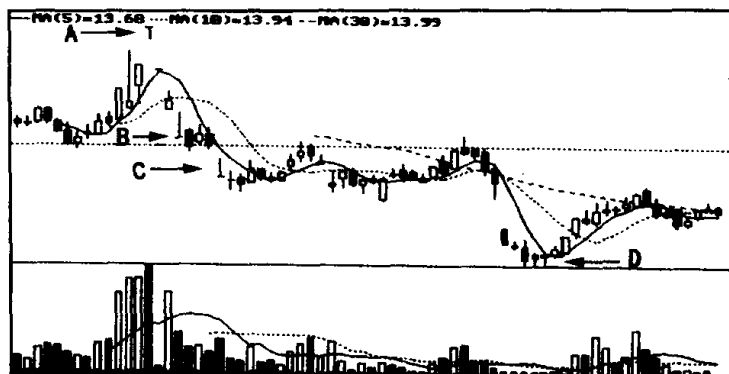
附：该股出现长阴线后的走势图。



六、问答题

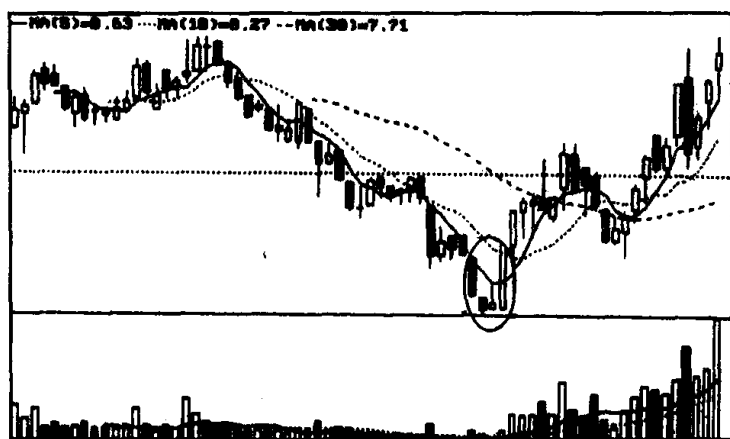
1. 参考答案：标有 A 字的“T 字线”是在连续上涨过程中出现的，并伴有成交量急剧放大，是个明显的顶部转势信号。标有 B 字的“倒 T 字线”，是在下跌途中出现的，是一种下跌抵抗形态，过后股价仍会继续下跌。标有 C 字的“倒 T 字线”，因跌幅已较大，可看作是一个阶段性止跌信号。在这个位置上多空力量达到了相对平衡，股价暂时跌不下去。标有 D 字的“T 字线”，是在股价连续大幅

下挫的情况下出现的,此时成交量已萎缩到极点,是个底部转势信号。



2. 参考答案:从整体上看,图中画圈处的 K 线组合是穿头破脚,而且构成穿头破脚的最后一根 K 线一连吞吃了前面 3 根小 K 线,因此它发出的止跌信号十分强烈。如果我们分开来看图中画圈处的最后一根 K 线是一根大阳线,在跌势中,尤其是股价大幅下跌过程中拉出大阳线,反映了多方强烈的上攻愿望。如果我们再仔细观察,就可以发现大阳线前面的一根 K 线是个倒锤头小阳线。倒锤头小阳线出现在股价深幅下跌之时,有明显的止跌作用。该股正是在这 3 种见底信号的合力作用下,才形成了 V 形反转走势。

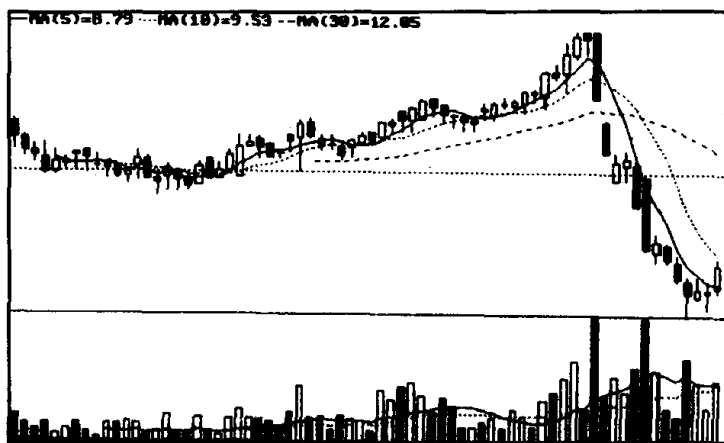
附:该股出现复合形见底 K 线形态后的走势图。



3. 参考答案:这位投资者操作是正确的。今日的光头光脚大

阴线从高处一举跌破了 5 日、10 日两条移动平均线,是空方对多方的一次成功突然袭击,多方溃不成军,日后空方很有可能乘胜追击,扩大胜利成果。另外,今天的这根大阴线和前两根 K 线并列,构成了一个平顶走势。今天的阴线还一连吞吃了前面数根阳线,形成了一个力度很强的顶部穿头破脚 K 线组合。而平顶和穿头破脚都是见顶信号。一个股票在升势中同时出现大阴线、平顶和穿头破脚的转势图是很少见的,再加上下跌时放出巨量,对多方来说目前局势已到了万分危急的关头。该股的技术走势已明白无误地告诉我们:一场暴跌正在或已经开始。所以投资者见此图形要赶快停损离场,越早出局,损失越小。

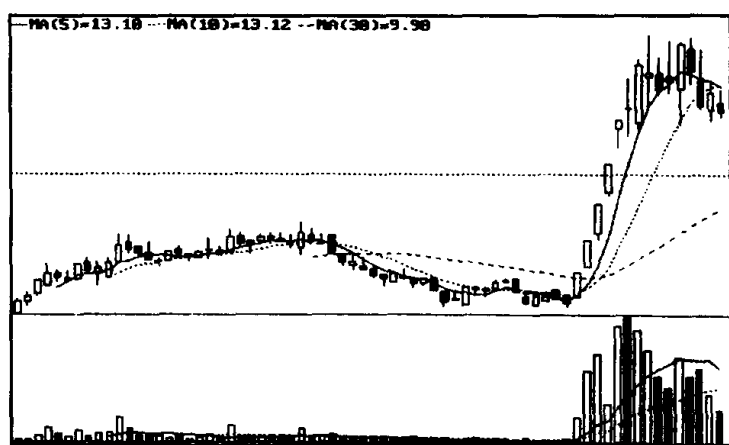
附:该股出现大阴线后的走势图。



4. 参考答案:后一种意见正确。该股横盘后拉出一根光头光脚的大阳线,成交量随之放大,这是看涨的信号。况且,这根大阳线是在大市下调,其他各股纷纷回落时出现的,颇有点万绿丛中一点红的意味。庄家敢于在大市下调之时发力上攻,说明前期已吸足了筹码。这样做的目的,一是为了显示自己做庄的实力,二是为了引起市场对该股的注意,吸引跟风盘。在沪深股市中,一些具有独特题材和潜在利好消息的个股往往就是通过这种形式,而成了市场追捧的对象,变成一匹大黑马。投资者如遇到这种 K 线走势可按下面方法操作:如果你是激进型的投资者,可在拉大阳线成交

量放出后的第二天就买进一些筹码,一旦股价站稳 10 日均线,即可加码追进。如果你是稳健型的投资者,先不要在拉出大阳线后就马上买进,而可等到股价站稳 10 日均线后再买进。这样投资的风险要比前者小一些。有人担心,万一今天的这根大阳线是庄家为了引诱投资者而设置的骗线,买进去不正是中了庄家圈套吗?当然无可否认这种情况也可能会发生,但出现的机会较小。况且真的出现这种情况,K 线走势上也会有所反映,如上涨无量,或是拉出大阳线即显疲态,成交量放大而股价始终上不去等等,这时投资者可见机反手沽空,停损离场,一般损失也不会很大。但如果我们为了担心出现这种情况迟迟不买进。一定要等走势完全明朗后再进货,恐怕股价早已飞上了天,大黑马也会与你擦肩而过。可见在证券市场,只要机会大于风险,这个事情就值得尝试。

附:该股出现大阳线后的走势图。



K 线的识别与练习小结



所谓 K 线走势图,就是股价(指数)在一定时间内的开盘价、收盘价、最高价、最低价,用阴线、阳线表示的走势图,以便投资者观察目前的涨跌趋势,作出正确的投资决策。K 线的内容极为丰富,如果从量上统计,其他所有的技术分析内容加起来至多也只能和它打个平手。从这一点上,就可知道 K 线在技术分析中的地位有多么重要。在股市实战中,K 线分析是投资者用得最广、频率最高、效果最好的一种实用性操盘技巧。因此,作为股市中人要想获得投资成功,就一定要认真学习和研究 K 线,并在实践中真正掌握它。这里必须注意以下几个问题:

(1) 要牢记各种 K 线图形的特征。不仅要记住它的基本图形,还要记住有关图形特征的文字表述。本章所列的常用 K 线图形有 70 几种,这已经是够多的了。但这 70 余种的 K 线图形还只是它们最基本的图形,书中不可能也没有必要将在基本图形上演变出来的各种图形都列举出来。譬如说平底吧,尽管它变化的图形有几十种之多,但投资者只要记住临近的几根 K 线“最低价位(最低点)处于同一水平位置”这一特征,那么无论平底的图形如何变化,都很容易把它识别出来。

(2) 要反复比较,不要张冠李戴。在 K 线图形中,尤其是一些 K 线组合,形状相似的很多,稍不注意,就会认错。为了避免误认,读者对一些相近的图形要反复比较,真正搞清楚它们的区别所在。譬如同是 3 根阳线的图形,但由于阳线实体的变化,就会出现三个白色武士、升势停顿、升势受阻 3 个不同图形。它们的各自技术含义不同,与之相对应的操作方法也不同。这就不能把它们混为一谈,张冠李戴,以免遭受不必要的损失。

(3) 要知其然,更要知其所以然。很多 K 线,因它所处的位置不同,其含义也就不同,对此读者一定要留意。我们就拿大阳线来

说,很多人认为,凡是大阳线就是涨的信号,其实这样理解是不全面的,当股价快速上扬之后拉出大阳线往往有见顶的意味,它就不是买进信号,如果不问三七二十一,在高位看见大阳线也追涨,势必要成为股市中的套牢人。因此,读者对 K 线的特征和技术含义要认真加以研判,知其一,更要知其二,这样在运用时才不会发生差错。

(4) 要学会 K 线综合分析技巧。所谓 K 线的综合分析技巧,是指当某一组 K 线同时发出多种市场信号时,投资者能对其正确地加以疏理,从而推断出一个符合客观实际的结论,以此来指导自己投资行为的一种技巧。譬如说,象股价在连续上升情况下出现“”这样的 K 线组合(见图 312),如果仅靠一般的 K 线分析就会认为它是一种普通的滞涨信号,很难促使投资者下决心将股票卖出(生怕卖错)。但如果运用 K 线综合分析技巧,就能帮助投资者看清它内中的奥秘,从而促使他们作出抛空离场的正确决断。因为“”不是一种简单的 K 线组合,它里面同时包含了多种市场信息。我们先把它它们分开来看,左边一根 K 线是螺旋桨,右边一根 K 线是长阴线,我们再把它它们合起来看,这既是一个典型的穿头破脚,又是一个完整的平顶形 K 线组合。从 K 线理论上来说,螺旋桨、长阴线、穿头破脚、平顶都是见顶信号。当它们在高位同

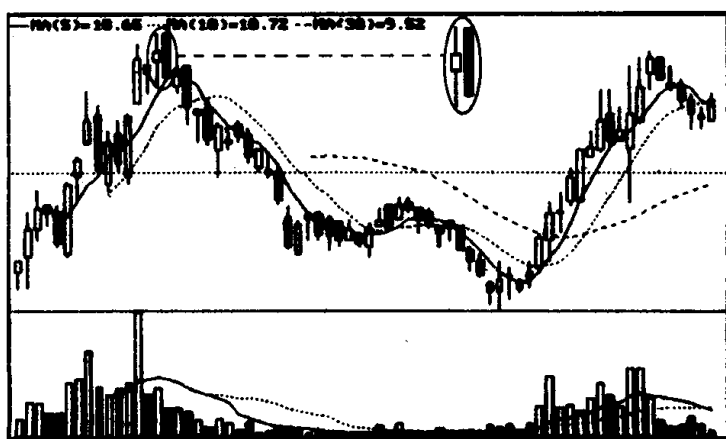


图 312

时出现，并集中体现在一组 K 线上，再加上又是在股价前期上冲放出天量之后形成的，这个见顶信号的可信度就大大提高了。如此时投资者按见顶信号操作，卖出股票，一般就不会发生什么差错。从股市成功人士的经验来看 K 线综合分析技巧运用得越多、越娴熟，对股价走势的判断也就越准确，这一点必须引起投资者的高度重视。

(5) 要同其他技术分析技巧结合起来使用。K 线分析如能同其他技术分析方法结合起来使用，效果会更好些。本书以后几册中会陆续对此进行介绍，这里就不作展开了。

第二章 技术图形的识别与练习

在股市实战中,技术图形分析方法是又一种重要的技术分析手段。股市中的技术图形好比气象台的卫星云图,你能看懂它,就能知道它日后的运行方向,是风,还是雨;是买进,还是卖出。各种各样的技术图形都为投资者作了明确的提示。股市中有一句名言:识大势者赚大钱。能看懂股市技术图形的人就是一个识大势者,作为股市中人,要在风险很高的股市中生存和发展下去,就必须对股市的技术图形有个全面透彻的了解。然而遗憾的是,许多投资者对股市的技术图形知之甚少,或是对它一知半解。例如,有的对“颈线”、“头肩底”等不知是何物;有的对技术图形平时也能说上几句,但一到股市,面对眼花缭乱的个股走势,就晕了头,感到无所适从;有的对技术图形知识仅停留在书本上,一到操作时,就把形相似而质不同的图形搅在一起,生搬硬套,常会闹出指鹿为马的笑话……有鉴于此,在本章中,我们加强了技术图形的系统学习和训练。本章开头先将常用的和比较常用的 20 余种技术图形的特征、性质、作用作了系统归类,以方便读者做练习时的速查、核对之用。初学者,也可将它作为技术图形入门的学习向导。在正文部分,我们把深沪股市中历年来发生的各种相似图形放在一起,让读者辨识、练习。此外,在本章中,我们还安排了其他一些练习、测验。这些练习、测验从不同角度探视了技术图形的变化,目的都是为了强化读者对技术图形的理解和认识,真正能做到学以致用。我们相信,读者只要认真做好这些练习,一定会掌握好技术图形的分析技巧,从而在股市上做到领先一步,成为一个成功的投资者。

第一节 技术图形概述

无论是国内还是国外股市,也无论是什么股票,只要交易

时间一长，就会在其走势图上形成各种不同的图形，有的像一座山，有的像一座岛，有的像一面旗子……开始人们对这些图形并不在意，后来人们发现一旦股指，或股价形成这些图形后，其往后的走势几乎如同一辙，譬如说股价走成“山”字形后，就一路下跌，10只股票中9只是如此。因此，人们只要看到“山”字形图形后，就会争先恐后地卖出股票，逃之不及者都会被这座“山”压扁。正因为每种图形都会出现一种规律性的变化现象，人们才开始研究它，总结它，于是就产生了以股价走势图形为研究对象的技术图形理论。



上百年来，技术图形理论在指导人们买卖股票时发挥了巨大的作用。很多人就是在技术图形理论的指点下，规避了股市风险，抓住了黑马，成了大赢家；同样也有很多人由于对技术图形一无所知，或知之不多，在股市风暴来临时都不知如何躲避，最终成了股市上的输家。

技术图形并不神秘，它的变化是有规律的。只要掌握它的变化规律，就能成为我们手中很有用的投资武器。根据技术图形的变化规律，大致可将它们分为两类：一类为转势形态。就是说出现这种图形后，股价运行方向就会改变，由原来的上升趋势转为下跌趋势，或由原来的下跌趋势转为上升趋势。其中属于底部转势形态的图形有：头肩底、双底、圆底、潜伏底、V形、底部三角形、向下竭尽缺口、底部岛形反转等。属于顶部转势形态的图形有：头肩顶、双顶、圆顶、倒置V形、向上竭尽缺口、顶部岛形反转等。另一类为整理形态。出现这种图形后，股价会寻求向上或向下突破。这中间又分为3种情况：第一种经过整理，突破方向以向上居多，这类图形有：上升三角形、上升旗形、下降楔形。第二种经过整理，突破方向以向下居多，这类图形有：下降三角形、下降旗形、上升楔形、扩散三角形。第三种在整理过程中，显示多空双方处于一种势均力敌状态，很难说是向上突破可能性居多，还是向下突破可能性居多，一切都要根据当时盘面变化来决定，这类图形有：收敛三角形、矩形。总之，当投资者对各技术图形的变化规律都认识、掌握


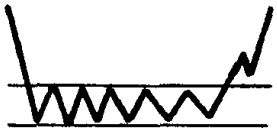
后,判断大势、买卖股票就会潇洒自如了。

第二节 技术图形一览表


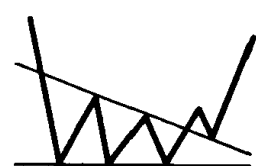
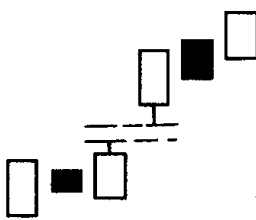
一、转势形态的技术图形

序号	名称	技术图形	特 征	技术含义	操作建议	备注
1	头肩底		<p>(1)在跌势中出现;</p> <p>(2)有 3 个低谷,左右两个低谷的低点基本处在同一水平位置上,但当中低谷的低点明显低于左右两个低谷的低点;</p> <p>(3)前两次反弹高点基本相同,最后一次反弹向上突破了前两次反弹高点的连线(俗称“颈线”),并收于其上方;</p> <p>(4)成交量出现极度萎缩后,上冲突破颈线时成交量显著放大;</p> <p>(5)在突破压力线之后,常常有回抽,在颈线附近止跌回升,从而确认向上突破有效</p>	见底回升,买进信号	<p>激进型投资者可在右肩形成,放量向上突破颈线时买进。</p> <p>稳健型投资者可在放量突破颈线后,经回探颈线后再次放量创新高时买进</p>	<p>(1)筑底时间越长越有可能产生大涨行情;</p> <p>(2)在实际走势中,也可能形成两个右肩、两个左肩,或一个右肩、两个左肩;或两个右肩、一个左肩的图形。这种变异的头肩底与标准的头肩底技术含义相同</p>
2	双底,又称 W 底		<p>(1)在跌势中出现;</p> <p>(2)有二个低谷,最低点基本相同;</p> <p>(3)第二个低谷形成时,成交量极度萎缩,但向上突破颈线时成交量迅速放大;</p> <p>(4)在突破之后常常有回抽,在颈线附近止跌回升,从而确认向上突破有效</p>	筑底回升,买进信号	<p>投资者可试探性地跟进做多。买进方法同头肩底买进方法相同</p>	<p>(1)上升力度不如头肩底,但如双底形成时间较长,半年甚至一年以上,其上升力度也不可小视;</p> <p>(2)筑底时间小于 1 个月,其信号较弱</p>

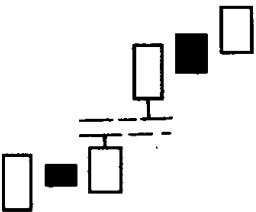


续上表

序号	名称	技术图形	特 征	技术含义	操作建议	备 注
3	圆底		(1)在跌势中出现； (2)下跌后速度越来越慢，成交量逐渐萎缩，后逐渐转变为上涨，速度越来越快，成交量也呈放大态势，其形状像圆弧	筑底回升，买进信号	投资者可在上涨速度加快时跟进做多，但要作好停损离场的准备	(1)圆底的时间跨度越长，上升潜力就越大； (2)圆底不像头肩底、双底有明显的买进点。头肩底、双底只要有效冲破颈线即可视为买进信号，而圆底上涨时一般无颈线可辨别(个别例外)，因此要不要买进，一要密切观察成交量变化，二要注意股价能否冲破历史密集成交区
4	潜伏底		(1)在一轮大的跌势过后出现； (2)长时期地作狭窄的小幅波动，成交量稀疏，随后放巨量突破上档压力线大幅上扬	不鸣则已，一鸣惊人，买进信号	在放巨量向上突破压力线时，大胆跟进	(1)潜伏底形成时间一般都比较长，多数发生在被市场长期冷落的个股上； (2)潜伏底是股价上升潜力最大的一种底部形态。股谚说的“横过来有多长，竖起来就有多高”，指的就是潜伏底




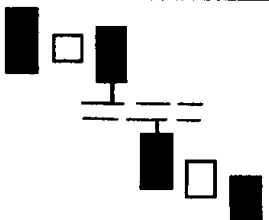
续上表

序号	名称	技术图形	特征	技术含义	操作建议	备注
5	V形		(1)出现在跌势中； (2)下跌速度越来越快，突然峰回路转，出现快速回升，其形状像个英文字母“V”； (3)转势点的成交量特别大	触底回升，买进信号	快速跟进，但要控制好仓位，如V形走势失败，应及时停损离场	在股价见底回升的走势中，V形是比较少见的一种图形，但一旦形成，其上升速度快而有力，常令多数投资者措手不及而纷纷踏空，很容易形成一种逼空走势
6	底部三角形		(1)在跌势中出现； (2)股价在3次探底时，几乎都在相同的价格上获得支撑； (3)股价每次探底后反弹的高点不断下移； (4)股价第三次探底后，反弹力度加强，成交量放大，冲过了上档压力线并立于压力线上方； (5)在形成三角形时成交量呈逐步萎缩状态，以至出现极度萎缩； (6)向上突破之后常常会有一次回抽，配合较小的成交量	筑底回升，买进信号	在底部三角形形成的后期，不能再盲目做空，而要密切注意成交量变化，一旦发现成交量放大，股价冲破压力线时就可试着做多，如回探颈线再创新高时可加码买进	底部三角形是深沪股市中最常见、最实用的底部形态之一。如果它能成功地向上突破，上升空间很大，投资者应对它高度重视
7	向上跳空缺口		(1)出现在涨势中； (2)在上升行情中，由于多方力量占了绝对优势，股价跳空高开，留下了向上无成交的空白区域，并保持到收盘，这就形成了上升时的缺口； (3)向上跳空缺口一般不超过3个，依次为向上突破缺口、向上持续缺口、向上竭尽缺口	(1)向上突破缺口，做多能量积聚，是买进信号； (2)向上持续缺口，表示做	投资者见到上升缺口，可按以下方法进行的操作： (1)股价上攻留下向上突破缺口后，可跟进做多，往后出现向上持续缺口可追加筹码，一旦发现收盘	(1)向上缺口，对股价回落有较强支撑作用，但一旦股价回落将缺口填补，市道将由强转弱； (2)在超强市场或超强个股中，向上持续缺口有时

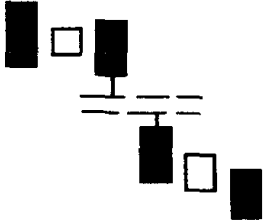
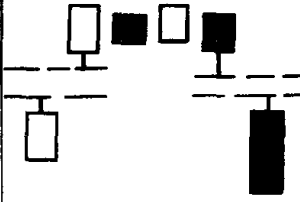
续上表

序号	名称	技术图形	特 征	技术含义	操作建议	备注
7	向上跳空缺口			多能仍量在增加,是买进信号; (3)向上竭尽缺口,表示做多能量耗尽,是转势信号	回补完缺口应反手沽空,离场观望; (2)向上竭尽缺口出现后,不宜再追涨,应适时减磅,一旦发现向上竭尽缺口被填补,持股者应立即停损出局	会出现多个。这里就不能简单地套用“跳三空、气数尽”的模式
8	底部岛形反转		(1)出现在跌势中; (2)股价下跌和上升时出现两个跳空缺口,缺口位置基本处于同一区域,底部就象一座远离海岸的孤岛	大势转暖,买进信号	在跌势中,出现岛形反转,投资者可考虑适量买进,一旦上涨趋势形成,再加码追进	
9	头肩顶		(1)在涨势中出现; (2)有3个高峰,左右两个高峰的高点基本处于同一水平位置上,但当中的高峰的高点明显高于左右两个高峰的高点; (3)前两次冲高回落止跌的低点基本相同,最后一次冲高回落跌破了前两次回落止跌低点的连线,(俗称“颈线”),并收于其下方; (4)在形成头肩顶的过程中,成交量则依次出现下降的局面; (5)在跌破颈线之后,常常有一个回抽,在颈线附近受阻回落,从而确认向下突破有效	见顶回落,卖出信号	投资者的最佳选择是退出,留得青山在,不怕没柴烧	在实际走势中,也可能形成2个右肩、2个左肩、1个左肩、2个右肩、2个左肩、1个右肩的图形,这种变异的头肩顶与标准的头肩顶,俗称“复合头肩顶”,它与标准的头肩顶技术含义相同


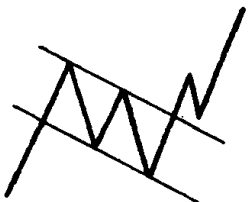
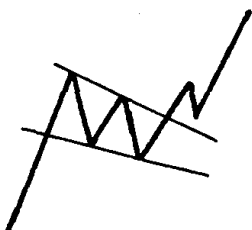
续上表

序号	名称	技术图形	特征	技术含义	操作建议	备注
10	双顶，又称M头		(1)在涨势中出现； (2)有两个高峰，其高点并不一定在同一高度上，有时第二个头甚至比第一个头高一些； (3)形成第二个高峰后，回落时跌破了前一个低点，并收于其下方； (4)在跌破颈线之后，常常有一个回抽，在颈线附近受阻回落，从而确认向下突破有效	见顶回落，卖出信号	投资者应及时止损离场	双顶形成时，在两次冲击高峰时都应有较大的成交量（只是第二次的成交量明显小于第一次）。双顶形成的时间超过1个月，则转势的信号就更可靠
11	圆顶		(1)出现在涨势中； (2)上涨的速度由越来越慢逐渐转为缓慢的下沉，最后下跌的速度加快，形成一个圆顶状； (3)成交量无明显的特征，一般在顶点时成交量有减少的迹象。有时成交量和股价走势保持同步也呈圆顶状	见顶回落，卖出信号	投资者在下跌速度加快时要果断退出	(1)圆顶形成的时间越长，下跌的力度就越大； (2)圆顶一般无颈线可辨认（个别例外）
12	倒置V形，又称尖顶		(1)出现在涨势中； (2)上涨的速度越来越快，突然乌云压城，出现快速下跌，其形状像个倒置的V字； (3)转折点的成交量特别大	触顶暴跌，卖出信号	投资者应及时止损离场	倒置V形走势一旦形成，股价回落速度很快，仅几天或1、2个星期股价跌去大半是常有的事，对此投资者一定要警觉
13	向下跳空缺口		(1)出现在跌势中； (2)在下跌行情中，由于空方占了绝对优势，股价跳低开盘，留下了向下无成交的空白区域，并保持到收盘，形成下跌时的缺口； (3)向下跳空缺口一般	(1)向下突破缺口，表示做空能量积聚，是	投资者见到下跌缺口，可按以下方法进行的操作： (1)当股价下跌出现第一个缺口即	①向下缺口对股价上行有较强阻力作用，但一旦股价反弹将缺口填补，市道将

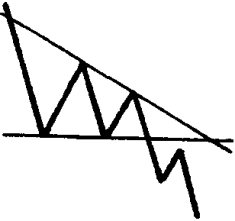
续上表

序号	名称	技术图形	特征	技术含义	操作建议	备注
13	向下跳空缺口		不超过三个,依次为向下突破缺口、向下持续缺口、向下竭尽缺口	卖出信号; (2)向下持续缺口,表示做空能量仍在增加,是卖出信号; (3)向下竭尽缺口,表示做空能量耗尽,是转势信号	向下突破缺口时,应果断离场;出现第二个缺口,即向下持续缺口,仍可继续卖出股票,但股价反弹将缺口完全填补后,则不宜再继续做空,可试探着做多; (2)当股价下跌出现第三个缺口,即向下竭尽缺口后,应注意股价有可能见底回升,此时不能盲目看空,而要随时作好入市的准备,并可试着买一些股票	由弱转强。 ②在极弱市道或极弱个股中,向下持续缺口有时会出现多个,这里就不能简单地套用“跳三空、气数尽”的模式
14	顶部岛形反转		(1)出现在涨势中; (2)股价上升和下跌时出现两个跳空缺口,缺口位置基本上处于同一区域,顶部就像一座远离海岸的孤岛	大势向淡,卖出信号	在涨势中形成顶部岛形反转,投资者应立即卖出股票离场观望	顶部形成的岛形反转信号比底部形成的岛形反转信号要可靠。因此投资者见到顶部岛形反转后要及时做空,见到底部岛形反转可试探性做多

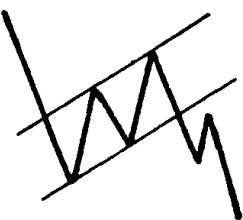
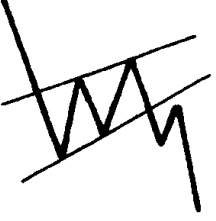
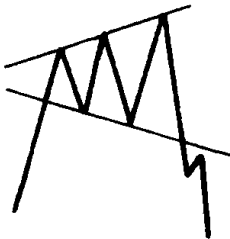
二、整理形态的技术图形

序号	名称	技术图形	特征	技术含义	操作建议	备注
15	上升三角形		<p>(1)在涨势中出现；</p> <p>(2)上涨的高点基本处于同一水平位置，回落低点却不断上移(如将上边的高点和下边的低点分别用直线连起来就构成一个向上倾斜的直角三角形)；</p> <p>(3)成交量不断萎缩，向上突破压力线时放出大量；</p> <p>(4)在突破后常常有回抽，在原来高点连线处止跌回升，从而确认向上突破有效</p>	蓄势上扬，买进信号	在股价突破上档压力线，小幅回落，再次发力创新高后，投资者可加码跟进	上升三角形最终出路向上居多，但少数情况下也会向下突破。如出现向下突破，投资者应及时沽空离场
16	上升旗形		<p>(1)在涨势中出现；</p> <p>(2)上涨高点的连线平行于回落低点的连线，且往下倾斜(看上去就象迎面飘扬的一面旗子)；</p> <p>(3)股价冲破压力线后，常常有一个回抽，并在压力线附近止跌回升，以确认向上突破有效</p>	诱空陷阱，买进信号	不要被股价低点下移所迷惑，要警惕这是市场主力诱空行为，持筹者可静观其变，如向上突破可追加筹码跟进	上升旗形在多数情况下向上突破居多，但少数会向下突破，一旦发现向下突破，应反手沽空
17	下降楔形		<p>(1)在升势中出现；</p> <p>(2)上涨高点的连线与回落低点的连线相交于右下方(构成一个向下倾斜的楔形图)，最后股价突破压力线，并收于其上方；</p> <p>(3)在楔形的形成过程中，成交量不断减少，而且股价越接近尖端，成交量越小，但当股价上升突破压力线时成交量明显放大；</p> <p>(4)股价突破压力线后，常常有回抽，并在原来的压力线附近止跌回升，从而确认上升突破有效</p>	诱空陷阱，买进信号	不要被股价低点下移所迷惑，要警惕这是市场主力诱空行为，持筹者可静观其变，如向上突破可追加筹码跟进	下降楔形在多数情况下向上突破居多，但少数会向下突破，一旦发现向下突破，应反手沽空


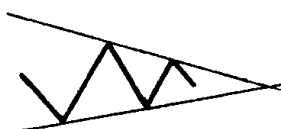
续上表

序号	名称	技术图形	特 征	技术含义	操作建议	备 注
18	下降三角形		<p>(1)在跌势中出现；</p> <p>(2)反弹的高点不断下移,但回落的低点处于同一水平位置(如将上边的高点和下边的低点分别用直线连起来,就构成一个向下倾斜的直角三角形)。最后股价跌破支撑线向下滑落；</p> <p>(3)在跌破支撑线后常常有回抽,并在原来的支撑线附近遇阻,从而确认向下跌破有效</p>	盘整下挫,卖出信号	投资者在跌破支撑线后应坚决停损离场	<p>(1)下降三角形最终出路向下的居多,但少数情况下也会向上突破。如出现向上突破投资者应反手做多；</p> <p>(2)下降三角形与底部三角形形状相似。区别在于：前者量价关系背离,后者成交量呈持续萎缩状；前者在突破前夕,量开始放出,后者在突破前夕,量出现极度萎缩；前者往下突破时不一定放出大量,后者往上突破时放出大量。另外下降三角形既可出现在跌势中,也可出现在涨势中,而底部三角形出现在较大跌势之后,下降三角形形成的时间要比底部三角形形成的时间短</p>


续上表

序号	名称	技术图形	特 征	技术含义	操作建议	备注
19	下降旗形		(1)在跌势中出现； (2)反弹高点的连线平行于下跌低点的连线，且往上倾斜，看上去就象一面旗子的旗面； (3)在股价跌破支撑线后，常常有一个回抽，并受阻于支撑线，确认向下突破有效； (4)成交量呈不规则状态	诱多陷阱，卖出信号	不要被股价低点上移所迷惑，要警惕这是市场主力诱多行为，应持币观望为宜。如向下突破，持筹者应立即止损离场	下降旗形在多数情况下向下突破居多，但少数会向上突破，投资者要做好应变准备
20	上升楔形		(1)在跌势中出现； (2)反弹高点的连线与下跌低点的连线相交于右上方(构成一个向上倾斜的楔形图)，最后股价跌破支撑线向下滑落； (3)在楔形的形成过程中，成交量不断减少，呈现价升量减的反弹特征； (4)股价跌破支撑线后常常有回抽，并在原来的支撑线附近受阻，从而确认向下突破有效	诱多陷阱，卖出信号	不要被股价低点上移所迷惑，要警惕这是市场主力诱多行为，应持币观望为宜，如向下突破持筹者要及时止损离场	上升楔形在多数情况下向下突破居多，但少数会向上突破，投资者要做好应变准备
21	扩散三角形		(1)多数出现在升势中； (2)高点的连线与低点的连线相交于左方，呈向右扩散状，其形状像一个喇叭； (3)成交量高而不规则	升势已尽，卖出信号	可在里面高抛低吸，但要快进快出。一旦发现跌破支撑线应马上止损离场	(1)扩散三角形是股市投机呈极端疯狂状态的一种表现，当市场变得毫无理智时，无疑是最危险的时候； (2)扩散三角形下跌开始的时间较难估计，因为最后的疯狂常常带有巨大的能量，它可能推动股价

续上表

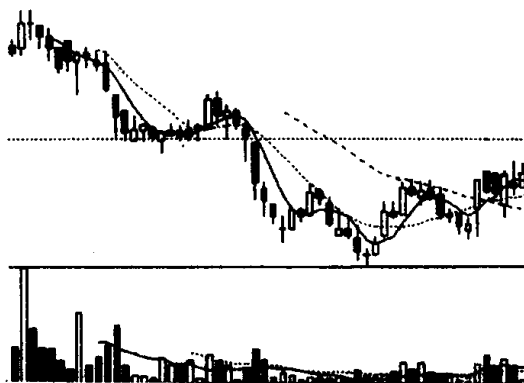
序号	名称	技术图形	特征	技术含义	操作建议	备注
21	扩散三角形					达到一些难以理解的高位,投资者对主力这种诱多行为要保持警觉。(3)极少数扩散三角形,因市场面的变化,会出现变异,如演化成上升三角形,最后向上突破。因此投资者对这种变异的扩散三角形,要密切关注,随时调整自己的投资策略
22	收敛三角形		(1)既可出现在涨势中,也可出现在跌势中; (2)高点的连线与低点的连线相交于右方,呈收敛状。其形状象一把三角形尖刀; (3)成交量不断减少	整理形态,向上向下均有可能,是观望信号	(1)股价在三角形整理时,应采取观望态度; (2)在涨势中,投资者发现股价放量收于压力线上方可追加筹码,但往下突破,要及时沽空;在跌势中投资者发现股价放量收于压力线上方不必急于做多,可在回探压力线创新高后买进,其余情况以做空为主	收敛三角形与扩散三角形的形状正好颠倒。扩散三角形最后向下概率较大,而收敛三角形是个整理形态,最后向上向下均有可能,这是两者的根本区别

续上表

序号	名称	技术图形	特征	技术含义	操作建议	备注
23	矩形，又称股票票箱、长方形		(1)既可以在涨势中出现,也可以在跌势中出现; (2)股价在上下距离相近的水平位置中作上下波动(如将股价的高点和低点分别用直线连起来,就形成一个长方形图形),最后寻求向上或向下突破; (3)在矩形形成过程中成交量不断减少	方向不定,观望为宜	盘整行情以不介入为宜,因它向上向下突破均有可能,过早加入将陷于被动。如果股价盘整后向上突破,可采取做多策略,向下突破则可采取做空策略	(1)矩形即通常人们说的箱形整理行情。股价碰到箱顶即回落,碰到箱底即弹升。如此反反复复,直到一方力量耗尽,出现突破方向为止; (2)矩形形成时,成交量持续在较高水平,则很有可能是主力机构托盘出货,即使往上突破也是一个多头陷阱,投资者对此要有警觉

第三节 头肩底与头肩顶的识别和运用

习题84 下图是我们在股市中经常看到的一个技术图



(该股往后走势见图 315)

图 313

形,你知道它的名称和特征吗?投资者面对这个图形应如何操作?

参考答案 这是个“头肩底”(见图 314)。头肩底的特征是:

(1)急速的下跌,随后止跌反弹,形成第一个波谷,这就是通常说的“左肩”。形成左肩部分时,成交量在下跌过程中出现放大迹象,而在左肩最低点回升时则有减少的倾向。(2)第一次反弹受阻,股价再次下跌,并跌破了前一低点,之后股价再次止跌反弹形成了第二个波谷,这就是通常说的“头部”。形成头部时,成交量会有所增加。(3)第二次反弹再次在第一次反弹高点处受阻,股价又开始第三次下跌,但股价到与第一个波谷相近的位置后就不下去了,成交量出现极度萎缩,此后股价再次反弹形成了第三个波谷。这就是通常说的“右肩”。第三次反弹时,成交量显著增加。(4)第一次反弹高点和第二次反弹高点,用直线连起来就是一根阻碍股价上涨的颈线,但当第三次反弹时会在成交量配合下,将这根颈线冲破,使股价站在其上方。投资者见到头肩底这个图形,应该想到这是个底部回升的信号,此时不能再继续看空,而要及时做好进场抢筹的准备。一旦股价放量冲破颈线时就可考虑买进一些股票。这通常称为第一买点。如果股价冲破颈线

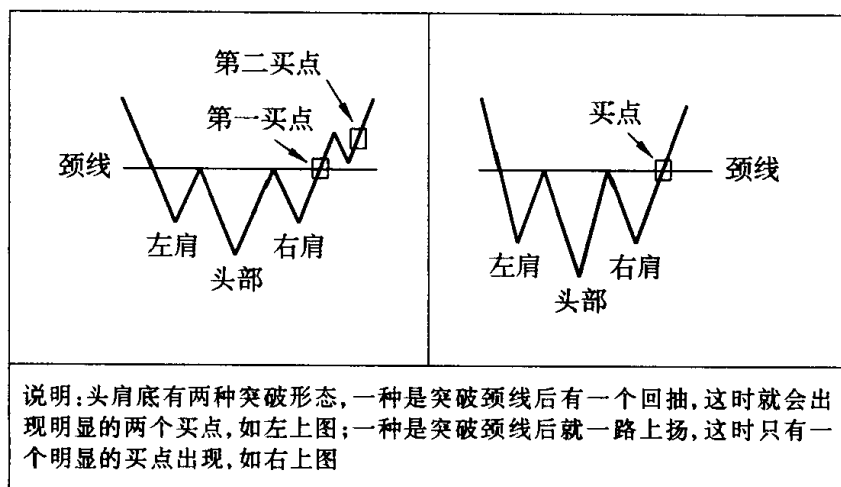


图 314

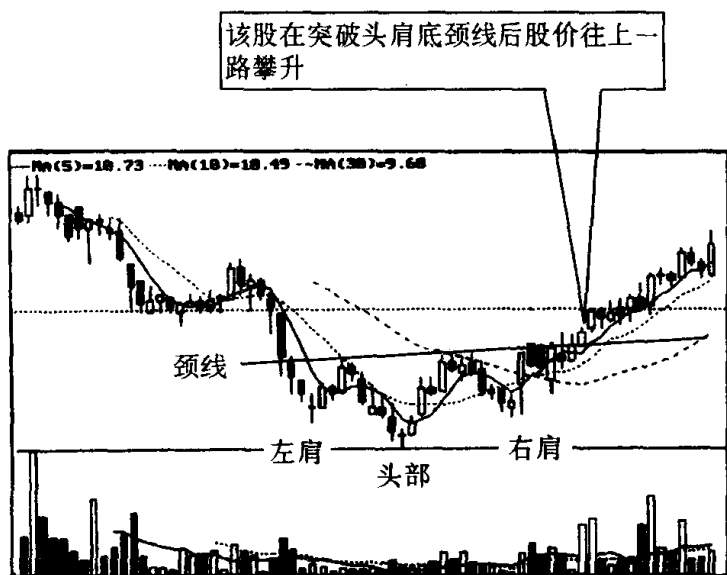


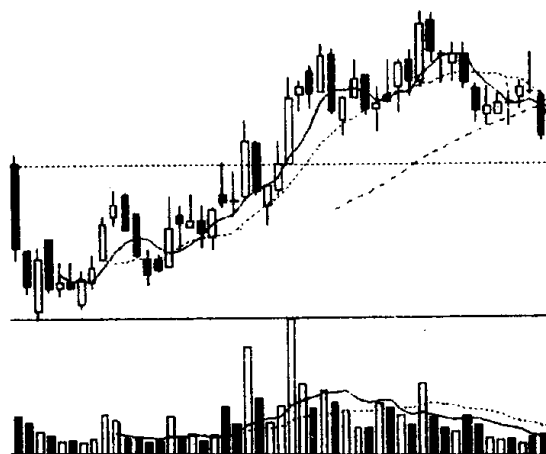
图 315

回抽^[注],并在颈线附近止跌回升再度上扬时可加码买进,这通常称为第二买点。值得注意的是,若是股价向上突破颈线时成交量并无显著增加,很可能是一个“假性突破”,这时投资者应逢高卖出,考虑暂时退出观望。

习题 85 图 316 中的个股今天收了一根中阴线,但下跌时没有放量。一部分投资者认为该股形态已经变坏,下跌时不管有没有放量,日后走弱已成定局,一部分投资者认为该股下跌不放量,说明市场惜售,形势并没变坏。现在请你从技术图形走势上作一番分析,说说哪一方意见正确?投资者见此图形应如何操作,并注意些什么问题?

参考答案 说该股形态变坏的投资者意见是正确的。该股目前的技术图形是个“头肩顶”(见图 317)。头肩顶的特征是:在上升

[注] 并不是所有的股票在冲破头肩底颈线后都会发生回抽,有的冲破颈线后就一路向上攀升(见图 315)。故一些投资专家主张在第一次放量冲破颈线时就买进一些股票,这样虽然不如回抽后再放量上攻买进时来得保险,但机会相对大一些,这也可以说是一种高风险、高收益吧。



(该股往后走势见图 318)

图 316

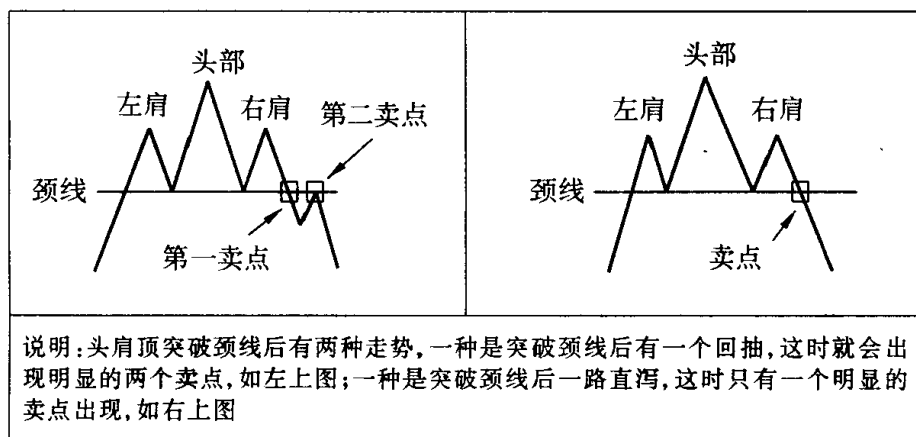


图 317

途中出现了 3 个峰顶，这 3 个峰顶分别称为左肩、头部和右肩。从图形上看左肩、右肩的最高点基本相同，而头部最高点比左肩、右肩最高点要高。另外股价在上冲失败向下回落时形成的两个低点又基本上处在同一水平线上。这同一水平线，就是通常说的颈线，当股价第三次上冲失败回落时，这根颈线就会被击破。于是头肩顶正式宣告成立。在头肩顶形成过程中，左肩的成交量最大，头部的成交量略小些，右肩的成交量最小。成交量呈递减现象，说明股价上升时追涨力量越来越弱，股价有涨到头的意味。因此头肩顶

是一种见顶信号，一旦头肩顶正式形成，股价下跌几乎成定局。现在我们回过头来看图 316 的走势，就可以发现它目前的状况完全符合头肩顶的特征。今天的一根中阴线使人看到多方赖以生存的颈线已被击破，股价收于颈线下方（见图 318），头肩顶已基本成立^{〔注〕}。既然行情走到这个地步，投资者应该认识到大势已趋，停损离场是目前的最佳选择，头肩顶是杀伤力很强的一种技术走势。为了避免头肩顶对投资者造成的重大伤害，投资者在实战中操作时要密切注意以下几个问题：（1）当某一股价形成头肩顶雏形时，就要引起高度警惕，这时股价虽然还没有跌破颈线，但可先卖出手中的一些筹码，将仓位减轻，日后一旦发觉股价跌破颈线，就将手中剩余的股票全部卖出，退出观望。（2）上涨时要放量，下跌时量可放大，也可缩小，对头肩顶这种形态来说，先是用很小的量击破颈线，然后再放量下跌，甚至仍旧维持较小的量往下滑落也是常有的事。因此像图 316 中今天收中阴线没有放量，并不能说明股价不

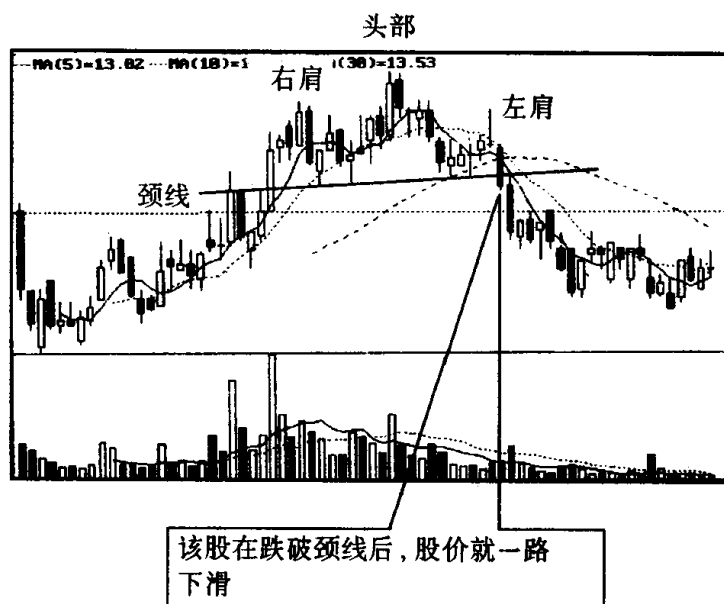


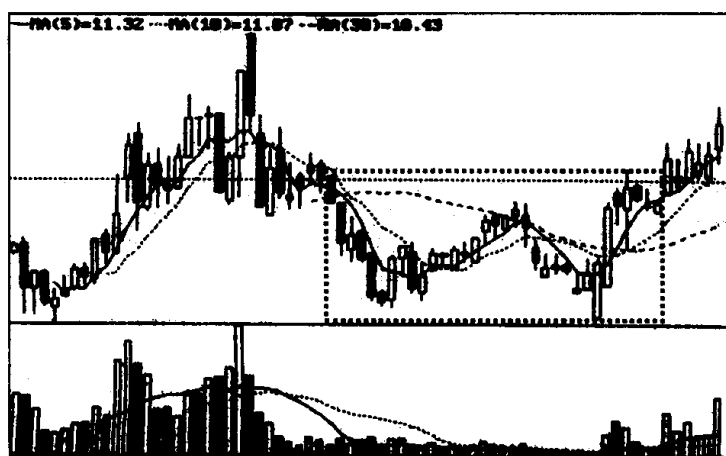
图 318

〔注〕 一般认为，股价击破颈线 3 天后不能收于颈线上方，头肩顶才算真正成立。不过看到头肩顶真正成立，那时可能股价已跌了很多，此时，才停损离场，损失就大得多了。

会继续下跌。投资者对此一定要有清醒的认识。(3)头肩顶对多方杀伤力度大小,与其形成时间长短成正比。因此,投资者不能光关心日 K 线图,对周 K 线图、月 K 线图出现的头肩顶更要高度重视。如果周 K 线图、月 K 线图形成头肩顶走势,说明该股中长期走势已经转弱,股价将会出现一个较长时间的跌势。

第四节 双底与双顶的识别和运用

习题 86 下图是沪市某股的周 K 线图的一个片断。请问该股画框处是什么技术图形?它有何特征?投资者见此图形应如何操作?



(该股往后走势见图 321)

图 319

参考答案 图中画框处是“双底”,因它形状像英文字母 W,故又称 W 底(见图 320)。双底多数发生在股价波段跌势的末期,很少出现在下跌行情的中途。其特征是:(1)在它形成第一个底部后的反弹,幅度一般在 10% 左右。(2)在第二个底部形成时,成交量经常较少且市况沉闷,因此很容易出现圆形的形态,而上破颈线之时成交量必须迅速放大。(3)突破之后常常有回抽,

在颈线附近自然止跌回升，从而确认往上突破有效。(4)第二个底点一般比第一个底点高，但也有可能比第一个低点更低，因为对主力而言，探底必须要彻底，必须要跌到令多头害怕，不敢持股，这样才能达到低位建仓的目的。(5)第一个低点与第二个低点之间，时间跨度应不少于一个月。如果时间太短形成的双底，其触底回升的信号就不太可靠，反弹上去了要随时注意它什么时候回落，因为主力常用这种手法来诱骗投资者。对此大家要引起警觉。(6)在双底形成时，KD线、RSI^[注]等与大盘常出现底背驰状况。双底是个底部转势信号，但它转势信号的可靠程度比头肩底差，因为双底形态只经历了两次探底，对盘面的清理不如头肩底那样来得彻底干净，这也就是有很多双底冲破颈线后又重新探底的一个重要原因。因此，双底形成突破颈线处，从理论上来说是一个买入点(通常称第一买点)，但实际上投资者还是要冒比较大的风险，一旦双底上冲失败，在这个点位买进者就会套牢。因此，在突破颈线处买进的投资者要随时作好停损离场的准备。当然话得说回来，也不是说在突破颈线的地方，就不能买进股票，因为毕竟这个点位还是一个买入信号，从趋势上来说，继续上涨要大于重新下跌(有人估计其比例为6:4)，可见机会还是存在的。对于双底，比较安全而又稳健的做法是，可在股价突破颈线回抽试探颈线支撑有效，再次放量上攻时买进(这个点位通常称为第二买点)，这样赢利的把握性就更大些(见图321)。从统计数字来说，绝大多数双底走势都会有一个回抽过程，因此一般不必担心股价冲破颈线后一路不回头而使资金踏空。即使在操盘万中万一真的遇到股价冲破颈线后一路飚升的情况，那也不要紧。可在股价上升趋势明显后适量加入，因为股价涨势一旦形成就不会轻易改变，这个时候买进胜率还是比较大的。或者干脆移情别处，另觅良机，要知道股市里的钱是永远赚不完的。

〔注〕 有关KD、RSI等技术指标的识别与运用方法，本书以后几册再作详细介绍，这里就不展开了。

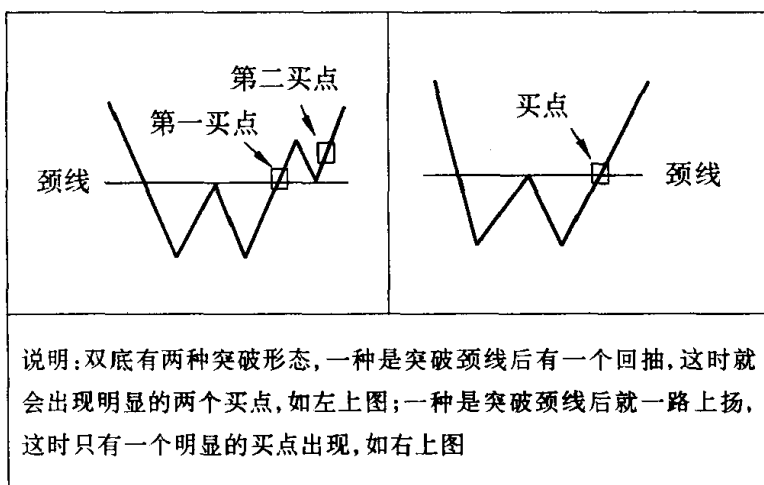


图 320

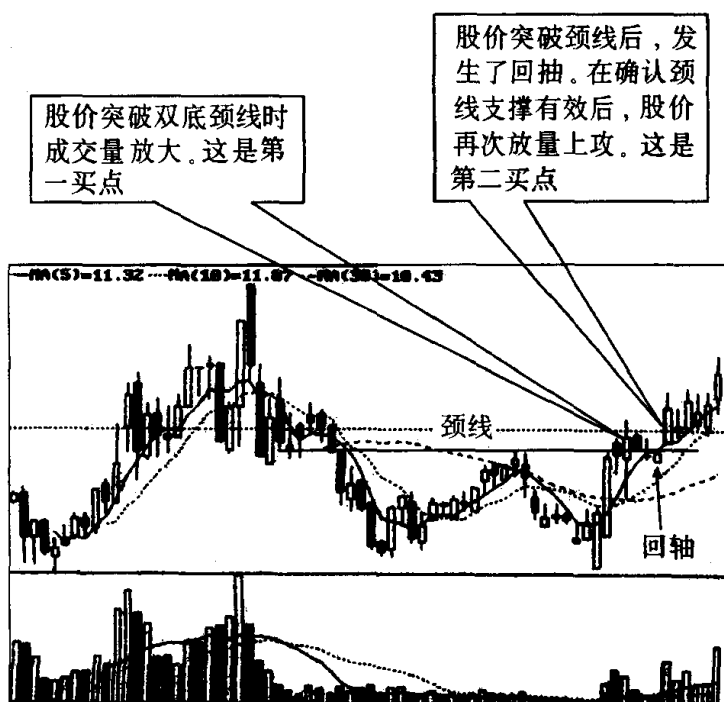
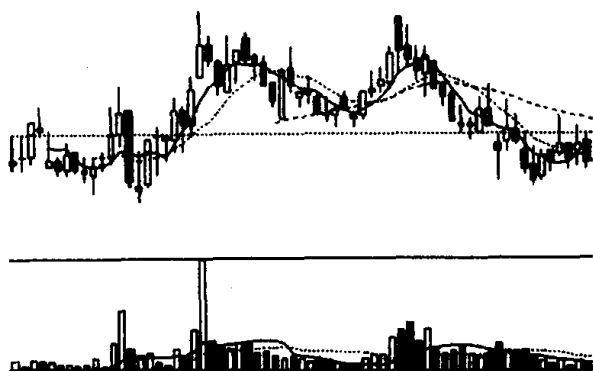


图 321

习题 87 下图是什么技术图形？一般而言出现这个图形后，后市会朝什么方向发展？投资者见到它应如何操作？



(该股往后走势见图 324)

图 322

参考答案 上图是个较典型的“双顶”图形。因为它很像英文字母 M，所以又称之为 M 头(见图 323)。双顶的特征是：(1)股价有两个比较明显的山峰，而且两个峰顶的价位也大致相同^[注]。(2)股价第二次反弹上冲时的成交量比第一次上冲时的成交量要小。(3)股价在第二次碰顶回落时跌破了前次回落的低位。(4)双顶走势跌破颈线位后常有反抽，但反抽时成交量明显萎缩，受阻于颈线位，以确认向下突破有效。双顶是个顶部转势信号，一旦双顶形成，股价下跌就成了定局(见图 324)。因此作为一个头脑清醒的投资者在双顶形成之后，应果断清仓，卖出点可选择在破颈线的 A 点处，或反抽时受阻于颈线的 B 点处(见图 324)，在深沪股市中一些有经验的投资者，在双顶正式形成之前就采取了必要的减仓措施，保住了赢利，取得了很好效果，这是值得我们广大投资者学习的。他们的具体做法是：(1)假如第一个顶点出现后股价的跌幅较深(第一个顶点与下跌后的最低点相差达 8% 以上)，其后股价再度上升到第一个顶点附近时，而当时的成交量与前期相比显著减少。这就要怀疑它有可能构成双顶，此时应卖出一些股票，而不要等到双顶形成后才做空。(2)假如第一个顶点出现后，股价跌到一个相当幅度时，我们突然发现第一个顶点的图形，似乎有构成圆顶的迹

[注] 如果第二个峰顶的价位超过第一个峰顶 3% 以上，则双顶就难以成立。

象,但这个圆顶尚未完成向下突破,而在这个圆形形态中成交量却呈现着不规则的变动,其后股价再度上升到第一个顶点附近时,我们也可暂时怀疑它将构成双顶的形态,而考虑将股票卖出。(3)如果股价形态同时符合(1)、(2)中提出的条件时,则双顶的构成将更可能,应采取断然的卖出措施。

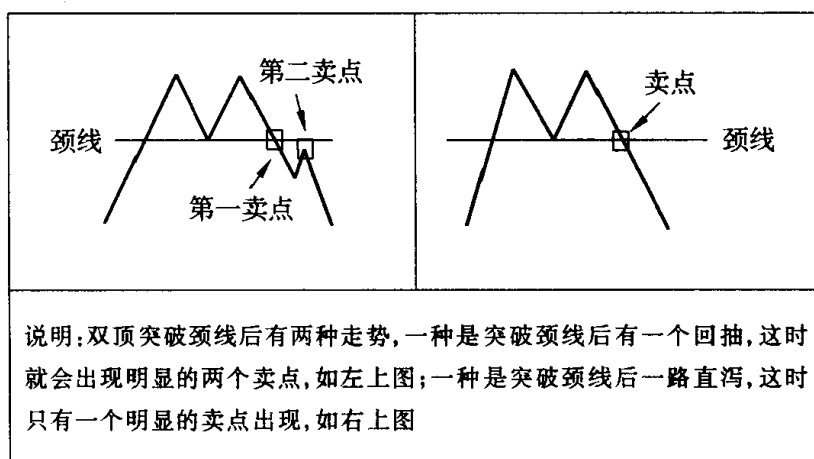


图 323

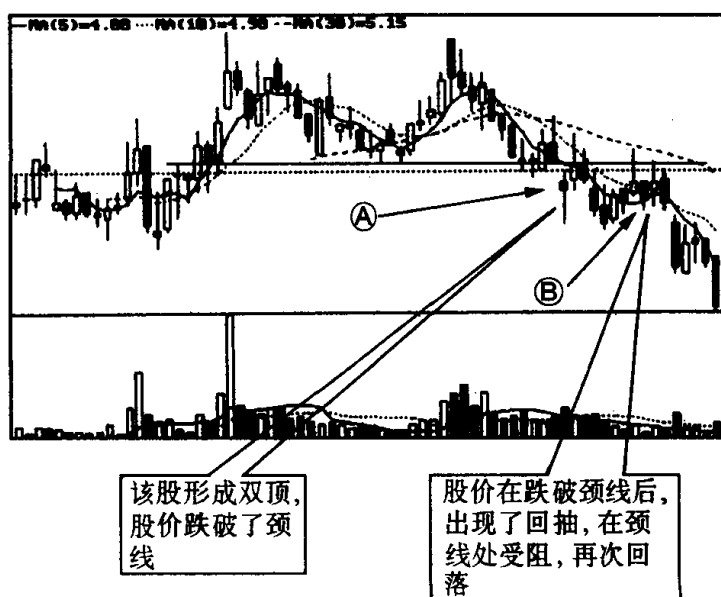
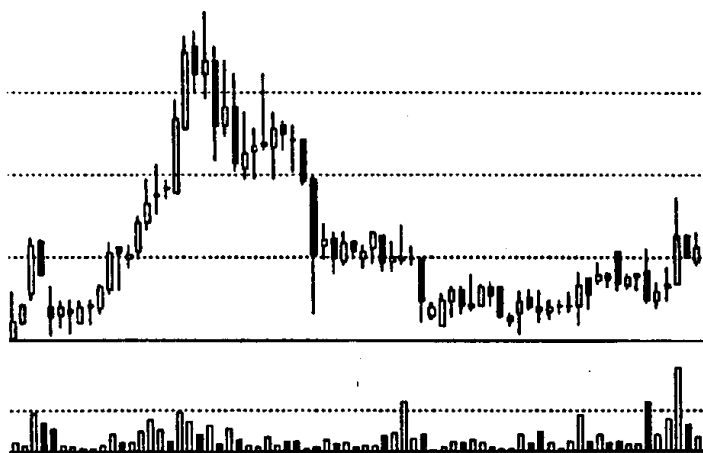


图 324

第五节 圆底与圆顶的识别和运用

习题 88 下图是沪市某股的周 K 线图的一个片断。请问现在该股走势图上是什么技术图形？它有何特征？投资者面对此图形应如何操作？



(该股往后走势见图 327)

图 325

参考答案 这是一个“圆底”，又称之为浅蝶形(见图 326)。圆底的特征是：股价先是在成交量逐渐减少的情况下，下跌速度越来越缓慢，直到成交量出现极度萎缩，股价才停止下跌，然后，在多方主力有计划的推动下，成交量温和放大，股价由缓慢上升逐渐转变为加速上升，从而形成股价走势的圆弧形形态^[注]。与此同时，成交量也常常呈圆弧形形态，历来的股市操盘高手对圆底都很重视，因为圆底形态的形成时间相当漫长，使得底部换手极为充分，所以，一旦圆底向上突破，常会出现一轮可观的上涨行情。但是作为一个聪明的投资者，要抓住圆底，预期得到很好的投资回报，入市时机的

[注] 很多人认为只有在底部呈一个非常明显的圆弧形才能称为圆底。这种看法是不全面的。事实上在股市中完全标准的圆底并不多见，而见到的大多数是不太标准的圆底。

选择就显得十分重要。如果过早入市,常常会陷入漫长的筑底行情中,这时股价不涨而略有下挫,几个星期甚至几个月都看不到希望。很多投资者就是因为经不起长时间折磨,在股价向上发动前,将股票一抛了之,从而与即将到来的上升行情擦肩而过,这是十分可惜的。此外,投资者在买入股票之前还必须观察成交量的变化,如果看到成交量和股价都成一个圆弧形状态,可在成交量放大,股价往上冲的时候大胆加入(见图 327),而在成交量萎缩的情况下,无论股价如何变动,都不要轻易参与,之所以这样操作是因为历来的圆底构筑完毕后,股价往上冲的时候都必须有成交量配合,否则股价冲上去也是白搭。



图 326

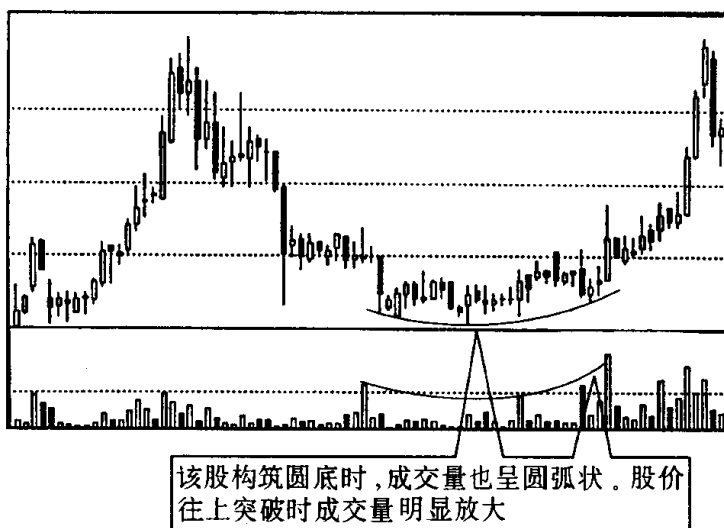
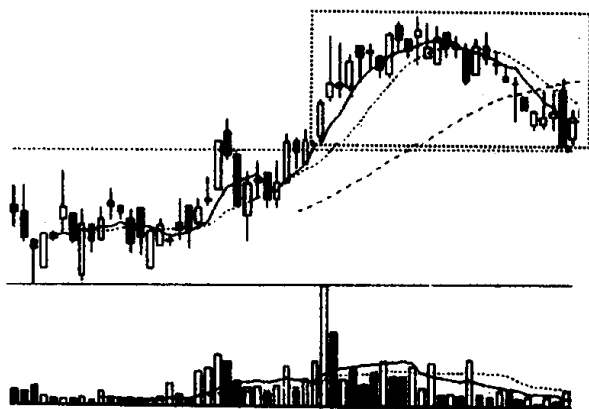


图 327

习题 89 下图中方框内的图形是什么技术图形? 它有何特征? 投资者见此技术图形应该如何操作?



(该股往后走势见图 330)

图 328

参考答案 图中方框内的技术图形是“圆顶”。圆顶的特征是：股价经过一段时间上涨后，虽然升势仍然维持，但上升势头已经放慢，直至处于停滞状态，后来在人们不知不觉中，股价又呈缓慢的下滑态势，当人们发现股价下跌势头形成时，头部就出现一个明显的圆弧状，这就是股市技术分析上说的圆顶（见图 329）。圆顶形成时，成交量也可呈圆顶状，但多数情况下，圆顶的成交量无显著的特征。圆顶是个顶部转势信号，它形成的时间越长，下跌力度就越大。持股者如在圆顶形成时不卖出股票，将会受到深度套牢之苦（见图 330）。圆顶无明显的颈线位（个别例外），因此卖出点可选择在下跌速度开始加快，或圆顶形状已初步构成时。一般来说，当投资者发现某股股价先是放大量快速上扬，之后，向上涨的速度越来越缓慢，此时就应密切关注其走势的发展，想到是否会形成圆顶，并逐渐减少手中的一些仓位，当股价出现下跌，且下跌速度越来越快，形成圆顶后，则千万不能再犹豫不决，要果断停损退出，另觅投资良机。



图 329

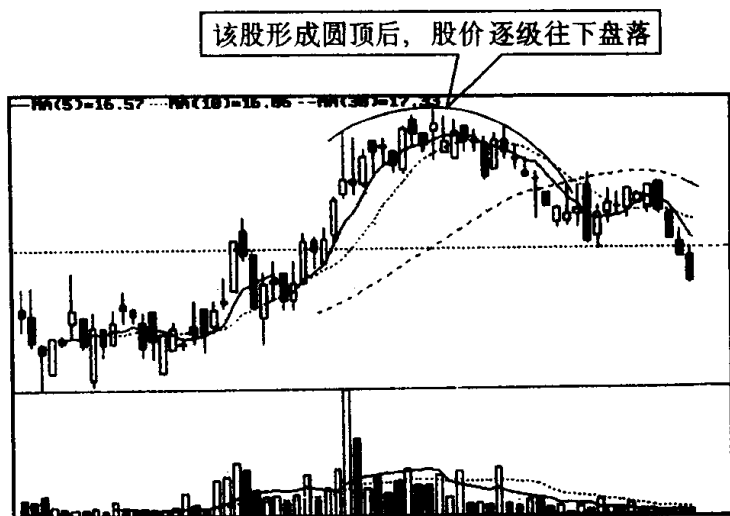
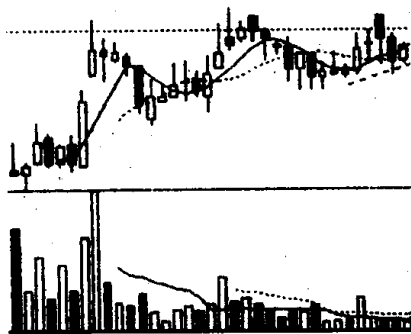


图 330

第六节 上升三角形与下降三角形的识别和运用

习题 90 该股在上升时出现了图中的这种形态。请问这种形态是什么技术图形？有何特征？请将该技术图形的上边线和下边线画出来，并说明投资者见此图形应如何操作？



(该股往后走势见图 333)

图 331

参考答案 图中的技术图形叫“上升三角形”，它的上边线和下边线的画法见图 333。上升三角形的特征是：股价每次上升时，到了一定价位就遭到抛压，迫使股价下行，但由于市场看好该股，逢低吸纳该股的人很多，因此，股价没有跌到上次的低点就开始弹升，致使下探低点越来越高。如我们将每一次短期波动的高点用直线连起来，再将每一次短期波动的低点也用直线连起来，就构成了一个向上倾斜的直角三角形（见图 332）。这就是上升三角形。通常上升三角形在形成过程中成交量会不断减少。上升阶段成交量较大，而下跌时成交量较小。上升三角形是多空双方实力较量的结果，它反映出多方力量在这场争斗中略占上风。因此，如不出意外，上升三角形到最后都会选择向上突破（见图 333）。但是必须指出的是，上升三角形向上突破时，一般都配有较大的成交量，无量往上突破可能是假突破，投资者不可贸然加入。另外，要注意的是，上升三角形越早往上突破，则后劲越足，那些迟迟不能突破的上升三角形，很可能是庄家悄悄出货而故意为中小散户设置的多头陷阱。如果一旦庄家达到目的，在他们出货完毕后，上升三角形非但不会往上突破，而极有可能演化成双顶形态，股价下跌就不可避免，投资者对此务必要提高警惕。那么说到这里投资者见到这种技术图形，究竟应该如何操作呢？我们认为投资者首先要想到，在一般情况下，上升三角形往上突破的可能性很大。因此持筹的可捂股不动，等待三角形突破时再作定夺。持币的要密切关注它的突破方向，暂不要动作，一旦发现上升三角形放量往上突破，可即刻跟进做多，如发觉上升三角形往上突破是一种无量上涨，则不要跟进，继续持币观望。其次要考虑上升三角形不往上突破，就会演化成双顶形态，最后会寻求往下突破，尽管这种情况在上升三角形最后突破方向中占的比例很小，但也不得不防，尤其是对股价有了很大涨幅之后出现的上升三角形，或是对迟迟不寻找突破方向的上升三角形，更要加以防范。投资者如遇此情况，发觉上升三角形往下突破时，应及时反手做空，持筹的要马上抛股离场，持币的要紧紧捂住钱袋，坚决不加入。

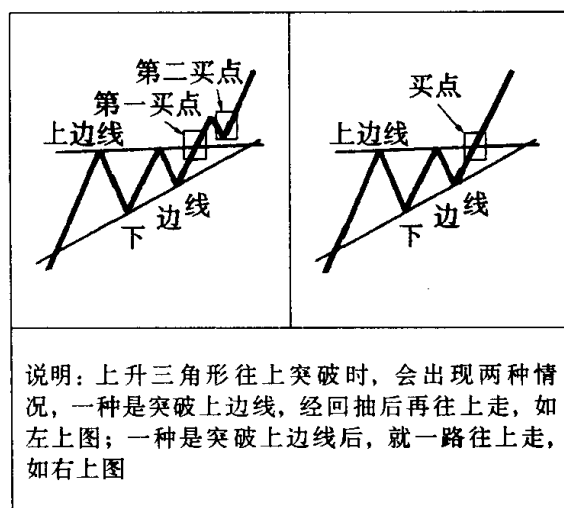


图 332

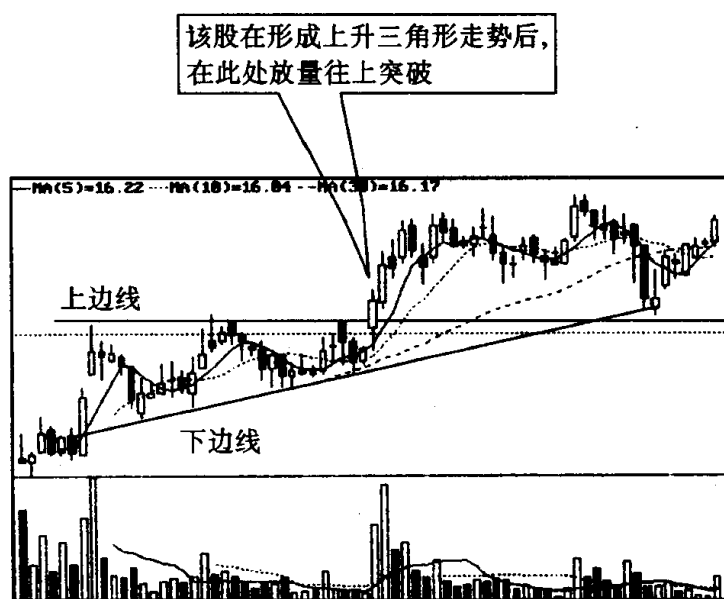
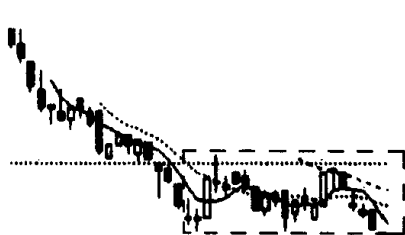


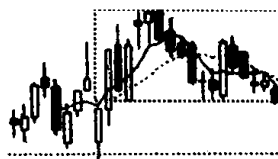
图 333

习题 91 请将图中画框处的高点与高点用直线连起来，再将它的低点与低点用直线连起来，看看它是什么图形，并就这个图形谈谈它有何特征？它与底部三角形有什么区别？投资者见此图形应如何操作？



(该股往后走势见图 337)

图 334



(该股往后走势见图 338)

图 335

参考答案 如果我们将图 334、图 335 中画框内的高点与高点、低点与低点分别用直线连起来(见图 337、图 338), 这就成了一个典型的“下降三角形”。下降三角形(见图 336), 多数出现在跌势中, 它主要特征是高点逐渐下移, 但每次下探低点都几乎处在同一水平位置上, 反弹时成交量不能放大, 下跌时却比弹升时成交量要大。下降三角形中出现的这种量价背离状况, 往往是跌势未尽的表现。下降三角形是下跌趋势中的一个整理形态, 最后结果是往下突破居多。所以作为股市中人对这种图形仍然要保持一份警觉,

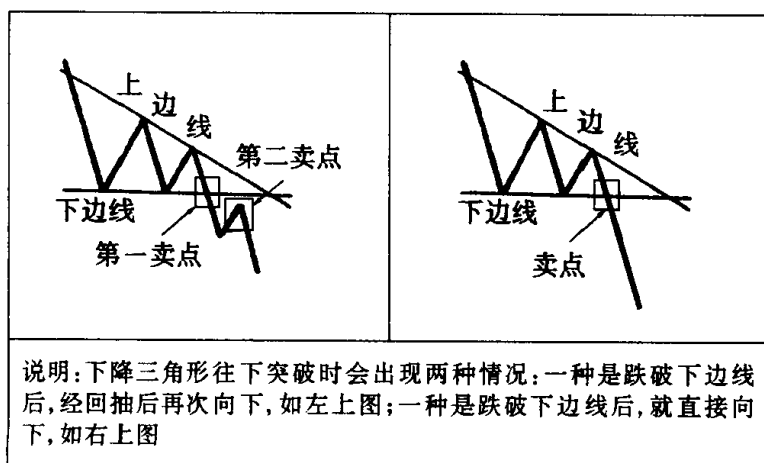


图 336

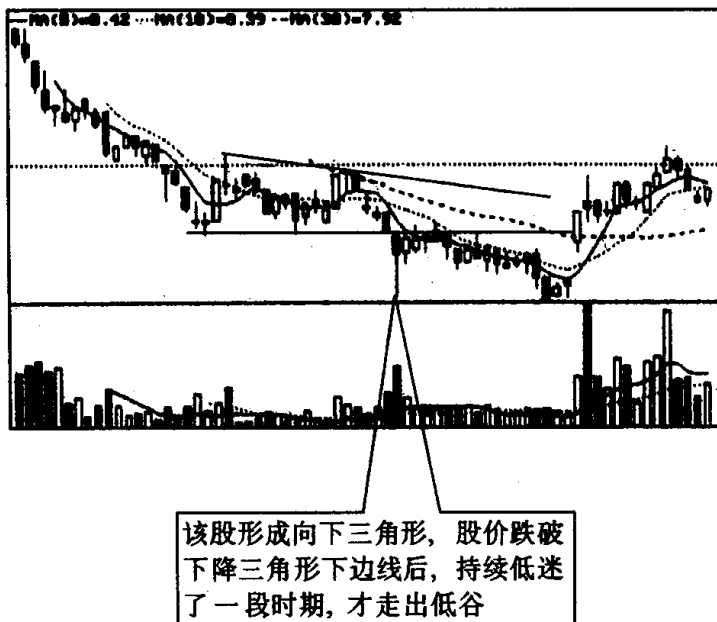


图 337

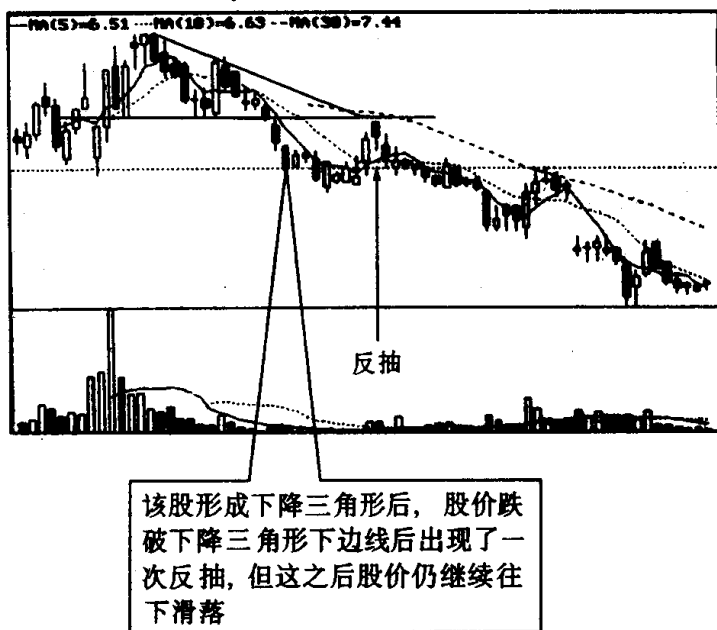


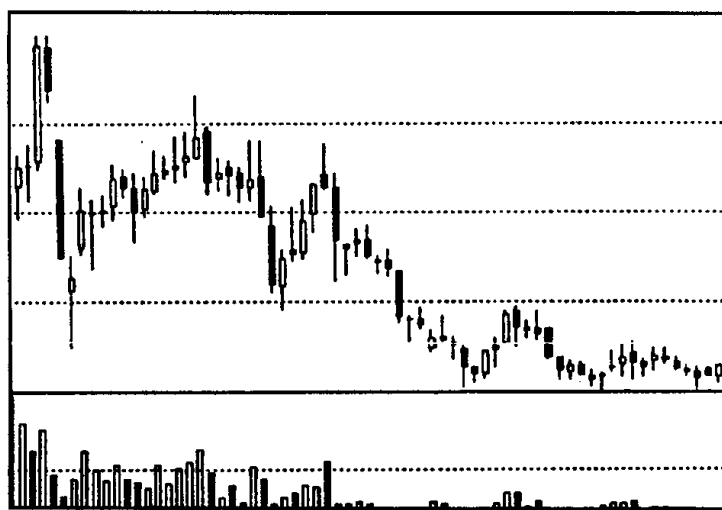
图 338

千万不要把它当作底部三角形看待。底部三角形与它的区别主要表现在价量关系上。底部三角形出现时,成交量持续萎缩,说明股价已跌无可跌;下降三角形量价关系背离,说明仍有下跌空间。底部三角形在突破前夕,成交量出现极度萎缩,下降三角形在突破前夕,成交量通常不出现极度萎缩。底部三角形往上突破时,成交量急剧放大,下降三角形往下突破时,成交量无明显特征。此外,底部三角形出现在较大跌势之后,而下降三角形一般出现在下跌途中,甚至少数还可出现在涨势中。底部三角形形成的时间较长,而下降三角形形成的时间相对要短一些。当然下降三角形和底部三角形根本的区别还在突破方向上,有人认为凡是向上突破的就是底部三角形,而向下突破的就是下降三角形。这样的话,虽然抹煞了底部三角形和下降三角形在其他方面的一些区别,有失偏颇,但也说明判断一个图形是什么,突破方向是第一位的。所以对投资者而言,当这种向下倾斜的直角三角形出现时,除了要考虑它的量价关系和形成时间的长短外,最重要还是要看它的突破方向,如果股价在三角形整理后放量突破上边线,并能站稳时即可考虑买进,如果股价突破下边线,尤其是放量下挫时,则要及时沽空。

第七节 底部三角形、扩散三角形与收敛三角形的识别和运用

习题 92 图 339 是深市某股周 K 线的一个片断。现在该股走到这个地步有可能构成什么技术图形? 它的特征是什么? 投资者面对这个技术图形应如何操作?

参考答案 该股走到这个地步很有可能构成一个“底部三角形”。底部三角形是个转势图形(见图 340), 它的特征是:(1)股价在经历大幅下跌之后 3 次探底, 几乎都在同一低点获得支撑, 形成三角形的下边。(2)股价每次反弹的高点逐渐下移, 反弹力度越来越



(该股往后走势见图 341)

图 339

越弱,形成三角形的上边。(3)整个形态形成过程成交量逐步萎缩,到三角形的尖端附近时缩至最小。(4)当向上突破时成交量开始放大。目前图 339 走势已满足了底部三角形的前 3 个条件。第四个条件因股价还没有作出向上或向下突破的选择,因此现在不好下结论。一般来说,只要满足前 3 个条件,向上突破的可能性很大,向上突破和向下突破的概率大约为 4 比 1。因此,面对图 339 的走势,投资者现在不应再盲目看空,尤其不能在这个时候卖出股票,相反要随时作好入市的准备(先不要马上买进,以防万一往下突破)。如果日后发现股价向上突破,成交量随之放大,就应该想到底部三角形正式成立,得赶快先买一些股票。当股价向上突破后经回抽再创新高时,就更应该追涨买进(见图 341)。为什么底部三角形向上突破的可能性极大呢?这是因为股价经过连续几次大幅下挫,反弹力度越来越弱,绝大多数投资者对该股的前景已失去信心,想跑的基本上跑光了,剩下的已是“死猪不怕开水烫”,铁了心的“死多头”。此时做空的能量得到了充分释放,市场上如果有新多力量加入,空方就无力打压,就

很容易引起股价的上扬。所以“底部三角形”的出现为投资者提供了一个“抄底”的良机,而这种技术图形经常发生在深沪股市的一些冷门股上,很多大黑马就是这样产生的。故我们对此要引起高度重视。

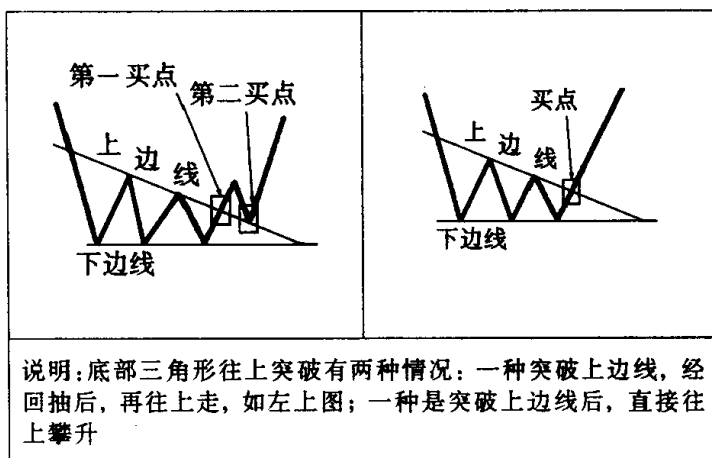
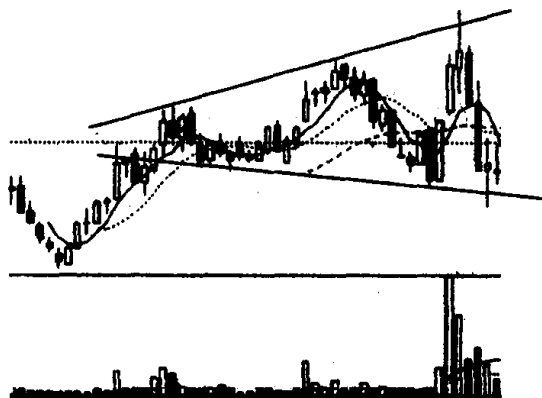


图 340



图 341

习题 93 图中画线处是什么技术图形?请说出它的名称、特征,并说明投资者见此图形应如何操作?



(该股往后走势见图 344)

图 342

参考答案 图中画线处是“扩散三角形”。扩散三角形的特征是：出现在涨势中，上升的高点越来越高，而下跌的低点越来越低，如将两个高点连成直线，再将两个低点连成直线，即可画出图 343 中的喇叭状，这就是扩散三角形。扩散三角形经常出现在投机性很强的个股上，当股价上升时，投资者受到市场中炽热的投机气氛或谣言的感染，疯狂地追涨，成交量急剧放大；而下跌时，则盲目地杀跌，正是由于这样的原因，造成了股价的大起大落。扩散三角形是大跌的先兆。当市场参与者变得毫无理智时，其中蕴含的风险也就不言而喻，而扩散三角形正是人们过度投机心理在图表上的反映，它暗示升势已经穷尽，下跌一触即发。投资者面对扩散三角形只有两个字：退出。因为参与扩散三角形的炒作，赢利机会很小，风险却很大。一旦股价往下击破扩散三角形的下边线，即可马上引发一轮跌势，逃之不及的人，就可能深度套牢。因此，普通投资者尽量不要参与扩散三角形中的买卖活动，持筹的也要进行减磅操作，如一旦发现扩散三角形往下突破，应及时把股票全部卖出，停损离场。这里需要说明的是在大多数情况下扩散三角形是以下跌告终，但也有少数扩散三角形可能出现变异，尤其是当上边线不是向上倾斜而是水平发展的时候，这时股价可能向上突破，展开一轮升势。对此投资者会想到，如果我把筹码抛掉了，不是吃亏

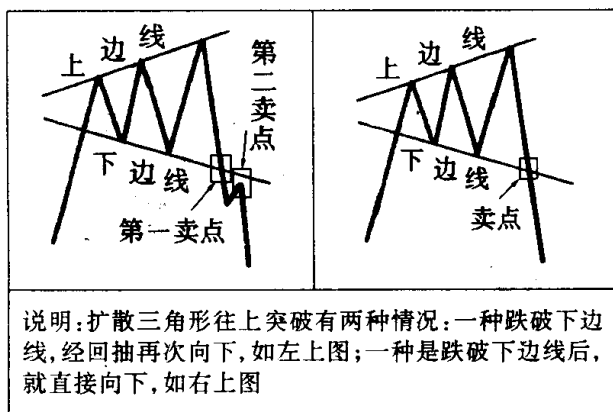


图 343

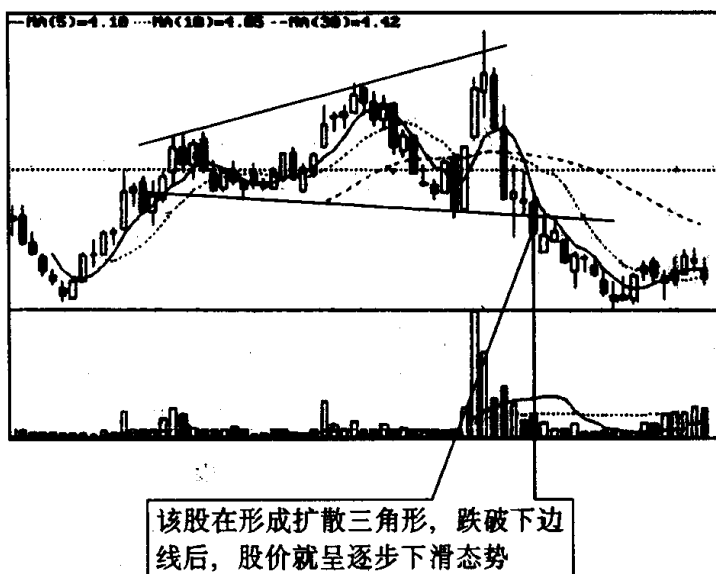
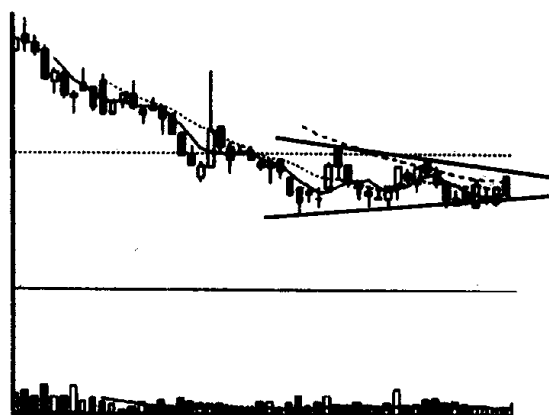


图 344

了吗？其实这种担心是多余的。一来扩散三角形向下突破居多，你在扩散三角形要形成时卖出股票，总是对的时候多，错的时候少；二来扩散三角形即使要向上突破，事先也会露出蛛丝马迹。通常，在形态内的第三次下跌时，成交量会出现迅速萎缩，这说明市场情绪正在发生变化，人们的持股信心已趋稳定，这与扩散三角形最后阶段成交量急剧放大正好相反。随后股价会在上边线稍作停留，或者进行一次小幅回档，下跌明显无力。在经过这些确认后，

扩散三角形才有可能发生变异,往上突破。真到那个时候,再把它买进来也为时不晚。可见,投资者完全有充足时间,观察扩散三角形是否出现变异,如情况确实有变,可及时更改投资策略,把做空改成做多。这种操作方法应时而变,与我们在一般情况下把扩散三角形看成股价下跌的先兆并不矛盾。这点投资者一定要区别清楚,不要发生误解。

习题 94 图中画线处是什么技术图形? 目前该图形已走到什么地步? 投资者见此图形如何操作?



(该股往后走势见图 347)

图 345

参考答案 图中画线处是“收敛三角形”。其特征是:股价在某一阶段出现了徘徊争执的局面,每一次上升的高点都比上次低,而每一次下跌的低点却比上次高,于是股价波幅越来越小,成收敛状,而成交量在这期间呈现出减少的趋势。收敛三角形是个整理形态,整理结果向上突破或向下突破均可。不过在下跌趋势中出现,它最终选择往下的可能性略大些;在上涨趋势中出现,它最终选择往上的可能性略大些。收敛三角形向上突破的时间往往选择在收敛三角形的中下端,而收敛三角形向下突破的时间往往选择在三角形顶端附近(见图 346)。一般来说,收敛三角形无论向上或向下突破都会有成交量放出。当我们明白了三角形的特征和技术意义后,再回过头来看看图 345 的走势就可发现,现在这个收敛三

角形发生在下跌行情中,收敛三角形已经走到了尽头,即到了收敛三角形顶端处,股价在这两天就要选择突破方向。从目前它的态势来看,我们可以推测它向下突破的可能性居多(见图 347)。因此,持筹的投资者应预先卖出一些筹码,进行减磅操作^[注]。一旦发现往下突破,应立即抛空离场。而持币的投资者应继续捂币,静观其变。

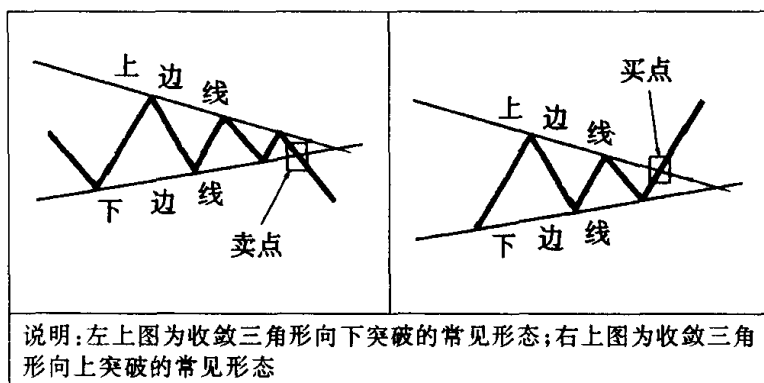


图 346

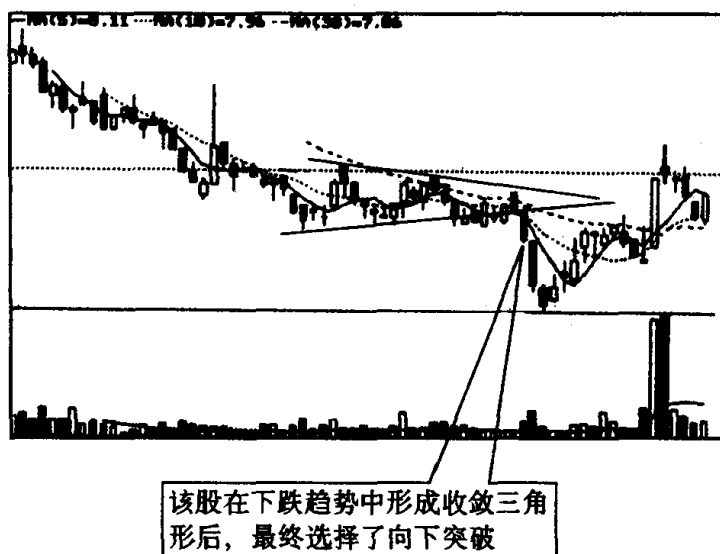
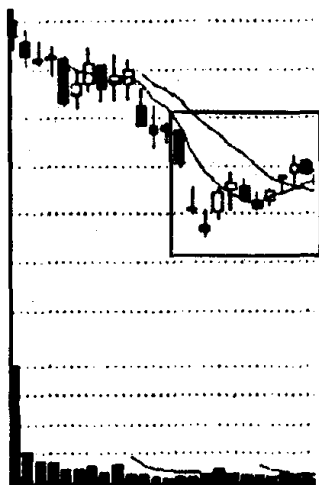


图 347

[注] 收敛三角形操作的规则是:股价必须往一个方向明显地突破之后,才可以采取相应的买卖行动。本案例发觉收敛三角形往下突破可能性较大,先作些减磅操作,以防万一。这和收敛三角形的操作规则并不矛盾。

第八节 上升楔形与下降楔形的识别和运用

习题 95 图中画框处是什么技术图形？它有何特征？这种图形出现后，后市一般朝什么方向发展？



(该股往后走势见图 350)

图 348

参考答案 图中画框处叫“上升楔形”。上升楔形的特征是：股价经过一段时间大幅下跌之后，出现强烈的技术性反弹，当股价弹升到某个高点时，就掉头回落。不过这种回落较为轻微而缓和，因而股价在未跌到上次低点之前已得到支撑而上升，并且越过上次高点，形成一浪高于一浪的趋势。第二次的上升止于另一高点之后，股价再度回落。我们把两个高点和两个低点分别用直线连起来，就形成了一个上倾的楔形，这就是上升楔形（见图 349）。在整个上升楔形的形成过程中，成交量不断减少，整体上呈现价升量减的反弹特征。上升楔形整理到最后，以向下突破居多（见图 350）。因此，从本质上来说，上升楔形只是股价下跌过程中的一次反弹波，是多方在遭到空方连续打击后的一次无力挣扎而已。那

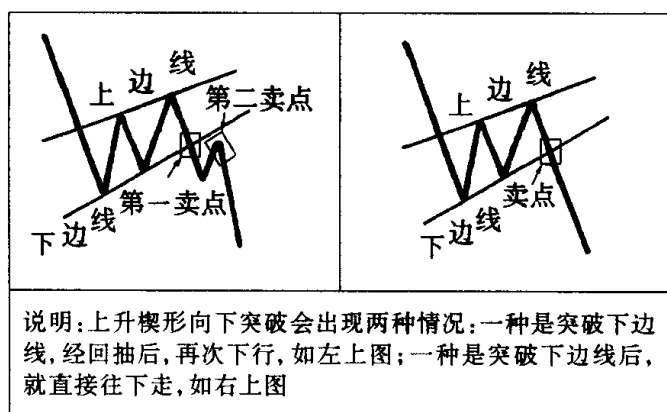


图 349

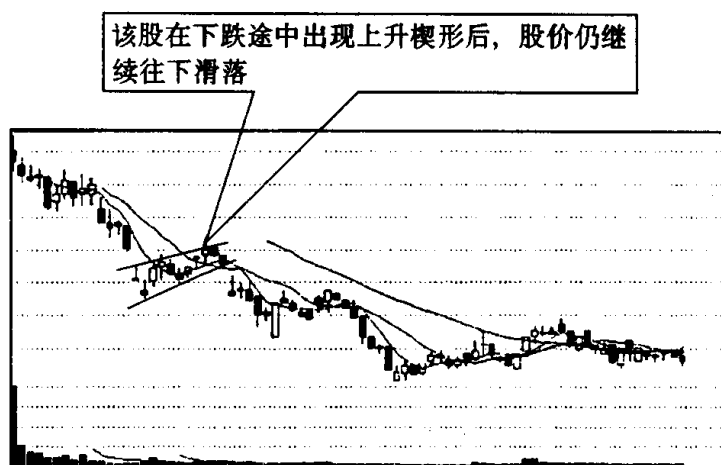
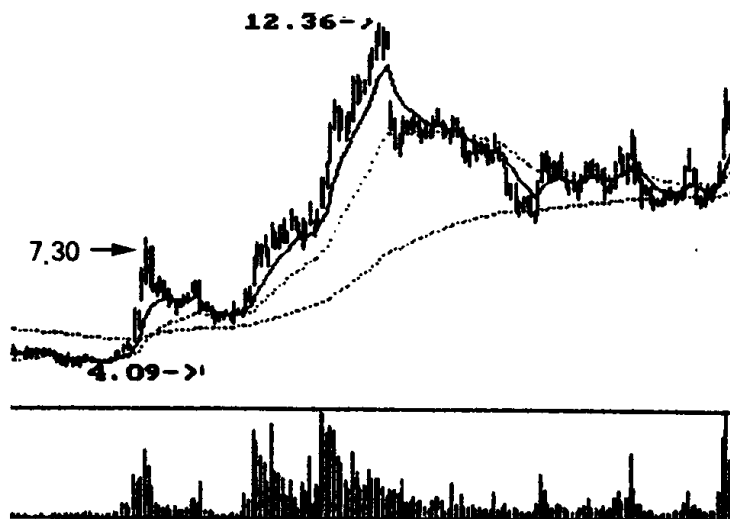


图 350

么投资者见到上升楔形后究竟应如何操作呢？作为股市中人应该明白，上升楔形只是反弹，并不能改变股价下跌的趋势。因此，持筹的可趁反弹时卖出一些股票，进行减磅操作，而一旦发现股价跌穿上升楔形的下边线，这时就不要再存幻想了，应立即抛空离场，以避免股价继续下跌带来的更大风险。持币的要经得起市场考验，不为反弹所动，要相信自己的判断，持币观望，不买股票。说到这里，也许有人会问，上升楔形最后一定是往下突破，不会往上突

破吗？那倒不一定。不过在一般情况下，往上突破的可能性较小。即使是往上突破，也并非无端倪可寻，如楔形形态内成交量出现逐步放大迹象，向上突破时放出巨量，等等。投资者如果能密切注意上升楔形内的成交量变化，对上升楔形究竟会朝下突破，还是朝上突破，大致还是能分得清楚的。

习题 96 图中的个股从 1996 年 5 月初的 4.09 元涨起，在不到 3 个月的时间里股价就涨了 3 倍，成了市场中的一匹大黑马。但是很多在底部买进该股的投资者，在涨升初期就被庄家洗盘出局，使他们无缘骑上这匹黑马。现在请你从技术图形角度，分析一下这些投资者失误表现在什么地方，并说说投资者今后如再遇到这种情况应如何操作？



(该股往后走势见图 353)

图 351

参考答案 从图中的 K 线走势上看，该股从 4.09 元起步，急拉到 7 元上方就出现了震荡回落走势。这个震荡回落的走势从技术图形理论上分析，就是一个“下降楔形”图形。下降楔形的特征是：股价在经历了大幅上升之后，从高处回落，跌至某一低点后回升，但未能回升到上次的高位，甚至相距还比较远，便又再回落。第二次下跌跌破了上回的低点，但很快回升。我们把两个低点及

两个高点分别连起来,就形成了一个下倾的楔形(见图 352)。楔形内的成交量,由左向右递减,而且股价越接近尖端,则成交量越小,最后,当股价上升突破下降楔形的上边线时,成交量明显放大,则一轮新的升势又开始了(见图 353)。为什么有很多在底部买进该股的投资者,在上升震荡回落之中会被庄家淘汰出局呢?道理在于当一支平静无波的股票,突然平地一声惊雷,无端掀起一股巨浪,会使那些拿着这些股票的投资者心情异常激动,正当这些投资者期盼股价连连飚升为他们带来丰厚利润时,又是一个巨浪将刚刚飚升的股价劈头盖脑地打下来,把这些投资者打晕了。而且途中每一次反弹,都会遭到控盘主力的无情打压,以至盘中反弹高点越来越低,回落的低点也越来越深,这使得前期还心花怒放持有该股的投资者心情一下子冷到了极点,很多投资者受不了这样的打压,纷纷抛股离场。而当控盘主力通过打压达到洗盘目的后,就开始重新发力上攻,股价再次出现了加速上扬态势,可见,在上升途中出现的这种下降楔形,已成为庄家制造空头陷阱的一种手段。其目的不是为了把股价重新纳入下降轨道,而是通过震荡来洗去浮筹,为日后股价的上扬打下扎实的基础。当我们了解下降楔形的特征、技术含义和庄家利用下降楔形进行洗盘,夯实股价的目的后,日后碰到这种技术图形就用不着惊慌,就知道用什么方法来对付庄家了。如持筹的投资者,在庄家进行打压时,可按楔形的上边线和下边线进行高抛低吸。也就是说当股价接近下降楔形的上边线时就卖出,回落到下降楔形的下边线就买进。但这里要注意的是,当下降楔形走到后阶段时,就不能再这样做了,因为上下落差已很小。二是干脆捂股不动,任你庄家怎样震荡洗盘,我就是不出来。持币的投资者在下降楔形形态没有完成之前,股价上上下下波动时,要坚持持币观望。日后一旦发觉股价放量突破下降楔形的上边线,就可大胆买进。这样做既可避免过早买进陷入股价上上下下波动的旋涡把心情搞坏,又可避免万一下降楔形整理失败往下突破(这种可能性虽不大,但也不得不防),使过早买进的筹码套住。从实战情况统计,下降楔形往上突破与往下突破,两者之比大约为 7 比 3 左右。一般认为,下降楔形形

成过程中成交量不能萎缩,或形成的过程不能太长,如时间超过一个月(也有的认为超过三个星期),下降楔形整理失败的可能性就大一些,对此投资者要引起重视。

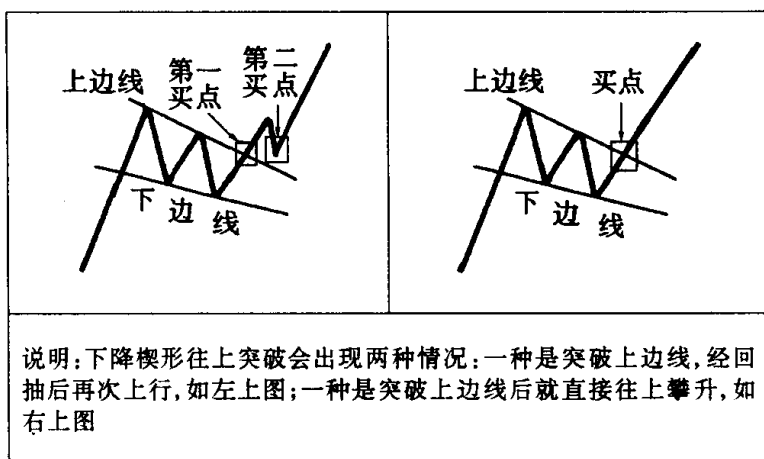


图 352

该股在上升途中形成下降楔形后,股价放量突破下降楔形的上边线,出现了一轮飙升行情

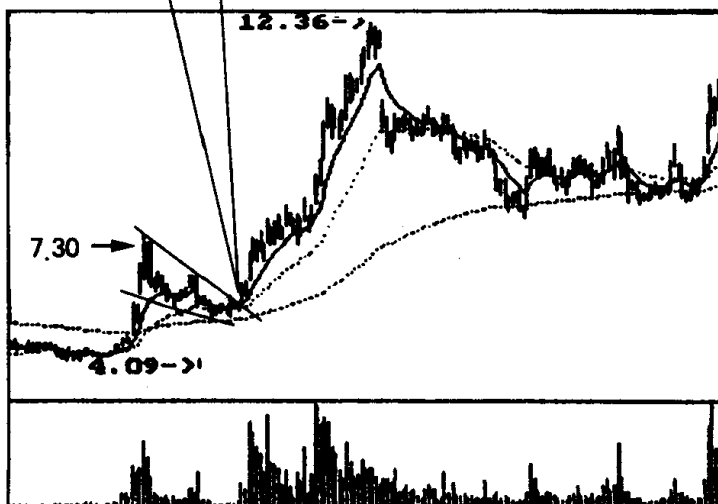
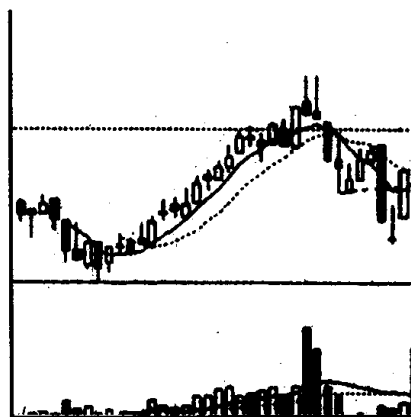


图 353

第九节 上升旗形与下降旗形的识别和运用

习题 97 图中个股上升后走出了一轮下跌的走势,这种走势对后市有何影响,你能从技术图形上作一番解释吗?并说说投资者见此图形应如何操作?



(该股往后走势见图 356)

图 354

参考答案 图中个股上升后走出一轮下跌行情,如果将其下

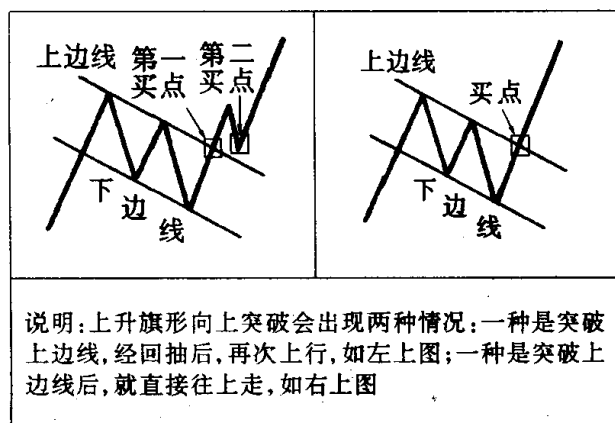


图 355

跌走势中反弹的高点用直线连起来,再将下跌走势中回落的低点也用直线连起来,就可发现其图形像一面挂在旗竿上迎风飘扬的旗子。这种走势很有可能形成一个“上升旗形”(见图 355)的走势。上升旗形的特征是:(1)当股价大幅上升至某一压力点,开始进行旗形整理时,其图形呈由左向右下方倾斜的平行四边形。(2)旗形整理的时间一般不能超过 15 天^[注]。(3)形态完成后股价将继续维持原来的趋势,也就是说一旦旗形整理结束,股价就要向上突破,继续往上攀升。目前该股的走势除突破方向还没有明确表示出来外,基本上符合上升旗形的技术特征,这也就是我们说它很有可能形成上升旗形,而不是现在就肯定它是上升旗形的原因。如果我们推断它是上升旗形是正确的话,这几天股价就要寻找突破方向(见图 356),而这种突破方向必然以向上突破居多(只有少数会向下突破,但这种失败形态性质已发生变化,不能再称为上升旗形了)。故投资者见到此图形千万不要被其股价重心不断下移而作出做空的错误抉择,要知道上升旗形是庄家为中小散户设置的一个空头陷阱。如此时盲目地看空,不弄清楚原因就卖出股票,割

【注】 上升旗形盘整时间究竟以多长时间适宜,现在有两种看法,以钱龙软件有限公司调研部副总经理邱一平为代表的港台技术派分析人士认为,“一般旗形的整理时间,大约在 5~10 天左右。整理周期过长的旗形,容易导致人气涣散,这种情况下,不仅其形态的力道会消失,读者们也不能再以旗形看待之”。以深沪股市实战派人士青木为代表的机构操盘手的看法是:“整个旗形形成的时间一般在 4 个星期以内,当一个整理旗形超过 3 个星期尚未突破之时,我们就应该提高警惕,尤其是如果成交量一直不能缩减的话,往往暗示市势发生了静变,该形态可能不是整理形态而是转势形态。这种情况在顶部常出现,初期温和的下跌常会被误以为仅仅是旗形整理而已,但后来价量关系转为恶劣,显示出许多人意识到市势不好而急于出货,同时敢于接货的人却不多,结果旗形形态不能成功,股价见顶回落”。上面这两方面人士分析都有理论根据,并都有实例可作证。他们的共同看法是:旗形整理时间不能太长,否则就会导致旗形整理的失败。不同看法是,一个认为旗形整理时间不宜超过 10 天,一个认为旗形整理时间不宜超过 3 个星期,即 15 天。综合两方面的意见,投资者在把握旗形整理时间时,可按以下方法待之:旗形整理 5~10 天,作为安全区域,投资者可大胆地按旗形规则操作。旗形整理 10~15 天,作为较安全区域。一般情况下,投资者仍可按旗形规则操作。旗形整理 15~20 天,作为警示区域,投资者要随时随地注意旗形整理失败而导致股价见顶回落,在此时应先卖出一部分筹码(以防万一),进行减磅操作。旗形整理大于 20 天,投资者就不能把它继续作旗形整理看待,应卖出筹码,离场观望。

肉离场,那正好中了庄家的圈套。我们认为现在投资者正确的做法是:有筹码的要捂住股票,密切注意事态变化,只要调整时间不是太长,就不应卖出股票;持币的要时刻关心它的突破方向,一旦发现股价整理后往上突破,就应该即时买进。无论中国股市还是海外股市,在上升途中出现上升旗形走势是很正常的。其道理很简单,股价上升到一定阶段,获利筹码太多,作为控盘庄家为了减轻股价的上行压力,必然要采取震荡洗盘的动作,而上升旗形正适应了庄家洗盘的需要,故投资者对此用不着惊慌。在深沪股市历史中,一些大牛股往往经过上升旗形整理后,夯实了股价,走出了令人咋舌的攀升行情;而一些中小散户由于不了解上升旗形的走势特征,股价一跌,就赶紧将股票卖出,把煮熟的鸭子弄飞了,这是很可惜的。可见,是否了解上升旗形的特征和技术含义对投资者操作有多么重要。

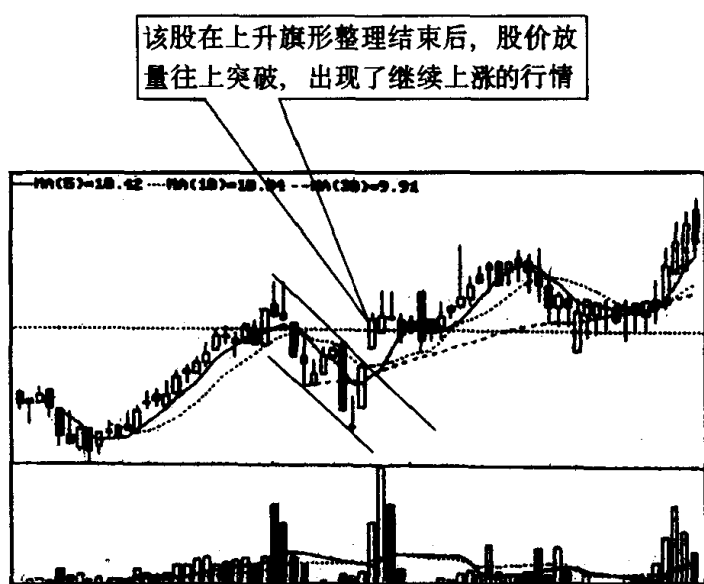
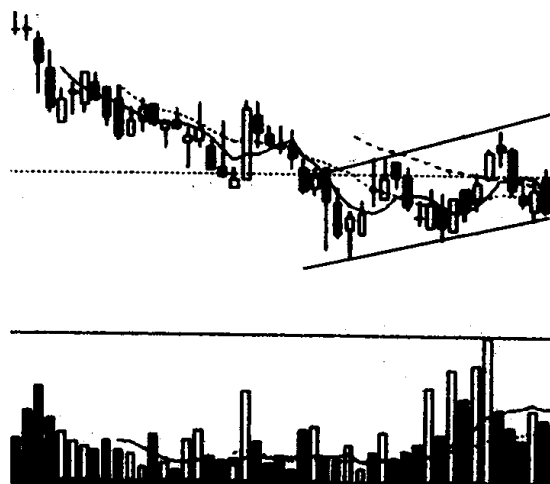


图 356

习题 98 图中个股下跌后出现了一轮反弹行情,如将反弹行情的高点与高点之间和低点与低点之间分别用直线连起来,就可以看出股价在一个上升通道里运行。有人对这个上升通道十分看

重,认为股价就此摆脱了下跌困境,走上了攀升之路;有人却持相反看法,认为这个上升通道出现,说明股价还未跌到位,仍有下跌空间。对此,你是如何看的,请你从股市技术图形理论上对这个问题作一番分析,并说明此时投资者应如何操作为好?



(该股往后走势见图 359)

图 357

参考答案 如果光从表面上看,我肯定同意目前该股“正在摆脱下跌困境,走上了攀升之路”的看法。不是吗?股价反弹时,高点越来越高,低点也在不断抬升,而且股价在“上升通道”里运行时,得到了成交量的支持,出现了价升量增的喜人现象,这真是投资者买进股票的好时机。但是如果我是一个熟悉技术图形的投资者,我就不会同意股价在上升通道里运行的看法。技术图形理论告诉我们,在下跌趋势形成后,股价下滑至某一支撑点时,会出现一种由左向右上方倾斜的平行四边形的图形,这个图形就是“下降旗形”(见图 358)。下降旗形是股价下跌过程中的一个整理形态,整理结束后股价仍会继续下跌(见图 359)。说白了,下降旗形就是空方主力为了进一步打压股价而为中小散户精心布置的一个多头陷阱。如果投资者不明就里,看到股价在缓缓上升就一头扎了进去,那十有八九会中庄家的圈套。因此,面对这种下降旗形的走势,持币的投资者,要做到不受庄家诱惑,不买股票,冷眼旁观是最

佳投资良策。持筹的投资者,要乘股价反弹时尽量多卖出一些股票,减轻仓位,切不可再错失一次逃命的良机。有人问,难道下降旗形股价就一定朝下突破,而不会朝上突破吗?我们说,一般不会,不过在极少数情况下股价也确实会朝上突破。如果万一真的发生朝上突破的行情(其标志是放量突破下降旗形的上边线,股价连续3日站在上边线上方),那也不要紧,反过来做多就是了。

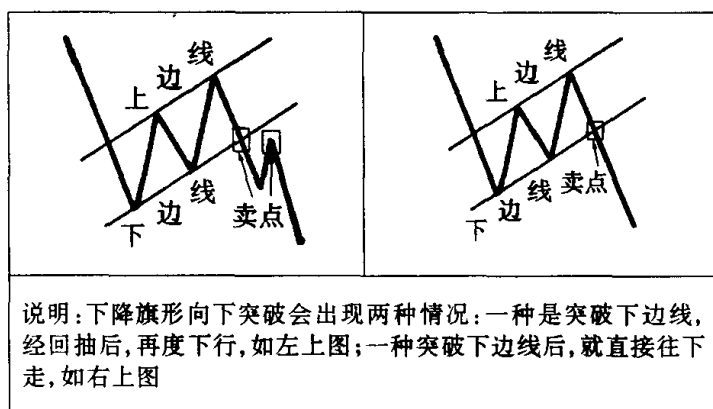


图 358

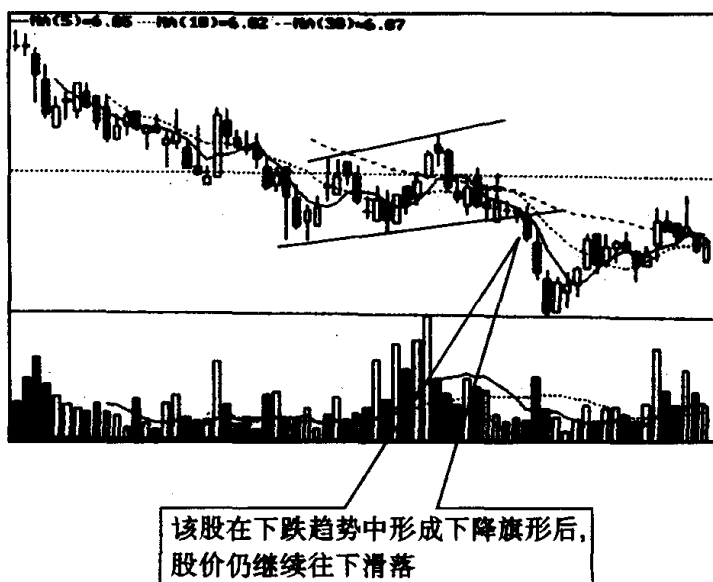
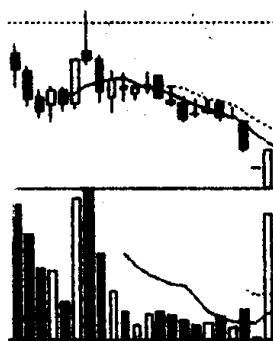


图 359

第十节 V形与倒置V形的识别和运用

习题 99 下图中个股前期一路下跌,最近出现了加速下跌现象,昨天以跌停板收盘,今天却峰回路转,收了一根大阳线,并放出巨量。请问,投资者见此应该考虑下一步最有可能出现什么样技术图形的走势,如果出现这种技术图形走势,应如何操作?



(该股往后走势见图 362)

图 360

参考答案 作为一个熟悉技术图形的投资者,见到这种 K 线图,首先应该想到的是以该股目前态势很有可能会演变成“V 形”走势。所谓 V 形走势,就是股价先一路下跌,后来一路攀升,反映在图形上就像一个英文字母 V(见图 361)。V 形走势的技术特征是:股价在下跌趋势中,下挫的速度越来越快,最后在股价下跌最猛烈的时候,出现了戏剧性的变化,股价触底后即一路上扬。V 形走势的底部十分尖锐,可在几个交易日之内形成,而且转势点的成交量特别大。对照 V 形走势的技术特征,我们发现图 360 中的个股目前已满足了 V 形走势的 3 个必要条件,即:(1)呈加速下跌状态。(2)突然出现戏剧性变化,拉出了大阳线。(3)转势时成交量特别大。现在唯一没有满足 V 形走势的一个条件是:在几个交易日之内完成触底回升,一路上扬。显然 V 形走势的最后一个条

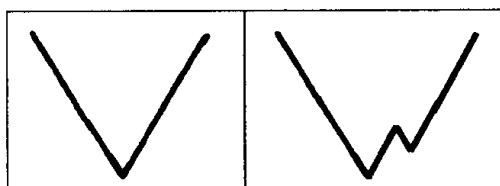


图 361

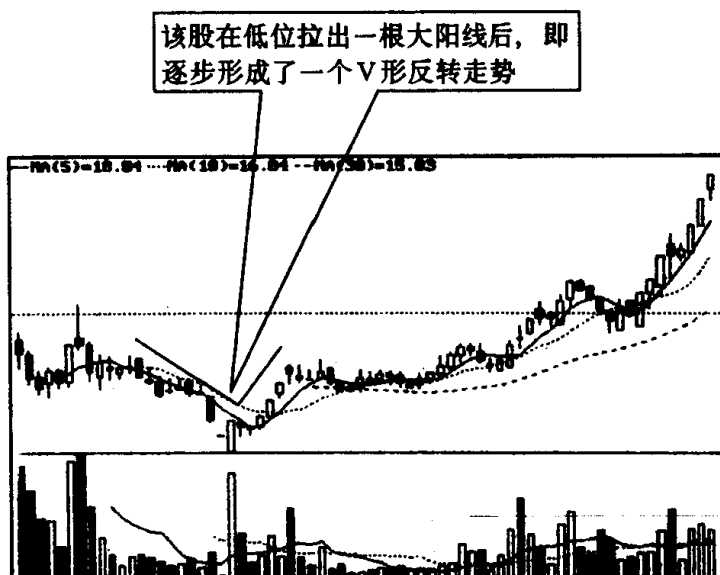
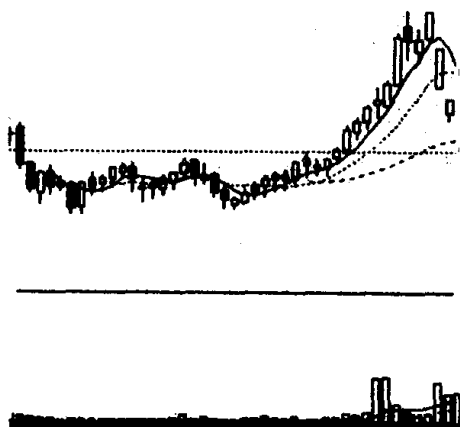


图 362

件能不能满足，要过几天才能知道(见图 362)。但到那时完全看清楚了才想到是 V 形走势，这对那些看不清该股运行方向，直到现在还在割肉离场的投资者来说，打击太大了。要知道一旦形成 V 形反转，上冲的力度就很大，在低位抛掉的筹码再想捡回来就十分困难，也就输定了。当然话说回来，对空仓而又持谨慎态度的投资者来说，入市的时机选择在 V 形走势较明朗的时候也未尝不可，这与我们前面说的 V 形走势初期割肉离场又是另外一回事了。因此，在 V 形走势有可能形成和正式形成时，投资者要及时转变思路，不能再继续看空、做空。正确的做法是：持股的投资者应握住筹码，不要轻易相信他人之言，涨了一点就逢高派发。持币的投资者，性格属于比较激进的，在拉出第一根长阳放出巨量时就可先买进一些股票，当日后几天，V 形走势逐渐明朗时，可继续加

码买进；而性格属于比较温和的，从稳健角度出发，在 V 形走势基本形成后再买进(但要注意入市时机不能太晚)，这样虽然少赚一点，风险也小一点。

习题 100 下图中的个股前期出现加速上扬的势头，但近两天却出现了快速下跌。现在请问按该股目前这种状况，最有可能演变成什么样的图形走势，如果出现这样的技术图形，投资者应如何操作？



(该股往后走势见图 365)

图 363

参考答案 按目前这种状况最有可能形成“倒置 V 形”走势。倒置 V 形走势的技术特征是：先是股价快速上扬随后股价快速下跌，头部为尖顶，就像倒写的英文字母 V(见图 364)。倒置 V 形走势的顶部十分尖锐，常在几个交易日之内形成，而且在转势点都有较大的成交量。在涨势中，市场看好的气氛使股价节节上扬，但这些追涨的力量多为短线行为，而一旦要买的都买了，后面买方力量出现空缺时，危机就出现了。短线客见股价涨不上去，就会反手沽空，将筹码卖出，后来这种现象愈演愈烈，市场迅速逆转，以几乎等同于上涨时的速度快速下跌。这样就产生了倒置 V 形走势。现在我们回过头来看图 363 的走势，就会发现该股目前状况和倒置 V 形走势技术特征十分相似。因此，作为头脑清醒的投资者，此时就要想到该股正在形成倒置 V 形走势。如

果日后真的发生了这种情况，股价下跌的速度将十分迅速（见图 365），晚走一步损失都会很大。所以，从现在起，持筹的投资者就要进行减磅操作，如果该股重心继续下移，就得狠下决心全部抛空出局。

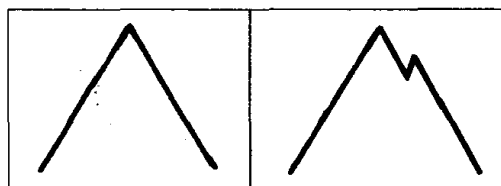


图 364

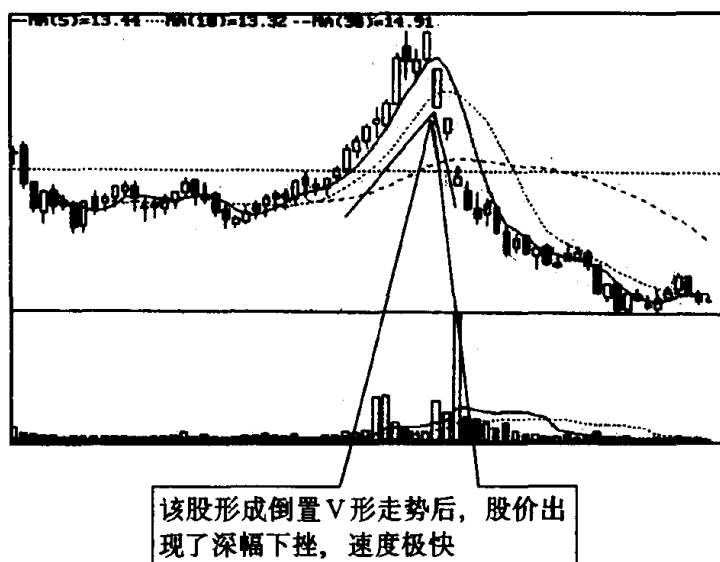
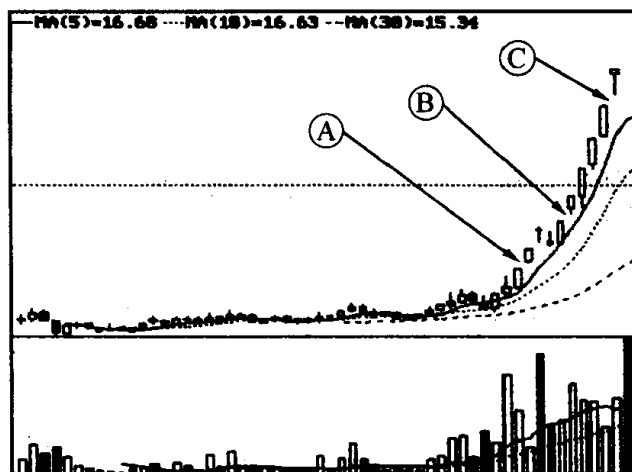


图 365

第十一节 向上跳空缺口与向下跳空缺口的识别和运用

习题 101 图中 A、B、C 3 个箭头所指的都是两根相邻的 K 线之间的空白处，这 3 个空白处分别叫什么名称？它们各自的技术含义是什么？投资者碰到它应如何操作？



(该股往后走势见图 368)

图 366

参考答案 图中 A、B、C 3 个箭头所指的空白处,在股市技术图形理论中称为“向上跳空缺口”。其中箭头 A 所指的缺口叫“向上突破缺口”,箭头 B 所指的缺口叫“向上持续缺口”,箭头 C 所指的缺口叫“向上竭尽缺口”。向上的缺口是如何形成的呢?当某日股价跳空高开,在昨天的最高价上方留下了没有成交的价格区域,一直到收盘时,这个没有成交的价格区域仍保留着,或部分保留着,缺口就这样诞生了(见图 367)。在股市技术图形分析中,缺口占有相当重要地位。由于向上的跳空缺口发生在不同阶段,因此它的技术含义也完全不一样。在股价突破阻力开始上升时出现的缺口,对日后股价上升具有决定性的影响,因此人们把它形象地称之为向上突破缺口。突破即势如破竹,足见多方发动的攻势之强大。一般而言,形成突破缺口时都伴有较大的成交量,这时成交量越大,说明日后股价上升的潜力越大。向上突破缺口形成后,如几天内不被封闭,说明多方抢占空方滩头阵地已获成功,股价将会形成一路攀升的走势。在股价上升时出现的第二个缺口是向上持续缺口,顾名思义,股价仍然会沿着上涨势头持续下去。向上持续缺口的出现,表明多方力量十分强大,这种缺口可以帮助估计未来市势发展的潜力。在股价上升时出现的第三个缺口是向上竭尽缺

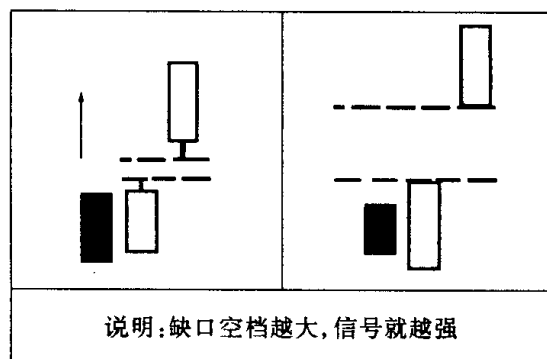


图 367

口。竭尽缺口听上去就不太妙，人们对它的前景已能猜之八九。向上竭尽缺口是如何形成的呢？股价在急速上升后，市场多方力量到了最后冲刺阶段，这时再一次出现跳空高开，于是就形成了第三个向上跳空缺口，也即向上竭尽缺口^[注]。向上竭尽缺口的出现，意味着原有推动股价上升的力量发挥将尽，市势即将逆转，这种缺口短期内就会被封闭。一旦向上竭尽缺口被封闭后，就会引发一轮跌势（见图 368）。当我们了解向上跳空缺口、向上持续缺口、向上竭尽缺口的各自特征和技术含义后，我们就知道应该怎样操作了。当向上跳空缺口出现，并伴有较大的成交量时，应毫不犹豫地买进；当向上持续缺口出现时，就继续做多，持股待涨；当向上竭尽缺口出现时，谨慎持股，特别是向上竭尽缺口出现时伴随成交量的急剧放大，更要保持高度警惕。空仓的投资者此时不可再追涨，持筹的投资者为安全起见可先派发一些筹码，如发现股价开始掉头向下，应立即将股票抛空离场。在我们介绍向上跳空缺口的几种类型后，必须要提醒大家的是：虽然向上跳空缺口对股价的上升起

【注】在特别强的多头市场，或超强庄股中，有时向上跳空缺口不止 3 个，而是 4 个，甚至 5、6 个。这时最后一个缺口才能称之为竭尽缺口，而这之前的缺口，除第一个缺口外，都是持续缺口。尽管这种情况出现机会并不多见，但它也为投资者辨别持续缺口和竭尽缺口带来了困难。为了不造成误认，我们认为要做到正确区分：一是要观察当时市场气氛。二是要看第三个缺口，甚至第四个、第五个缺口出现时，成交是否放出巨量，股价能不能平稳地上扬。如若这些缺口形成时，成交放出巨量，股价重心下移，这个缺口就是竭尽缺口；反之成交量和以前差别不大，股价重心在稳步地上移，这时就不能把它当作竭尽缺口，而要看作持续缺口，并按持续缺口的方法进行操作。

着支持作用,但它不能被封闭,如一旦封闭它对股价上升的支持作用就完全消失,反而会对股价下滑起着助跌作用。因此,不管是哪种类型的向上跳空缺口被封闭后,就不能再继续看多,而要适时做空,规避一下短期风险。

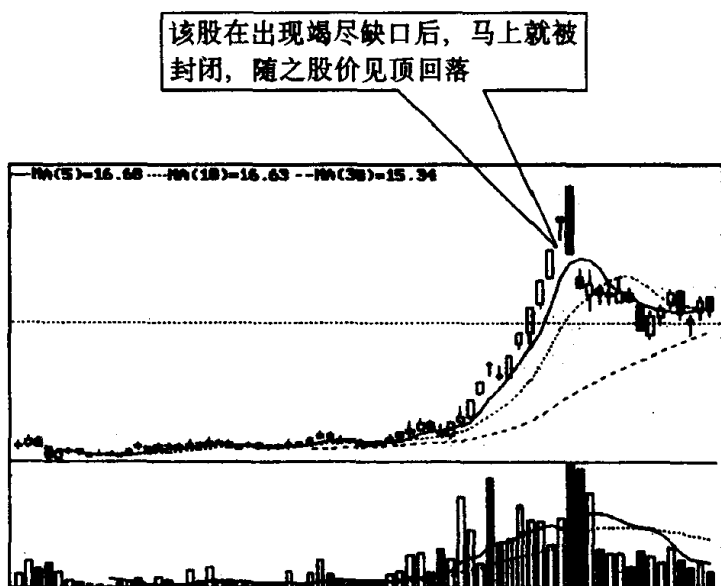


图 368

习题 102 下图有 3 个明显的空白处,我们分别用箭头 A、B、C 标了出来,这空白处人们称之为缺口。现在请你具体说出它们的名称、特征和技术含义,并说说投资者遇到这些缺口应如何操作?

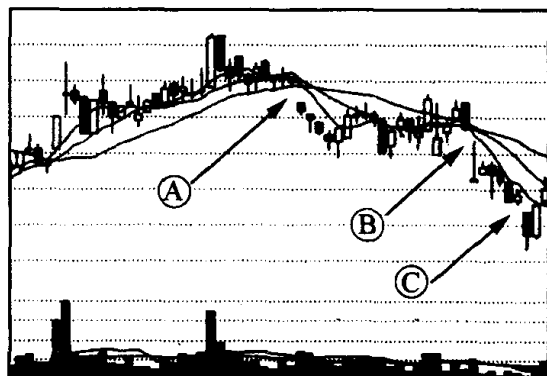


图 369

参考答案 图中的 3 个缺口,都称为“向下跳空缺口”(见图 370)。因为它们发生在不同时段,又分别叫做“向下突破缺口”(见箭头 A 所指处),“向下持续缺口”(见箭头 B 所指处)和“向下竭尽缺口”(见箭头 C 所指处)。这 3 个缺口的技术含义是完全不同的。向下突破缺口的出现,说明市况已发生逆转,原来的升势已经结束,接下来的就是一轮跌势,而这个跌势还刚刚开始,下跌的空间还很大。因此投资者见到向下突破缺口要及时做空,尽量做到退出观望为宜;向下持续缺口的出现,说明市场做空力量仍很强,股价还将继续下跌。这时投资者仍要保持做空思维,继续持币观望;向下竭尽缺口的出现^[注]说明市场已面临最后一跌,空方力量将穷尽,如果一旦空方不能组织有效力量对多方继续实施严厉打击,日子也会难过起来。股市是个明火执仗的战场,当空方强时,多方就弱,反之亦然。因此,在空方力量不济时,多方肯定会趁机反击。而向下竭尽缺口的出现,为多方日后的反击提供了极佳的机会,如不出意外,这个向下竭尽缺口在几天内就会被多方封闭。但是这里需要提醒投资者的是向下竭尽缺口被封闭后,并不意味着马上可见底回升,在这阶段多方和空方还有一番殊死搏斗,如果多方封闭这个向下竭尽缺口后,后续力量跟不上,仍有可能被空方再次打下去,股价仍会维持一段时间的疲弱走势。故我们在向下竭尽缺口出现时,可按以下思路进行操作,有筹码的此时不宜再割肉做空。如缺口被多方封闭,持币的可试着做多,适量买些筹码,等股价冲破下降压力线,成交量放大,并步入上升通道后再追加筹码跟进。这里同样需要提醒投资者的是,无论是向下突破缺口,还是向下持

[注] 一般认为,向下跳空的第一个缺口为突破缺口,第二个缺口为持续缺口,第三个缺口为竭尽缺口。但在市场极度低迷时,或极弱的个股中,有时向下跳空缺口,一连出现 4 个,甚至 5、6 个。这时最后的一个缺口才能称为竭尽缺口,而在这之前的缺口,除第一个缺口外,都是持续缺口。尽管这种情况出现的机会不多,但它也为投资者辨别持续缺口和竭尽缺口带来了困难。我们认为要做到正确区分:一是要观察当时市场气氛。二是要看第三个缺口,甚至第四个、第五个缺口出现时,成交量是否萎缩,股价是不是还继续下跌。如若这些缺口形成时,成交量已非常小,之后股价拒绝再继续下跌,这个缺口就是竭尽缺口;反之,成交量和以前差别不大,股价重心还在惯性下滑,这时就不能当作竭尽缺口,而要看作持续缺口,并按持续缺口的方法进行操作。

续缺口,如短期内被多方封闭,都有可能出现有利于多方的上升和盘局走势,这时投资者不能再盲目看空,可采取一种谨慎看多的姿态参与运作。

另外,我们在此还需要说明的是,与向上跳空缺口不同的是,向下的跳空缺口并非都是多空搏杀所产生,像除息、除权都会产生向下缺口,这点投资者必须认真区别,千万不要搞错,以免对自己的投资行为造成不利影响。

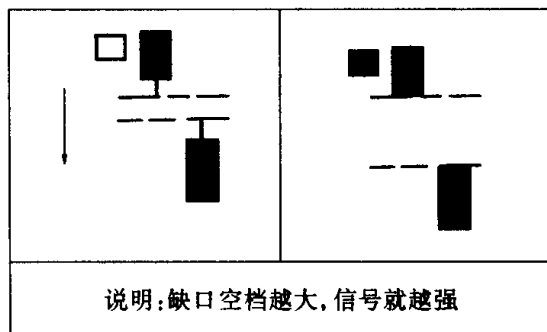
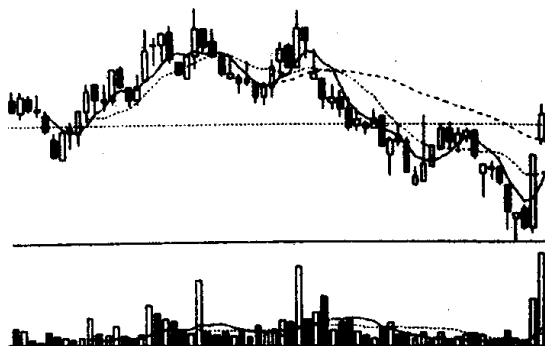


图 370

第十二节 底部岛形反转与顶部岛形反转的识别和运用

习题 103 下图中的个股目前是什么技术图形走势?请说出



(该股往后走势见图 373)

图 371

它的特征和技术含义,并说明投资者见此图形应如何操作?

参考答案 图中个股目前是“底部岛形反转”走势。其特征是:在下跌行情中,股价已有了一定的跌幅后,某日突然跳空低开,留下了一个缺口,日后几天股价继续下沉,但股价下跌到某低点又突然峰回路转,股价开始急速回升,并留下了一个向上跳空的缺口。这个缺口与前期下跌时的缺口基本上处于同一价位区域。从图形上看,股价明显地分成了两块,中间被左右两个缺口隔开(见图 372),使得图表中的下边一块成了飘离海岸的岛屿一般(有时候这个岛屿也可能由一根 K 线组成)。底部岛形反转时常会伴随着很大的成交量。如果成交量很小,这个底部岛形反转图形就很难成立。底部岛形反转是个转势形态,它表明股价已见底回升,将从跌势转化为升势(见图 373)。虽然这种转势并不会一帆风顺,多空双方会有一番激烈的争斗,但总的形势将有利于多方。通常,在底部发生岛形反转后,股价免不了会出现激烈的上下震荡,但多数情况下,股价在下探上升缺口处会嘎然止跌,然后再次发力向上。投资者面对这种底部岛形反转的个股,应首先想到形势可能已经开始逆转,不可再看空了。激进的投资者可在岛形反转后向上跳空缺口的上方处买进,稳健的投资者可在股价急速上冲回探向上跳空缺口获得支撑后再买进。当然如果股价回探封闭了向上跳空缺口,则不要买进,应继续密切观望。在我们前面介绍的缺口理论中曾经说过,向上跳空的缺口被封闭后,后市就会转弱。但值得注意的是有很多股票,底部岛形反转向上跳空缺口被封闭后,股价并没有重现跌势,不久又会重新发力上攻。这可能是底部岛形反转的向上跳空缺口与一般的向上跳空缺口一个不同之处。因此,投资者对那些填补向上跳空缺口之后,再度发力上攻跃上跳空缺口上方的个股要继续密切加以关注。持筹的仍可持股做多,空仓的可适时跟进。当然这里要注意的是,对填补向上跳空缺口后,股价还继续下沉的个股就不可再看多了,此时投资者应及时停损离场观望。



图 372

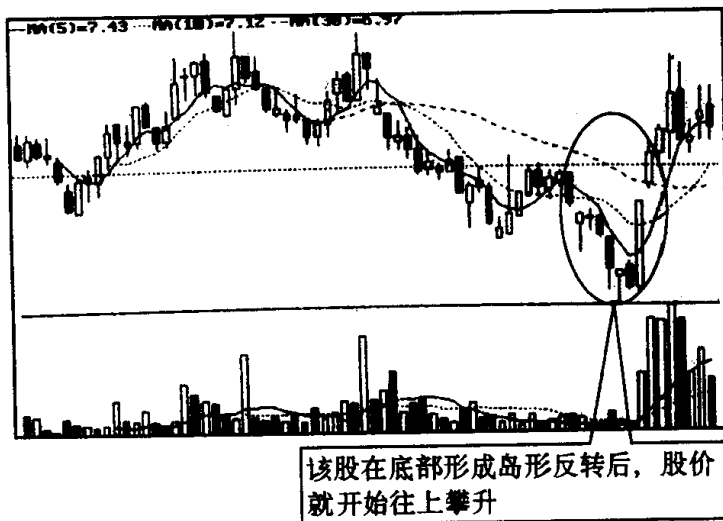
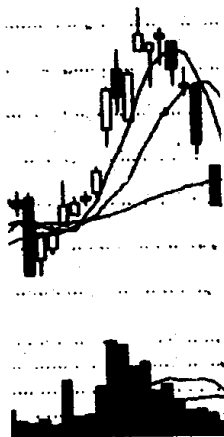


图 373

习题 104 下图中的个股目前是什么技术图形走势，请说出它



(该股往后走势见图 376)

图 374

的特征和技术含义,并说明投资者见此图形应如何操作?

参考答案 图中的个股目前是“顶部岛形反转”走势。从图中我们可以发现该股今天出现了一个向下的跳空缺口,而这个缺口与该股上升时向上的跳空缺口基本处于同一区域,于是整个股价K线图分成了上下两截,在上面的一部分K线就像远离海岸的孤岛,这是顶部岛形反转的主要特征,就此形成了顶部岛形反转(见图375)。顶部岛形反转一旦确立,说明近期股价向淡已成定局(见图376),此时持筹的投资者只能认输出局,如果继续持股必将遭受更大的损失。而空仓的投资者近期最好也不要再过问该股,即使中途有什么反弹,也尽量不要参与,可关注其他一些有潜力的股票,另觅良机。

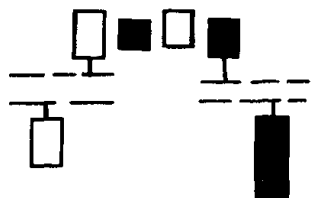


图 375

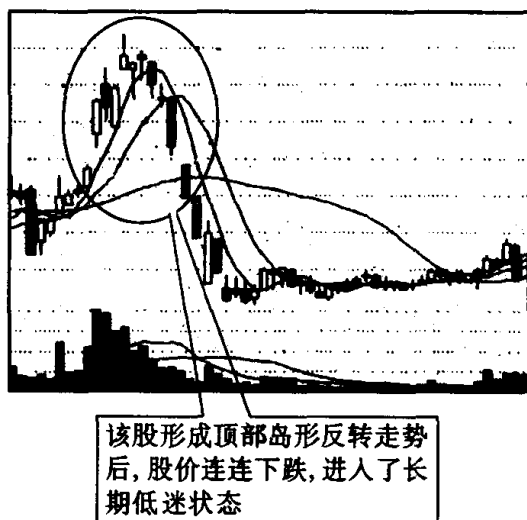
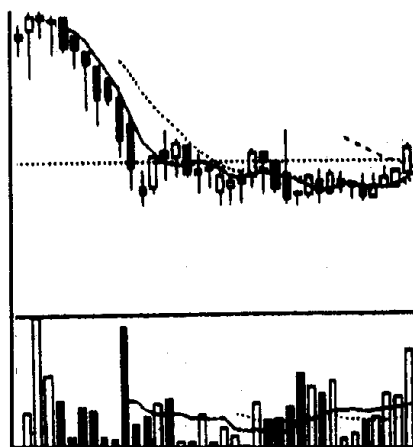


图 376

第十三节 矩形与潜伏底的识别和运用

习题 105 图中的个股在下跌后走出了横盘走势, 近几天有向上抬升的迹象, 成交量也开始放出, 请问该股现在的走势是什么技术图形? 它的特征和技术含义是什么? 投资者见此图形应如

何操作？



(该股往后走势见图 379)

图 377

参考答案 该股技术图形为“矩形”，又称为长方形，箱形盘整。矩形的特征是：如果将股价横盘时出现的两个最高点用直线连起来，将股价横盘时出现的两个最低点也用直线连起来，即可画出一个长条形状（见图 378）。而股价就在这个长条形的宽度里不断地上下波动，当股价上升到长条形的上边线时就往下回落，而回落到长条形的下边线时就往上弹升，直到一方力量耗尽，股价就会选择一个向上或向下方向突破。矩形是个整理形态，整理的结果究竟是往上还是往下，这要根据当时多空力量对比而定，在矩形形成过程中没有最后朝一个方向有效突破时，谁也不能妄下结论。矩形在技术上给投资者的提示是：整理、观望。因此，当我们明白这个道理后，就可以知道遇到矩形走势应如何操作了。一般来说，只要股价仍在长条形范围里上下运动，就坚决作壁上观，不买股票。但是要做到这一点并不容易，要经得起诱惑，要严格遵守矩形的操作规范才行。例如，股价在上下波动时，有时股价碰到长条形下边线往上弹升时，会出现连拉数阳，价升量增的现象，就像本习题图 377 的走势一样。这时一些投资者会觉得这是股价经过长期筑底后的回升，一轮上

升行情即将呼之欲出,如果不趁早买进,就会失去一次赚钱的良机。于是就急匆匆地把股票买进,但买进后就会发现,股价碰到长条形的上边线就冲不上去了,仍像往常一样往下回落(见图379)。此时,投资者就陷入了相当被动的局面,走吧,买进股票已经套住,虽然套得不深,但要割肉又不甘心;不走吧,又怕股价在矩形整理后往下突破,损失更大,这真是左右为难。可见对处于矩形整理的个股,投资者最佳的做法就是耐心观望,并抱着一个宗旨,只要股价一天不向上突破矩形的上边线,就一天不买股票,这要当作铁的纪律来严格要求自己,这样才能使自己立于不败之地。另一方面如果股价在矩形整理后往下突破矩形的下边线,手里持有该股的投资者应毫不犹豫地清仓离场,这也是投资者面对矩形走势必须要遵守的一个操作要领,投资者务必认真对待之。

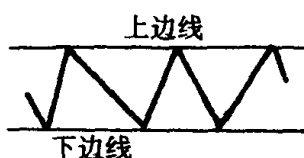


图 378

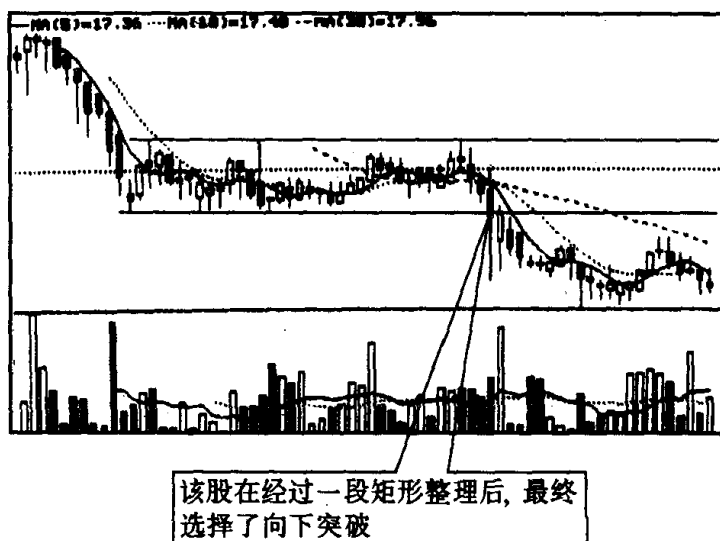



图 379

习题 106 在股市技术图形中，属于底部形态的图形除了常见的双底、头肩底、圆底外，还有一种是潜伏底。下图是深圳某股 1994 年初～1996 年初的月 K 线图。请问：该图是不是潜伏底？潜伏底的特征和技术含义是什么？投资者见此图形应如何操作？



(该股往后走势见图 382)

图 380

参考答案 图 378 是一个潜伏底。所谓潜伏底就是股价经过一段跌势后，长期在一个狭窄的区间内波动，交易十分清淡，在图形上，股价和成交量各自形成一条带状（见图 381）。现在我们从图 380 中可以看出该股目前的走势和潜伏底特征相当吻合，因而它成为潜伏底的可能性极大。当然是不是潜伏底，最后还要通过股价往上飚升来验证，但这种情况目前还未发生，因此现在还不好说。潜伏底与其他底部形态不同的是，潜伏底一旦向上突破之后，股价就一路上窜，很少出现回探现象。这是因为股价横盘时间已经很长，换手相当彻底的缘故。现在我们回过来看看图 380 之后的走势，就可以发现该股在突破潜伏底上档压力线后，上冲势头锐不可挡，短短的一年半时间，竟涨 30 余倍（见图 381）。这真可谓“不鸣则已，一鸣惊人”。虽然潜伏底具有这样巨大的上升潜能，但是真正炒到潜伏底，享受到潜伏底往上飚升带来丰厚投资回报的人却很少。其原因：一是入市时间选择不当。潜伏底的主要特征是成交量几乎处于停滞状态，而且历时很长。在中外股市中，耗时几个月的潜伏底屡见不鲜，有些竟有数年之久。即使在投资气氛较浓的深市中，图 380 中的个股——深科技构筑一个潜伏底也用了一年

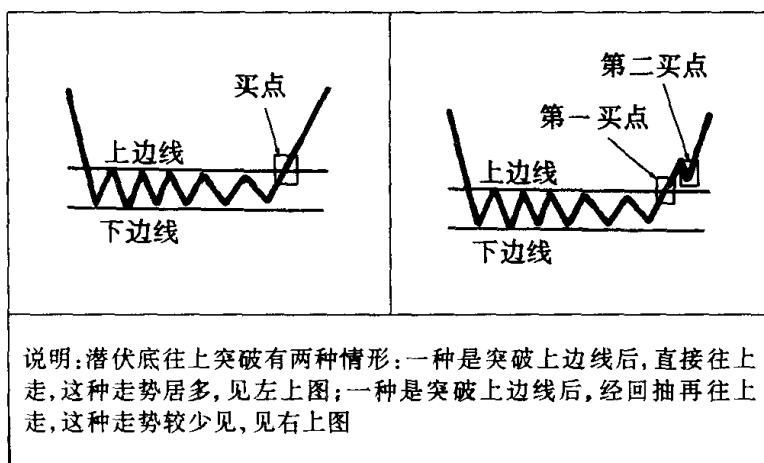


图 381

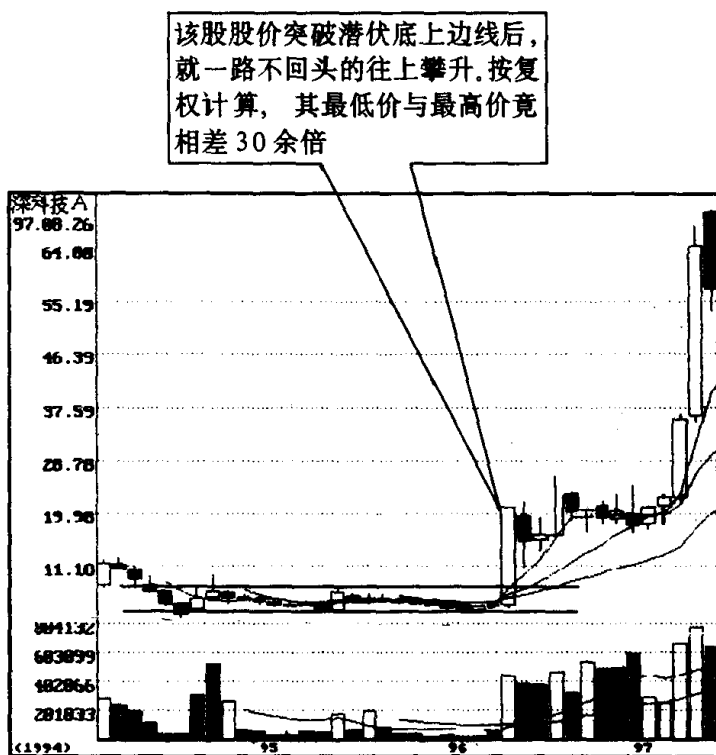


图 382

半的时间。有些投资者在潜伏底构筑过程中，因过早入市承受不了股价不死不活的长时期的折磨，在股价发动上攻行情前离它而

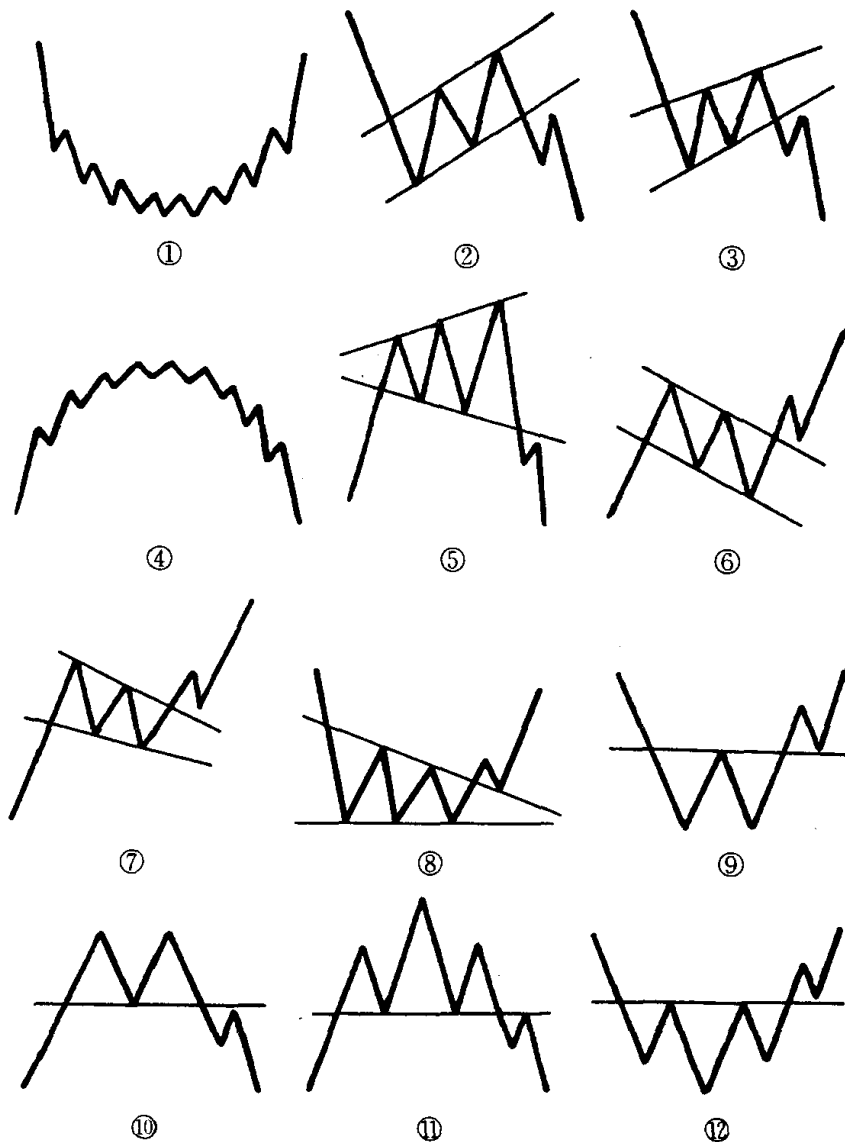
去^[注]，这是很可惜的。因此潜伏底的入市时间应选择在股价放量上冲这一阶段。二是不敢追涨。潜伏底一旦爆发，上攻势头十分猛烈，常常会造成连续逼空的行情，而多数投资者对潜伏底爆发出来的直窜行情不知所措，一看连续拉出的大阳线就不敢再追涨，这是很错误的。有人认为，潜伏底往上发动时，只要股价上涨幅度不超过 50%，成交量保持价升量增的态势，就可以追涨，超过 50% 可等其回档时吸纳。例如 1996 年 4 月初深科技(0021)往上突破时，几天内就从 7 元多涨至 20 多元，之后经过一段时期盘整，又从 20 多元涨至 60 多元，其涨幅之大使人惊叹不已(见图 382)。可见潜伏底上扬时往往会出现大阳线后再拉大阳线，超涨之后再超涨的现象，这是潜伏底往上突破的一个重要特征。因此在潜伏底涨升初期(当然不是涨升中期、后期)，对它追涨应该是一个比较好的选择。

〔注〕 虽然很多投资者忍受不了潜伏底长时间的折磨，将低位筹码让了出去，让煮熟的鸭子弄飞了，使之蒙受了很大损失。但是这种漫长的构筑潜伏底的活动，对控盘主力却有利，潜伏底对投资者的心态的调整得越充分，多头主力就越容易吸足廉价的筹码。由于潜伏底筑底时间很长，整理充分，浮筹较少，所以日后主力拉升起来轻松有力。并能制造出一种连续逼空的走势。

综合练习一

——技术图形概念的辨析

习题 107 请把下面的技术图形分成三类，一类为顶部形态，一类为底部形态，一类为整理形态，并说出这些图形的名称。



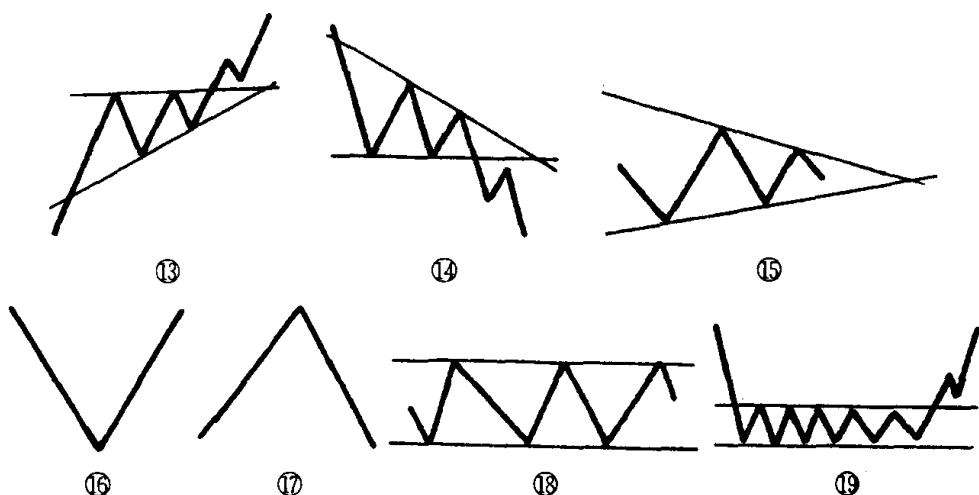


图 383

参考答案

属于顶部形态的图形有：④圆顶，⑩双顶，⑪头肩顶，⑰倒置V形。

属于底部形态的图形有：①圆底，⑧底部三角形，⑨双底，⑫头肩底，⑯V形，⑲潜伏底。

属于整理形态的图形有：②下降旗形，③上升楔形，⑤扩散三角形，⑥上升旗形，⑦下降楔形，⑬上升三角形，⑭下降三角形，⑮收敛三角形，⑱矩形。

习题 108 下面各个小题中都有两句话，其中只有一句是正确的。请在正确的话的后面打上“√”。

第一题：

(1) 在股价回落后再创新高时，如成交量反而比前次为小，当它再次回落，第三次向上冲击但无力升越第二个高点时，则要警惕它会形成头肩顶的走势。 ()

(2) 在股价回落后再创新高时，如成交量反而比前次为小，当它再次回落，第三次向上冲击但无力升越第二个高点时，则要警惕它会形成头肩底的走势。 ()

第二题：

(1) 圆顶的形成一个主要特点是，即极度乐观的市场气氛，这

反映在盘面上,就是巨大而不规则的成交量。()

(2) 圆顶的形成一个主要特点是,即极度乐观的市场气氛,这反映在盘面上,就是巨大而有规则的成交量。()

第三题:

(1) 双底是做多的信号,但它形成的时间多于一个月,其信号可靠程度就较差。()

(2) 双底是做多的信号,但它形成的时间少于一个月,其信号可靠程度就较差。()

第四题:

(1) 潜伏底突破时的主要特征是成交量激增,股价大幅波动,而突破之后的上升途中,应维持高成交量。()

(2) 潜伏底突破时的主要特征是成交量温和放大,股价少有波动,而突破之后的上升途中,成交量有逐渐减少的迹象。()

第五题:

(1) 通常在双底、头肩底突破颈线后,都有一个回抽过程,正给投资者提供了一次验证是真突破,还是假突破的机会,如果回抽时成交量明显放大,跌势越来越快,并在颈下方止跌,即可以确认它向上突破的有效性,此时买入显得胸有成竹,价位也较合适。同时,一旦出现意外,股价重新跌破颈线,在颈线下方止跌后再次下探,投资者因而被迫停损离场时,损失也相对较小。()

(2) 通常在双底、头肩底突破颈线后,都有一个回抽过程,正给投资者提供了一次验证是真突破,还是假突破的机会,如果回抽时成交量明显萎缩,跌势越来越缓慢,并在颈线上方止跌,即可以确认它向上突破的有效性,此时买入显得胸有成竹,价位也较合适。同时,一旦出现意外,股价重新跌破颈线,投资者因而被迫停损离场时,损失也相对较小。()

第六题:

(1) 头肩顶、头肩底都是属于转势形态,它们除了显示股价朝下和朝上的不同方向外,还有两点明显区别:第一,头肩顶形成的时间一般要比头肩底形成的时间短。第二,头肩顶往下突破可放

大量也可放小量,但头肩底往上突破一定要放大量,否则这种突破往往是一种假突破。 ()

(2) 头肩顶、头肩底都是属于转势形态,它们除了显示股价朝下和朝上的不同方向外,还有两点明显区别:第一,头肩底形成的时间一般要比头肩顶形成的时间短。第二,头肩底往上突破可放大量也可放小量,但头肩顶往下突破一定要放大量,否则这种突破往往是一种假突破。 ()

参考答案

第一题①,第二题①,第三题②,第四题①,第五题②,第六题①。

习题 109 在股市中,我们经常碰到的一些非标准形态的技术图形,那么究竟如何来识别这些不规则的技术图形呢?现在请你以下面一张图为例,说明辨别非标准形态技术图形的一些窍门。

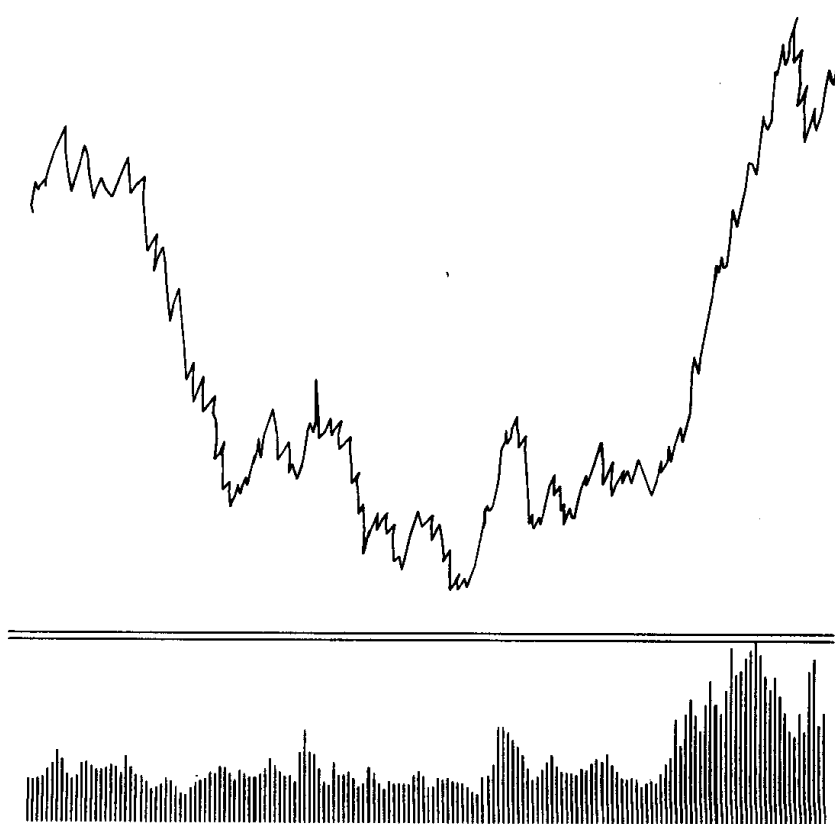


图 384

参考答案 在识别技术图形时，只有学会抓住图形的主要特征，才不会把图形搞错。例如图 384 粗略看上去并不像个头肩底，因为光是低点就有 A、B、C、D、E、F、G 7 个，高点则有 ①、②、③、④ 4 个。但后来股价向上突破的形式和上升的力度又证明它的确是个头肩底。那么究竟如何来识别它是个头肩底呢？方法是：把图中次要的高点和低点放在一边，不去管它，把主要高点 ②、③ 作为基准点画上一条直线，再把主要低点 A、E 作为基准点画上一条直线，这样就能找到它的左肩、头部和右肩，以及它的上档颈线，就较容易看出它是个头肩底的图形（见图 385）。

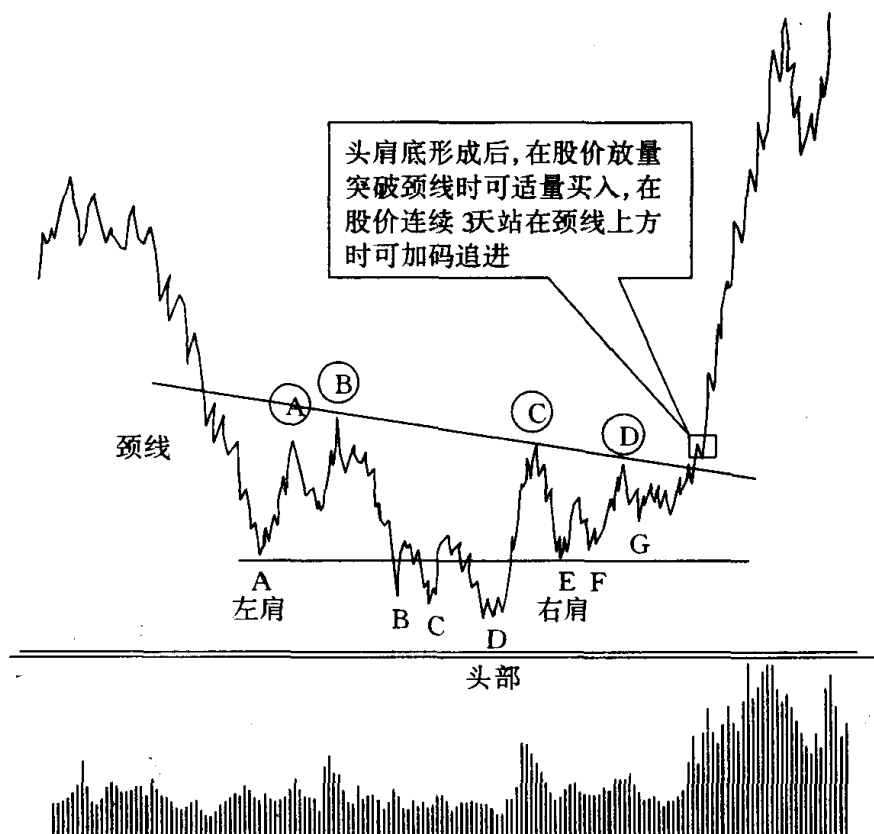


图 385

习题 110 技术图形分成两类,一类为整理形态,一类为转势形态。现在请你就下图中的两个收敛三角形(先在图中把它找出来)对整理形态这一特性作具体说明。

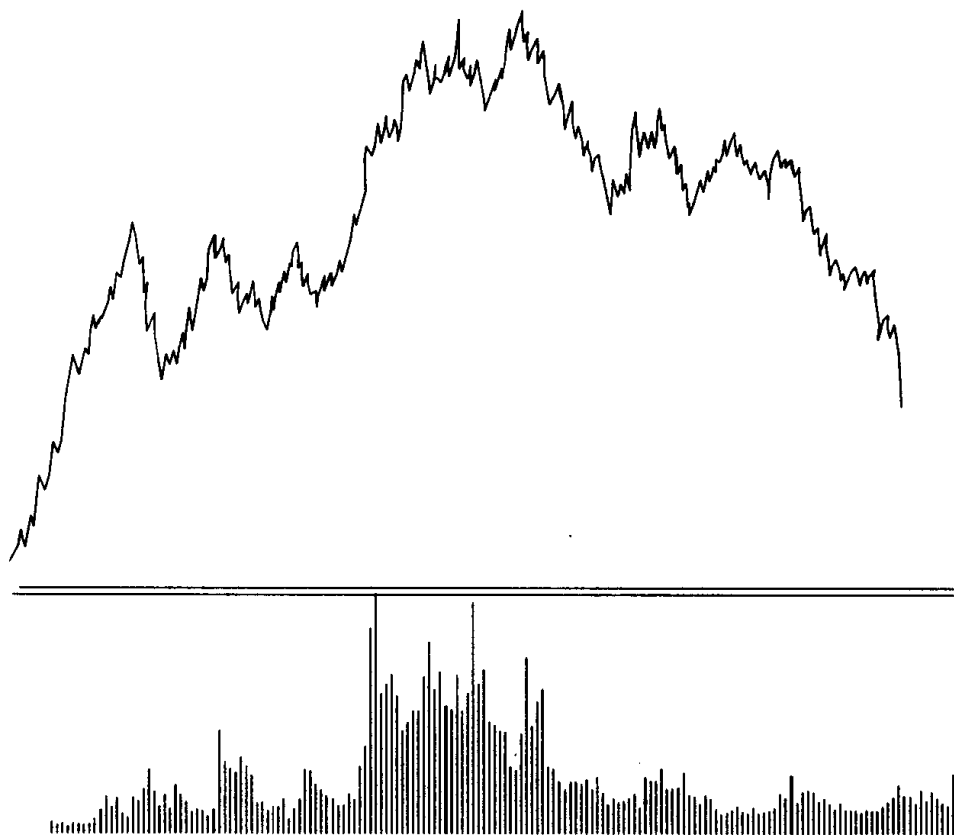


图 386

参考答案 收敛三角形属于整理形态,,既可发生在上涨途中,也可出现在下跌途中。在上涨途中出现的收敛三角形以向上突破居多,突破时成交量会明显放大。在下跌途中出现的收敛三角形以向下突破居多,但突破时成交量不一定放大(见图 387)。这两点和其他整理形态的技术图形的特性是一致的。

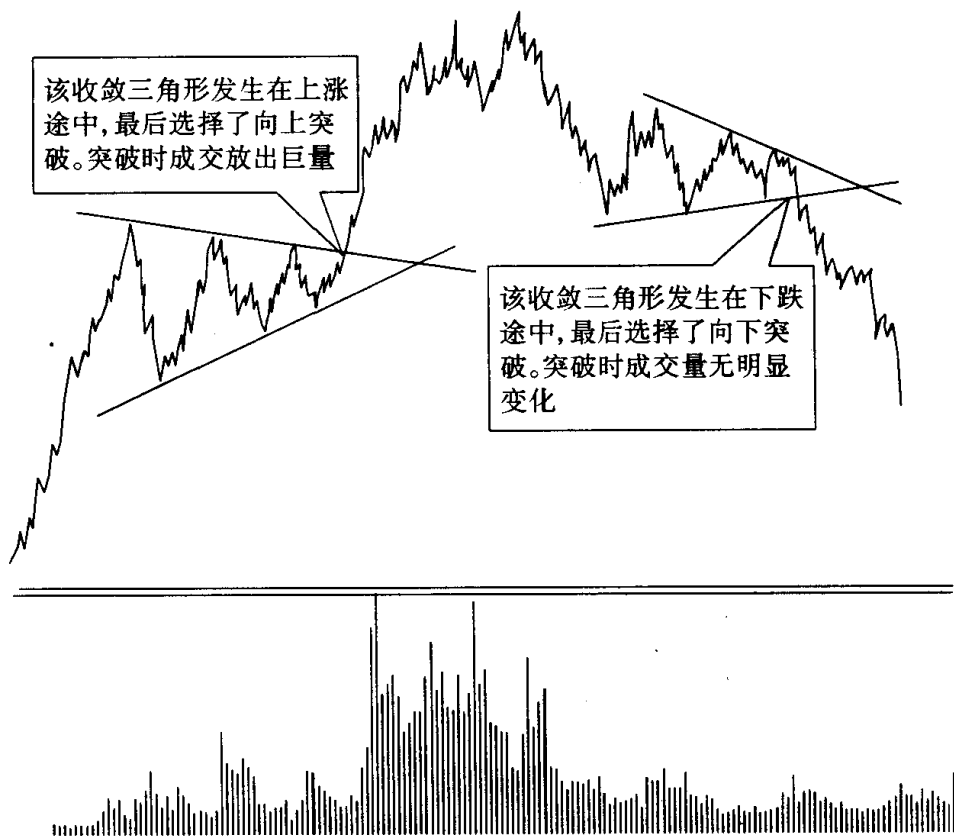


图 387

习题 111 在观察股价走势图是什么图形时,用肉眼辨别常常会发生差错,但用直尺就很容易把它识别出来,现在,请你就下面一张图说明你是如何用直尺辨明它的头部形态是扩散三角形的,并说明多方的止损点应设在何处。

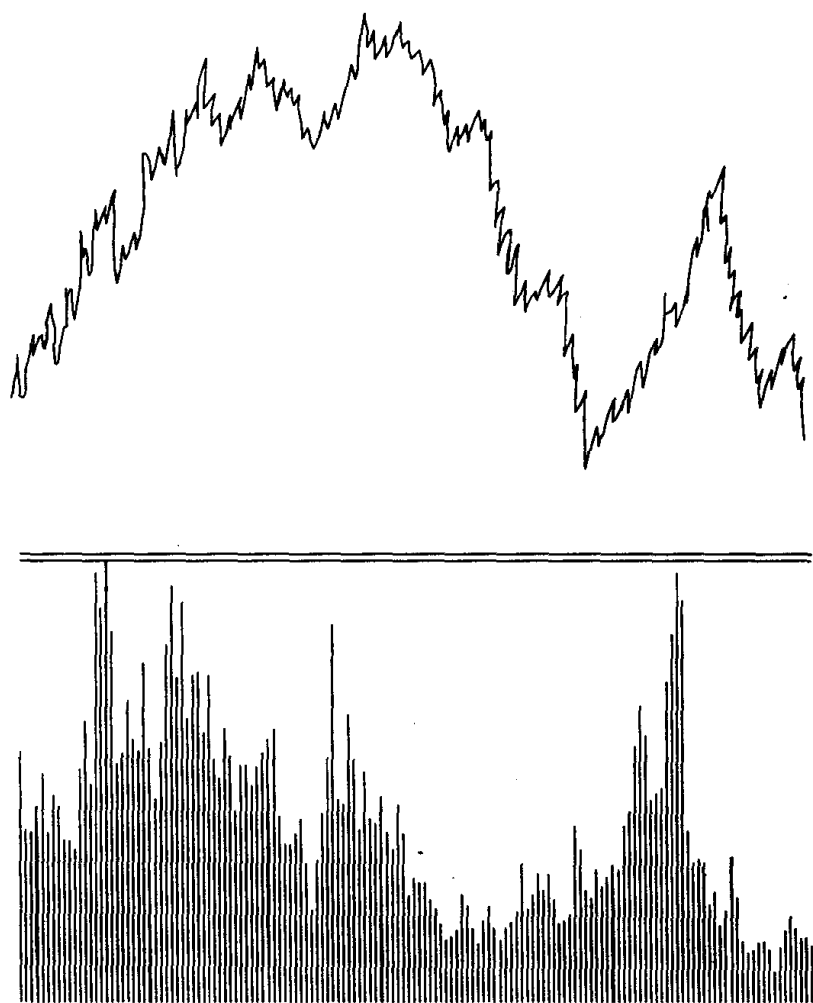


图 388

参考答案 先找出股价上升时 A、B 两个高点,用尺画一条直线,再找出股价回落时 C、D 两个低点,用尺也画一条直线,这时就可发现该股的头部是个扩散三角形(见图 389)。多方的止损点应设在图中 E 点处。因此,当股价击破扩散三角形下边线时,投资者要及时止损离场。

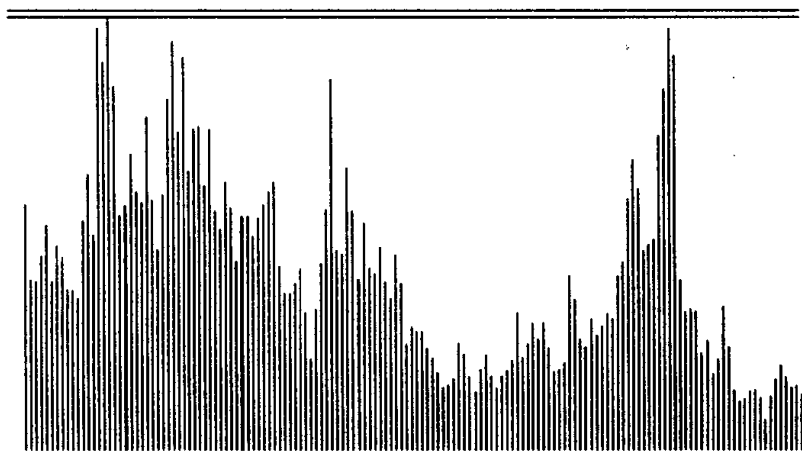
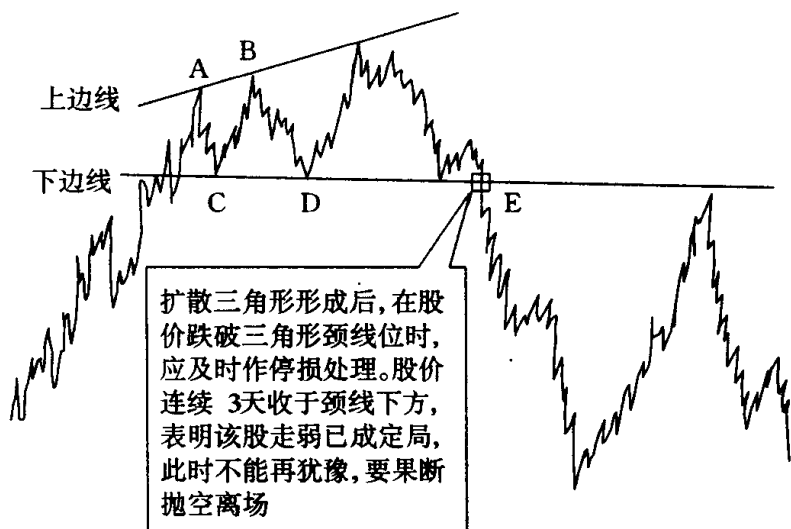


图 389

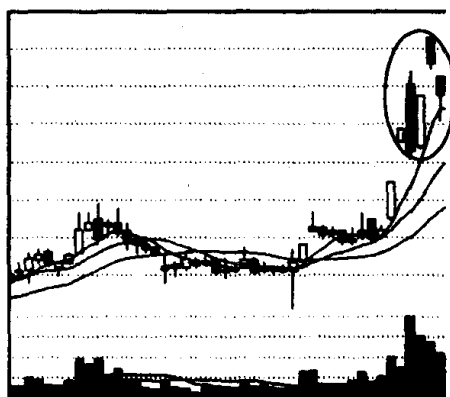
综合练习二

——转势形态图形的辨认

提示 所谓转势形态,即出现这些图形后,行情往往就要发生逆转。或由原来的升势转为跌势,或由原来的跌势转为升势。下面我们列出的图例均为转势形态图形,读者可仔细辨认。

习题 112 仔细观察图 390,回答下面问题:

(1)图中画圈处是什么技术图形?(2)投资者见此图形应如何操作?



(该股往后走势见图 391)

图 390

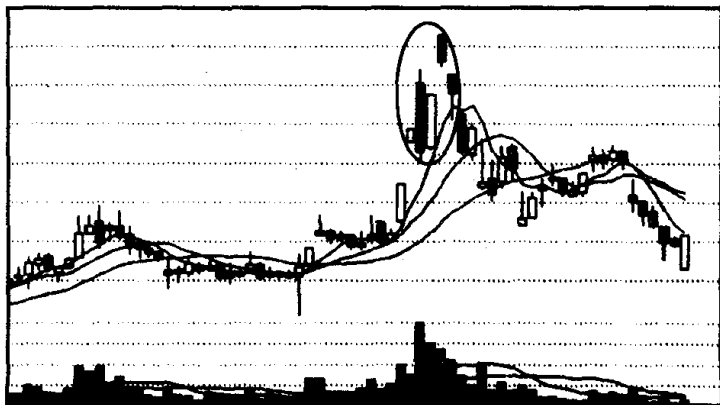
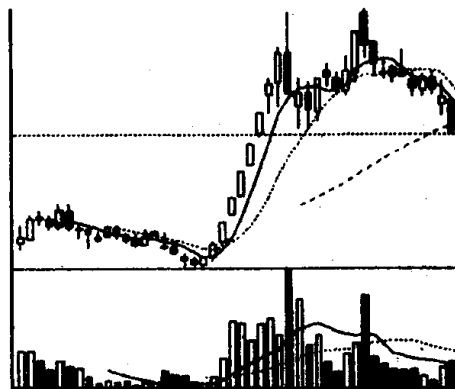


图 391

参考答案 (1) 图中画圈处的图形是顶部岛形反转。它左右两边各有一个跳空缺口,中间的那一根阴线就像座孤岛。(2) 顶部岛形反转是见顶回落信号(见图 391)。因此,投资者一旦遇到顶部岛形反转的股票,就要立即采取做空策略,停损离场。

习题 113 仔细观察下图,回答下面问题:



(该股往后走势见图 393)

图 392

(1) 该图是什么图形?(2) 请用直尺将颈线标出来,用箭头指出卖点在何处,并简要说明其理由。

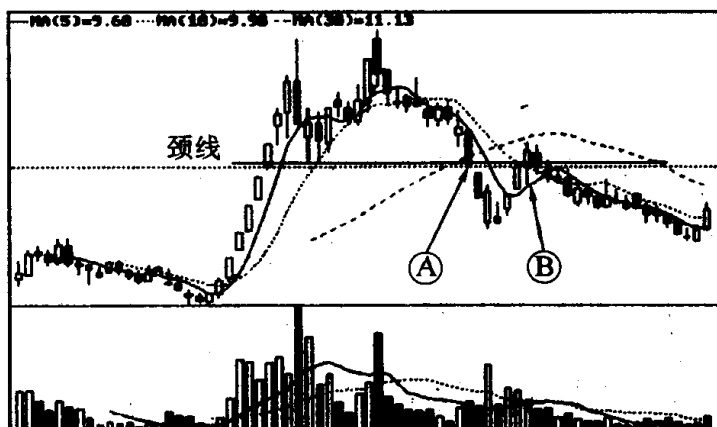


图 393

参考答案 (1) 该图是个双顶图形。(2) 它的颈线位和卖出点如下(见图 393)。投资者最好先在 A 点处退出,B 点处是投资者

痛下决心退出的地方。那么,为什么要选择 A 点和 B 点作为卖出点呢? 因为股价形成双顶后,下跌趋势已定。当股价跌破颈线位时,这时投资者第一个要做的事就是卖出股票。如果在图中 A 点还没来得及做空的投资者,在股价跌破颈线回抽时,就不能再犹豫了。一般来说,股价下破颈线后回抽时,在颈线处就会受阻回落。因此,图中 B 点就是该股投资者的最后一次逃命机会,此时再不停损离场,股价将一路下跌,损失就相当惨重。

习题 114 图 394 是某股日 K 线走势图,图 395 是某股周 K 线走势图。请仔细观察这两张图后,回答下列问题:

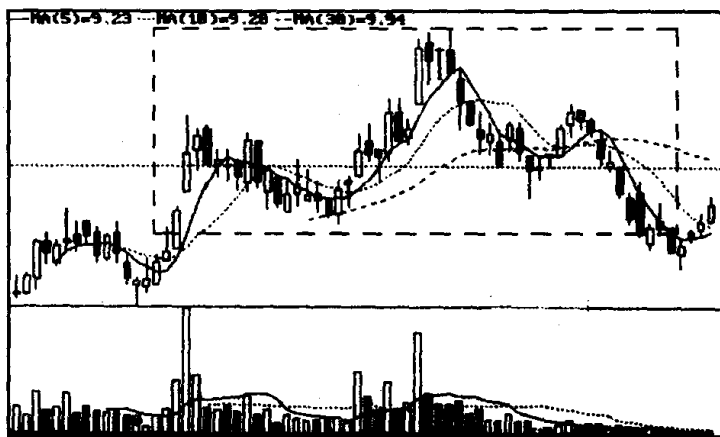


图 394

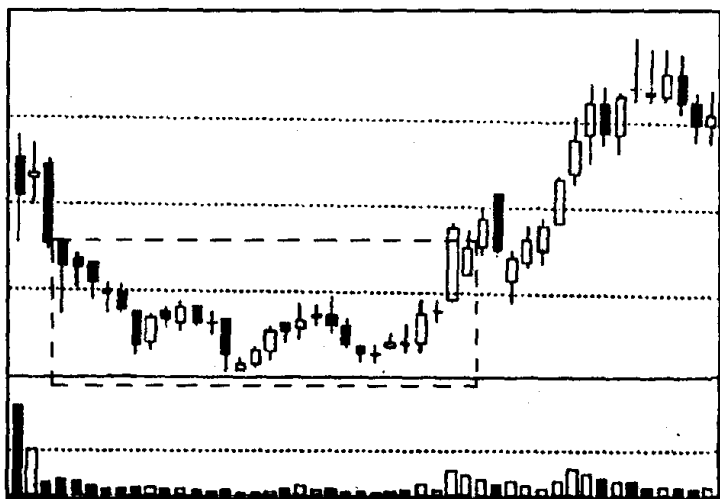


图 395

(1)图 394、图 395 画框内的图形分别是什么技术图形？(2)它们有何相同和不同之处？(3)它们各自的技术含义是什么？

参考答案 (1)图 394 画框内的图形是头肩顶，图 395 画框内的图形是头肩底。(2)它们的相同之处是：头肩顶和头肩底都由头部、左肩和右肩 3 个部分组成，与汉字“山”字相似。头肩顶形成于涨势中，由多方占优势转变到空方占优势，呈一个正山字形(见图 396)。头肩底形成于跌势中，由空方占优势转变到多方占优势，呈

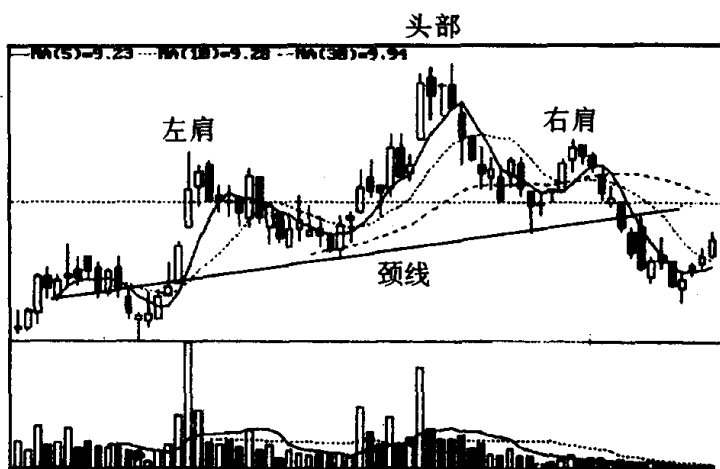


图 396

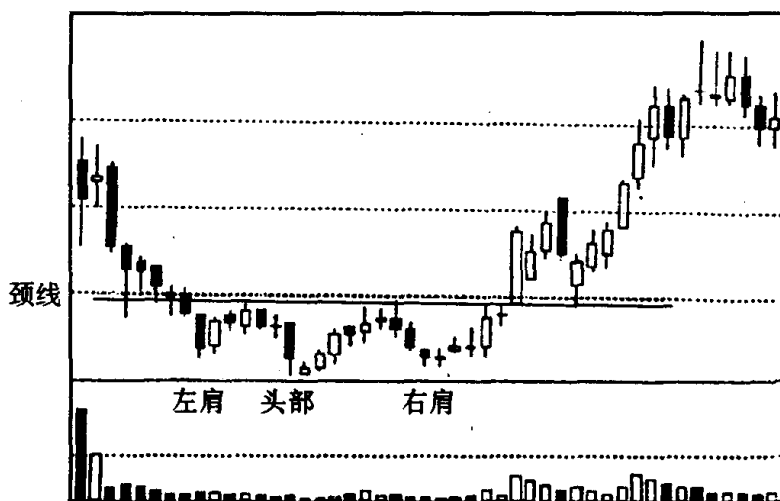
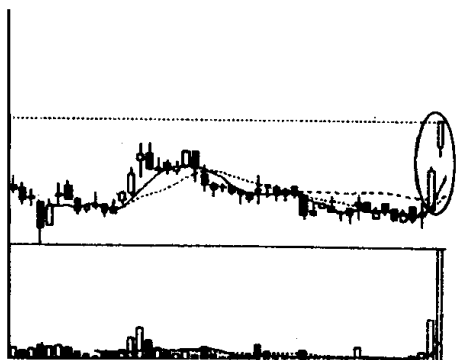


图 397

一个倒山字形(见图 397)。(3)头肩顶的技术含义是:见顶信号,后市看跌,头肩顶是个杀伤力很强的头部转势形态,一旦头肩顶正式确立,就会引发一场空杀多、多杀多的跌势。头肩顶形成的时间越长,其下跌信号就越可靠。头肩底的技术含义是:见底信号,后市看涨。头肩底是股市中的一个重要底部形态,一旦头肩底正式确立,股价就会形成一路攀升的走势。头肩底形成的时间越长,其上升的力度就越大。

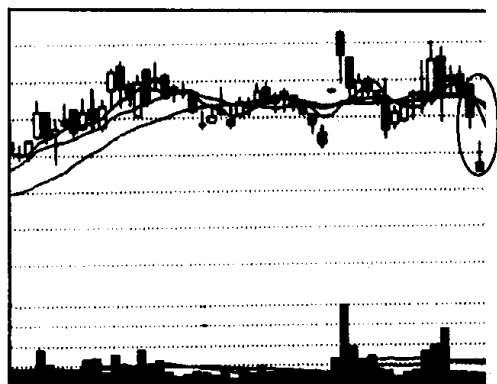
习题 115 请仔细观察下面两张图,回答下列问题:

- (1) 图 398、图 399 圆圈处是什么缺口,它们有何不同之处?
- (2) 投资者见到这种图形应如何操作?



(该股往后走势见图 400)

图 398



(该股往后走势见图 401)

图 399

参考答案 (1)图 398、图 399 画圈处同为突破缺口。图 398 的突破缺口形成于股价整理后向上突破过程中,我们叫它向上突破缺口;而图 399 的突破缺口形成于股价整理后向下突破过程中,我们叫它向下突破缺口。(2)当股价经整理后出现放量向上突破缺口时,投资者应勇敢而坚决地及时跟进做多,且挑选突破缺口相对较大的股票购买,因为此时的缺口越大越能显示多头势力的强大,往后的大涨行情越有可能出现。这里要提请投资者注意的是,缺口的大小须根据股价涨幅的百分比来衡量,而不能光凭个人的直觉。当股价经整理后一旦出现向下突破缺口时,投资者要抱着“留得青山在,不怕没柴烧”的投资理念,痛下决心退出观望。

附:图 398、图 399 出现突破缺口后的走势图。

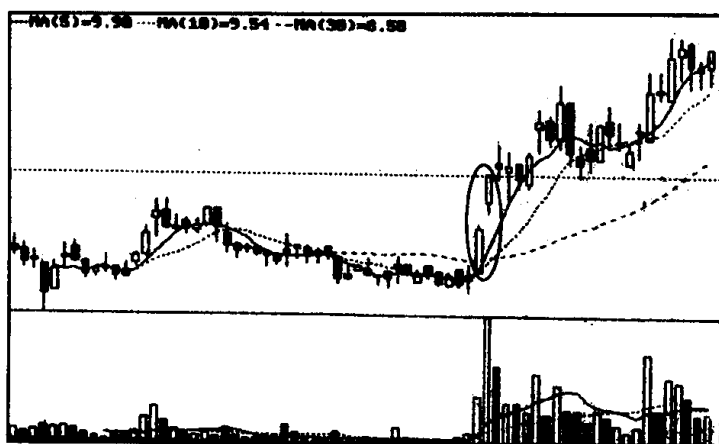


图 400

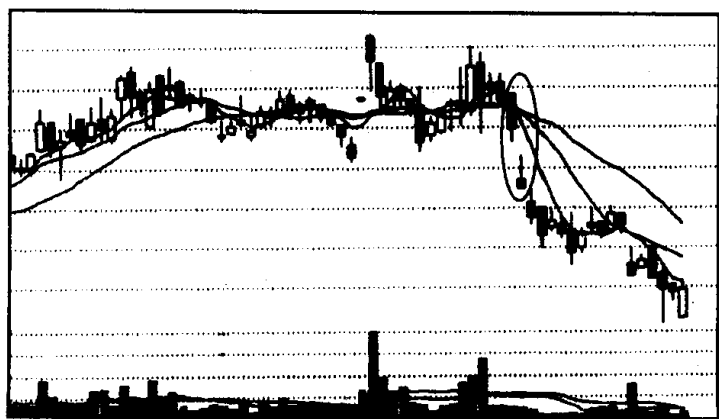


图 401

习题 116 请仔细观察下面两张图,回答下列问题:

(1)图 402、图 403 画框处的图形分别是什么技术图形?(2)在图形特征上它们有何相同之处?(3)它们的各自技术含义是什么?

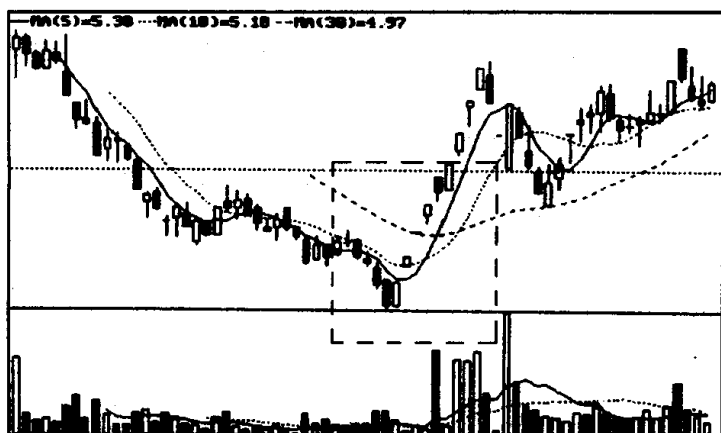


图 402

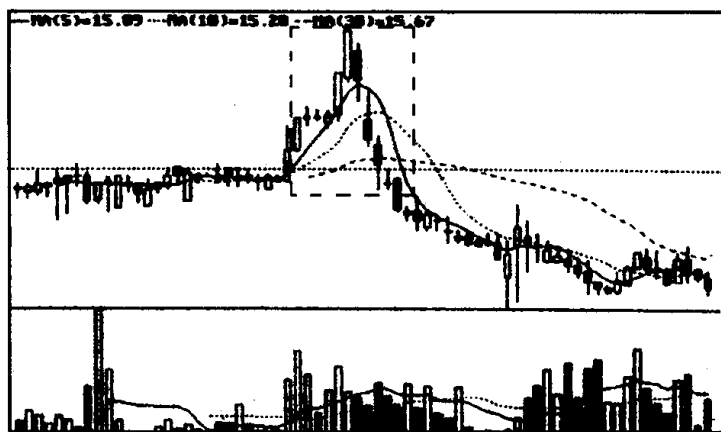


图 403

参考答案 (1)图 402 画框处的图形是 V 形,图 403 画框处的图形是倒置 V 形。(2)它们的相同之处是:无论上涨速度和下跌速度都很快呈现急涨急跌式。其 K 线走势类似英文字母 V。它们的不同之处是:一个呈正 V 字形,一个呈倒 V 字形。(3)V 形的技术含义是见底回升,后市看涨。V 形多数是单日触底反转行情,在股

价急跌后，突然快速上扬，形成一种连续逼空的走势。倒置 V 形的技术含义是：见顶回落，后市看跌。倒置 V 形基本上是单日见顶反转行情，在股价急速上扬后突然快速下滑，打得多方措手不及，如逃之不及，往往损失惨重。

习题 117 请仔细观察下面两张图，回答下列问题：

(1) 图 404、图 405 形成的底部同为什么技术图形？它们有什么不同之处？(2) 投资者在运用该技术图形进行实战操作时应注意哪些问题？

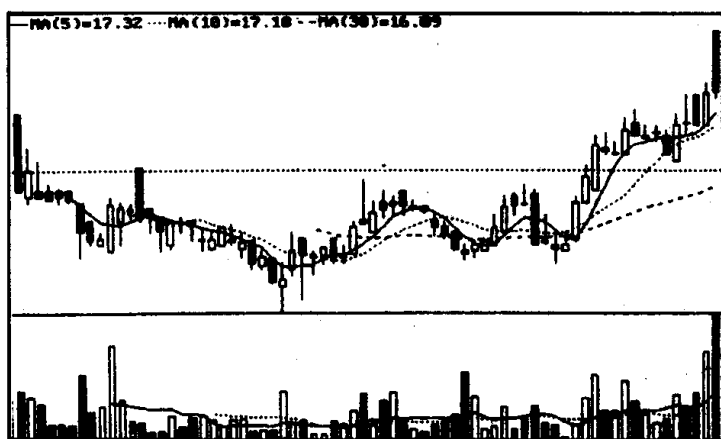


图 404

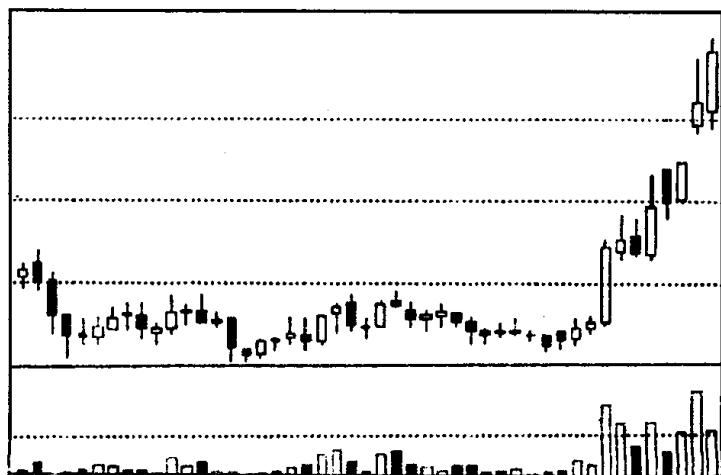


图 405

参考答案 (1)图 404、图 405 形成的底部同为头肩底。图 404 的走势显示向上突破有回探颈线确认的过程,一波三折,而图 405 的走势表明向上突破后,一气呵成向目标挺进(参见图 406、图 407)。(2)投资者在运用头肩底进行实战操作时要注意下列问题:第一,要密切关注底部形态形成后期的成交量的变化。如成交量是否存在萎缩,且向上突破颈线时成交量是否放出大量,等等。如果底部形态形成的后期成交量没有出现萎缩,突破颈线时成交量增加不多,这时投资者就应该提高警惕,多观察,少行动,以免买进后落入假突破的陷阱。第二,通常底部形成的时间越长,往后的涨势越强烈。如果头肩底构造时间小于 1 个月,其可信度就较差,当它突破颈线往上涨的时候,投资者做多要谨慎,不宜盲目追涨。可观察一段时间再作定夺。第三,进货时机要选好,激进型投资者可在作好止损的情况下,在股价向上突破时立即跟进做多;而稳健型投资者可在股价向上突破,经回探颈线确认往上突破有效后跟进做多。

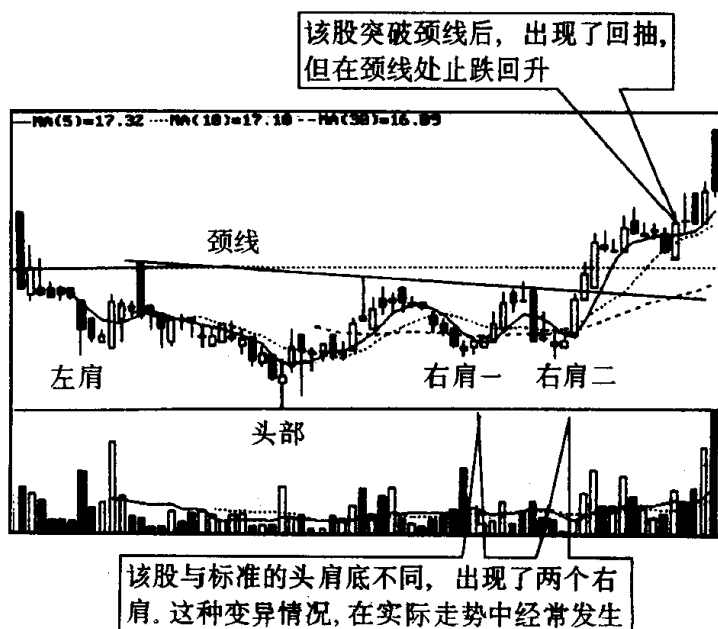


图 406

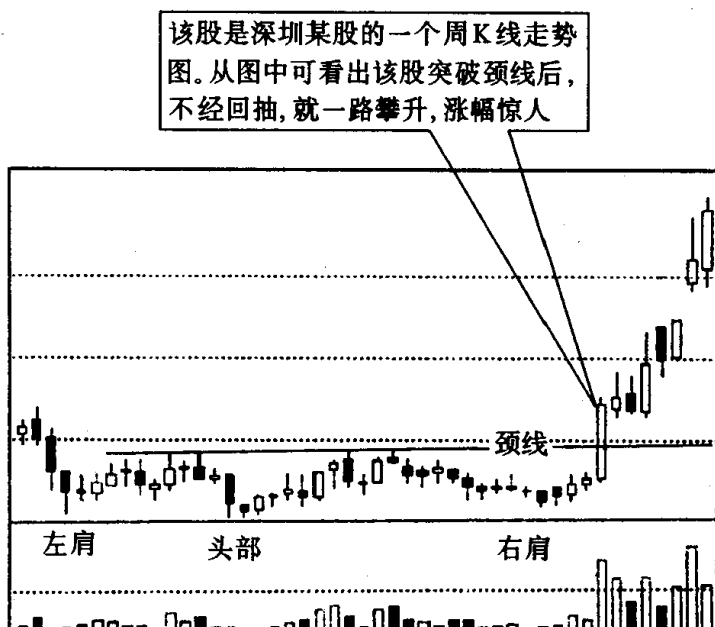


图 407

习题 118 请仔细观察下面两张图，回答下面问题：

(1) 图 408、图 409 方框内的图形同为什么技术图形？它们有何不同之处？(2) 它们各自的技术含义是什么？投资者在运用该技术图形时应注意哪些问题？

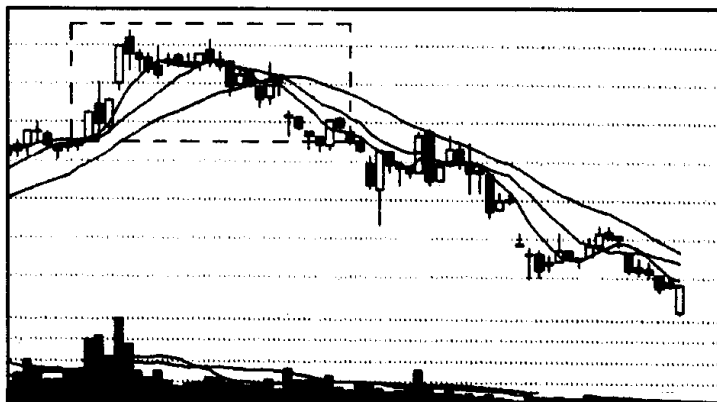


图 408

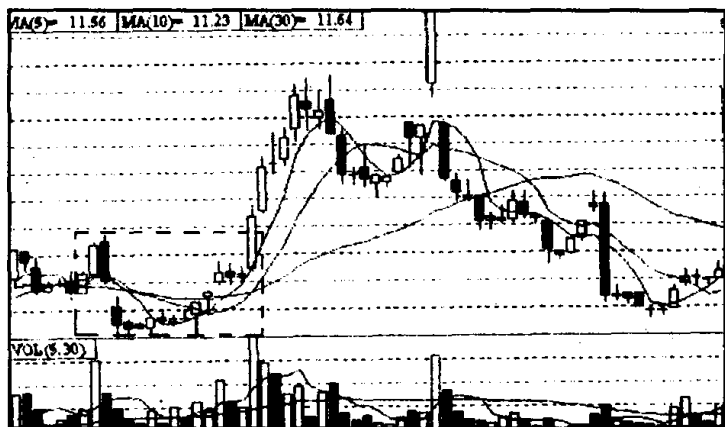


图 409

参考答案 (1)图408、图409方框内的图形同为岛形反转。其不同之处是：图408中的岛形反转形成于涨势中，我们称为顶部岛形反转。图409中的岛形反转形成于跌势中，我们称为底部岛形反转。(2)顶部岛形反转的技术含义是：见顶回落，卖出信号。在股价上涨时出现岛形反转，会产生一种强烈的向下拉力，因此说，顶部岛形反转出现后，短期内常常就会出现一轮跌势。底部岛形反转的技术含义是：见底回升，买进信号。在股价下跌时出现岛形反转，说明空方打击力量已衰竭，多方开始重新活跃。在底部出现岛形反转后，多数情况下会引发出新一轮升势。但有时多空双方会在岛形反转的缺口附近展开一场激烈争夺，致使股价上上下下。鹿死谁手，很难判定。故而很多专家认为，底部岛形反转的转势信号比顶部岛形反转信号的可靠程度要差一些。因此，投资者见到顶部岛形反转，可即刻停损离场，而见到底部岛形反转，以稳妥起见，只能试探性地少量买入，待趋势明朗后，再作定夺。

习题 119 请仔细观察下面两张图，回答下列问题：

(1)图 410、图 411 方框内的图形分别是什么技术图形？(2)在图形特征上它们有何相同和不同之处？(3)它们各自的技术含义是什么？

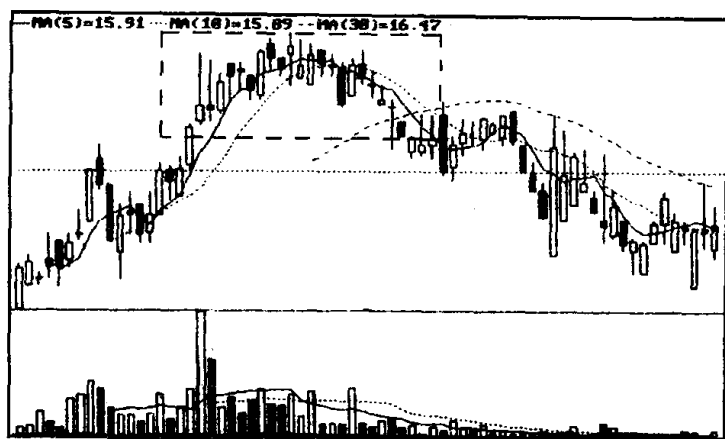


图 410

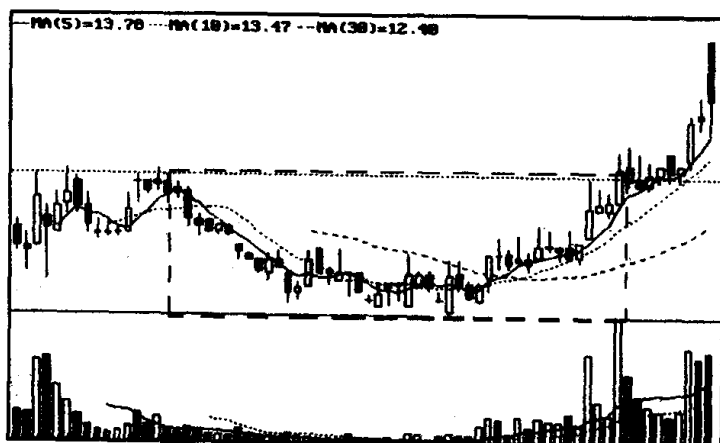


图 411

参考答案 (1)图 410 方框内的图形是圆顶。图 411 方框内的图形是圆底。(2)它们的相同之处是：走势轨迹都呈现出圆弧形态。它们的不同之处是圆顶形成于股价走势的涨势中，上涨的速度由越来越缓慢逐渐转变为下跌速度越来越快，即由多方占优势的情形逐渐转变为空方占优势。圆底形成于股价的跌势中，下跌速度由越来越缓逐渐转变到上涨速度越来越快，即由空方占优势的情形逐渐转变到多方占优势。(3)圆顶的技术含义是：见顶回落，后市看淡。股价走出圆顶走势后，行情大多开始逆转，一轮跌势就不可避免。圆顶形成的时间越长，其下跌的信号就越可靠。

圆底的技术含义是筑底回升，后市看涨。股价走出圆底走势后，春天也就来临，一轮升势呼之欲出。圆底形成的时间越长，其上涨的意愿也就越强烈。

习题 120 请仔细观察下面两张图，回答下列问题：

(1)图 412、图 413 方框内的图形是什么技术图形？(2)它们有何相同和不同之处？(3)它们各自的技术含义是什么？

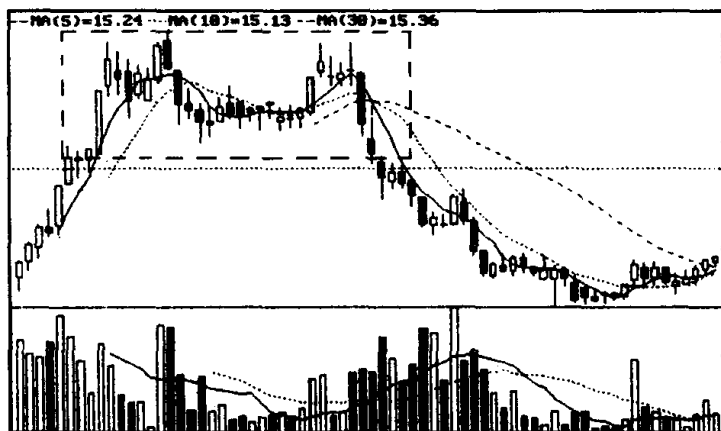


图 412

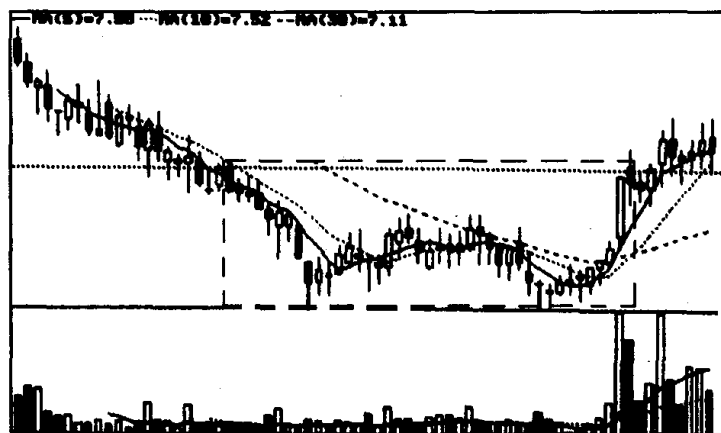


图 413

参考答案 (1)图 412 方框内的图形是双顶，图 413 方框内的图形是双底。(2)它们的相同之处是：它们都是在遭到对方两次阻击后，才把局势扭转过来。它们的不同之处是：双顶形成于涨势

中,由多方占优势转变到空方占优势,呈 M 头形;双底形成于跌势中,由空方占优势转变到多方占优势,呈 W 形。(3)双顶的技术含义是:见顶信号。双顶形成后,股价向下突破居多。双底的技术含义是:见底信号。双底形成后,股价向上突破居多。但往上突破时如没有大成交量配合,很可能是假突破。


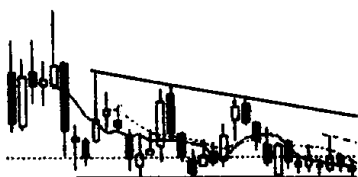
综合练习三

——整理形态图形的辨认

提示 所谓整理形态,即出现这些图形时,多空双方处于一种相持阶段,但是整理到最后,或是多方蓄势击败空方,往上突破;或是空方蓄势击败多方,往下突破。下面我们列出的图例均为整理形态图形,读者可仔细辨认。

习题 121 下图中的个股走出了三角形走势。请问:

(1)这个三角形图形叫什么名称?(2)投资者见到这种三角形应如何操作?



(该股往后走势见图 415)

图 414

参考答案 (1)图中的三角形走势叫下降三角形。(2)通常,某一股价走势如形成下降三角形,说明空方在整理过程中占有较大优势,股价容易产生下跌行情。所以,投资者见到下降三角形,应想到股价仍有下跌的可能(见图 415),应持币观望为宜。当然,在个别情况下,下降三角形也会往上突破,但这种往上突破仍有迹象可寻,如成交量急剧放大,此时投资者再考虑做多不迟。

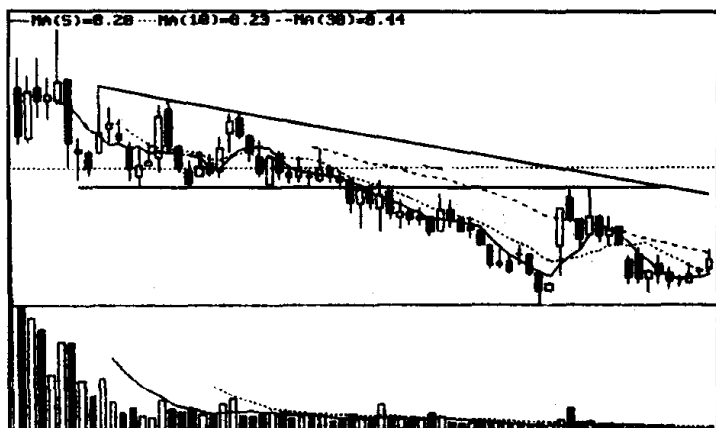
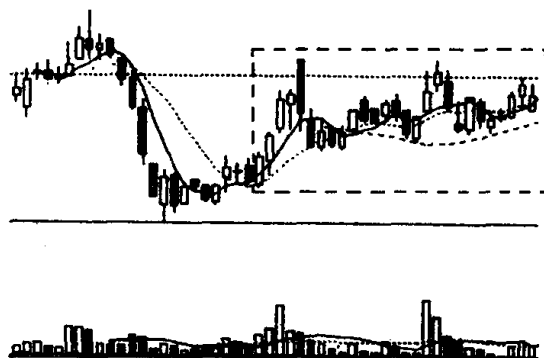


图 415

习题 122 仔细观察下图,回答下面问题:

(1)图中画框处是什么技术图形?(2)投资者看到这种图形应如何操作?



(该股往后走势见图 417)

图 416

参考答案 (1)图中画框处的技术图形是上升三角形。(2)通常,某一股价走势如形成上升三角形,说明多方在整理过程中占有较大优势,故股价的新一轮涨势容易产生。所以,投资者遇到上升三角形走势的股票,应倾向于做多,持股者可继续持股。当然,持币者最佳策略是等到股价放量收于压力线上方时再考虑做多。更稳妥的策略是,在股价突破压力线,经回探确认突破有效后再买

进股票。但是,投资者要注意的是,少数上升三角形会选择向下突破,如果发生这种情况,应及时止损离场。

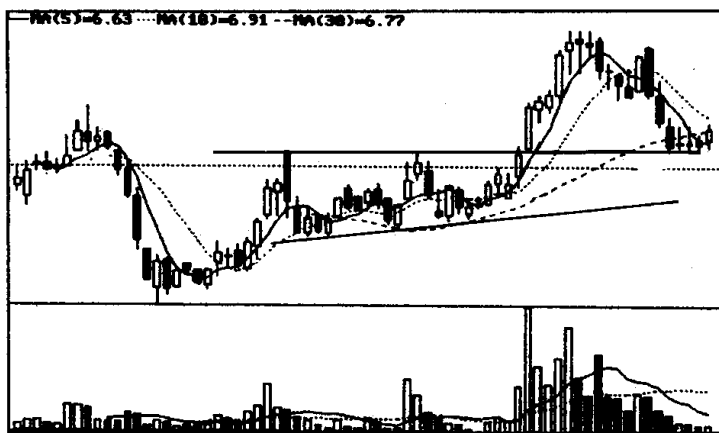


图 417

习题 123 仔细观察下图,回答下面问题。

(1)图中画两条平行线的地方是什么技术图形?(2)何处是投资者停损离场之处(请用箭头指出来)?

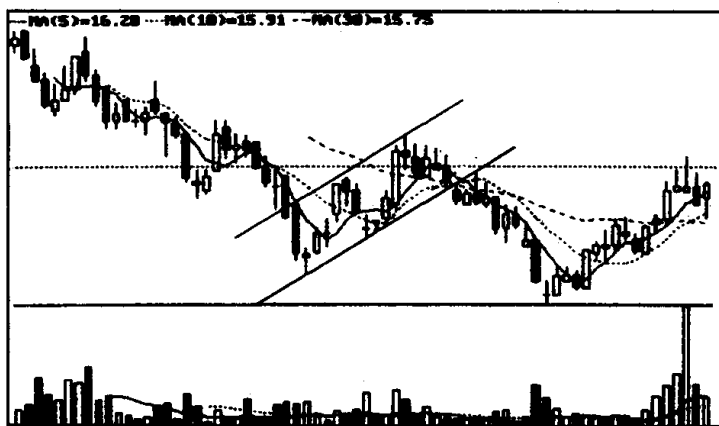


图 418

参考答案 (1)图中画线处是下降旗形。(2)下降旗形以向下突破居多,该股也不例外,图中 A 点处是投资者停损离场的地方(见图 419)。

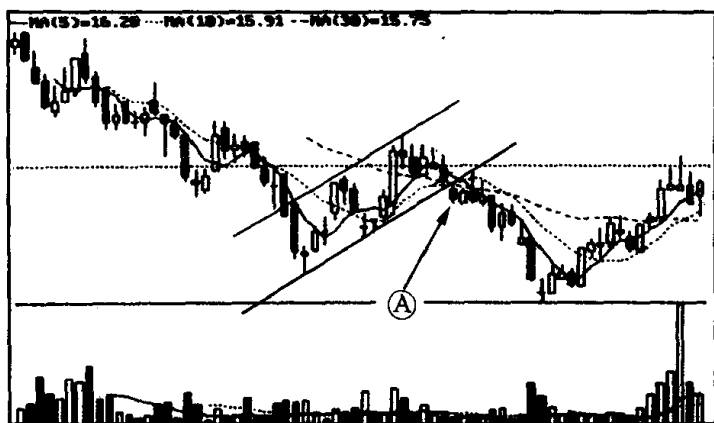


图 419

习题 124 仔细观察下图,回答下面问题:

(1)图中画方框处的技术图形叫什么名称?(2)何处是跌破支撑线的地方?跌破支撑线后,投资者应如何操作?

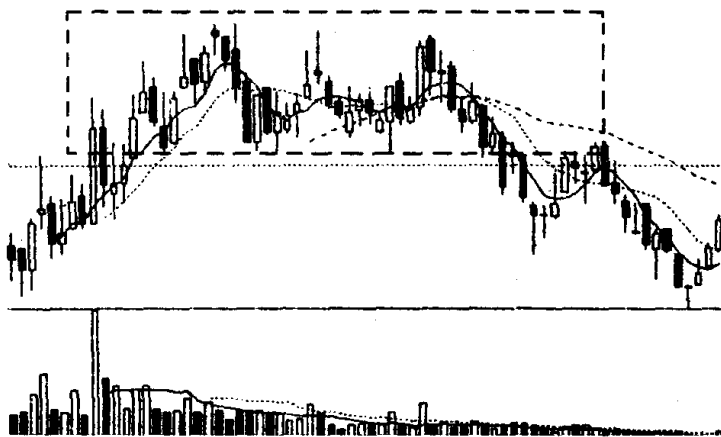


图 420

参考答案 (1)图中方框内的各高点与各低点一样几乎处于同一水平位置上,所以该技术图形为矩形。(2)从图中可知,A处的收盘价低于整理期间形成的低点连线。所以A处是跌破支撑线的地方(见图 421)。跌破支撑线后,投资者的最佳策略是抛股离场,并在短时期内不要再买进该股。

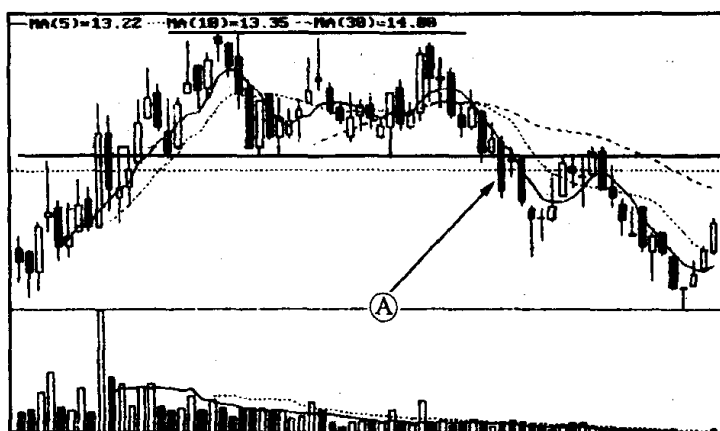


图 421

习题 125 仔细观察下图,回答下面问题:

(1)图中的头部是什么技术图形?(用画线的方式把这个技术图形标出来)? (2)何处是向下突破支撑线,停损离场的地方(用箭头将它指出来)?

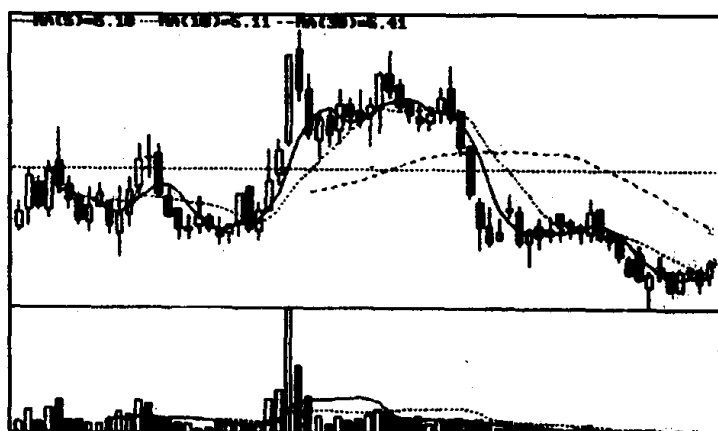


图 422

参考答案 (1)图中的头部是收敛三角形。(2)图中 A 处是向下突破支撑线,停损离场的地方(见图 423)。

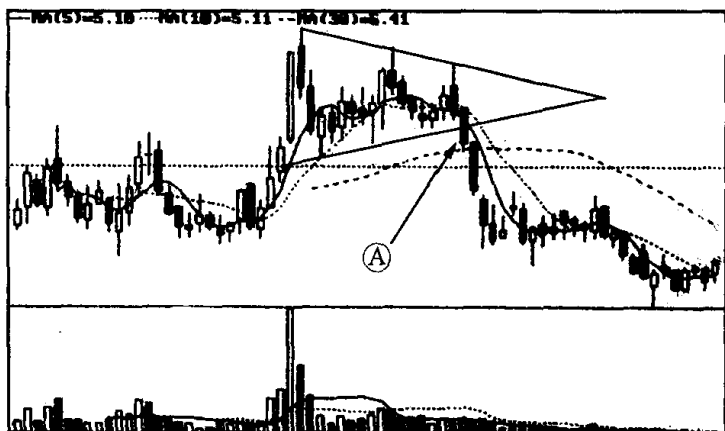


图 423

习题 126 请仔细观察下图,回答下面问题:

(1)用划线的方法标出图中的下降楔形,并指出哪一条是压力线,哪一条是支撑线?(2)投资者为什么可在 A 处跟进做多,在 B 处加码买进?

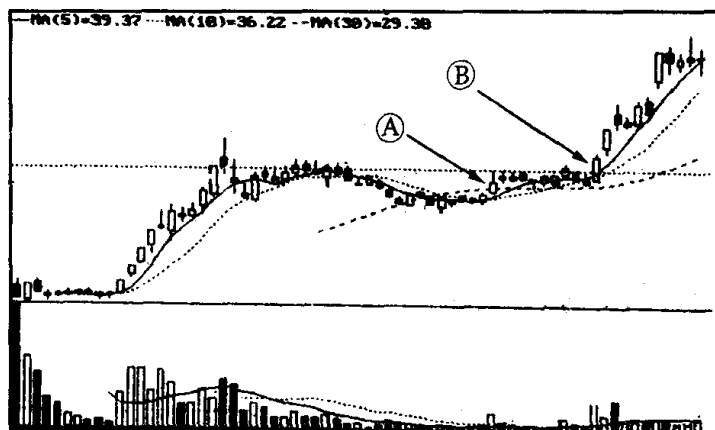


图 424

参考答案 (1)该图下降楔形的画线方法,以及关于下降楔形压力线、支撑线的说明见图 425。(2)图中 A 处的收盘向上突破了下降楔形的压力线,是多方的第一个买进点,所以投资者可在 A 处跟进做多。图中 B 处是下降楔形向上突破压力线后,进行短暂整理之后放量再创新高的地方,说明股价在这个点位已向上有效突

破。这是多方的第二个买进点，也是比较安全的买进点，故投资者在 B 处可加码买进。

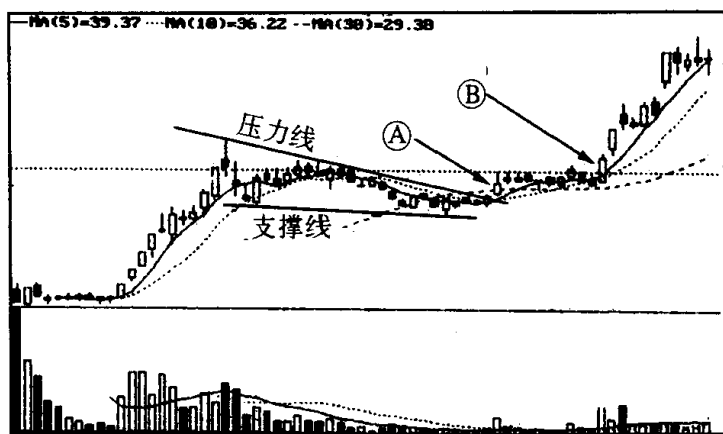
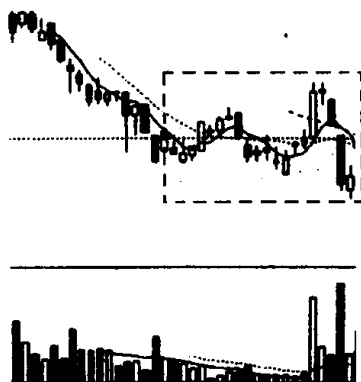


图 425

习题 127 请仔细观察下面两张图，回答下列问题：

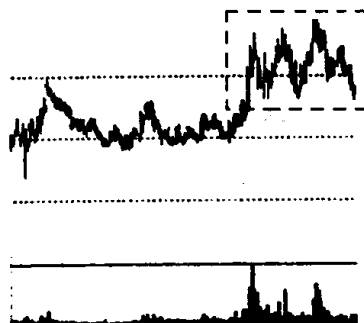
(1)图 426、图 427 方框内的图形同为什么技术图形？(2)它们有何不同之处？(3)投资者在运用该技术图形时应注意哪些问题？

参考答案 (1)图 426、图 427 方框内的技术图形同为扩散三角形。 (2)图 426 方框内的扩散三角形是较为标准的扩散三角形，高点之间的连线与低点之间的连线形成向右扩散状(见图 428)。图 427 方框内的扩散三角形是一种变异的扩散三角形，高点连线上



(该股往后走势见图 428)

图 426



(该股往后走势见图 429)

图 427

翘,但各低点之间的价位几乎处于同一水平位置(见图 429)。(3)当股价在一轮升势(包括反弹)后出现扩散三角形,表明股价已接近或处于头部区域。此时,投资者要注意以下两点:第一,要马上冷静下来,不再追涨,而要寻机退出观望。第二,收盘价一旦跌破扩散三角形的支撑线,即刻斩仓离场。

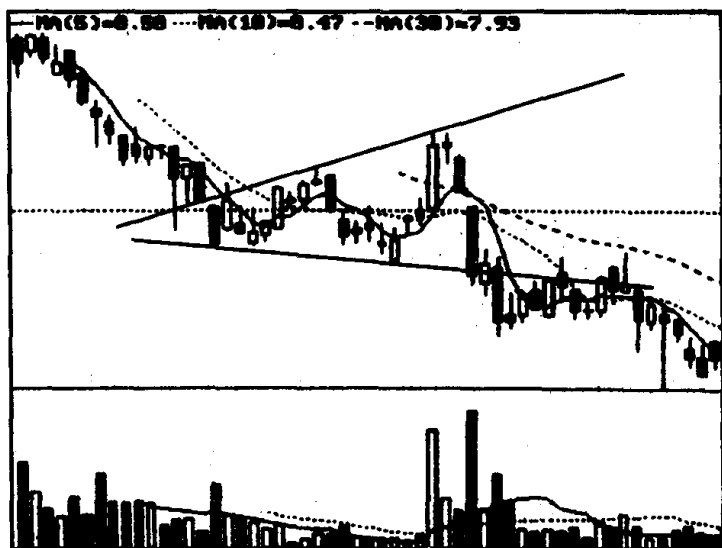


图 428

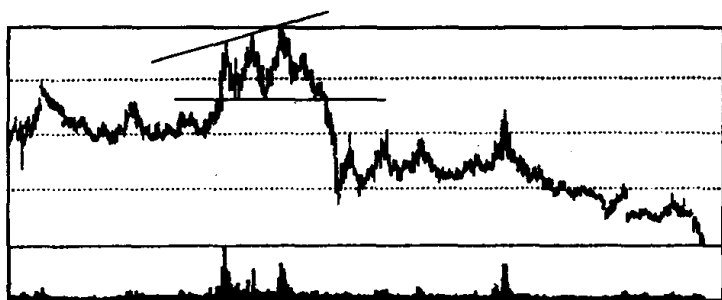



图 429

习题 128 请仔细观察下面两张图,回答下列问题:

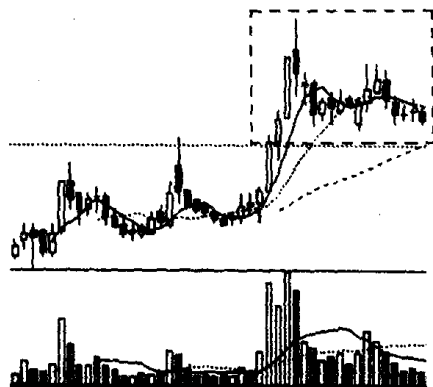
(1)图 430、图 431 方框内的图形分别是什么技术图形?(2)在图形特征上,它们有何相同和不同之处?(3)它们的各自技术含义是什么?

参考答案 (1)图 430 方框内的图形是上升三角形,图 431 方框内的图形是下降三角形,(2)它们相同之处是:上升三角形和下



(该股往后走势见图 432)

图 430



(该股往后走势见图 433)

图 431

降三角形的形状都像三角形,且都含有一条斜线和一条水平线。它们不同之处是:上升三角形的压力线为水平线,其支撑线是向上倾斜的一条直线(见图 432)。下降三角形的压力线是向下倾斜的,其支撑线是一条水平线(见图 433)。上升三角形的技术含义是:看涨信号,三角形整理后股价向上突破居多(少数会往下突破),但往上突破必须得到成交量的配合,否则很可能是假突破。下降三角形的技术含义是:看跌信号,三角形整理后股价向下突破居多(只有极少数的下降三角形在突发事件影响下,或在大成交量支持下,股价会向上突破)。

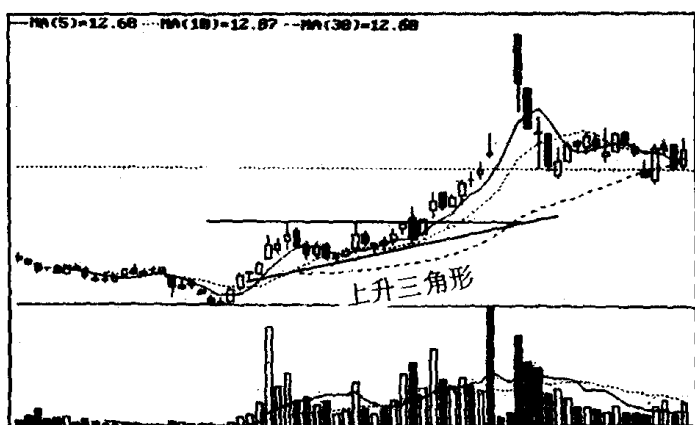


图 432

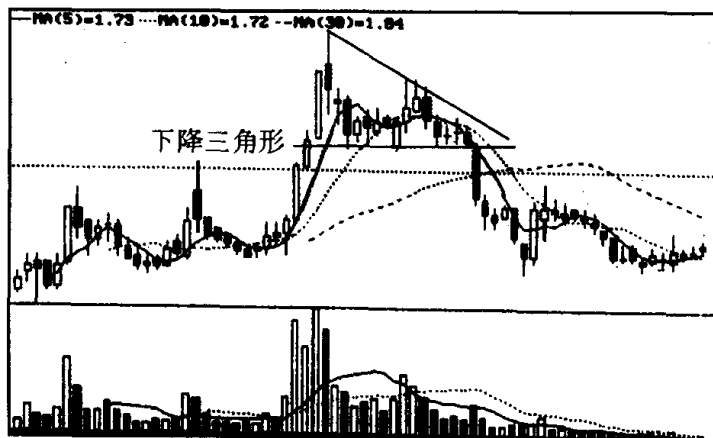
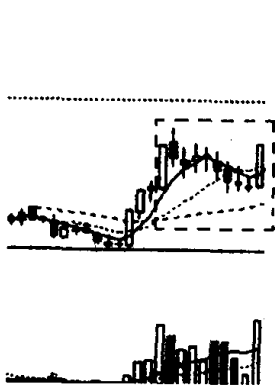


图 433

习题 129 请仔细观察下面两张图,回答下列问题:

(1)图 434、图 435 方框内的图形是什么技术图形?(2)在图形特征上,它们有何相同和不同之处?(3)它们的各自技术含义是什么?



(该股往后走势见图 436)

图 434



(该股往后走势见图 437)

图 435

参考答案 (1)图 434 方框内的图形是上升旗形,图 435 方框内的图形是下降旗形。(2)它们的相同之处是:上升旗形和下降旗形都具有两条同方向且相互平行的斜线,其形状很像一面旗帜的旗面。它们的不同之处是:上升旗形的各高点与各低点一样不断

下移,且它们的连线形成下倾的两条平行线(见图 436)。下降旗形的各高点与各低点一样不断上移,且它们的连线形成上倾的两条平行线(见图 437)。(3)上升旗形的技术含义是:看涨信号,旗形整理后股价往上突破居多,但突破时如得不到成交量的配合,就会进入突破无效状态,或是重新整理再蓄势,或是往下突破由涨转跌。下降旗形的技术含义是:看跌信号,旗形整理后往下突破居多(只有极少数在突发事件影响下,或在大成交量支持下才会向上突破)。

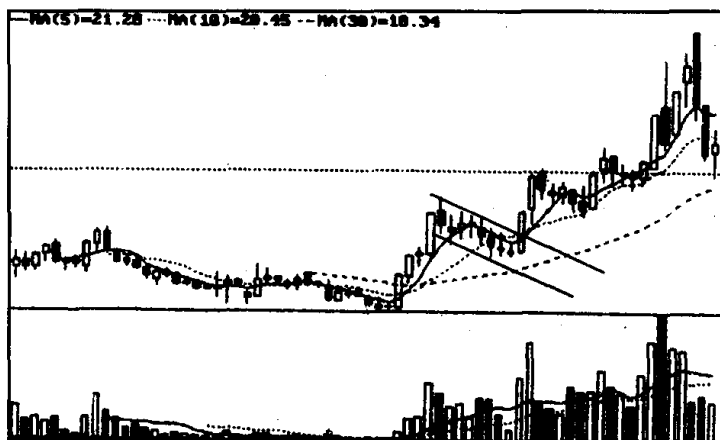


图 436

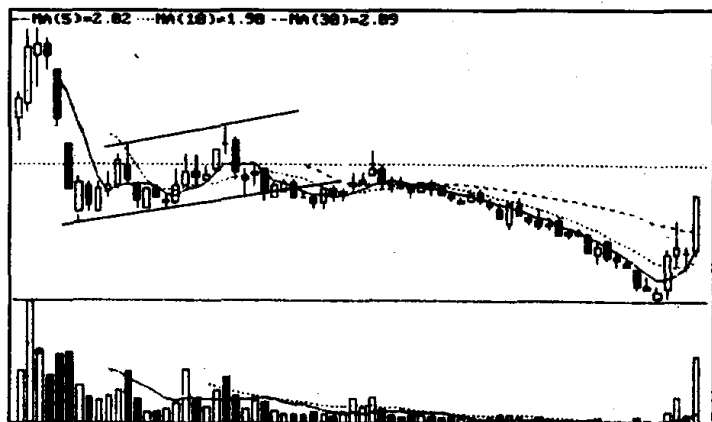
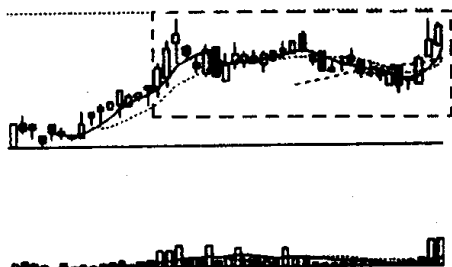


图 437

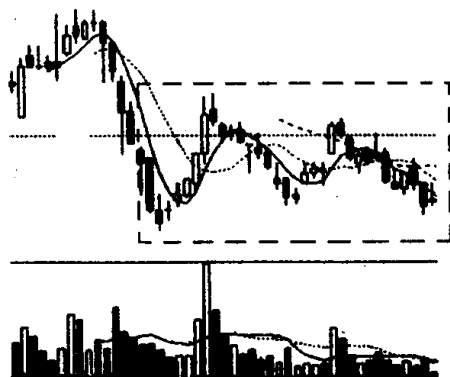
习题 130 请仔细观察下面两张图,回答下列问题:

(1)图 438、图 439 方框内的图形分别是什么技术图形？(2)图 438 中何处是投资者跟进做多的地方？图 439 中何处是投资者停损离场的地方？请分别在图中用箭头把它们指出来,并简要说明其中理由。



(该股往后走势见图 440)

图 438



(该股往后走势见图 441)

图 439

参考答案 (1)图438方框内的图形是上升旗形。图439方框内的图形是收敛三角形。(2)图440A点是投资者跟进做多的地方,因A点处股价已放量收于上升旗形压力线上方,市场明确地向投资者发出了买进信号。图441B点是投资者停损离场的地方。因为B点已跌破收敛三角形的支撑线,并收于支撑线下方,这时股价下跌信号已十分明确。所以,投资者在B点处应退出观望。

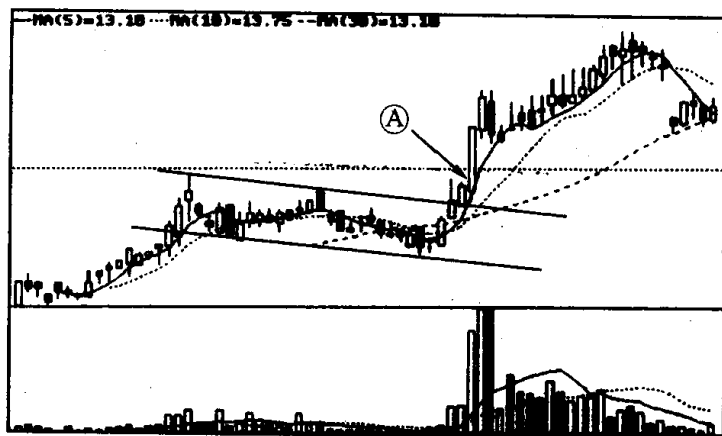


图 440

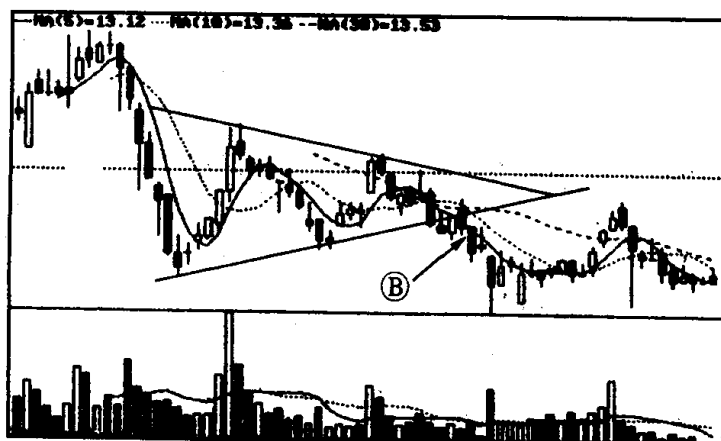
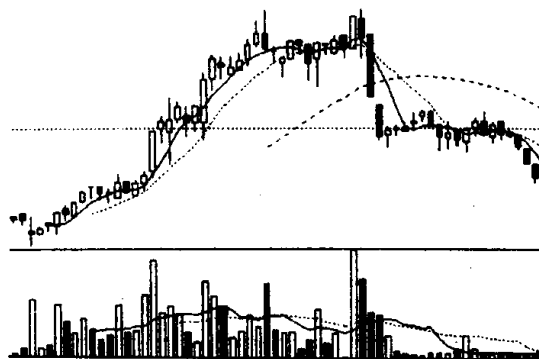


图 441

综合练习四

——技术图形的运用

习题 131 几天前,一位投资者看到了下图中的个股小量横盘整理,有一种跌不下去的感觉。又听说它是资产重组概念股,被套机构要拉高进行生产自救,所以他就买进了该股。但近两天他看看该股走势有点不对头,好像不是在往上跑,而是在往下跑。对此他也没有了主张,现在请你帮他参谋一下,应该怎样操作才好呢?



(该股往后走势见图 443)

图 442

参考答案 下跌途中出现小量横盘整理,确实会让人感到跌无可跌。其实懂得技术图形的人都知道,该股目前是一个矩形走势。矩形整理向上或向下突破均有可能,相对来说在下跌行情中出现矩形走势,向下突破的可能性稍大些。因此在情况不明的前提下,投资者就不应该盲目地看多,买进股票。通常,当一个股票经过一轮大的涨幅后,总要经过一轮不小的调整。当这位投资者了解这一规律后,也许以后就不会再对下跌途中的矩形走势轻易言底,买进股票了。刚才,听这位投资者说此股有被套机构要拉高,他在主力“拉高”前买进了该股。以我之见,股市上有了这样的传言,往往产生不了反弹行情,这是因为被套机构如真想要拉高就不太可能把这个秘密预先告

知大家,事情倒很有可能是主力利用这种传言在引诱中小散户接盘悄悄地派发筹码。从图中可以看出,今天的 K 线已经向下突破矩形的下边线,5 天、10 天、30 天移动平均线已产生空头排列,下跌的征兆十分明显,从该股走势分析,目前新一轮跌势仅是一个开始,下跌空间还很大(见图 443),为了摆脱越套越深的被动局面,我认为这位投资者现在就应该痛下决心,马上把筹码抛掉。

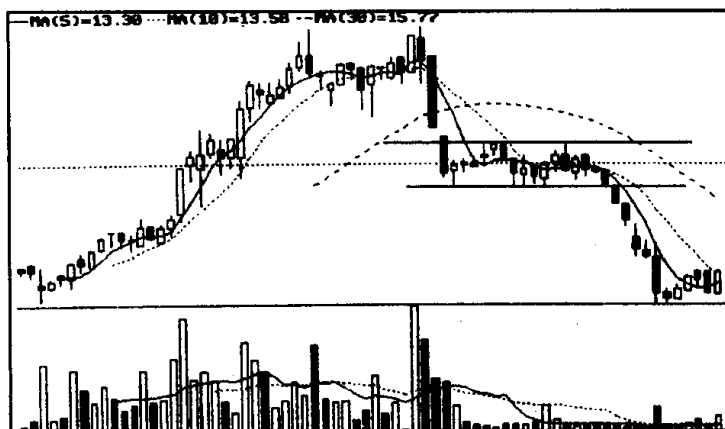



图 443

习题 132 你能识别下面走势图是个什么图形吗? 并分析该股下一步可能会朝什么方向运行? 投资者应如何操作为宜?



(该股往后走势见图 445)

图 444

参考答案 从走势图看,该股正在构筑一个大圆底。该股圆

底构造时间较长,向上突破可能性较大,投资者应密切关注。如股价一旦有效突破圆底的颈线位,就会呈加速上扬态势(见图 445)。空仓者可即时跟进,持筹者也可加码买进。如该股上冲颈线位失败,股价可能会出现回调。回调中多方究竟是蓄势后继续上冲,还是就此一蹶不振。这个现在都不好下结论。因此,投资者如发现该股冲击圆底颈线位失败,重仓者就应适时减磅,空仓者应继续观望。




图 445

习题 133 下图中的个股经过一番调整,这两天收了两根小阳线,底部也在逐步抬高,股价走势已有回暖迹象。请问现在能不能买进,为什么?



(该股往后走势见 447)

图 446

参考答案 不能买进。我不认为现在该股股价走势已经回暖。相反,我倒认为现在该股股价走势正在趋弱。从图形上看,目前该股正在一个收敛三角形框架里运行,股价底部在抬高,但高点也在逐渐下移。现在收敛三角形快要走到头了,向上向下近日就要见分晓(见图 447)。令人不安的是,该股前期创新高时放出天量,而随后成交量就大幅减少,这说明庄家在股价创新高时已经派发了大量筹码,接下来很可能他们趁机要对股价进行打压。另外,根据 K 线分析理论,在涨势中出现射击之星,并放出巨量,这就是一个明显的见顶信号,现在股价在见顶信号出现后,没有马上回落,而是进行三角形整理,反映了多方不甘心就此束手就擒,还在作拼命反抗。但股市本身有其运行规律,三角形整理总要寻找一个方向突破。从走势图上看,目前多方能量耗尽,已无力再将股价推高,形势正在朝着有利空方的方向发展。这里还有一个值得注意的信号是,该股的上升趋势线已经跌破,这对多方也极为不利。总之,从目前态势看,该股三角形走势最后向下突破的概率很大。因此,我认为现在不但不能买进该股,而且持有该股的投资者为了预防三角形往下突破带来的风险,可先进行减仓操作,如日后一旦发现股价跌破了收敛三角形的下边线就应及时抛空离场。

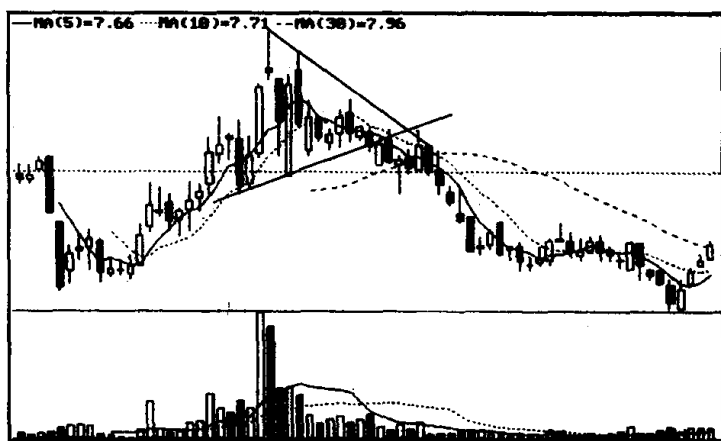


图 447

习题 134 下图中的个股在构筑头肩底,往上突破颈线后,第

三天收了一根阴线,之后再次放量上涨,收了两根中阳线。按股市技术理论分析。当股价突破颈线后,经回抽再度出现价升量增的情况,就可确认突破有效,买进即可持股待涨。那么为什么在股价突破颈线,经回抽后再度上升的 A 点处买进的投资者却被套住了,而且一路深套,不能自拔呢? 现在请你帮助分析一下这些投资者在操作上存在什么问题?

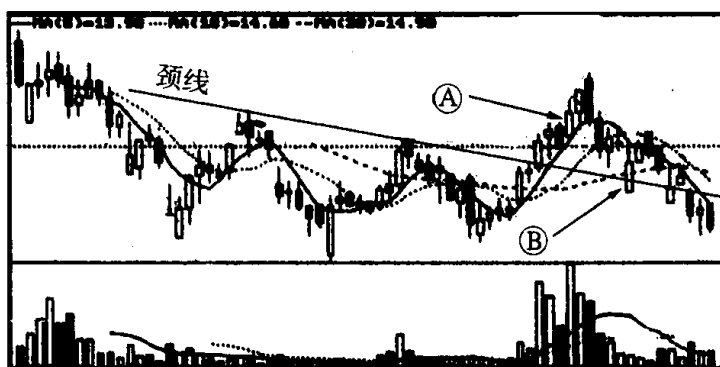


图 448

参考答案 该股在突破颈线后,第三天随即收了一根阴线,许多人认为这是股价突破后的一次回抽。如果该股再度发力,即可说明是突破有效,即可放心买进。其实如果把该股突破颈线后的几根 K 线连起来看,就可以发现,它整个都是涨势。突破颈线后的真正回抽并没有出现。而该股的真正回抽是发生在连涨几天,收了两根阴线之后处(见图中 B 点)。遗憾的是,当该股突破颈线后发生回调时,股价却开始走软,逐级往下盘落,从而宣告了多方近日调集重兵,放量突破,在遭到空方有力阻击下失败了。这里就引出了一个问题,不是每个股票在放量突破颈线后都会继续上涨。有的可能就这样一路涨上去,有的可能在突破颈线后经过回抽,确认突破颈线有效后再继续涨上去,有的可能在突破颈线后回抽时,一路下跌,宣告突破失败。至于具体到某一个个股上,究竟在放量突破后会出现那种情况,这就要看该股庄家实力、市场的认同程度、多空双方的力量对比了,这里就不能一概而论。正因为如此,投资者在某股放量突破颈线时,如要买进就必须考

虑以下几点：如果我是激进型的投资者，愿意承担较大风险，在股价放量突破颈线后就可买进。这可能风险大了，但机会也大了，例如 1999 年初昆明机床这个股票，在股价低位整理突破颈线后就一路飚升上去，甚至连象征性的回抽都没有。这时如果你硬要等股价突破颈线回抽确认有效后再买进，那只能是踏空而归。当然作为激进型投资者在作出这样的投资选择时，也必须同时作好停损离场的准备。即当你买进放量突破颈线的股票后发现它没有一路飚升上去，并出现了较大力度的回抽，这时你就要高度警惕，一旦察觉回抽演变成一轮下跌，就要敢于认错，及时停损离场。如果你是稳健型的投资者，不太愿意冒较大风险，那么可以在股价放量突破颈线，经回抽确认突破颈线有效，股价重新上涨时买进，这样可能收益要小些，但相对赢钱的把握就比较大。

当我们明白了这些道理以后，现在再回过头来看看这些投资者买进该股后操作上究竟出现了什么问题。假设他们是激进型的投资者，在图 A 点处买进该股，在图 B 点处就应该发现该股已无力上涨，股价重心下移，这时就应及时作出停损离场的决断。但他们没有这样做，而是眼睁睁地看着股价一路下沉，可见，这些投资者在买进时只想到该股上涨时会怎么样，而没想到该股放量突破

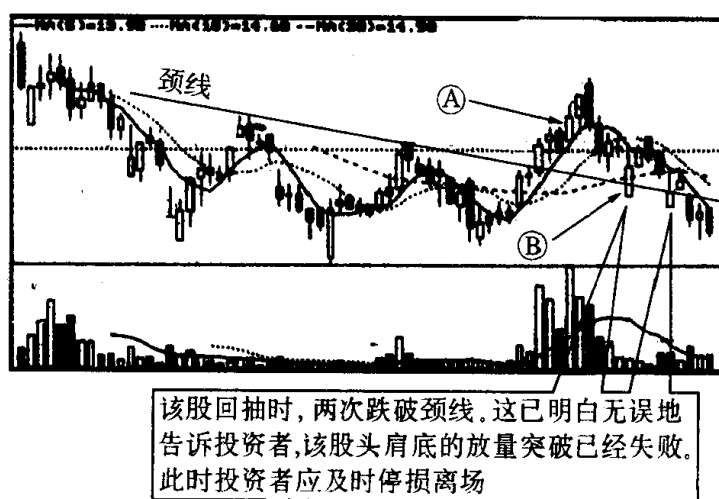


图 449

失败后会怎么样，因而也就没有预先作好停损离场的准备，所以被套住了(见图 449)。反过来说，他们不是激进型的投资者，而是个稳健型的投资者，那么就不应该在该股放量突破颈线位 A 点处买进，而应该在该股突破颈线回抽后，看突破是否有效，再作定夺。总之，无论这些投资者是属于激进型的投资者，还是属于稳健型的投资者，在买进该股时，操作上都存在严重失误。这个教训是很深刻的，我们一定要引以为诫。

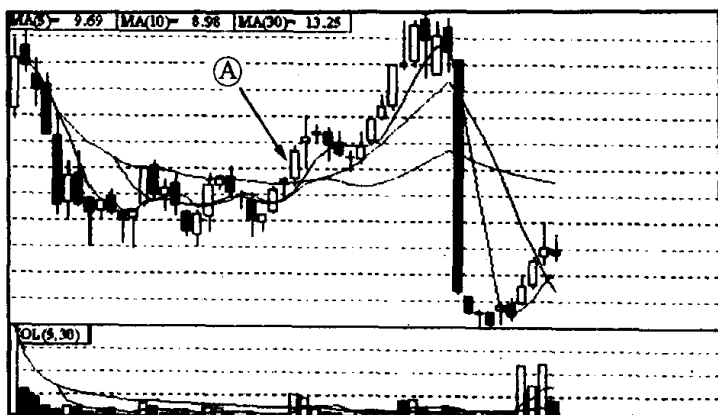
技术图形的识别和运用测验一

姓名 _____ 得分 _____

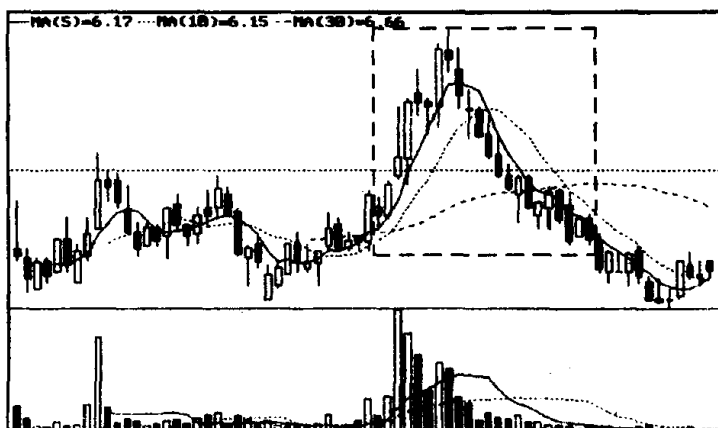
一、是非题(每题 2 分,共 8 分)

在下列各题后的括号内填上“对”或“错”。

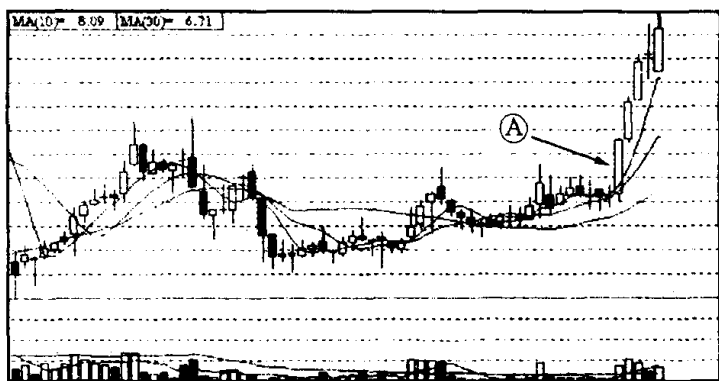
1. 图①A 处已放量上攻突破矩形的压力线。 ()
2. 图②方框内的图形是岛形反转。 ()
3. 图③投资者可在突破颈线位的 A 点处跟进做多。 ()
4. 图④方框内是扩散三角形。 ()



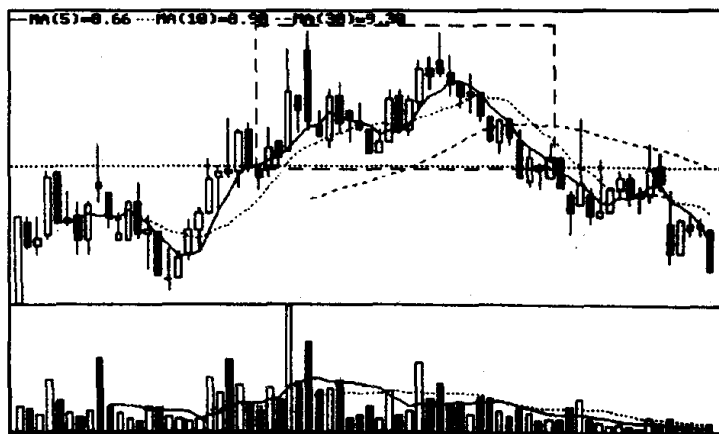
图①



图②



图③



图④

二、判断题(每题 2 分,共 8 分)

下面各个小题中都有两句话,其中只有一句话是正确的。请在正确的话后面打上“√”。

第一题:

(1) 一般来说,头肩顶形成时,头部的成交量要比左肩少,右肩成交量又要比左肩和头部少。 ()

(2) 一般来说,头肩顶形成时,头部的成交量要比左肩多,右肩成交量又要比左肩和头部多。 ()

第二题:

(1) 在技术图形理论上常提到有效突破这个概念,往上有效突

破是指股价连续 5 天收在颈线上方 10% 以上处, 往下有效突破是指股价连续 5 天收在颈线下方 10% 以下处。

(2) 在技术图形理论上常提到有效突破这个概念, 往上有效突破是指股价连续 3 天收在颈线上方 3% 以上处, 往下有效突破是指股价连续 3 天收在颈线下方 3% 以下处。

第三题:

(1) 通常, 上升三角形越早突破, 则后劲越足, 那些迟迟不能突破的三角形可能是庄家出货造成的陷阱。 ()

(2) 通常, 上升三角形越晚突破, 则后劲越足, 那些过早地突破的三角形可能是庄家出货造成的陷阱。 ()

第四题:

(1) 圆底历时较长, 过早的买入会将资金压死。因此, 必须等连续几天出现小阳线, 而成交量同步温和放大时买进。 ()

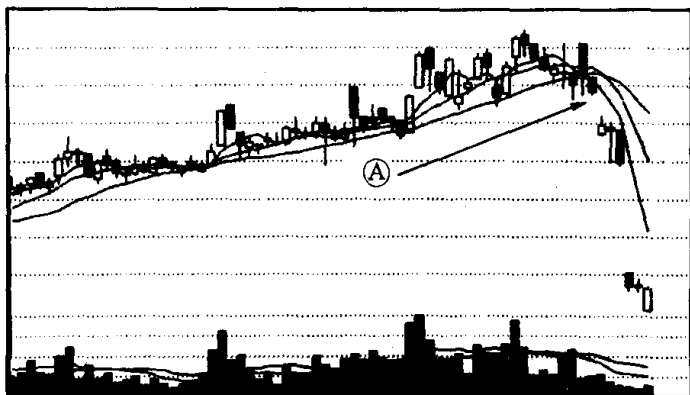
(2) 圆底历时较长, 过早的买入会将资金压死。因此, 必须等连续几天出现小阳线, 而成交量不断减少时买进。 ()

三、填空题(每题 2 分, 共 8 分)

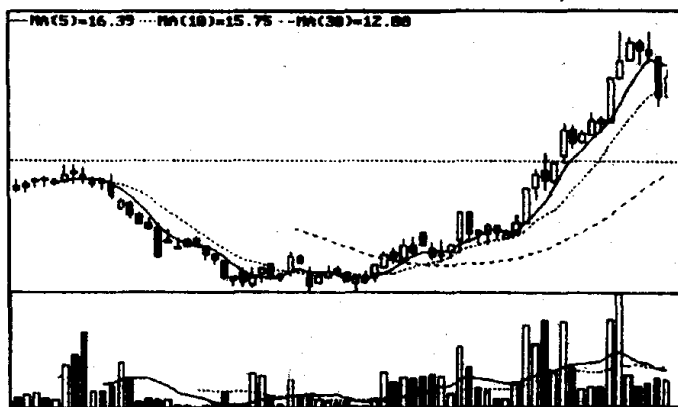
1. 图①A 处是向下()缺口, 该缺口形成, 表明股价还将继续下跌。

2. 图②是个()走势, 这是股市中常见的一个底部形态。

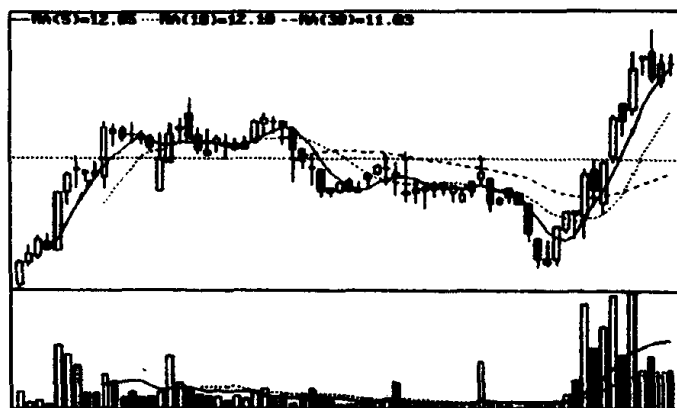
3. 图③中的个股下跌后一路上扬, 形成了一个()走势。



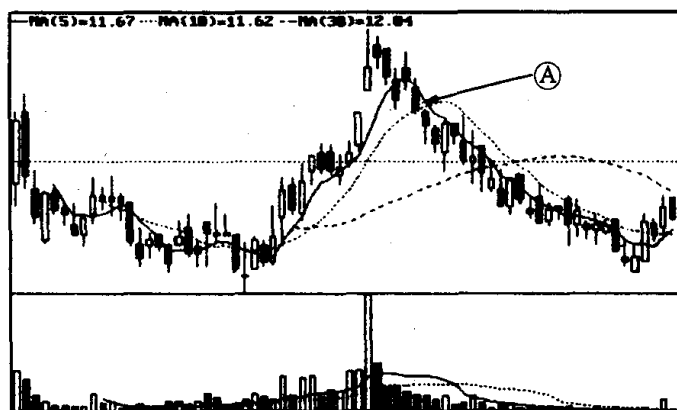
图①



图②



图③

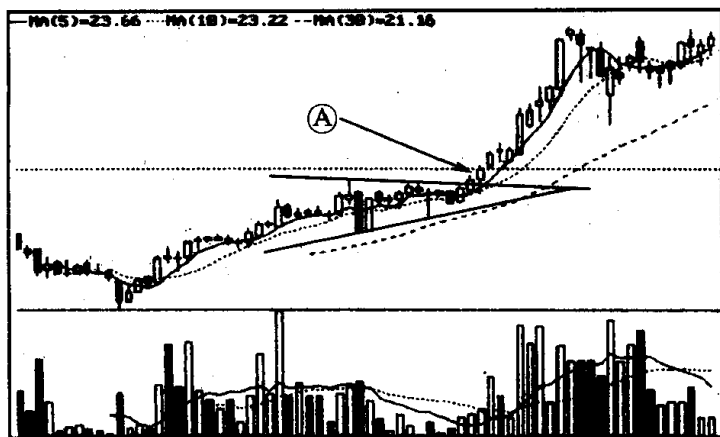


图④

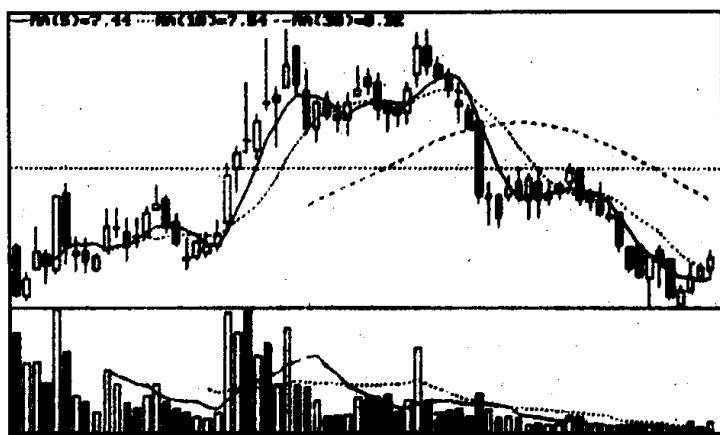
4. 图④A处的收盘已封闭了向上的跳空(),后市看淡,投资者应停损离场。

四、选择题(每题2分,共8分)

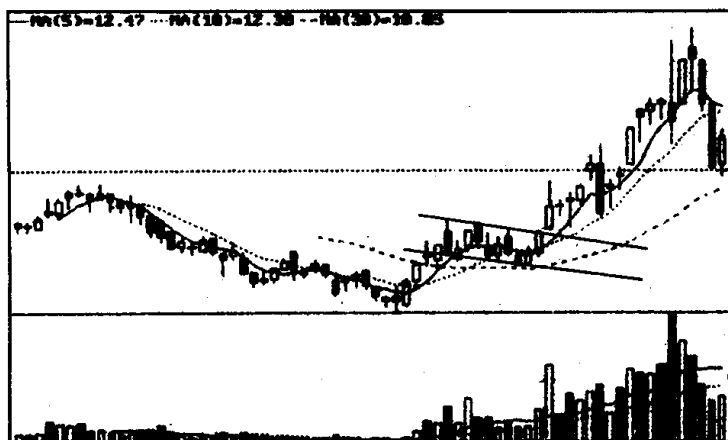
1. 图①A处向上突破了()的压力线。
A. 扩散三角形 B. 上升楔形 C. 收敛三角形
2. 图②头部是个()形态。
A. 圆顶 B. 头肩顶 C. 双顶
3. 图③画线处是()。
A. 上升旗形 B. 下降旗形 C. 矩形



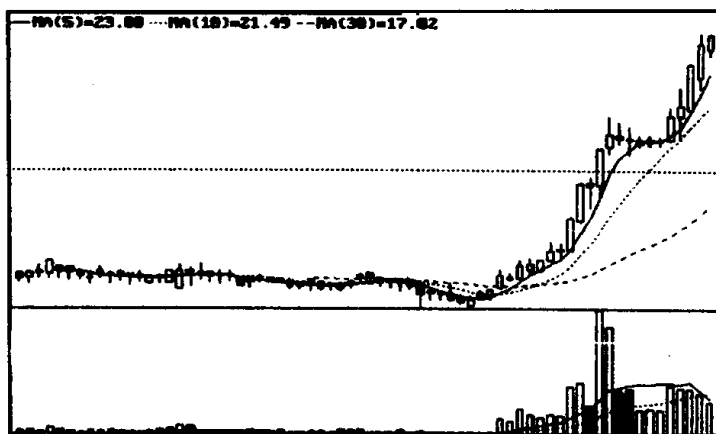
图①



图②



图③



图④

4. 图④底部是个()

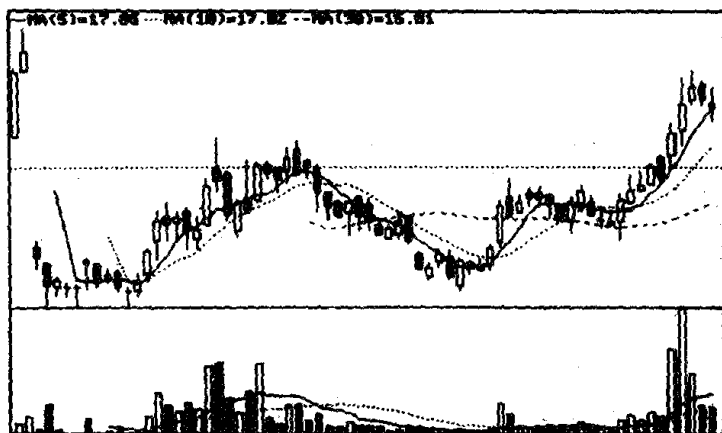
A. 圆底

B. 双底

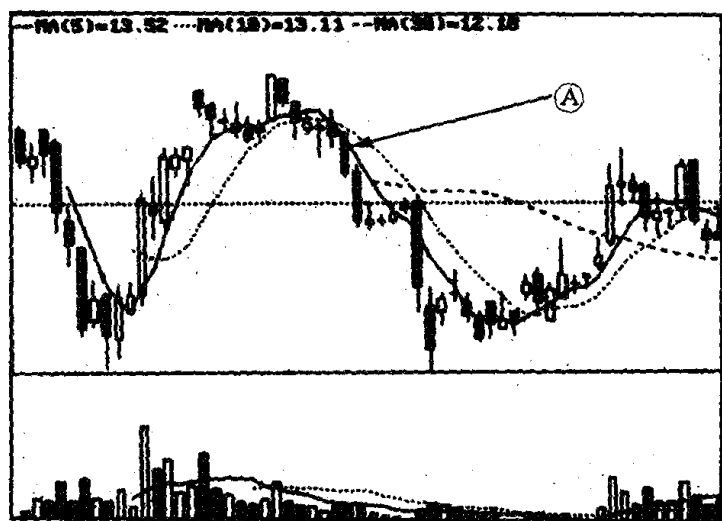
C. 潜伏底

五、简答题(每题 4 分, 共 32 分)

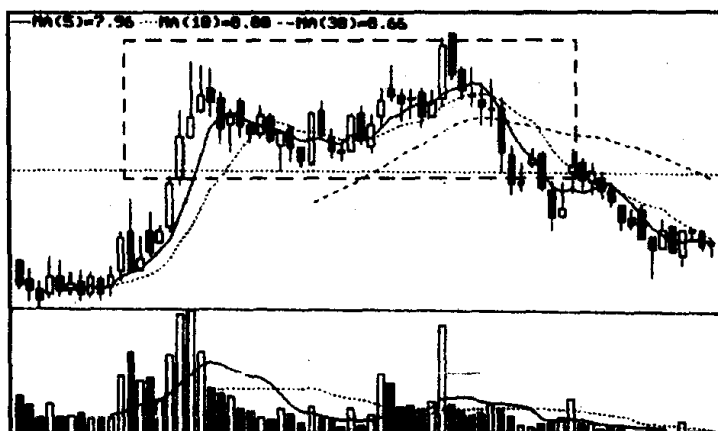
1. 仔细观察下图, 回答下面问题: (1) 图中的上升旗形的位置在何处? 用直线把它标出来。 (2) 上升旗形有何特征?



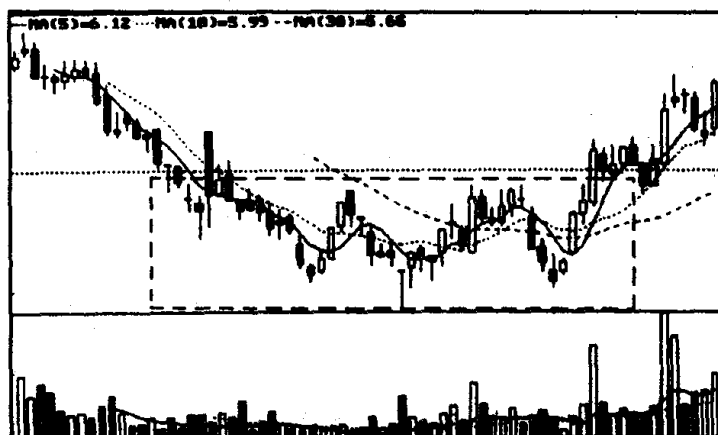
2. 仔细观察下图, 回答下面问题: 为什么在 A 处可以明显地看出该股短期走势已经转弱?



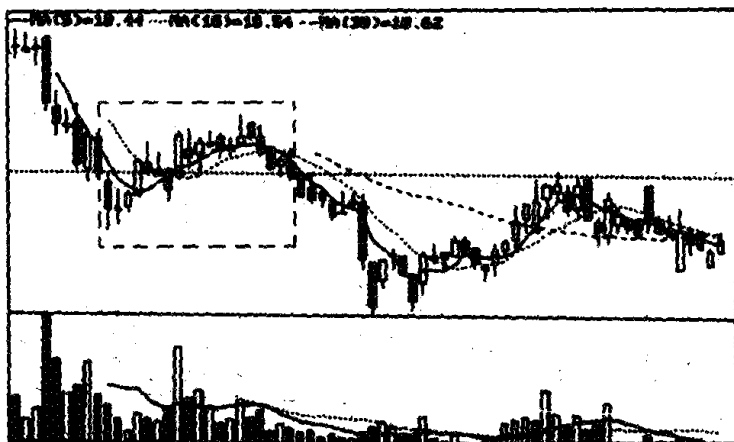
3. 仔细观察下图, 回答下面问题: (1) 为什么说该图方框内的图形是双顶? (2) 何处是投资者首选停损离场的地方?



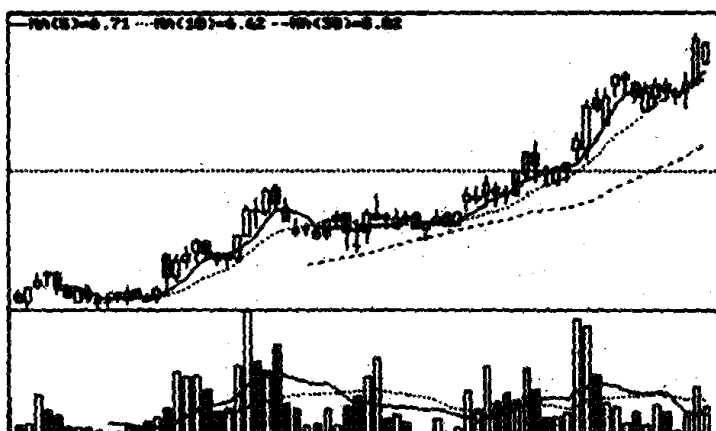
4. 仔细观察下图,回答下面的问题:(1)图中方框内的图形是矩形还是头肩底?(2)何处是投资者跟进做多的地方?



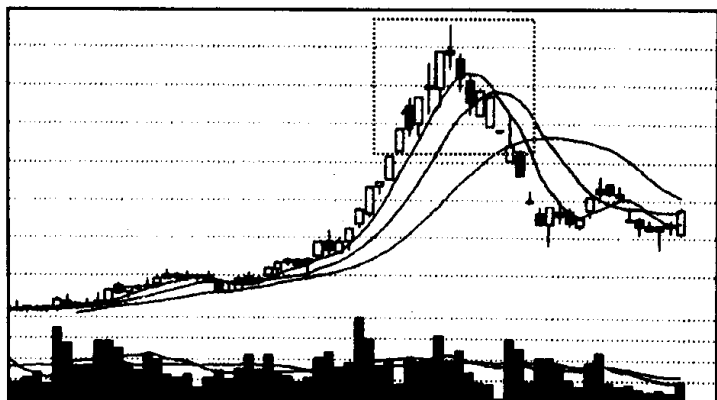
5. 仔细观察下图,回答下面的问题:(1)图中方框内的图形是下降旗形还是上升楔形?(2)何处是跌破支撑线的地方?



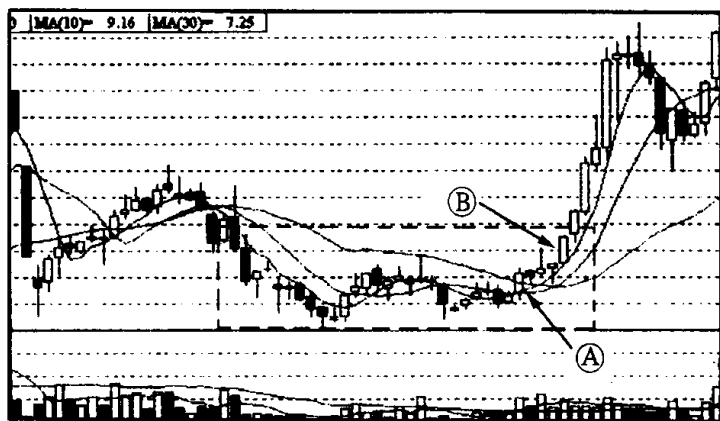
6. 仔细观察下图, 回答下面的问题: (1) 划出图中的收敛三角形, 并标出它的压力线和支撑线。 (2) 何处是投资者开始跟进做多的地方?



7. 仔细观察下图, 回答下面的问题: (1) 图中方框内的图形是倒置 V 形还是圆顶? (2) 投资者遇到这种技术图形应如何操作?

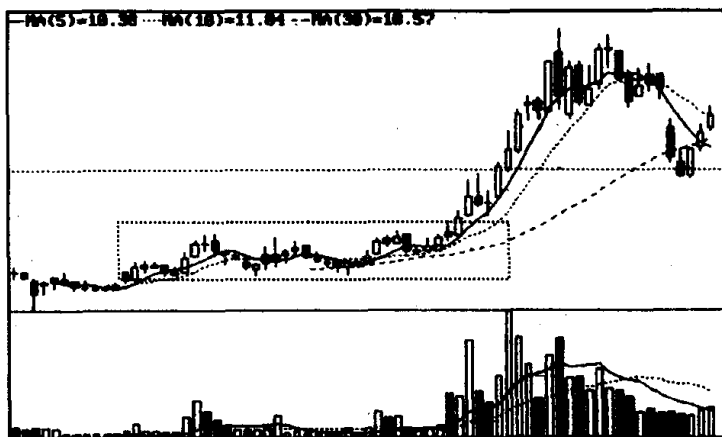


8. 仔细观察下图, 回答下面的问题: (1) 图中方框内的图形是什么技术图形? (2) 图中 A 处和 B 处, 哪一处是投资者跟进做多的地方?

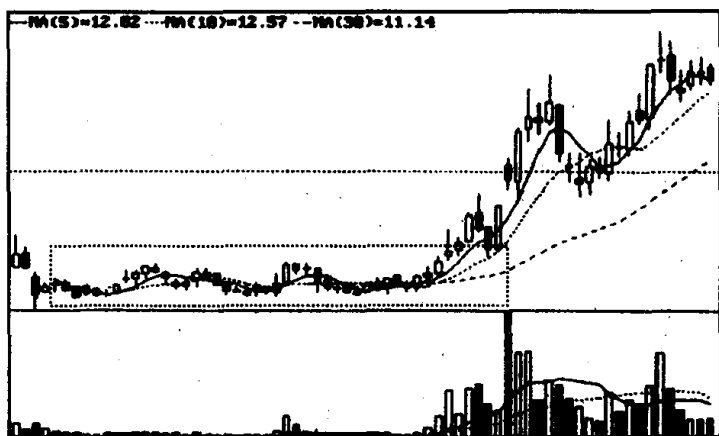


六、问答题(每题 9 分, 共 36 分)

1. 请仔细观察下面两张图, 回答下列问题: (1) 图①、图②方框内的图形分别是什么技术图形? (2) 它们有何相同和不同之处?

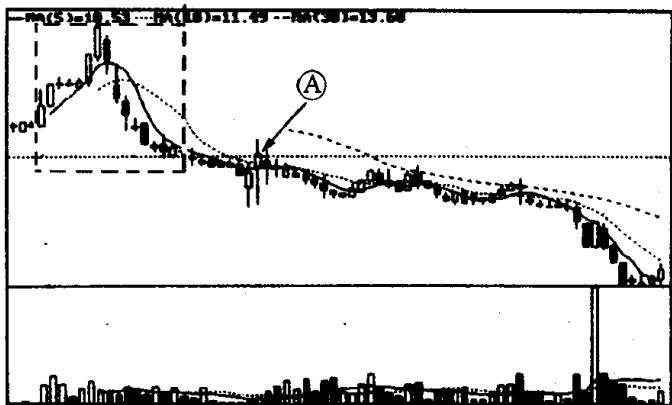


图①

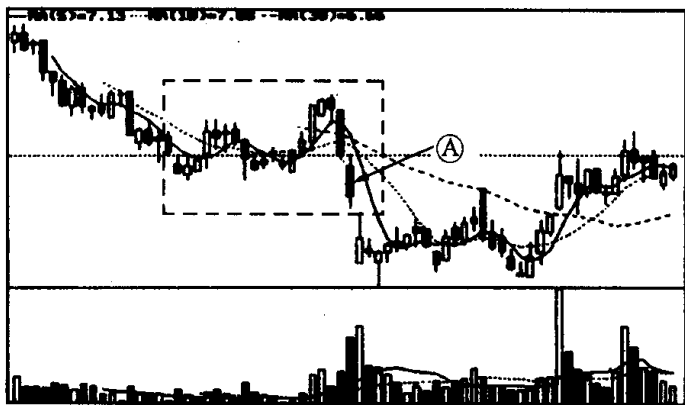


图②

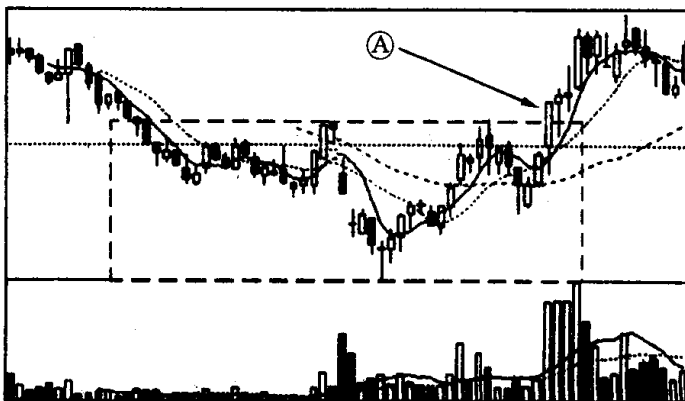
2. 请仔细观察下面 3 张图, 回答下面问题: (1) 图①、图②、图③方框内的图形分别是什么技术图形? (2) 为什么投资者在图①的 A 处不可做多? (3) 为什么投资者在图②的 A 处要停损离场? (4) 为什么投资者在图③的 A 处可跟进做多?



图①

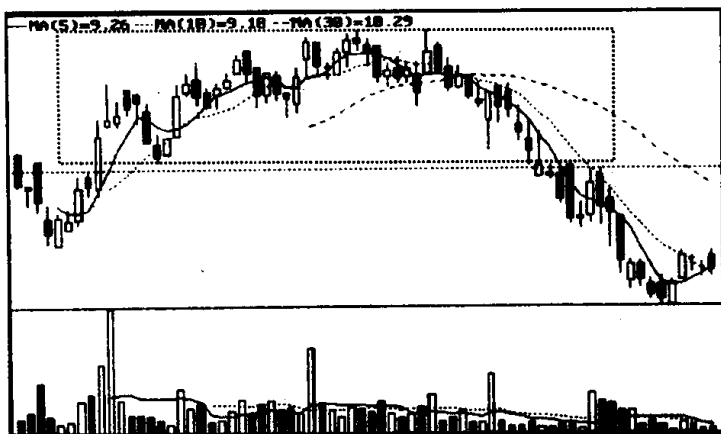


图②

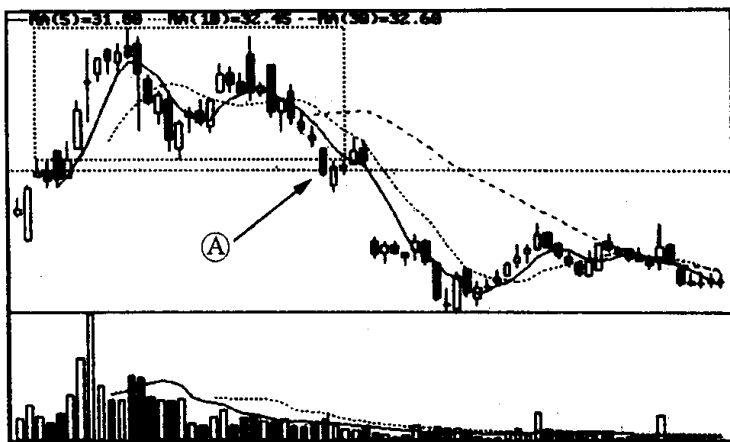


图③

3. 请仔细观察下面两张图,回答下面问题:(1)图①、图②方框内的图形分别是什么技术图形?(2)投资者遇到图①中的技术图形应如何操作?(3)为什么投资者在图②的 A 处要及时止损离场?

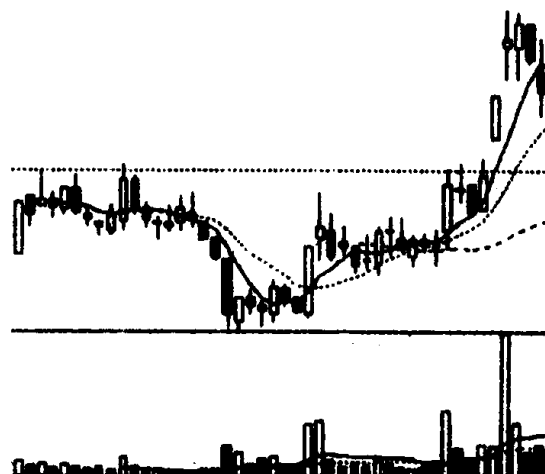


图①



图②

4. 下图显示,该股前几天发力向上,连续出现了两个向上跳空缺口,这两天上冲过猛,出现了回档。技术理论书上说,第一个缺口为突破缺口,第二个缺口为持续缺口,这两个缺口都是买进信号,只有出现第三个缺口,即竭尽缺口时,股价才会见顶。请问:现在我们能不能趁股价回档之际,买进一些股票?



技术图形的识别和运用测验一

参考答案

一、是非题

1. (对) 2. (错) 3. (对) 4. (错)

二、判断题

第一题(1) 第二题(2) 第三题(1) 第四题(1)

三、填空题

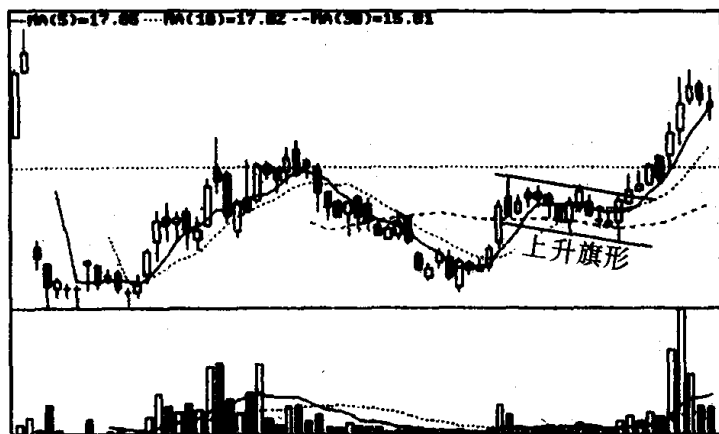
1. 突破 2. 圆底 3. V形 4. 缺口

四、选择题

1. C 2. C 3. A 4. C

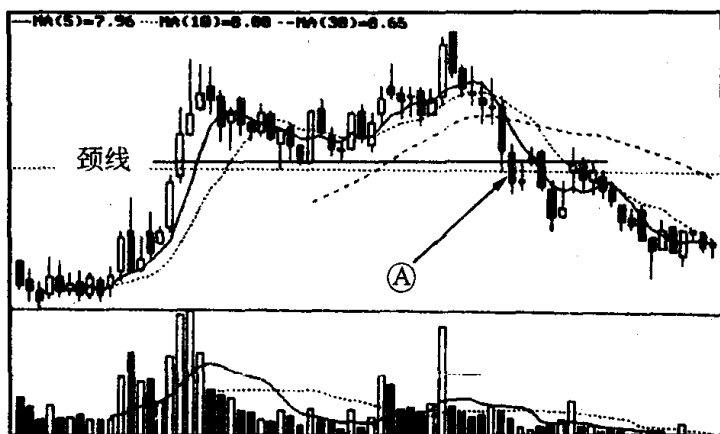
五、简答题

1. 参考答案：(1)上升旗形的位置在图中右下方(见下图)。
(2)上升旗形的特征是：在上涨过程出现高点不断下移，低点也不断下移，且各高点的连线与各低点的连线相互平行。

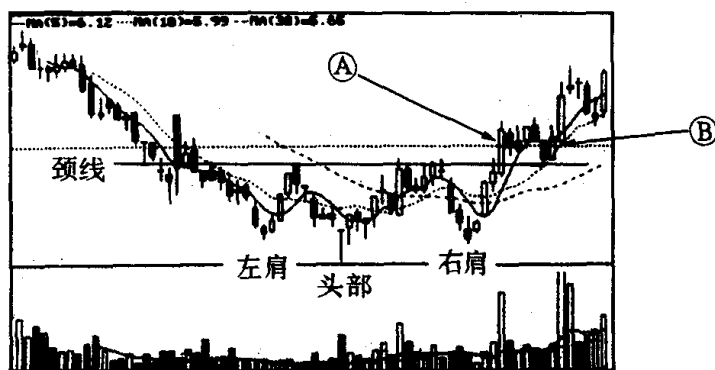


2. 参考答案：从图中可知，该股第一次上冲形成了一个圆顶走势，A处的收盘价已封闭了前期上冲的跳空缺口，说明多方气势遭到空方的有力抑制，所以，该股短期向淡也在预料之中了。

3. 参考答案:(1)所谓双顶就是在涨势中,股价第一次冲高回落,第二次上涨到前一高点附近再次滞涨回落,直至收于颈线下方的一种技术走势。所以,图中方框内的图形是双顶。(2)图中 A 处是投资者首选停损离场的地方(见下图)。因为 A 处的收盘价已收在双顶颈线的下方。

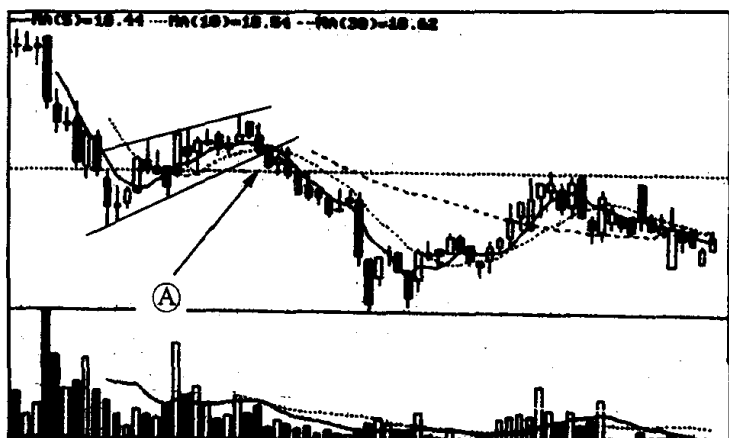


4. 参考答案:(1)各高点的连线平行于各低点的连线才称得上是矩形,而图中方框内的 3 个低点并不处于同一水平位置上,它们分别构成了头肩底的左肩、头部、右肩,所以图中方框内的图形是头肩底(见下图)。(2)因为 A 处的收盘价已站在头肩底的颈线上方,且伴随着巨大成交量,所以, A 处是投资者跟进做多的地方。当然,最稳妥的是在 B 处买进,因为 B 处已确认颈线被有效突破(见下图)。

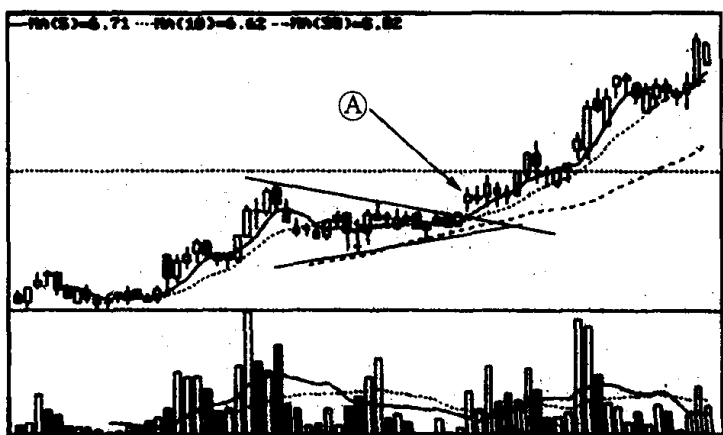


5. 参考答案:(1)图中方框内的图形是上升楔形,因为在下跌

过程中,高点的连线与低点的连线不相平行,这是上升楔形有别于下降旗形的一个主要特征(见下图)。(2)从图中可知,A处的收盘价跌破了上升楔形的低点连线,所以,A处是跌破支撑线的地方,也是投资者停损抛股离场之处(见下图)。

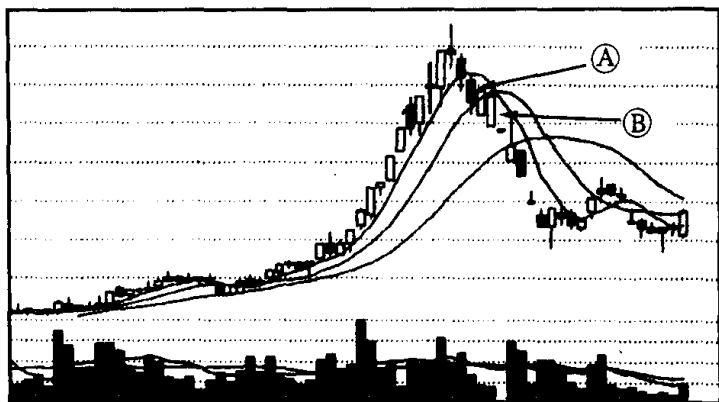


6. 参考答案:(1)将图中两个高点和两上低点用直线连起来,就成了一个收敛三角形(见下图)。(2)从图中可知该股在收敛三角形整理期间成交逐渐萎缩,甚至极度萎缩,之后股价放量收于压力线上方,A处就是它的突破点。所以,A处是投资者开始跟进做多的地方(见下图)。

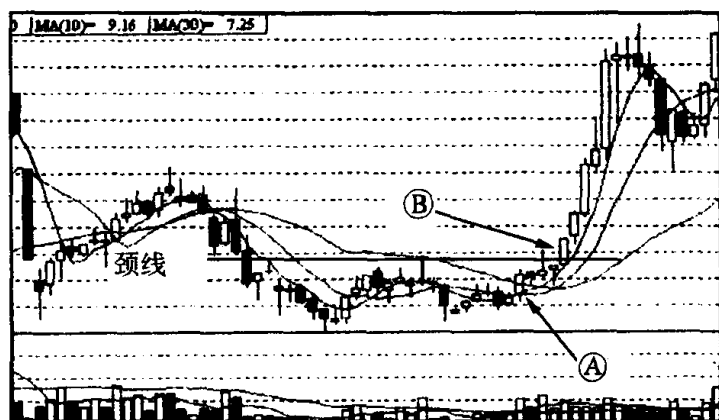


7. 参考答案:(1)图中方框内的图形是倒置V形。(2)投资者

一旦遇到倒置 V 形走势的股票,要及时停损离场。第一停损点可选择在 A 处,因为在这之前的一根螺旋桨 K 线已发出见顶信号,之后接连出现二根阴线,初步形成了倒置 V 形走势。第二停损点可选择在 B 处,因为此时倒置 V 形已经形成,反弹时出现价量背离走势,且股价收于 10 日平均线的下方,继续下跌几成定局。



8. 参考答案:(1)图中方框内的图形是双底。(2)从图中可看出 A 处的收盘价没有高于颈线,而 B 处的收盘价已在颈线上方(见下图)。所以,B 处是投资者跟进做多的地方。



六、问答题

1. 参考答案:(1)图①方框内的图形是矩形(见下图 A),图②方框内的图形是潜伏底(见下图 B)。(2)它们相同之处是:都在某一范

围内上下波动。其上边线和下边线呈水平状。它们的不同之处是：矩形上下波动范围一般要比潜伏底上下波动幅度要大。前者多为一个长方形形状，后者多为一条狭长的带状。矩形可形成于涨势中，也可形成于跌势中，成交量减少，但没有出现极度萎缩。表明多空双方处于一种相持阶段。矩形的技术含义是：整理信号。多空双方都在蓄势，寻求突破，向上、向下都有可能。潜伏底形成于一轮大跌势之后，成交清淡，成交量出现极度萎缩，表明多空双方对它关心程度越来越弱，它已被市场遗忘。潜伏底的技术含义是：筑底信号。一旦筑底成功，放量上冲，其上升空间就很大。另外，潜伏底整个图形构筑时间要比长方形长得多，这也是它们之间的一个重要区别。

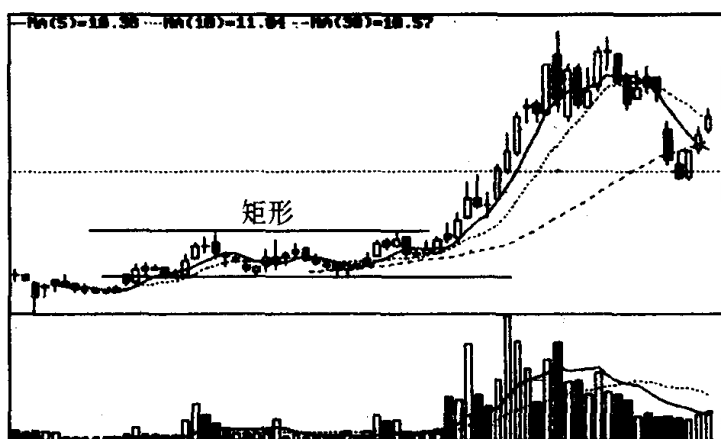


图 A

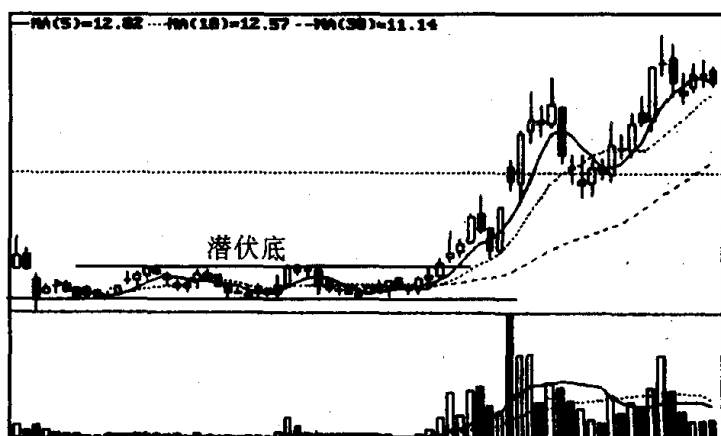


图 B

2. 参考答案：(1)图①方框内的图形是倒置 V 形(见下图 A)。图②方框内的图形是扩散三角形(见下图 B)。图③方框内的图形是头肩底(见下图 C)。(2)虽然图①中的个股快速下跌形成倒置 V 形后,至 A 处的跌速已经变得很慢,并拉出了两根小阳线,但成交量却极度萎缩并无新资金加入。说明 A 处仍处于下跌趋势中,所以,投资者不可在 A 处做多,买进筹码(见下图 A)。(3)从图②中可得知 A 处的收盘价已低于支撑线,所以,投资者应采取停损离场的策略(见下图 B)。(4)从图③中可得知 A 处已放量收于头肩底的颈线上方,且量价配合较佳,所以,投资者可跟进做多(见下图 C)。

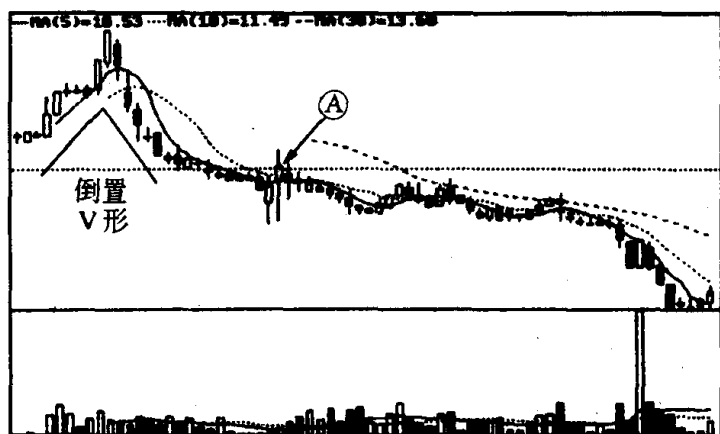


图 A

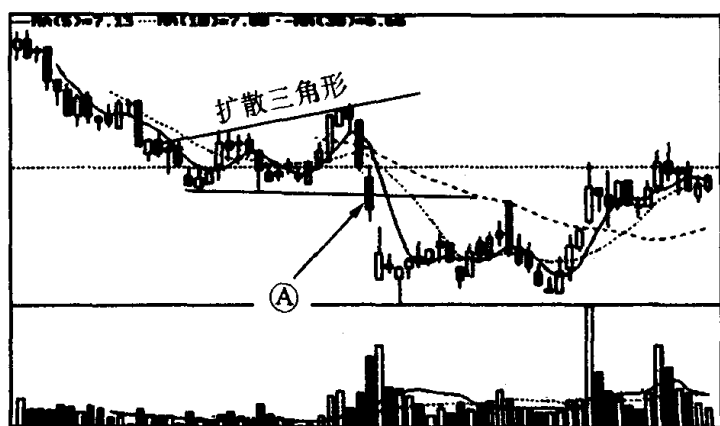


图 B

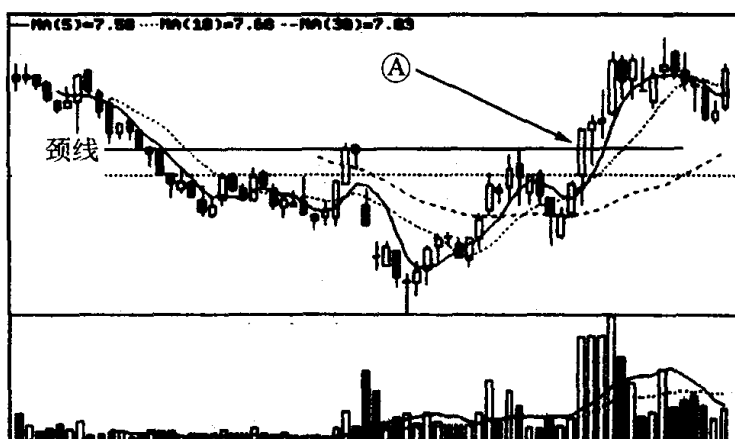


图 C

3. 参考答案:(1)图①方框内的图形是圆顶(见下图 A)。图②方框内的图形是双顶(见下图 B)。(2)投资者在图①的A处即应开始离场,如不抛空至少也要抛掉一半筹码。因为从图上看,此时圆顶征兆已表现出来。到图中B处应全部清仓出局,这时圆顶走势已经形成股价下跌速度越来越快,并已跌破下档支撑线,如再不逃跑,就会深度套牢(见下图 A)。(3)从图②中可看出,A处的收盘价已跌破了双顶的颈线(见下图 B)。一般来说,双顶形成后股价要有一段时间下跌。所以,投资者在A处要及时止损离场。

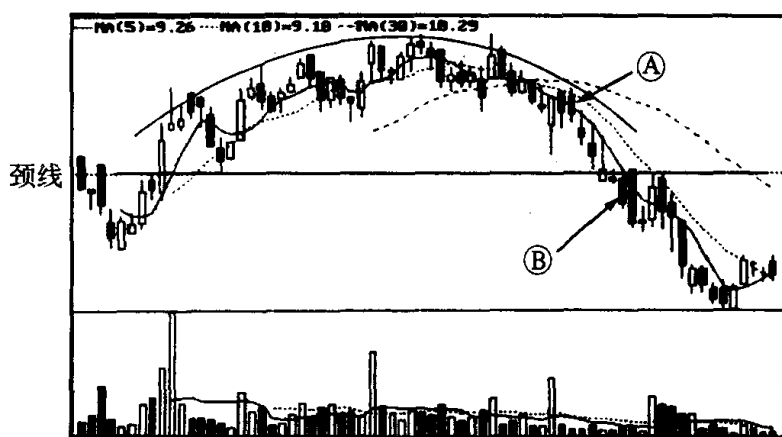


图 A

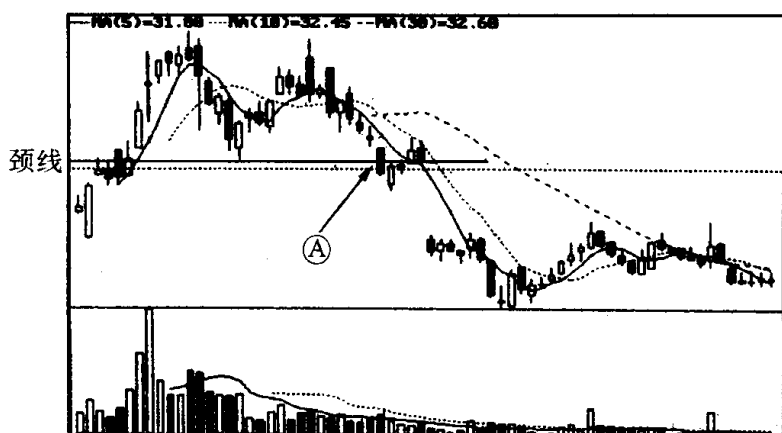
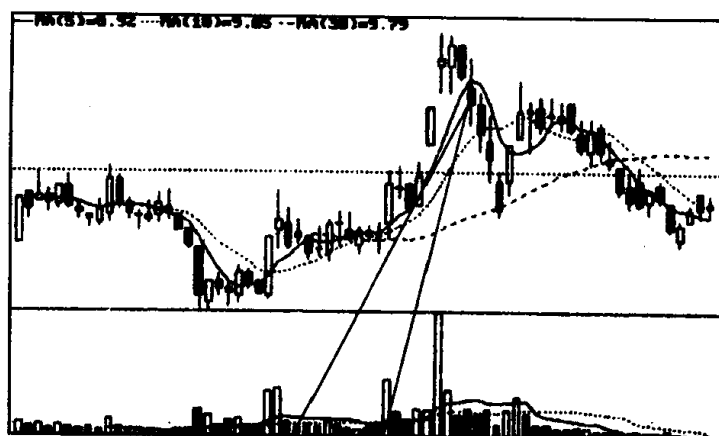


图 B

4. 参考答案:不能买进。有很多人只知道向上突破缺口、向上持续缺口能支持股价上涨,是买进信号。但没有想到向上跳空缺口不能被封闭,一旦被封闭,助涨就会变成助跌,市势就会发生变化。就如图中的个股,现在尽管它只出现了两个跳空缺口,还没有出现第三个跳空缺口,似乎股价上升动力还很强,但今天的一根阴线已将第二个缺口封闭,还击穿了5日均线,这就不能简单的认为是上冲后的回档了。当然我们还不能就此肯定今天这个缺口被封闭是有效的,这要等两天才能看得清楚。但是现在无论怎么说,这个向上持续缺口出现才三、四天功夫,就被空方封闭,这对多方来说是件相当严重的事。另外,该股在出现第二个缺口时,拉出的是一根螺旋桨K线。一般来说,在上升趋势中出现螺旋桨K线有涨势穷尽的意味,再加上当天还放出巨量,这就更有见顶之嫌了。总之,这种走势已经明白地告诉我们,该股正在转弱。在此情况下,我们又怎么能去买进该股呢?我认为现在的形势于多方不利,投资者应进行减磅操作。如若日后两天股价不能回到缺口上方,就证明今天缺口封闭是有效的,即应及时退出观望。

附:图中个股封闭向上跳空缺口后的走势图。



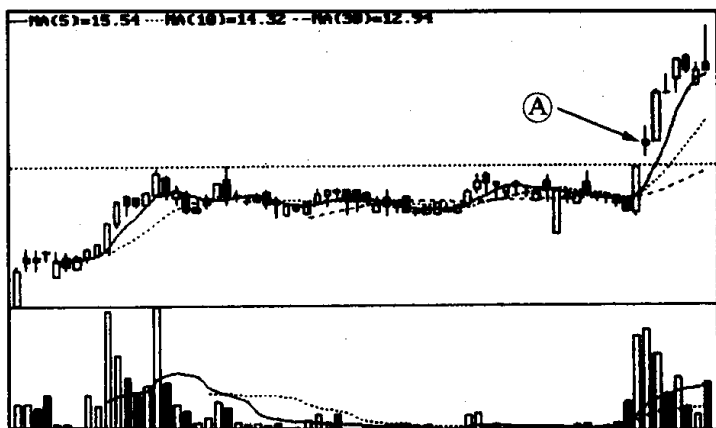
技术图形的识别和运用测验二

姓名_____得分_____

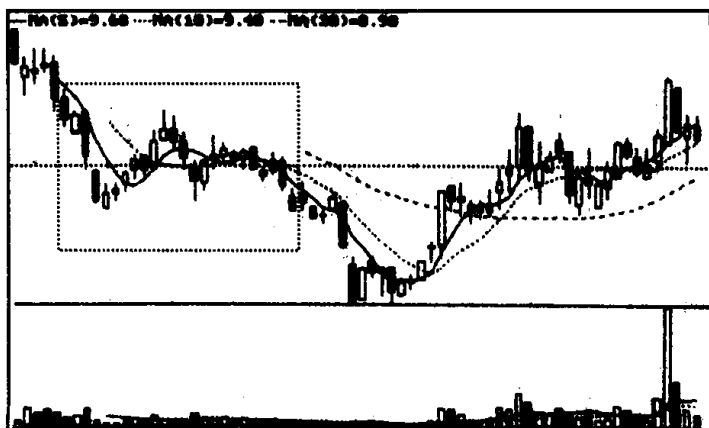
一、是非题(每题 2 分,共 8 分)

在下列各题的括号内填上“对”或“错”。

1. 图①A 处是放量上攻突破压力线的地方,且留下了一个突破缺口。()

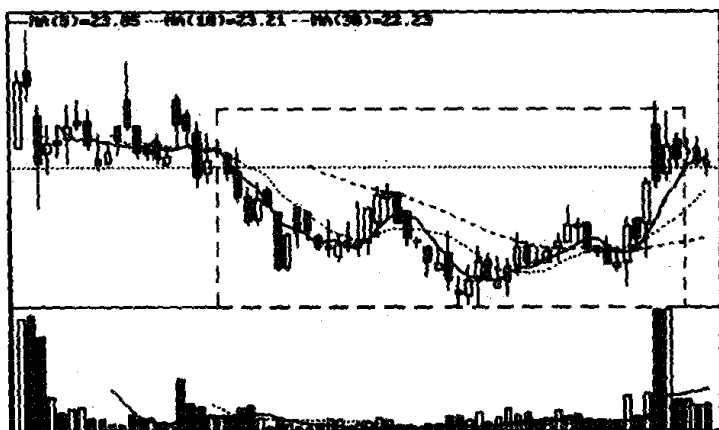


图①

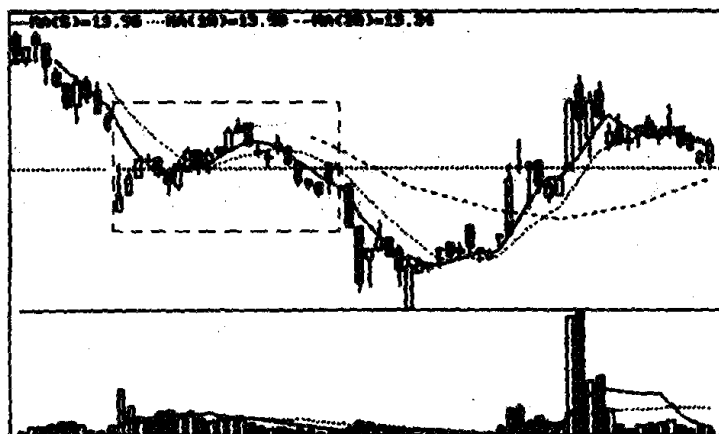


图②

2. 图②方框内是个收敛三角形。 ()
3. 图③方框内是个头肩底。 ()
4. 图④方框内是个扩散三角形。 ()



图③



图④

二、判断题(每题 2 分,共 8 分)

下面各个小题中都有两句话,其中只有一句是正确的。请在正确的话后面打上“√”。

第一题:

(1) 头肩底形态中有两个最佳买入点。第一个是在刚刚突破颈线时,这属于比较激进的买进点;第二个是在回抽颈线止跌回升

处,这属于比较稳健的买入点。()

(2) 头肩底形态中有两个最佳买入点。第一个是在即将突破颈线之时,这属于比较激进的买进点;第二个是在回抽颈线并跌破颈线时,这属于比较稳健的买入点。()

第二题:

(1) 底部三角形的最佳买入点是在三角形尖端之后,当股价从极度虚弱中复苏,刚开始小幅上扬之时。()

(2) 底部三角形的最佳卖出点是在三角形尖端之后,当股价从极度虚弱中复苏,刚开始小幅上扬之时。()

第三题:

(1) 矩形在形成过程中成交量持续在较高水平,则很可能是庄家在悄悄地出货,其向下突破概率居多,投资者必须高度警惕。()

(2) 矩形在形成过程中成交量持续在萎缩水平,则很可能是庄家在悄悄地出货,其向下突破概率居多,投资者必须高度警惕。()

第四题:

(1) 收敛三角形向上突破之前就会有征兆表现出来,从价量关系上分析,如果形态要向上突破,则每次回落之时成交量必然迅速放大,而反弹时成交量却在不断的减少。()

(2) 收敛三角形向上突破之前就会有征兆表现出来,从价量关系上分析,如果形态要向上突破,则每次回落之时成交量必然迅速减少,而反弹时成交量在不断的放大。()

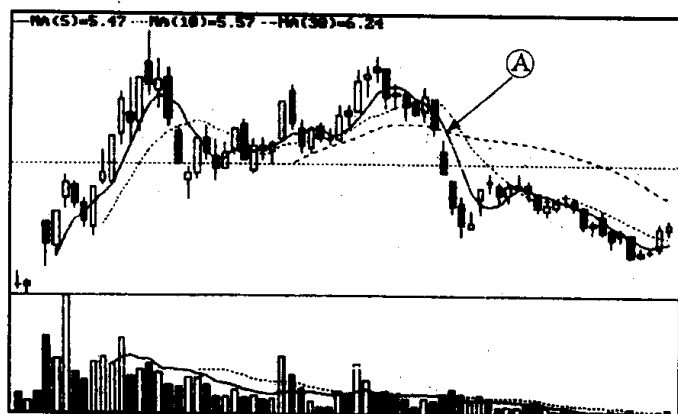
三、填空题(每题 2 分,共 8 分)

1. 图①A 处留下了一个()缺口,股价出现持续性下跌。

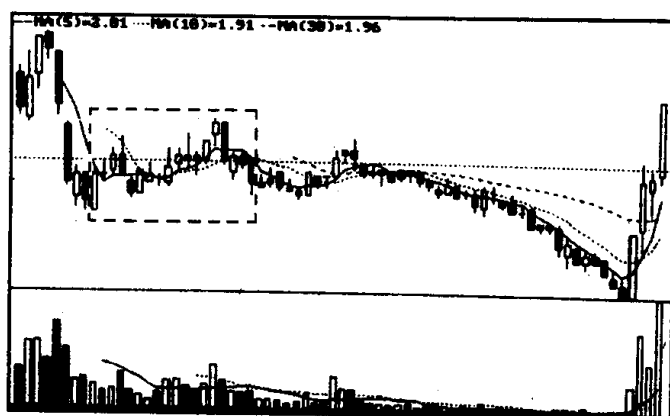
2. 图②方框内是个(),它仅是个下跌途中的一次小反弹。

3. 图③方框内是个(),在跌势中出现这种图形,以向下突破居多。

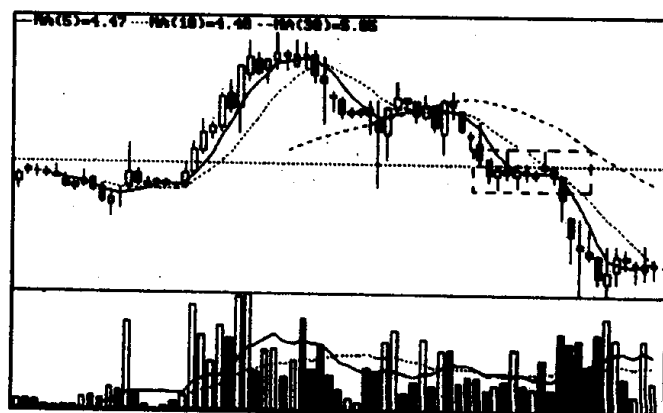
4. 图④A 处已突破了()三角形的上档压力线,股价再次往上攀升。



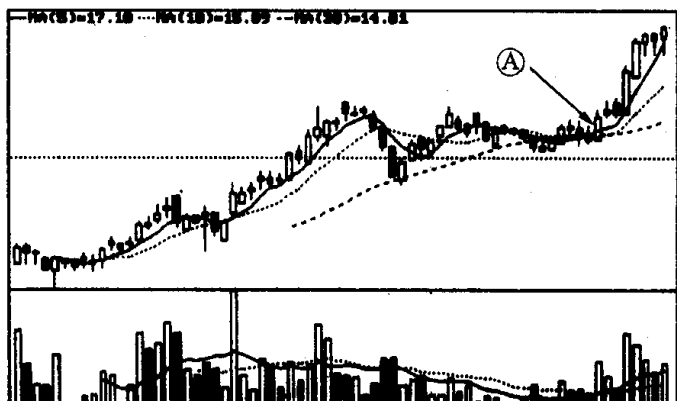
图①



图②



图③



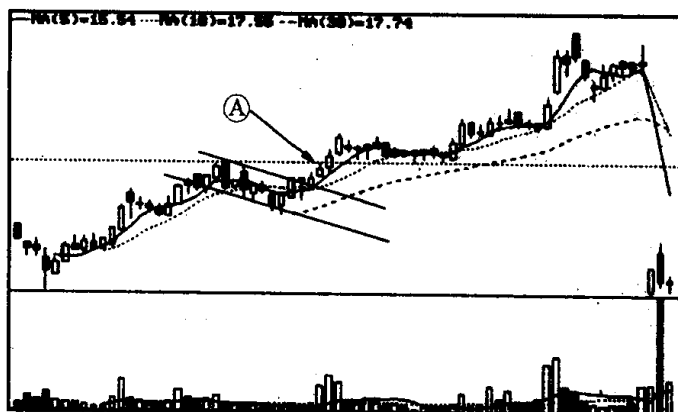
图④

四、选择题(每题 2 分,共 8 分)

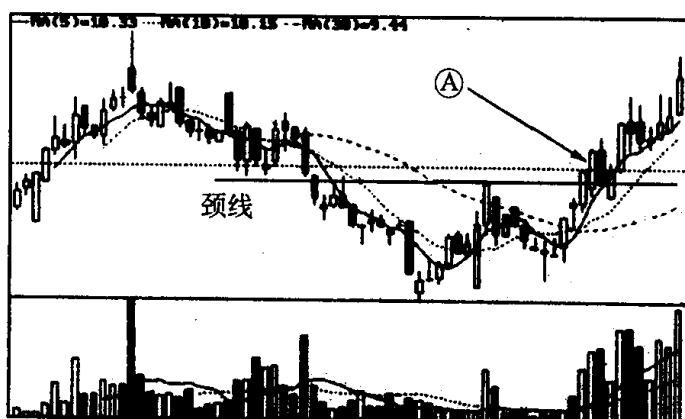
1. 图①A 处已跌破了()的下边线,投资者应即刻停损离场。
A. 矩形 B. 下降旗形 C. 上升楔形
2. 图②A 处已放量突破了()的压力线,投资者可继续持股待涨。
A. 下降楔形 B. 上升旗形 C. 收敛三角形
3. 图③A 处是股价突破()颈线位的地方,投资者可跟进做多。
A. 双底 B. 潜伏底 C. 头肩底



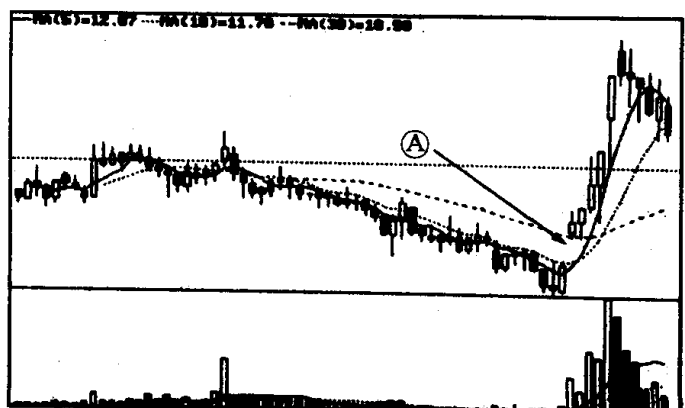
图①



图②



图③



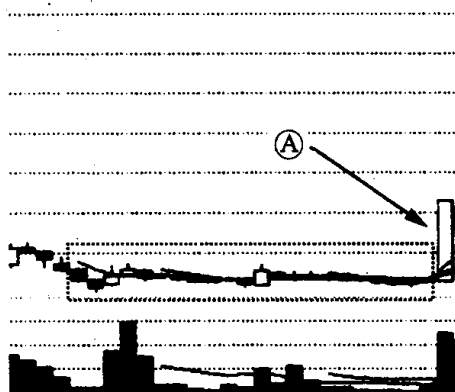
图④

4. 图④A处出现了一个(),多方趋势将股价一路推高。

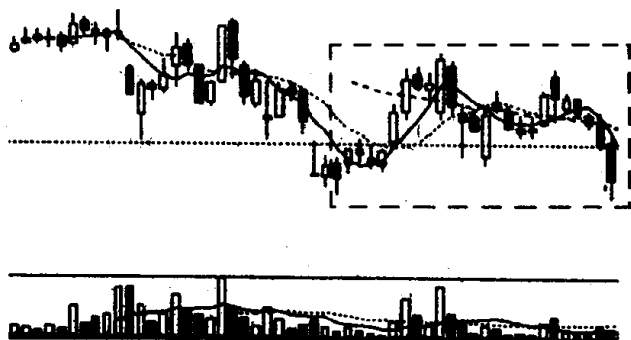
- A. 向下突破缺口
- B. 向上突破缺口
- C. 向上持续缺口

五、简答题(每题 4 分,共 32 分)

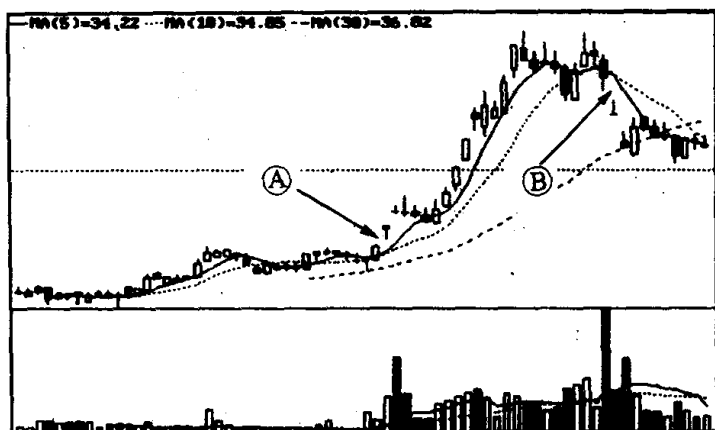
1. 仔细观察下图,回答下面的问题:(1)图中方框内是什么技术图形?(2)为什么 A 处是投资者跟进做多的地方?



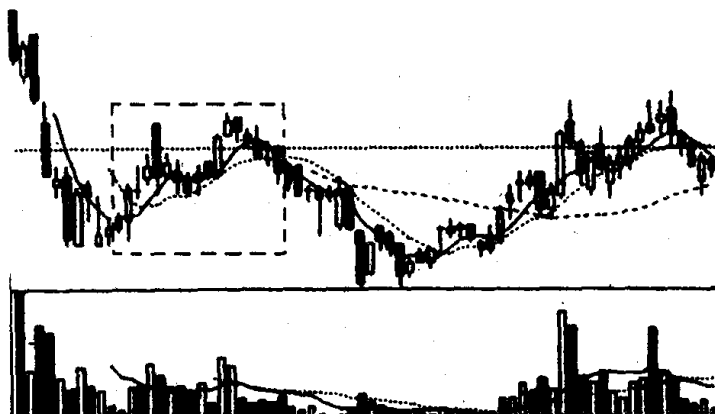
2. 仔细观察下图,回答下面的问题:(1)图中方框内是什么技术图形?(2)何处是跌破支撑线卖出股票的地方?



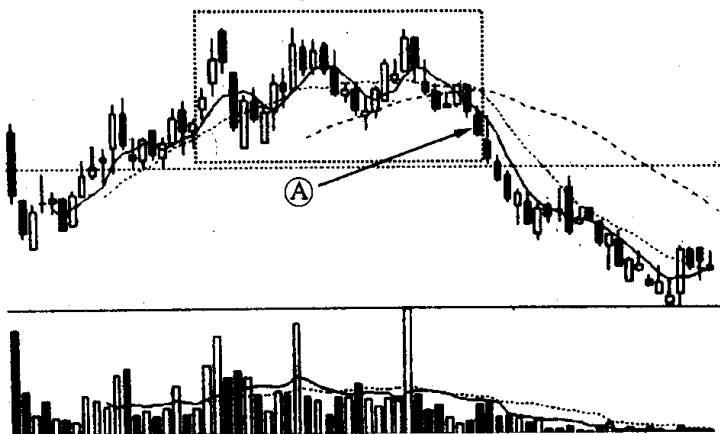
3. 仔细观察下图,回答下面的问题:(1)图中的 A、B 同是突破缺口,这里有什么区别?(2)为什么投资者在 A 处要跟进做多,B 处却要坚决做空?



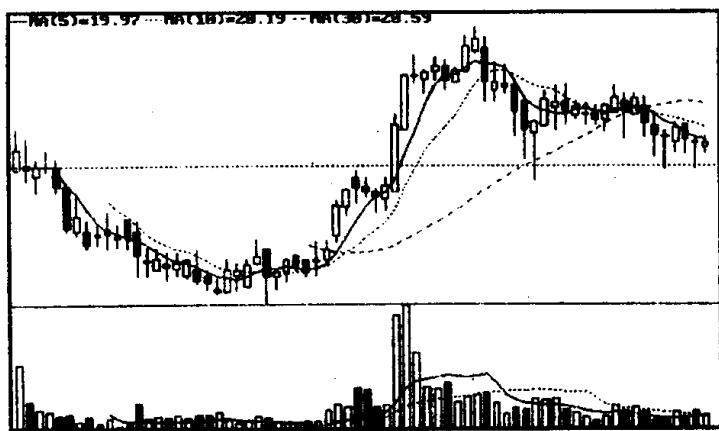
4. 仔细观察下图,回答下面的问题:(1)图中方框内的图形是上升楔形还是下降旗形?(2)投资者停损离场应选择在何处(用箭头指出来)?



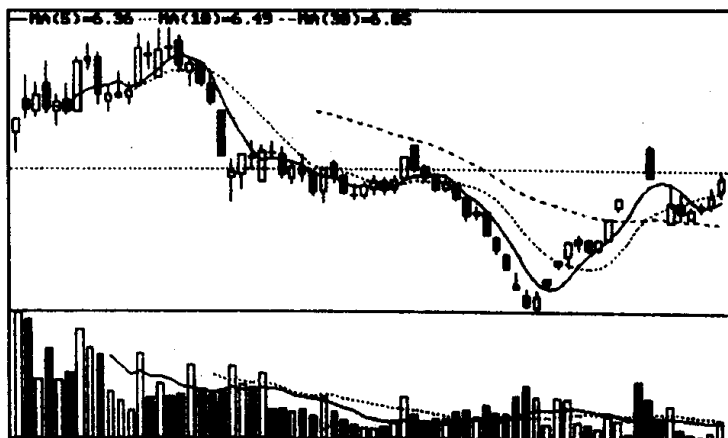
5. 仔细观察下图,回答下面的问题:(1)图中方框内是什么技术图形?(2)为什么投资者要把 A 处作为停损离场的第一卖点?



6. (1)观察图①走势,说明判断该股在底部形成的图形是圆底的理由。(2)观察图②走势,说明判断该股在底部形成的图形是V形的理由。

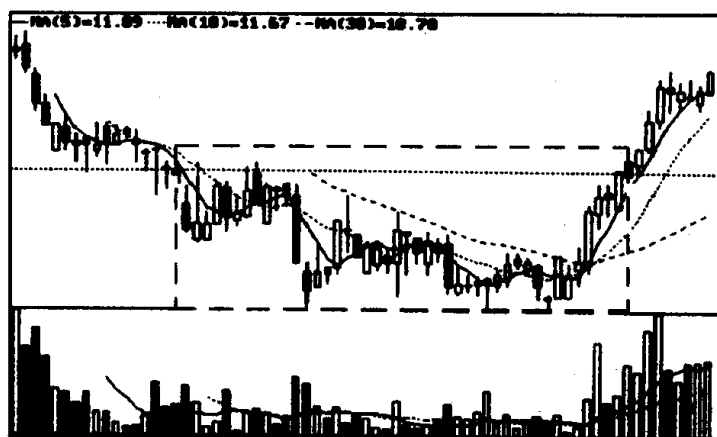


图①

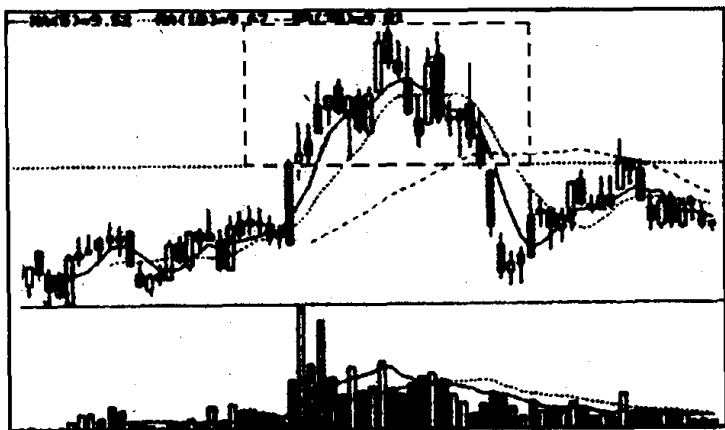


图②

7. 仔细观察下图,回答下面的问题:(1)图中画框处是什么技术图形?(2)它的第一买点和第二买点在何处(用箭头把它指出来)?

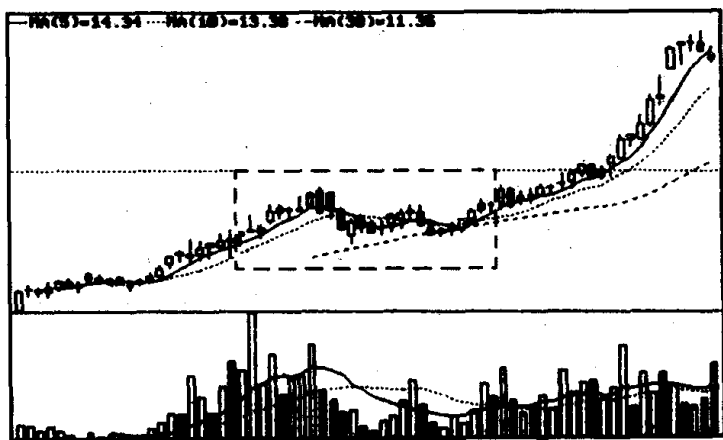


8. 仔细观察下图,回答下面的问题:(1)图中画框处是什么技术图形?(2)它的颈线应画在何处(用直线把它标出来)?



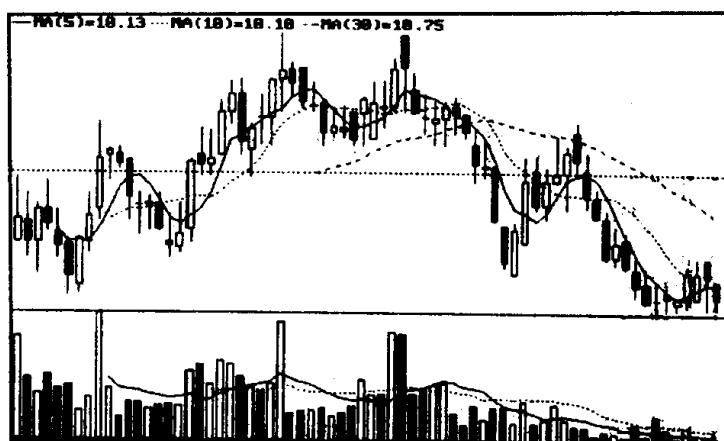
六、问答题(每题 9 分, 共 36 分)

1. 仔细观察下图, 回答下面问题: (1) 图中方框内的图形是上升旗形还是收敛三角形? (2) 划出该技术图形的压力线和支撑线? 并说明该股向上突破的买点应在什么地方(用箭头把它指出来)? (3) 有种观点认为, 在涨势中, 不管出现上升旗形还是收敛三角形整理, 只要整理期间的成交量出现萎缩, 之后放量收于压力线上方, 就是投资者跟进做多的良机, 对此你有何想法?

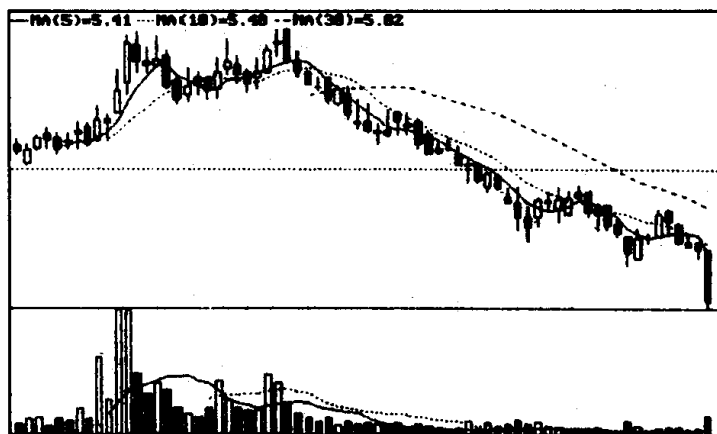


2. 请仔细观察下面两张图, 回答下面问题: (1) 图①、图②形成

的头部同为什么技术图形？(2)它们有何不同之处？(3)投资者在运用该技术图形时应注意哪些问题？

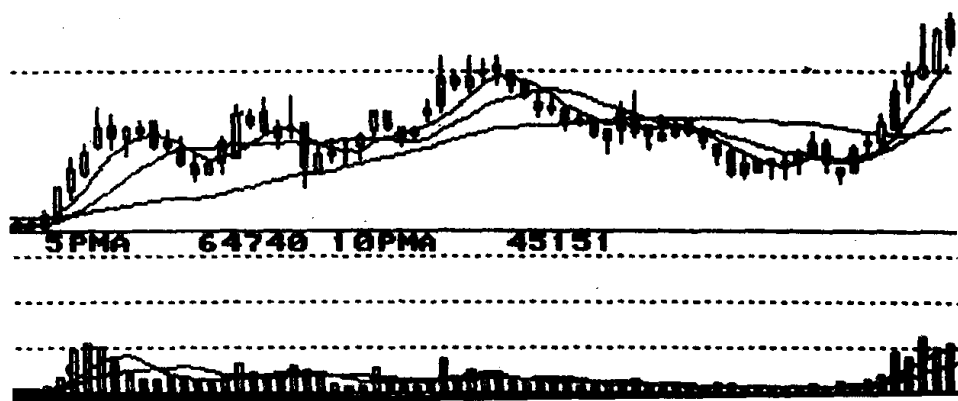


图①

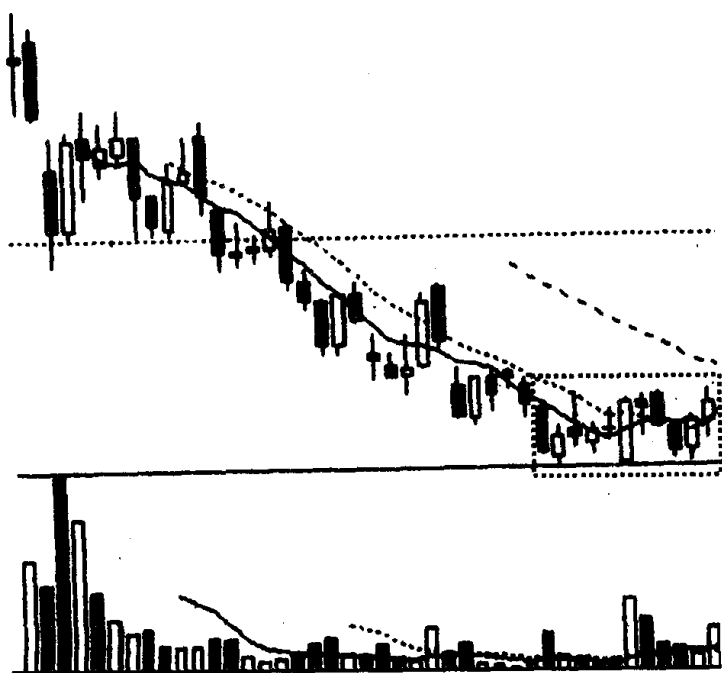


图②

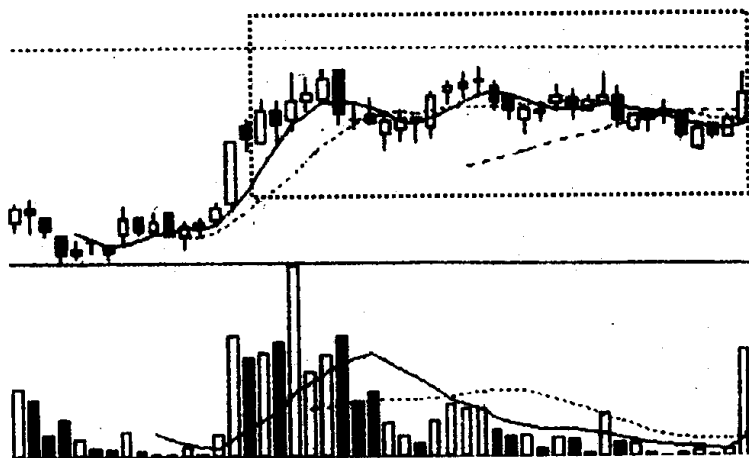
3. 该股今天收了一根中阴线,成交量也有放大迹象,大户室中很多人担心它明天会继续下跌,正在陆续出货,而唯独老张准备买进,他说只要明天股价向上,他就全线进仓。你认为老张这样做风险大不大? 这样操作是否有道理?



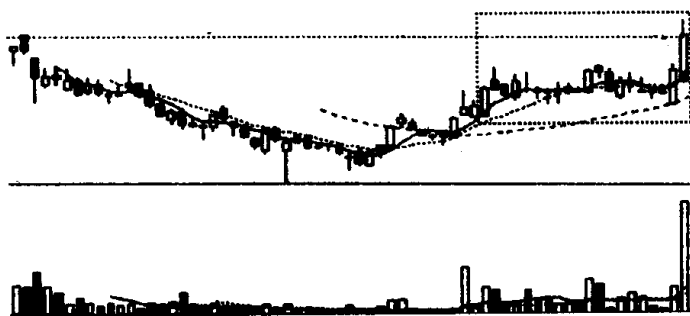
4. 下面 8 张图中画框处都属于同一种技术图形，你知道它们是什么技术图形吗？并说说你是用什么办法知道的。另外，请你就这几张图谈谈投资者在遇到这种技术图形时，应如何操作？



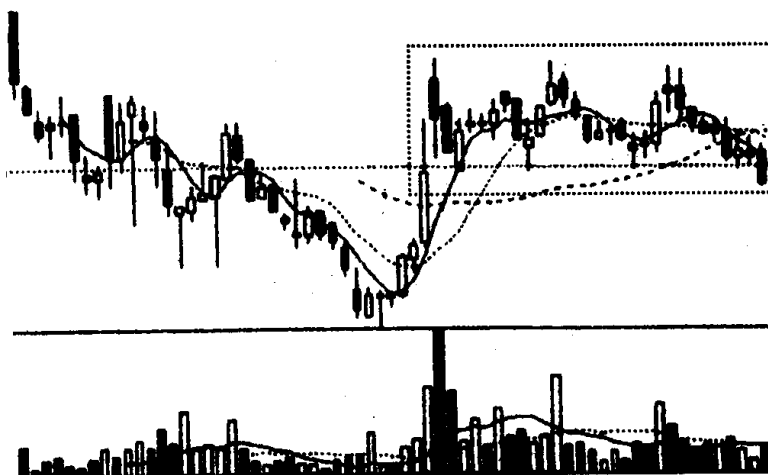
图①




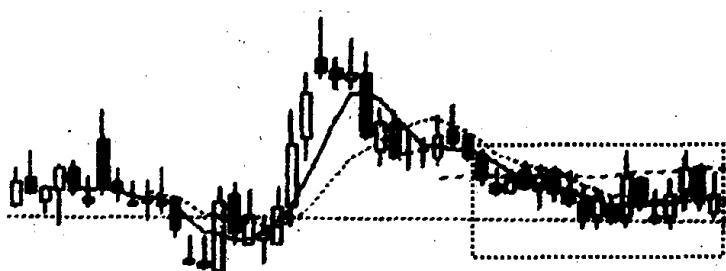
图②



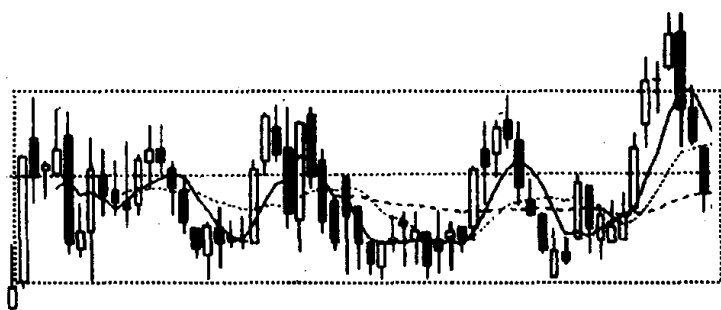
图③



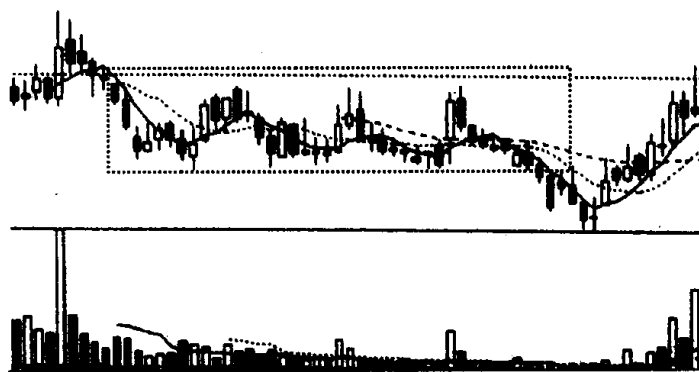
图④



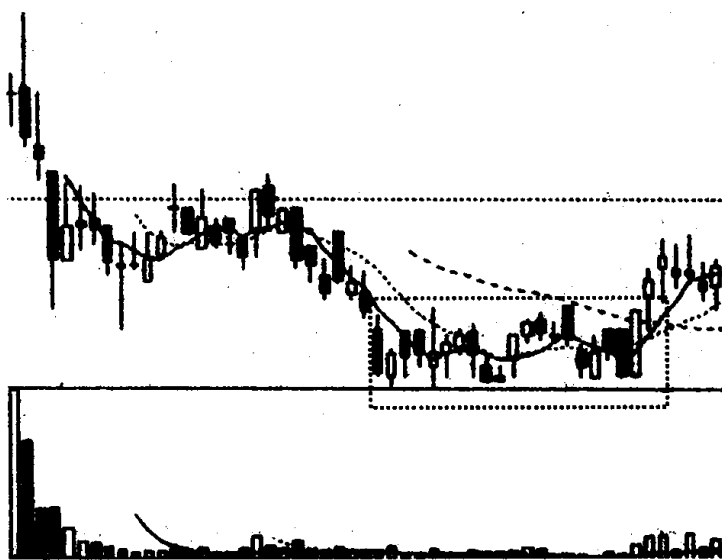
图⑤



图⑥



图⑦



图⑧

技术图形的识别和运用测验二

参考答案

一、是非题

1. (对) 2. (对) 3. (对) 4. (错)

二、判断题

第一题(1) 第二题(1) 第三题(1) 第四题(2)

三、填空题

1. 向下跳空 2. 上升楔形 3. 矩形 4. 收敛

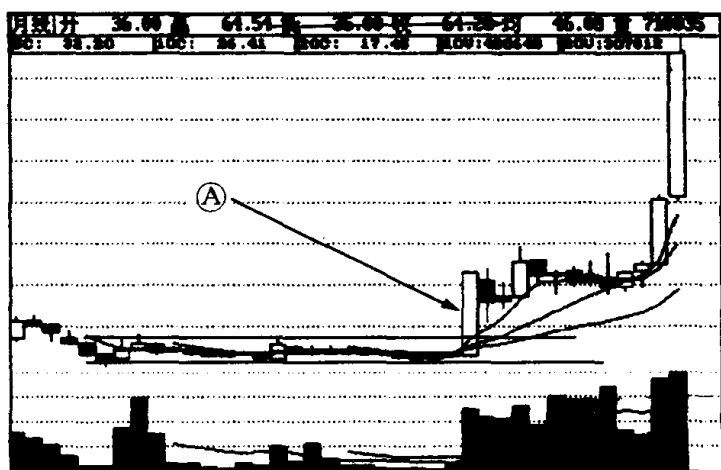
四、选择题

1. B 2. B 3. A 4. B

五、简答题

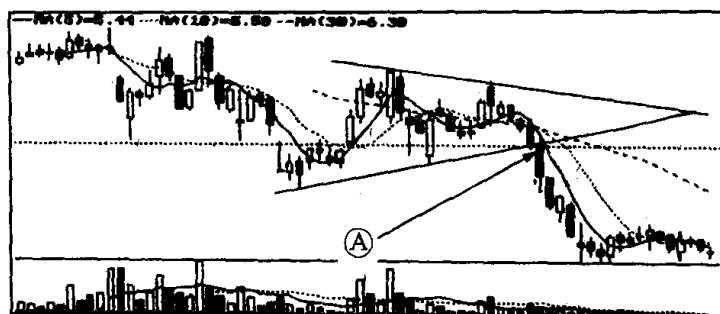
1. 参考答案:(1)图中方框内的图形是潜伏底。(2)因为 A 处是股价长期低迷后,突然放量向上大涨,放量突破了潜伏底压力线的地方,这往往预示股价将有一轮较强的升势。所以,A 处是投资者跟进做多的地方(见下图)。

附:该股出现潜伏底后的走势图。



2. 参考答案:(1)图中方框内的图形是收敛三角形。

(2)从图中可看出,A处的收盘价已经跌破了收敛三角形的低点连线。所以,A处是跌破支撑线卖出股票的地方。

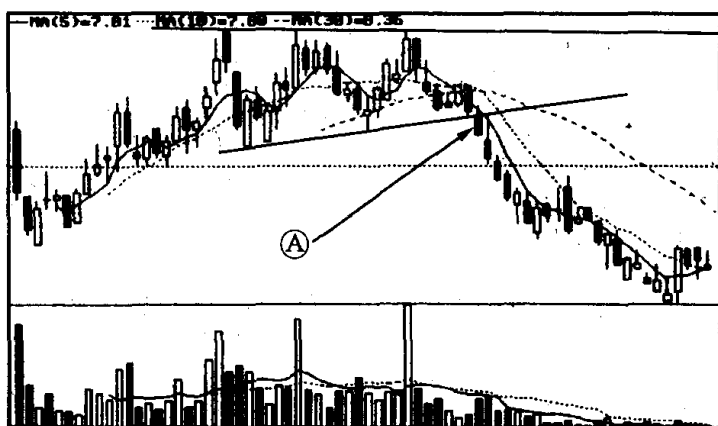


3. 参考答案:(1)图中的 A 处是向上突破缺口,B 处是向下突破缺口。这两个突破缺口性质是不同的,一个是看涨信号,一个是看跌信号。(2)因为 A 处是向上的突破缺口,说明多方开始占了优势,一轮涨势呼之欲出。所以,投资者可以跟进做多。B 处是向下突破缺口,说明空方开始占了优势,股价将出现下跌。所以,投资者要坚决做空,停损离场。

4. 参考答案:(1)下降旗形的高点连线与低点连线处于平行状,而图中方框内的高点连线与低点连线并不平行,它们的相交点在右上方,所以,方框内的图形是上升楔形(见下图)。(2) A 处的收盘价跌破了上升楔形的支撑线,股价将会出现一轮跌势。所以,投资者停损离场可选择在 A 处。



5. 参考答案：(1)图中方框内是上升三角形。(2)一般来说上升三角形以向上突破居多，但也有可能向下突破。目前该股在 A 点处的收盘价，已跌破了上升三角形的支撑线，这时就要想到空方已占了优势，股价下跌的可能性极大。所以，在这当口投资者不能再看多做多了。投资者如果真的要停损离场，图中 A 处是跌破支撑线最近之处，将它作为第一卖点，对持筹者来说损失最小。



6. 参考答案：(1)从图①走势中可看出，该股经快速下跌后，下跌速度越来越缓慢，逐渐转变到上涨速度越来越快，其走势类似圆弧，所以，该股在底部形成的图形是圆底(见下图 A)。(2)从图②走势中可看出，该股在形成底部前下跌速度越来越快，突然出现快速

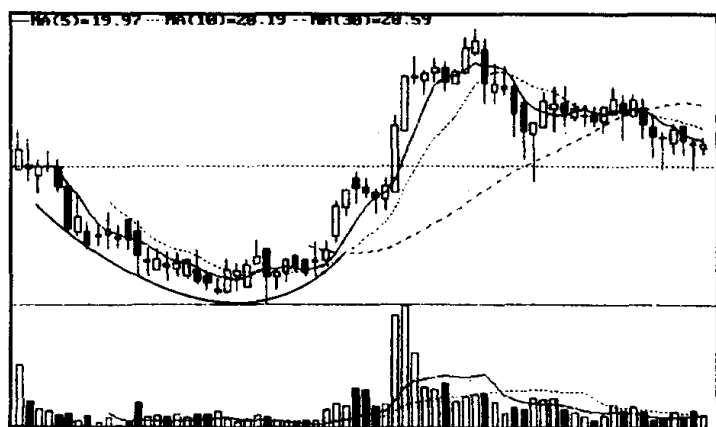


图 A

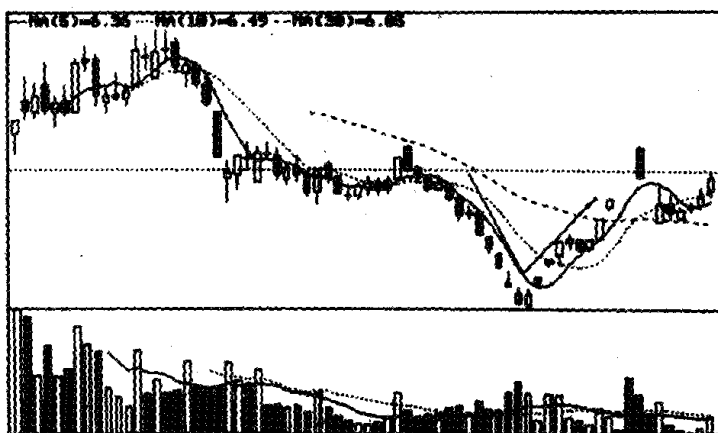
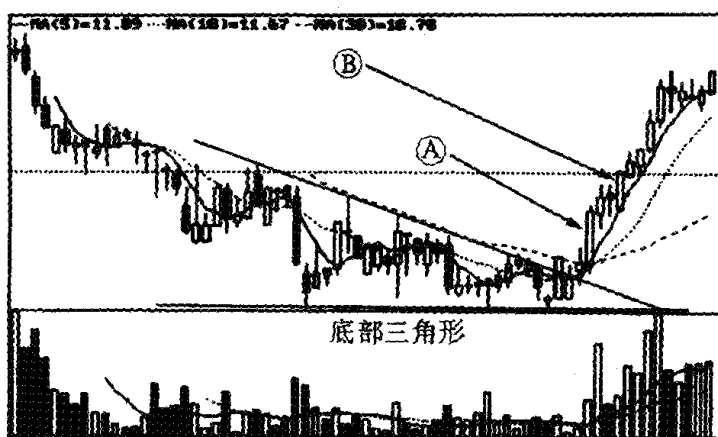


图 B

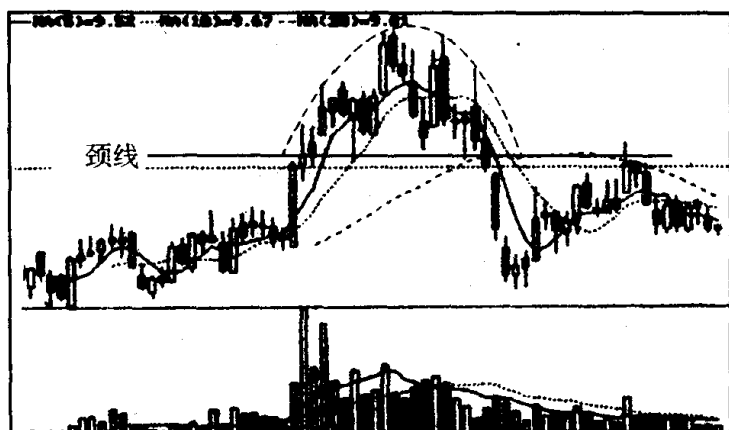
回升,其走势类似 V 字形状,所以,该股在底部形成的图形是 V 形(见下图 B)。

7. 参考答案:(1)图中画出的图形是底部三角形(见下图)。(2)该股在箭头 A 处已放量向上突破底部三角形的压力线。因此,投资者可把 A 点作第一买点,试探性地跟进做多。B 处已连续 3 天维持较高成交量站在压力线上方,在它之前又拉出一根小十字线,股价经过充分换手后继续上涨,说明向上突破有效,投资者可把它作为第二买点,加码买进(见下图)。



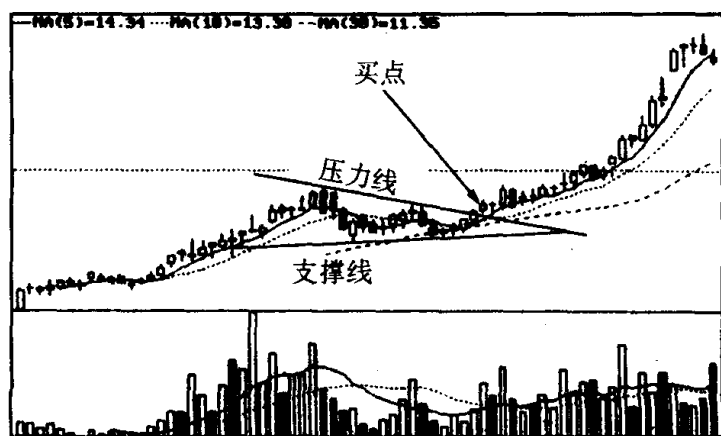
8. 参考答案:(1)图中方框内的图形是圆顶。(2)其颈线在两

个低点连线处(见下图)。



六、问答题

1. 参考答案:(1)图中方框内的图形是收敛三角形,因为其高点逐渐下移,低点逐渐抬高,它的波动幅度越来越小,如果将两个高点和两个低点分别用直线连起来,就构成一个收敛三角形。(2)该技术图形的压力线和支撑线和买点(见下图)。(3)一般而言,在涨势中进行整理时,成交量出现萎缩,说明大多数投资者看好它的后市,持股信心经调整而不断增强,盘中抛盘越来越少。反之,整理时成交量很大,则说明多数投资者并不看好它的后市,上档卖压沉重。这里还要警惕庄家利用整理在悄悄地发货,如果是这样,



后市肯定不妙。因此,很多有经验的投资者,常把整理时成交量的增减情况,作为判断日后股价运行方向的一个重要参考指标。另外,在涨势中如果整理后向上突破时,股价能放量收于压力线上方,说明多方通过整理,在清洗浮筹夯实股价后,再次发动了上攻行情,并取得了初步胜利。因此,投资者见此可及时跟进做多。

2. 参考答案:(1)图①、图②形成的头部同为双顶,又称 M 头。(2)图①的走势经历了跌破颈线后回探确认的过程(见下图 A)。而图②的走势显示股价向下跌破双顶颈线后,犹如断线风筝,一路阴跌不止(见下图 B)。(3)投资者在运用双顶形态进行实战操作时要注意下列问题:第一、投资者通常看到的双顶形态是两个高点依次下移,其实后一高点也可略高于前一高点,两者性质都是一样的。第二、双顶形态的两个高点之间相隔的时间,不象双底形态的两个低点之间需要间隔较长时间^[注],只要跌破颈线,双顶形态就形成。第三、投资者一旦发现股价跌破双顶形态的颈线,就应立即退出观望,而不要寄希望于回抽颈线时再退出,因为很多股票跌破颈线后就一路下跌,如死等将越套越深。

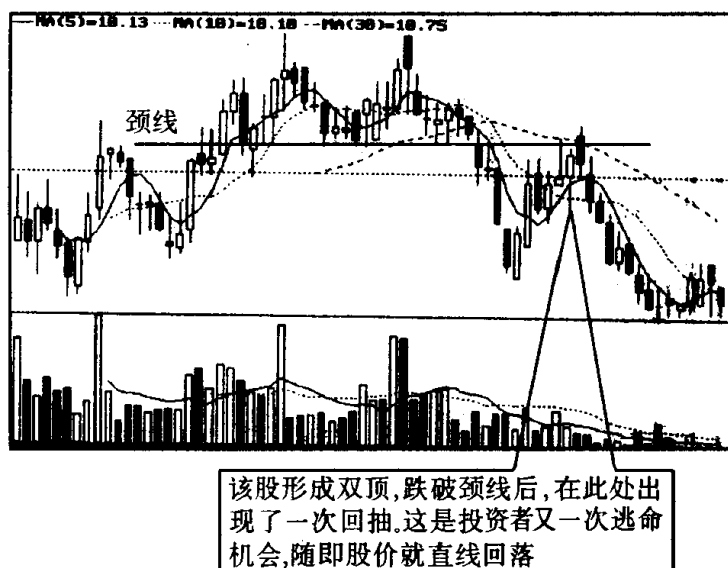


图 A

[注] 一般认为,双底形成时间少于一个月,其信号的可靠程度就较差。

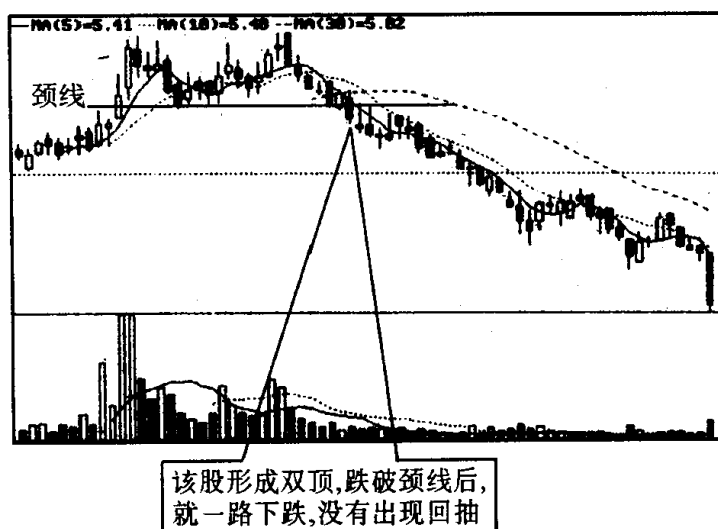
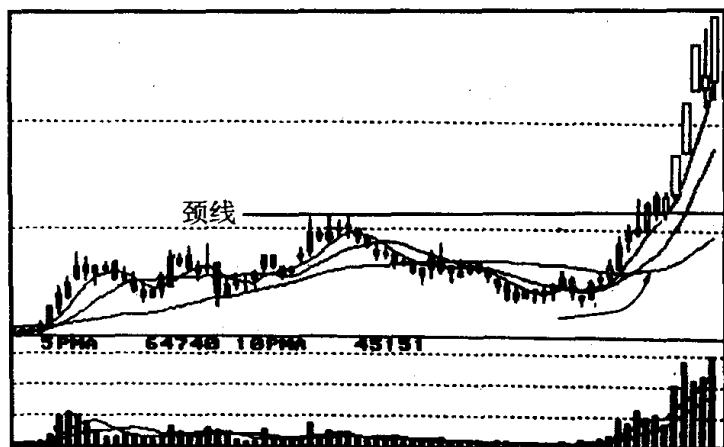


图 B

3. 参考答案:老张这样做看来风险很大,实际上还是比较安全的。因为该股今天收阴是对昨天突破圆底颈线后的一次回抽,尽管是收了一根中阴线,但收盘价仍停留在颈线的上方处,明天一旦股价向上,就可确认股价突破颈线有效,一轮上升行情即呼之欲出。今天该股成交量放大,不能单方面认为这是价跌量增,于空方有利。一般来说,在股价突破颈线后,回抽时成交量放大也在情理之中。因为看好看淡的人都有,多空搏杀激烈,成交量放大正说明多方接盘踊跃。而且从走势图上看,该股筑圆底向上突破时,成交量逐级放出,说明庄家是有备而来,很可能在筑圆底时庄家就吸足了筹码,现在正处于拉升阶段。一旦突破颈线成功,庄家就会把股价推上去。如果庄家真的是这样打算,老张此时买进正是时候。万一股价冲高不成,掉头向下,只要老张预先设立好停损点,反手沽空,损失也不会很大。因此,以风险和机会比,这的确是风险很小,赢利机会却很大的一次买卖。

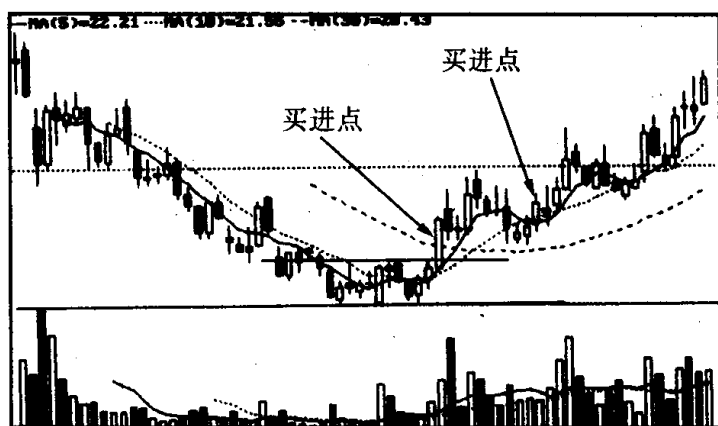
附:该股形成圆底后的走势图。



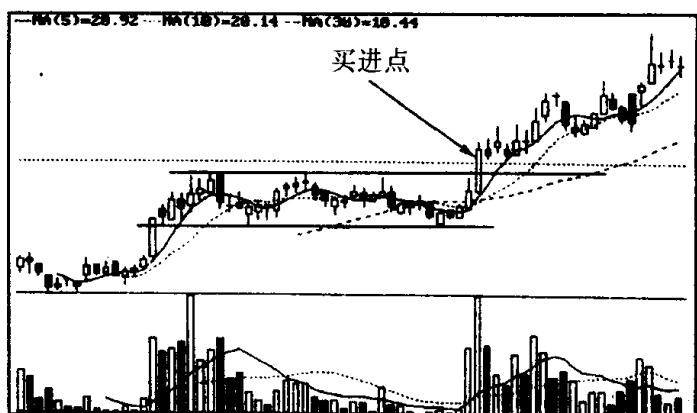
4. 参考答案:(1)下面几张图中画框处都是矩形。股价行走到前一高点和前一低点附近时分别遭到空方的阻击和多方的支撑,就此形成了矩形的走势。矩形又称长方形、股票箱。在辨认技术图形时光凭眼睛看,很容易搞错。我是用一把尺,把这些图中画框处的两个最高点和两个最低点分别用直线连起来,这样就能很清楚地看出股价在一个长方形框框里上下波动。(2)投资者在碰到矩形走势时应如何操作呢?下面我们以本题中图①~图⑧为例,分别作些简要介绍:从图①中可看出,股价经一轮跌势后形成了矩形走势。投资者可在股价放量向上突破压力线时做多,也可在股价突破压力线回抽确认突破有效时跟进做多。但须作好停损离场的准备。从图②中可看出,股价在涨势中形成了矩形走势。一旦放量向上突破压力线,投资者应即时跟进做多。如矩形走势形成过程中成交量出现逐渐萎缩,就更应坚决跟进做多。从图③中可看出,股价在涨势中形成矩形走势后,快速向上突破压力线,说明多方的势力十分强大,投资者应毫不犹豫地跟进做多,对这种走势十分强劲的个股,如不及时跟进,抱有等它回档再进货思想,就会被主力资金轧空,丧失一次赚钱良机。从图④中可看出,股价在一轮升势中形成矩形走势后,没有继续向上拓展行情,而是向下跌破了支撑线。投资者应在跌破支撑线后立即抛空离场,另觅投资良机。从图⑤中可看出,股价在跌势中形成了矩形走势。投资者在

股价跌破支撑线时,应卖出股票,出局观望。从图⑥中可看出,股价向上突破矩形的上边线后,随即出现的一根大阴线又击穿了原来的压力线,股价重新返回到矩形箱子里运行,这说明往上突破无效。如投资者在它往上突破时跟进做多的,这时应立即停损离场,以避免股价继续下跌带来的损失。从图⑦中可看出,股价跌破矩形的支撑线,不久又返身向上,收于矩形的压力线之上。此时原来抛空离场的投资者应意识到矩形整理往下突破是假突破,应马上修正错误,勇敢而坚决地跟进做多。因为股价向下形成空头陷阱后,往往会产生一轮报复性的上涨行情。从图⑧中可看出,股价向上突破矩形的压力线后,回探时股价在压力线上方止跌。对此,投资者应继续密切观察盘面的变化,如日后发现股价再次放量向上,并创出近期新高,则应意识到矩形整理往上突破已初步获得了成功,此时即应跟进做多。

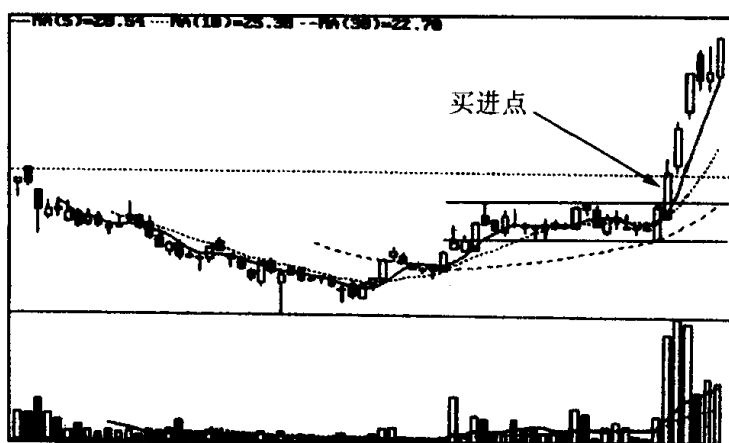
附:图①~图⑧出现矩形后的走势图。



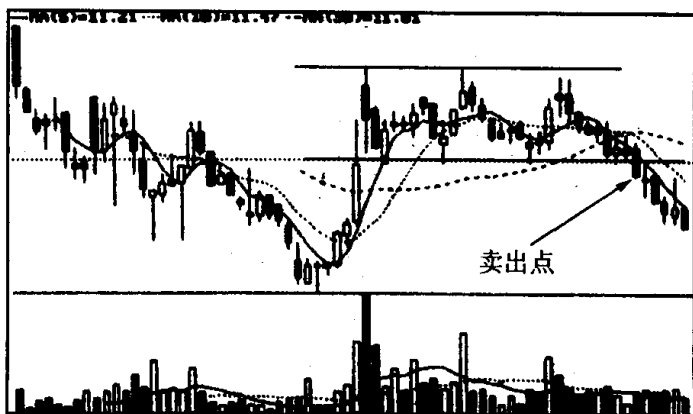
图①



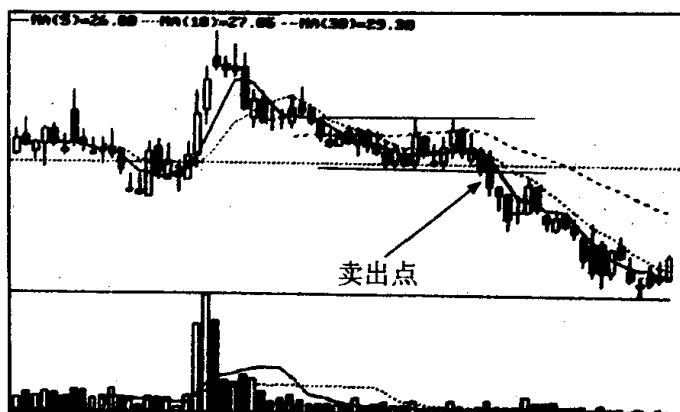
图②



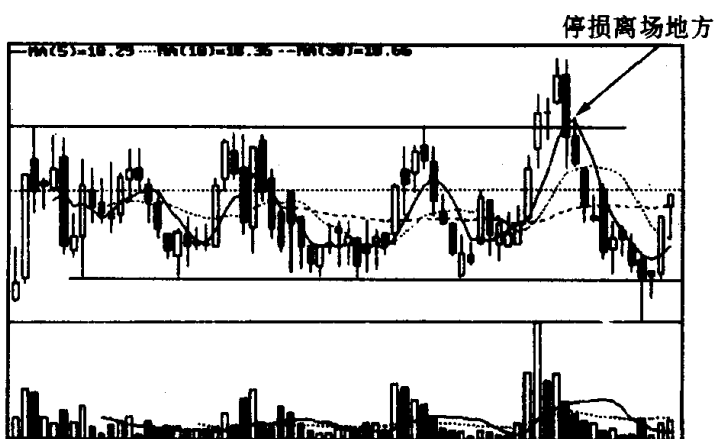
图③



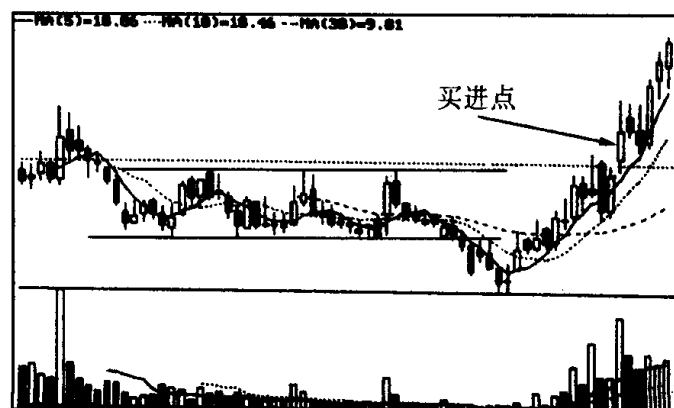
图④



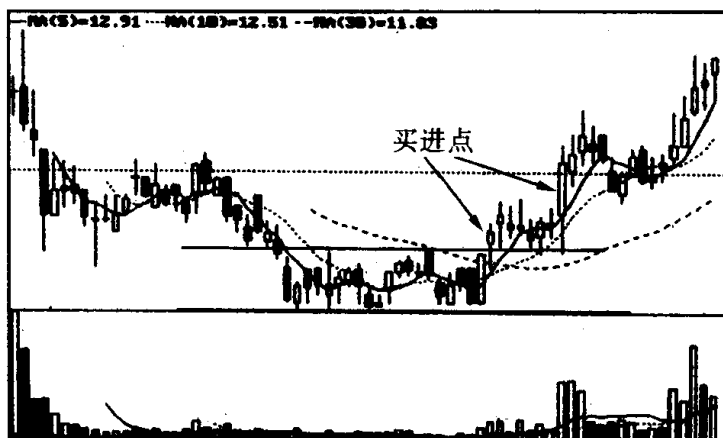
图⑤



图⑥



图⑦



图⑧

技术图形识别与练习小结

技术分析有很多方法,如 K 线分析法、技术图形分析法、移动平均线分析法、波浪理论分析法、指标分析法等。因技术图形分析法既实观、又形象实用,故它深受越来越多投资者的喜爱。投资者在具体运用技术图形进行实战操作时,应把握以下几点:

第一、要全面认识各类技术图形的特征,力求做到看准一个,做成一个。这里要注意以下几个问题:(1)股市上的技术图形相似的并不在少数,如稍有疏忽就会搞错。因此投资者必须牢记各种技术图形的特征,搞清它们之间的区别和联系。另外,投资者在辨别技术图形时,应准备一把直尺,把股价上升的两个高点和两个低点分别用直线连起来,就比较容易看出是什么技术图形,这比单纯的用目光测试准确得多。(2)虽然熟悉技术图形的操盘高手在股市技术图形形态尚未完成之际,就能大致了解股市下一步运行方向,并采取行动,获得了成功。例如有的高手在头肩顶尚处于雏形时,就抛空离场,保住了胜利成果,避免了以后暴跌带来的损失;有的高手在头肩底阶段,就看出了其中的奥妙,趁早吸货,待日后股价飚升。但是就大多数投资者而言,这样操作方法并不可取。因为任何技术图形在其形态未完成时,即突破方向未明确前,它都可能发生变化,原来是 A 图形的可演变成 B 图形,是 B 图形的可演变成 C 图形。作为熟悉技术图形的操盘高手对此往往有一套应变措施,而中小散户投资者,尤其是对技术图形比较生疏的新手在这方面就很欠缺,如照搬股市高手的操作方法就很危险。因此我们提倡初学者要学会多观察、分析、研究技术图形,但在技术图形还没有明确的突破方向之前,不要武断地推断它是什么技术图形,更不宜凭自己的主观愿望盲目地买进卖出。(3)任何技术图形的形成,都与成交量有着密切的关系。什么样的技术图形对成交量就有什么样的要求。股价往上突破,一般均需大成交量的配合(除少数庄

家绝对控盘的个股外),否则,往上突破往往就是假突破;股价往下突破,却不一定要放量,无量也可以形成跌势。以上两点,投资者必须有清醒的认识。(4)一个技术图形能否构造成功,潜力有多大,与其形成的时间长短有着很大的关系。在转势形态的技术图形中,构造时间越短的图形,失败的可能性越大。例如,构造双底的时间少于一个月,它的可信度就较差。又如:日K线中的头肩顶和周K线中的头肩顶,其转势信号的强度就大不一样,前者表明短期走势看淡,而后者表明中长期走势已转弱。在整理形态的技术图形中,情形正好相反,构造时间越长的图形,失败的可能性越大。例如,上升旗形整理时间超过3个星期,其图形性质往往会发生变化,本来期盼往上突破没有发生,结果反而往下滑落。因此图形与时间的关系,投资者务必要重视。

第二、事前要作好周密安排,制定出一个进可攻退可守的投资计划。这里要注意的问题是:(1)任何技术图形,在它股价没有朝一个方向明显突破之前,不要采取大规模的买卖行动,如预感它可能会朝某一方向突破,可试探性地做多或做空,但一定要留有余地。(2)入市时间选择十分重要,过早或过晚加入,都会造成不必要的损失。一般来说最佳入市时间应选择在股价向上突破或向下突破时。(3)要重点关注技术图形构成于涨势中还是跌势中,且它朝什么方向突破。在涨势中,向上突破压力线时以做多为主;向下跌破支撑线时则退出为佳,另觅投资良机。在跌势中,向上突破压力线时看多但不急于做多,最多试探性地做多;向下跌破支撑线时须痛下决心停损离场,准备东山再起。(4)买进要谨慎,卖出要果断。通常股价在突破压力线后都有一个回抽动作。投资者在决定买进时,安全的做法应等股价冲破压力线后,回抽到压力线附近获得支撑,在股价重拾升势,再创新高时积极加入。而投资者在决定卖出时,却不能象买进时那样稳健,应当在股价向下突破压力线后立即卖出,不要等股价回抽支撑线时再卖出。因为不少个股形成跌势后就一发而不可收拾,有时在跌破支撑线后有一个微弱的回抽过程,或者干脆就没有,甚至跌停板,使等待回抽抛空的投资者

连一个出逃机会都找不到。(5)要及时修正错误。当对图形的突破方向判断出了差错后,要及时采取补救措施。买错了,要立即止损离场;卖错了,应马上把筹码抢回来。股市中犯错误不要紧,重要的是要知错即改,这样才能在股海中生存和发展下去。

第三、在运用技术图形时要考虑K线,以及其他技术指标的变化,如读者在操作时能将它们有机地结合在一起,这样买进卖出把握就更大些。这些将在以后几册里会陆续对此进行介绍,这里就不再展开了。

附录：

《股市操练大全》(K线、技术图形识别和 练习专辑)读者信息反馈表

亲爱的读者，本会在证券信息服务方面具有雄厚的实力和得天独厚的优势。在我们推出第一本跨世纪证券图书——《股市操练大全》(K线、技术图形识别和练习专辑)后，很想了解您对本书的看法，并为您提供所希望的信息服务。届时，我们还将组织读者和专家、作者的恳谈会、笔会、座谈会等活动。因此，请您认真填好此表(读者信息反馈表见反面)，寄给我们，以便及时与您联系。谢谢您的协作！

上海市信息协会金融、证券、保险信息服务专业委员会
新世纪证券丛书编委会
一九九九年十月五日

来信请寄：上海市华山路 1954 号上海交通大学包兆龙图书馆
四楼东大信息厅转上海市信息协会金融、证券、保险信息服务专业
委员会培训部收
邮政编码：200030

《股市操练大全》读者信息反馈表

姓 名		性别		年龄	
通信地址					
邮 编		联系电话			
您认为本书的内容如何？					
您对本书的编写方式有何建议？					
您希望本会能为您提供哪方面的信息服务？					
您的读后感(欢迎附文)：					

沿线撕下



黎航简介

黎航 著名畅销书作家。其著作多次被评为全国优秀畅销书，并一举在全国首届图书擂台赛上夺魁。黎航先生擅长图书策划，自1990年以来，经他策划的图书，本本都风靡全国，一版再版，盛销不衰，有的已重印30余次，创造了中国出版史上的奇迹。《新民晚报》曾撰文称他为“畅销书怪杰”。

黎航先生知识渊博，对股市也深有研究。他1986年即涉足股市，是新中国股市最早的投资者之一。10余年来他收集了大量第一手资料，并积累了丰富的实战经验。在1998年成功地推出了《股市实战技巧——捕捉黑马》一书后，这次又在深入调查研究的基础上，大胆地将现代教育强化训练理论运用于股市，精心策划了中国股市操作强化训练第一书——《股市操练大全》。该书构思之巧妙，内容之新颖，资料之翔实，方法之实用，令人叫绝。

中国股市操作强化训练第一书

股市操练大全

第一册

ISBN 7-5426-1289-1



9 787542 612892 >

ISBN 7-5426-1298-1

F.291 定价(精): 29.80 元